



<input type="checkbox"/> 0	<input type="checkbox"/> 0	<input type="checkbox"/> 0	<input type="checkbox"/> 0	<input type="checkbox"/> 0	<input type="checkbox"/> 0	<input type="checkbox"/> 0	<input type="checkbox"/> 0	<input type="checkbox"/> 0
<input type="checkbox"/> 1	<input type="checkbox"/> 1	<input type="checkbox"/> 1	<input type="checkbox"/> 1	<input type="checkbox"/> 1	<input type="checkbox"/> 1	<input type="checkbox"/> 1	<input type="checkbox"/> 1	<input type="checkbox"/> 1
<input type="checkbox"/> 2	<input type="checkbox"/> 2	<input type="checkbox"/> 2	<input type="checkbox"/> 2	<input type="checkbox"/> 2	<input type="checkbox"/> 2	<input type="checkbox"/> 2	<input type="checkbox"/> 2	<input type="checkbox"/> 2
<input type="checkbox"/> 3	<input type="checkbox"/> 3	<input type="checkbox"/> 3	<input type="checkbox"/> 3	<input type="checkbox"/> 3	<input type="checkbox"/> 3	<input type="checkbox"/> 3	<input type="checkbox"/> 3	<input type="checkbox"/> 3
<input type="checkbox"/> 4	<input type="checkbox"/> 4	<input type="checkbox"/> 4	<input type="checkbox"/> 4	<input type="checkbox"/> 4	<input type="checkbox"/> 4	<input type="checkbox"/> 4	<input type="checkbox"/> 4	<input type="checkbox"/> 4
<input type="checkbox"/> 5	<input type="checkbox"/> 5	<input type="checkbox"/> 5	<input type="checkbox"/> 5	<input type="checkbox"/> 5	<input type="checkbox"/> 5	<input type="checkbox"/> 5	<input type="checkbox"/> 5	<input type="checkbox"/> 5
<input type="checkbox"/> 6	<input type="checkbox"/> 6	<input type="checkbox"/> 6	<input type="checkbox"/> 6	<input type="checkbox"/> 6	<input type="checkbox"/> 6	<input type="checkbox"/> 6	<input type="checkbox"/> 6	<input type="checkbox"/> 6
<input type="checkbox"/> 7	<input type="checkbox"/> 7	<input type="checkbox"/> 7	<input type="checkbox"/> 7	<input type="checkbox"/> 7	<input type="checkbox"/> 7	<input type="checkbox"/> 7	<input type="checkbox"/> 7	<input type="checkbox"/> 7
<input type="checkbox"/> 8	<input type="checkbox"/> 8	<input type="checkbox"/> 8	<input type="checkbox"/> 8	<input type="checkbox"/> 8	<input type="checkbox"/> 8	<input type="checkbox"/> 8	<input type="checkbox"/> 8	<input type="checkbox"/> 8
<input type="checkbox"/> 9	<input type="checkbox"/> 9	<input type="checkbox"/> 9	<input type="checkbox"/> 9	<input type="checkbox"/> 9	<input type="checkbox"/> 9	<input type="checkbox"/> 9	<input type="checkbox"/> 9	<input type="checkbox"/> 9

QCM3L Suites de Fonctions Préing2

← codez votre numéro d'étudiant ci-contre, et inscrivez votre nom et prénom ci-dessous (le NOM d'abord!).

Nom et prénom :
.....
.....

Les cases doivent être complètement noircies avec un stylo NOIR.

Question 1 ♣

Choisir les suites de fonctions $(f_n)_{n \geq 0}$ qui convergent uniformément vers leur limite simple:

- | | |
|--|---|
| <input type="checkbox"/> $f_n(x) = nxe^{-nx}$ sur $]0; 1[$ | <input type="checkbox"/> $f_n(x) = nxe^{-nx}$ sur $[1; 2]$ |
| <input type="checkbox"/> $f_n(x) = nxe^{-nx}$ sur $[a; +\infty[$ avec $a \in]0; 1[$ | <input type="checkbox"/> $f_n(x) = \frac{e^{-x}}{n}$ sur $]0; +\infty[$ |
| <input type="checkbox"/> $f_n(x) = \frac{e^{-x}}{n}$ sur $] - \infty, 0]$ | <input type="checkbox"/> $f_n(x) = nxe^{-nx}$ sur $]0; +\infty[$ |

Question 2 ♣

Soit $(f_n)_{n \geq 0}$ une suite de fonctions définies par $f_n(x) = x^n \ln(x)$ pour $x \in]0, 1]$ et $f_n(0) = 0$. Alors

- $(f_n)_{n \geq 0}$ converge uniformément sur $[0, a]$ ($a \in]0, 1[$)
- $(f_n)_{n \geq 0}$ converge uniformément sur $[a, 1]$ ($a \in]0, 1[$)
- $(f_n)_{n \geq 0}$ converge uniformément sur $[0, 1]$

Question 3 ♣

Soit $(f_n)_{n \geq 0}$ une suite de fonctions définies sur un intervalle $I \subset \mathbb{R}$ à valeur dans \mathbb{R} . Quelles les conditions nécessaires pour appliquer le théorème d'interversion limites-dérivations?

- La suite de fonctions (f'_n) converge uniformément sur I vers une fonction g .
- La suite de fonctions (f_n) converge uniformément sur I vers une fonction f continue.
- $\exists x_0 \in I$, tel que la suite numérique $(f_n(x_0))_{n \geq 0}$ converge.
- Pour tout $n \in \mathbb{N}$, les fonctions f_n sont de classe C^1 sur I.
- $\forall x_0 \in I$, la suite $(f_n(x_0))_{n \geq 0}$ converge.

Question 4 ♣

On définit la suite de fonctions $f_n(x) = \frac{e^{-nx}}{1+x}$. Alors, la suite $(f_n)_{n \geq 0}$

- converge uniformément sur $[1, +\infty[$ et la fonction limite est continue
- converge uniformément sur $[0, 1]$ et la fonction limite est continue
- converge uniformément sur $[0, +\infty[$



<input type="checkbox"/>	0	<input type="checkbox"/>	0	<input type="checkbox"/>	0	<input type="checkbox"/>	0	<input type="checkbox"/>	0	<input type="checkbox"/>	0	<input type="checkbox"/>	0	<input type="checkbox"/>	0	<input type="checkbox"/>	0
<input type="checkbox"/>	1	<input type="checkbox"/>	1	<input type="checkbox"/>	1	<input type="checkbox"/>	1	<input type="checkbox"/>	1	<input type="checkbox"/>	1	<input type="checkbox"/>	1	<input type="checkbox"/>	1	<input type="checkbox"/>	1
<input type="checkbox"/>	2	<input type="checkbox"/>	2	<input type="checkbox"/>	2	<input type="checkbox"/>	2	<input type="checkbox"/>	2	<input type="checkbox"/>	2	<input type="checkbox"/>	2	<input type="checkbox"/>	2	<input type="checkbox"/>	2
<input type="checkbox"/>	3	<input type="checkbox"/>	3	<input type="checkbox"/>	3	<input type="checkbox"/>	3	<input type="checkbox"/>	3	<input type="checkbox"/>	3	<input type="checkbox"/>	3	<input type="checkbox"/>	3	<input type="checkbox"/>	3
<input type="checkbox"/>	4	<input type="checkbox"/>	4	<input type="checkbox"/>	4	<input type="checkbox"/>	4	<input type="checkbox"/>	4	<input type="checkbox"/>	4	<input type="checkbox"/>	4	<input type="checkbox"/>	4	<input type="checkbox"/>	4
<input type="checkbox"/>	5	<input type="checkbox"/>	5	<input type="checkbox"/>	5	<input type="checkbox"/>	5	<input type="checkbox"/>	5	<input type="checkbox"/>	5	<input type="checkbox"/>	5	<input type="checkbox"/>	5	<input type="checkbox"/>	5
<input type="checkbox"/>	6	<input type="checkbox"/>	6	<input type="checkbox"/>	6	<input type="checkbox"/>	6	<input type="checkbox"/>	6	<input type="checkbox"/>	6	<input type="checkbox"/>	6	<input type="checkbox"/>	6	<input type="checkbox"/>	6
<input type="checkbox"/>	7	<input type="checkbox"/>	7	<input type="checkbox"/>	7	<input type="checkbox"/>	7	<input type="checkbox"/>	7	<input type="checkbox"/>	7	<input type="checkbox"/>	7	<input type="checkbox"/>	7	<input type="checkbox"/>	7
<input type="checkbox"/>	8	<input type="checkbox"/>	8	<input type="checkbox"/>	8	<input type="checkbox"/>	8	<input type="checkbox"/>	8	<input type="checkbox"/>	8	<input type="checkbox"/>	8	<input type="checkbox"/>	8	<input type="checkbox"/>	8
<input type="checkbox"/>	9	<input type="checkbox"/>	9	<input type="checkbox"/>	9	<input type="checkbox"/>	9	<input type="checkbox"/>	9	<input type="checkbox"/>	9	<input type="checkbox"/>	9	<input type="checkbox"/>	9	<input type="checkbox"/>	9

QCM3L Suites de Fonctions Préing2

← codez votre numéro d'étudiant ci-contre, et inscrivez votre nom et prénom ci-dessous (le NOM d'abord!).

Nom et prénom :
.....
.....

Les cases doivent être complètement noircies avec un stylo NOIR.

Question 1 ♣

On définit la suite de fonctions $f_n(x) = \frac{e^{-nx}}{1+x}$. Alors, la suite $(f_n)_{n \geq 0}$

- converge uniformément sur $[0, 1]$ et la fonction limite est continue
- converge uniformément sur $[1, +\infty[$ et la fonction limite est continue
- converge uniformément sur $[0, +\infty[$

Question 2 ♣

Choisir les suites de fonctions $(f_n)_{n \geq 0}$ qui convergent uniformément vers leur limite simple:

- | | |
|--|---|
| <input type="checkbox"/> $f_n(x) = nxe^{-nx}$ sur $[a; +\infty[$ avec $a \in]0; 1[$ | <input type="checkbox"/> $f_n(x) = nxe^{-nx}$ sur $[1; 2]$ |
| <input type="checkbox"/> $f_n(x) = \frac{e^{-x}}{n}$ sur $] - \infty, 0]$ | <input type="checkbox"/> $f_n(x) = nxe^{-nx}$ sur $[0; 1[$ |
| <input type="checkbox"/> $f_n(x) = nxe^{-nx}$ sur $[0; +\infty[$ | <input type="checkbox"/> $f_n(x) = \frac{e^{-x}}{n}$ sur $]0; +\infty[$ |

Question 3 ♣

Soit $(f_n)_{n \geq 0}$ une suite de fonctions définies sur un intervalle $I \subset \mathbb{R}$ à valeur dans \mathbb{R} . Quelles les conditions nécessaires pour appliquer le théorème d'interversion limites-dérivations?

- $\exists x_0 \in I$, tel que la suite numérique $(f_n(x_0))_{n \geq 0}$ converge.
- $\forall x_0 \in I$, la suite $(f_n(x_0))_{n \geq 0}$ converge.
- Pour tout $n \in \mathbb{N}$, les fonctions f_n sont de classe C^1 sur I .
- La suite de fonctions (f'_n) converge uniformément sur I vers une fonction g .
- La suite de fonctions (f_n) converge uniformément sur I vers une fonction f continue.

Question 4 ♣

Soit $(f_n)_{n \geq 0}$ une suite de fonctions définies par $f_n(x) = x^n \ln(x)$ pour $x \in]0, 1]$ et $f_n(0) = 0$. Alors

- $(f_n)_{n \geq 0}$ converge uniformément sur $[a, 1]$ ($a \in]0, 1[$)
- $(f_n)_{n \geq 0}$ converge uniformément sur $[0, a]$ ($a \in]0, 1[$)
- $(f_n)_{n \geq 0}$ converge uniformément sur $[0, 1]$



<input type="checkbox"/>	0	<input type="checkbox"/>	0	<input type="checkbox"/>	0	<input type="checkbox"/>	0	<input type="checkbox"/>	0	<input type="checkbox"/>	0	<input type="checkbox"/>	0	<input type="checkbox"/>	0	<input type="checkbox"/>	0
<input type="checkbox"/>	1	<input type="checkbox"/>	1	<input type="checkbox"/>	1	<input type="checkbox"/>	1	<input type="checkbox"/>	1	<input type="checkbox"/>	1	<input type="checkbox"/>	1	<input type="checkbox"/>	1	<input type="checkbox"/>	1
<input type="checkbox"/>	2	<input type="checkbox"/>	2	<input type="checkbox"/>	2	<input type="checkbox"/>	2	<input type="checkbox"/>	2	<input type="checkbox"/>	2	<input type="checkbox"/>	2	<input type="checkbox"/>	2	<input type="checkbox"/>	2
<input type="checkbox"/>	3	<input type="checkbox"/>	3	<input type="checkbox"/>	3	<input type="checkbox"/>	3	<input type="checkbox"/>	3	<input type="checkbox"/>	3	<input type="checkbox"/>	3	<input type="checkbox"/>	3	<input type="checkbox"/>	3
<input type="checkbox"/>	4	<input type="checkbox"/>	4	<input type="checkbox"/>	4	<input type="checkbox"/>	4	<input type="checkbox"/>	4	<input type="checkbox"/>	4	<input type="checkbox"/>	4	<input type="checkbox"/>	4	<input type="checkbox"/>	4
<input type="checkbox"/>	5	<input type="checkbox"/>	5	<input type="checkbox"/>	5	<input type="checkbox"/>	5	<input type="checkbox"/>	5	<input type="checkbox"/>	5	<input type="checkbox"/>	5	<input type="checkbox"/>	5	<input type="checkbox"/>	5
<input type="checkbox"/>	6	<input type="checkbox"/>	6	<input type="checkbox"/>	6	<input type="checkbox"/>	6	<input type="checkbox"/>	6	<input type="checkbox"/>	6	<input type="checkbox"/>	6	<input type="checkbox"/>	6	<input type="checkbox"/>	6
<input type="checkbox"/>	7	<input type="checkbox"/>	7	<input type="checkbox"/>	7	<input type="checkbox"/>	7	<input type="checkbox"/>	7	<input type="checkbox"/>	7	<input type="checkbox"/>	7	<input type="checkbox"/>	7	<input type="checkbox"/>	7
<input type="checkbox"/>	8	<input type="checkbox"/>	8	<input type="checkbox"/>	8	<input type="checkbox"/>	8	<input type="checkbox"/>	8	<input type="checkbox"/>	8	<input type="checkbox"/>	8	<input type="checkbox"/>	8	<input type="checkbox"/>	8
<input type="checkbox"/>	9	<input type="checkbox"/>	9	<input type="checkbox"/>	9	<input type="checkbox"/>	9	<input type="checkbox"/>	9	<input type="checkbox"/>	9	<input type="checkbox"/>	9	<input type="checkbox"/>	9	<input type="checkbox"/>	9

QCM3L Suites de Fonctions Préing2

← codez votre numéro d'étudiant ci-contre, et inscrivez votre nom et prénom ci-dessous (le NOM d'abord!).

Nom et prénom :

.....

.....

Les cases doivent être complètement noircies avec un stylo NOIR.

Question 1 ♣

Soit $(f_n)_{n \geq 0}$ une suite de fonctions définies par $f_n(x) = x^n \ln(x)$ pour $x \in]0, 1]$ et $f_n(0) = 0$. Alors

- $(f_n)_{n \geq 0}$ converge uniformément sur $[a, 1]$ ($a \in]0, 1[$)
- $(f_n)_{n \geq 0}$ converge uniformément sur $[0, a]$ ($a \in]0, 1[$)
- $(f_n)_{n \geq 0}$ converge uniformément sur $[0, 1]$

Question 2 ♣

On définit la suite de fonctions $f_n(x) = \frac{e^{-nx}}{1+x}$. Alors, la suite $(f_n)_{n \geq 0}$

- converge uniformément sur $[0, +\infty[$
- converge uniformément sur $[0, 1]$ et la fonction limite est continue
- converge uniformément sur $[1, +\infty[$ et la fonction limite est continue

Question 3 ♣

Choisir les suites de fonctions $(f_n)_{n \geq 0}$ qui convergent uniformément vers leur limite simple:

- | | |
|--|---|
| <input type="checkbox"/> $f_n(x) = nxe^{-nx}$ sur $[1; 2]$ | <input type="checkbox"/> $f_n(x) = nxe^{-nx}$ sur $[0; 1[$ |
| <input type="checkbox"/> $f_n(x) = nxe^{-nx}$ sur $[a; +\infty[$ avec $a \in]0; 1[$ | <input type="checkbox"/> $f_n(x) = nxe^{-nx}$ sur $[0; +\infty[$ |
| <input type="checkbox"/> $f_n(x) = \frac{e^{-x}}{n}$ sur $] - \infty, 0]$ | <input type="checkbox"/> $f_n(x) = \frac{e^{-x}}{n}$ sur $]0; +\infty[$ |

Question 4 ♣

Soit $(f_n)_{n \geq 0}$ une suite de fonctions définies sur un intervalle $I \subset \mathbb{R}$ à valeur dans \mathbb{R} . Quelles les conditions nécessaires pour appliquer le théorème d'interversion limites-dérivations?

- $\forall x_0 \in I$, la suite $(f_n(x_0))_{n \geq 0}$ converge.
- La suite de fonctions (f'_n) converge uniformément sur I vers une fonction g .
- $\exists x_0 \in I$, tel que la suite numérique $(f_n(x_0))_{n \geq 0}$ converge.
- La suite de fonctions (f_n) converge uniformément sur I vers une fonction f continue.
- Pour tout $n \in \mathbb{N}$, les fonctions f_n sont de classe C^1 sur I.



<input type="checkbox"/>	0	<input type="checkbox"/>	0	<input type="checkbox"/>	0	<input type="checkbox"/>	0	<input type="checkbox"/>	0	<input type="checkbox"/>	0	<input type="checkbox"/>	0	<input type="checkbox"/>	0	<input type="checkbox"/>	0
<input type="checkbox"/>	1	<input type="checkbox"/>	1	<input type="checkbox"/>	1	<input type="checkbox"/>	1	<input type="checkbox"/>	1	<input type="checkbox"/>	1	<input type="checkbox"/>	1	<input type="checkbox"/>	1	<input type="checkbox"/>	1
<input type="checkbox"/>	2	<input type="checkbox"/>	2	<input type="checkbox"/>	2	<input type="checkbox"/>	2	<input type="checkbox"/>	2	<input type="checkbox"/>	2	<input type="checkbox"/>	2	<input type="checkbox"/>	2	<input type="checkbox"/>	2
<input type="checkbox"/>	3	<input type="checkbox"/>	3	<input type="checkbox"/>	3	<input type="checkbox"/>	3	<input type="checkbox"/>	3	<input type="checkbox"/>	3	<input type="checkbox"/>	3	<input type="checkbox"/>	3	<input type="checkbox"/>	3
<input type="checkbox"/>	4	<input type="checkbox"/>	4	<input type="checkbox"/>	4	<input type="checkbox"/>	4	<input type="checkbox"/>	4	<input type="checkbox"/>	4	<input type="checkbox"/>	4	<input type="checkbox"/>	4	<input type="checkbox"/>	4
<input type="checkbox"/>	5	<input type="checkbox"/>	5	<input type="checkbox"/>	5	<input type="checkbox"/>	5	<input type="checkbox"/>	5	<input type="checkbox"/>	5	<input type="checkbox"/>	5	<input type="checkbox"/>	5	<input type="checkbox"/>	5
<input type="checkbox"/>	6	<input type="checkbox"/>	6	<input type="checkbox"/>	6	<input type="checkbox"/>	6	<input type="checkbox"/>	6	<input type="checkbox"/>	6	<input type="checkbox"/>	6	<input type="checkbox"/>	6	<input type="checkbox"/>	6
<input type="checkbox"/>	7	<input type="checkbox"/>	7	<input type="checkbox"/>	7	<input type="checkbox"/>	7	<input type="checkbox"/>	7	<input type="checkbox"/>	7	<input type="checkbox"/>	7	<input type="checkbox"/>	7	<input type="checkbox"/>	7
<input type="checkbox"/>	8	<input type="checkbox"/>	8	<input type="checkbox"/>	8	<input type="checkbox"/>	8	<input type="checkbox"/>	8	<input type="checkbox"/>	8	<input type="checkbox"/>	8	<input type="checkbox"/>	8	<input type="checkbox"/>	8
<input type="checkbox"/>	9	<input type="checkbox"/>	9	<input type="checkbox"/>	9	<input type="checkbox"/>	9	<input type="checkbox"/>	9	<input type="checkbox"/>	9	<input type="checkbox"/>	9	<input type="checkbox"/>	9	<input type="checkbox"/>	9

QCM3L Suites de Fonctions Préing2

← codez votre numéro d'étudiant ci-contre, et inscrivez votre nom et prénom ci-dessous (le NOM d'abord!).

Nom et prénom :

.....

.....

Les cases doivent être complètement noircies avec un stylo NOIR.

Question 1 ♣

Soit $(f_n)_{n \geq 0}$ une suite de fonctions définies sur un intervalle $I \subset \mathbb{R}$ à valeur dans \mathbb{R} . Quelles les conditions nécessaires pour appliquer le théorème d'interversion limites-dérivations?

- $\exists x_0 \in I$, tel que la suite numérique $(f_n(x_0))_{n \geq 0}$ converge.
- Pour tout $n \in \mathbb{N}$, les fonctions f_n sont de classe C^1 sur I .
- $\forall x_0 \in I$, la suite $(f_n(x_0))_{n \geq 0}$ converge.
- La suite de fonctions (f'_n) converge uniformément sur I vers une fonction g .
- La suite de fonctions (f_n) converge uniformément sur I vers une fonction f continue.

Question 2 ♣

Choisir les suites de fonctions $(f_n)_{n \geq 0}$ qui convergent uniformément vers leur limite simple:

- | | |
|---|--|
| <input type="checkbox"/> $f_n(x) = nxe^{-nx}$ sur $]0; +\infty[$ | <input type="checkbox"/> $f_n(x) = nxe^{-nx}$ sur $[1; 2]$ |
| <input type="checkbox"/> $f_n(x) = nxe^{-nx}$ sur $]0; 1[$ | <input type="checkbox"/> $f_n(x) = nxe^{-nx}$ sur $[a; +\infty[$ avec $a \in]0; 1[$ |
| <input type="checkbox"/> $f_n(x) = \frac{e^{-x}}{n}$ sur $]0; +\infty[$ | <input type="checkbox"/> $f_n(x) = \frac{e^{-x}}{n}$ sur $] - \infty, 0]$ |

Question 3 ♣

Soit $(f_n)_{n \geq 0}$ une suite de fonctions définies par $f_n(x) = x^n \ln(x)$ pour $x \in]0, 1]$ et $f_n(0) = 0$. Alors

- $(f_n)_{n \geq 0}$ converge uniformément sur $[0, 1]$
- $(f_n)_{n \geq 0}$ converge uniformément sur $[a, 1]$ ($a \in]0, 1[$)
- $(f_n)_{n \geq 0}$ converge uniformément sur $[0, a]$ ($a \in]0, 1[$)

Question 4 ♣

On définit la suite de fonctions $f_n(x) = \frac{e^{-nx}}{1+x}$. Alors, la suite $(f_n)_{n \geq 0}$

- converge uniformément sur $[0, 1]$ et la fonction limite est continue
- converge uniformément sur $[1, +\infty[$ et la fonction limite est continue
- converge uniformément sur $[0, +\infty[$



<input type="checkbox"/>	0	<input type="checkbox"/>	0	<input type="checkbox"/>	0	<input type="checkbox"/>	0	<input type="checkbox"/>	0	<input type="checkbox"/>	0	<input type="checkbox"/>	0	<input type="checkbox"/>	0	<input type="checkbox"/>	0
<input type="checkbox"/>	1	<input type="checkbox"/>	1	<input type="checkbox"/>	1	<input type="checkbox"/>	1	<input type="checkbox"/>	1	<input type="checkbox"/>	1	<input type="checkbox"/>	1	<input type="checkbox"/>	1	<input type="checkbox"/>	1
<input type="checkbox"/>	2	<input type="checkbox"/>	2	<input type="checkbox"/>	2	<input type="checkbox"/>	2	<input type="checkbox"/>	2	<input type="checkbox"/>	2	<input type="checkbox"/>	2	<input type="checkbox"/>	2	<input type="checkbox"/>	2
<input type="checkbox"/>	3	<input type="checkbox"/>	3	<input type="checkbox"/>	3	<input type="checkbox"/>	3	<input type="checkbox"/>	3	<input type="checkbox"/>	3	<input type="checkbox"/>	3	<input type="checkbox"/>	3	<input type="checkbox"/>	3
<input type="checkbox"/>	4	<input type="checkbox"/>	4	<input type="checkbox"/>	4	<input type="checkbox"/>	4	<input type="checkbox"/>	4	<input type="checkbox"/>	4	<input type="checkbox"/>	4	<input type="checkbox"/>	4	<input type="checkbox"/>	4
<input type="checkbox"/>	5	<input type="checkbox"/>	5	<input type="checkbox"/>	5	<input type="checkbox"/>	5	<input type="checkbox"/>	5	<input type="checkbox"/>	5	<input type="checkbox"/>	5	<input type="checkbox"/>	5	<input type="checkbox"/>	5
<input type="checkbox"/>	6	<input type="checkbox"/>	6	<input type="checkbox"/>	6	<input type="checkbox"/>	6	<input type="checkbox"/>	6	<input type="checkbox"/>	6	<input type="checkbox"/>	6	<input type="checkbox"/>	6	<input type="checkbox"/>	6
<input type="checkbox"/>	7	<input type="checkbox"/>	7	<input type="checkbox"/>	7	<input type="checkbox"/>	7	<input type="checkbox"/>	7	<input type="checkbox"/>	7	<input type="checkbox"/>	7	<input type="checkbox"/>	7	<input type="checkbox"/>	7
<input type="checkbox"/>	8	<input type="checkbox"/>	8	<input type="checkbox"/>	8	<input type="checkbox"/>	8	<input type="checkbox"/>	8	<input type="checkbox"/>	8	<input type="checkbox"/>	8	<input type="checkbox"/>	8	<input type="checkbox"/>	8
<input type="checkbox"/>	9	<input type="checkbox"/>	9	<input type="checkbox"/>	9	<input type="checkbox"/>	9	<input type="checkbox"/>	9	<input type="checkbox"/>	9	<input type="checkbox"/>	9	<input type="checkbox"/>	9	<input type="checkbox"/>	9

QCM3L Suites de Fonctions Préing2

← codez votre numéro d'étudiant ci-contre, et inscrivez votre nom et prénom ci-dessous (le NOM d'abord!).

Nom et prénom :

.....

.....

Les cases doivent être complètement noircies avec un stylo NOIR.

Question 1 ♣

On définit la suite de fonctions $f_n(x) = \frac{e^{-nx}}{1+x}$. Alors, la suite $(f_n)_{n \geq 0}$

- converge uniformément sur $[0, 1]$ et la fonction limite est continue
- converge uniformément sur $[1, +\infty[$ et la fonction limite est continue
- converge uniformément sur $[0, +\infty[$

Question 2 ♣

Soit $(f_n)_{n \geq 0}$ une suite de fonctions définies sur un intervalle $I \subset \mathbb{R}$ à valeur dans \mathbb{R} . Quelles les conditions nécessaires pour appliquer le théorème d'interversion limites-dérivations?

- La suite de fonctions (f'_n) converge uniformément sur I vers une fonction g .
- Pour tout $n \in \mathbb{N}$, les fonctions f_n sont de classe C^1 sur I.
- La suite de fonctions (f_n) converge uniformément sur I vers une fonction f continue.
- $\forall x_0 \in I$, la suite $(f_n(x_0))_{n \geq 0}$ converge.
- $\exists x_0 \in I$, tel que la suite numérique $(f_n(x_0))_{n \geq 0}$ converge.

Question 3 ♣

Soit $(f_n)_{n \geq 0}$ une suite de fonctions définies par $f_n(x) = x^n \ln(x)$ pour $x \in]0, 1]$ et $f_n(0) = 0$. Alors

- $(f_n)_{n \geq 0}$ converge uniformément sur $[a, 1]$ ($a \in]0, 1[$)
- $(f_n)_{n \geq 0}$ converge uniformément sur $[0, a]$ ($a \in]0, 1[$)
- $(f_n)_{n \geq 0}$ converge uniformément sur $[0, 1]$

Question 4 ♣

Choisir les suites de fonctions $(f_n)_{n \geq 0}$ qui convergent uniformément vers leur limite simple:

- | | |
|---|--|
| <input type="checkbox"/> $f_n(x) = nxe^{-nx}$ sur $]0; 1[$ | <input type="checkbox"/> $f_n(x) = nxe^{-nx}$ sur $[a; +\infty[$ avec $a \in]0; 1[$ |
| <input type="checkbox"/> $f_n(x) = nxe^{-nx}$ sur $]0; +\infty[$ | <input type="checkbox"/> $f_n(x) = nxe^{-nx}$ sur $[1; 2]$ |
| <input type="checkbox"/> $f_n(x) = \frac{e^{-x}}{n}$ sur $]0; +\infty[$ | <input type="checkbox"/> $f_n(x) = \frac{e^{-x}}{n}$ sur $] - \infty, 0]$ |



<input type="checkbox"/> 0	<input type="checkbox"/> 0	<input type="checkbox"/> 0	<input type="checkbox"/> 0	<input type="checkbox"/> 0	<input type="checkbox"/> 0	<input type="checkbox"/> 0	<input type="checkbox"/> 0
<input type="checkbox"/> 1	<input type="checkbox"/> 1	<input type="checkbox"/> 1	<input type="checkbox"/> 1	<input type="checkbox"/> 1	<input type="checkbox"/> 1	<input type="checkbox"/> 1	<input type="checkbox"/> 1
<input type="checkbox"/> 2	<input type="checkbox"/> 2	<input type="checkbox"/> 2	<input type="checkbox"/> 2	<input type="checkbox"/> 2	<input type="checkbox"/> 2	<input type="checkbox"/> 2	<input type="checkbox"/> 2
<input type="checkbox"/> 3	<input type="checkbox"/> 3	<input type="checkbox"/> 3	<input type="checkbox"/> 3	<input type="checkbox"/> 3	<input type="checkbox"/> 3	<input type="checkbox"/> 3	<input type="checkbox"/> 3
<input type="checkbox"/> 4	<input type="checkbox"/> 4	<input type="checkbox"/> 4	<input type="checkbox"/> 4	<input type="checkbox"/> 4	<input type="checkbox"/> 4	<input type="checkbox"/> 4	<input type="checkbox"/> 4
<input type="checkbox"/> 5	<input type="checkbox"/> 5	<input type="checkbox"/> 5	<input type="checkbox"/> 5	<input type="checkbox"/> 5	<input type="checkbox"/> 5	<input type="checkbox"/> 5	<input type="checkbox"/> 5
<input type="checkbox"/> 6	<input type="checkbox"/> 6	<input type="checkbox"/> 6	<input type="checkbox"/> 6	<input type="checkbox"/> 6	<input type="checkbox"/> 6	<input type="checkbox"/> 6	<input type="checkbox"/> 6
<input type="checkbox"/> 7	<input type="checkbox"/> 7	<input type="checkbox"/> 7	<input type="checkbox"/> 7	<input type="checkbox"/> 7	<input type="checkbox"/> 7	<input type="checkbox"/> 7	<input type="checkbox"/> 7
<input type="checkbox"/> 8	<input type="checkbox"/> 8	<input type="checkbox"/> 8	<input type="checkbox"/> 8	<input type="checkbox"/> 8	<input type="checkbox"/> 8	<input type="checkbox"/> 8	<input type="checkbox"/> 8
<input type="checkbox"/> 9	<input type="checkbox"/> 9	<input type="checkbox"/> 9	<input type="checkbox"/> 9	<input type="checkbox"/> 9	<input type="checkbox"/> 9	<input type="checkbox"/> 9	<input type="checkbox"/> 9

QCM3L Suites de Fonctions Préing2

← codez votre numéro d'étudiant ci-contre, et inscrivez votre nom et prénom ci-dessous (le NOM d'abord!).

Nom et prénom :

.....

.....

Les cases doivent être complètement noircies avec un stylo NOIR.

Question 1 ♣

On définit la suite de fonctions $f_n(x) = \frac{e^{-nx}}{1+x}$. Alors, la suite $(f_n)_{n \geq 0}$

- converge uniformément sur $[1, +\infty[$ et la fonction limite est continue
- converge uniformément sur $[0, +\infty[$
- converge uniformément sur $[0, 1]$ et la fonction limite est continue

Question 2 ♣

Choisir les suites de fonctions $(f_n)_{n \geq 0}$ qui convergent uniformément vers leur limite simple:

- | | |
|---|--|
| <input type="checkbox"/> $f_n(x) = \frac{e^{-x}}{n}$ sur $]0; +\infty[$ | <input type="checkbox"/> $f_n(x) = nxe^{-nx}$ sur $[a; +\infty[$ avec $a \in]0; 1[$ |
| <input type="checkbox"/> $f_n(x) = nxe^{-nx}$ sur $[0; +\infty[$ | <input type="checkbox"/> $f_n(x) = \frac{e^{-x}}{n}$ sur $] -\infty, 0]$ |
| <input type="checkbox"/> $f_n(x) = nxe^{-nx}$ sur $[0; 1[$ | <input type="checkbox"/> $f_n(x) = nxe^{-nx}$ sur $[1; 2]$ |

Question 3 ♣

Soit $(f_n)_{n \geq 0}$ une suite de fonctions définies par $f_n(x) = x^n \ln(x)$ pour $x \in]0, 1]$ et $f_n(0) = 0$. Alors

- $(f_n)_{n \geq 0}$ converge uniformément sur $[a, 1]$ ($a \in]0, 1[$)
- $(f_n)_{n \geq 0}$ converge uniformément sur $[0, a]$ ($a \in]0, 1[$)
- $(f_n)_{n \geq 0}$ converge uniformément sur $[0, 1]$

Question 4 ♣

Soit $(f_n)_{n \geq 0}$ une suite de fonctions définies sur un intervalle $I \subset \mathbb{R}$ à valeur dans \mathbb{R} . Quelles les conditions nécessaires pour appliquer le théorème d'interversion limites-dérivations?

- La suite de fonctions (f_n) converge uniformément sur I vers une fonction f continue.
- $\exists x_0 \in I$, tel que la suite numérique $(f_n(x_0))_{n \geq 0}$ converge.
- Pour tout $n \in \mathbb{N}$, les fonctions f_n sont de classe C^1 sur I.
- La suite de fonctions (f'_n) converge uniformément sur I vers une fonction g .
- $\forall x_0 \in I$, la suite $(f_n(x_0))_{n \geq 0}$ converge.



<input type="checkbox"/>	0	<input type="checkbox"/>	0	<input type="checkbox"/>	0	<input type="checkbox"/>	0	<input type="checkbox"/>	0	<input type="checkbox"/>	0	<input type="checkbox"/>	0	<input type="checkbox"/>	0	<input type="checkbox"/>	0
<input type="checkbox"/>	1	<input type="checkbox"/>	1	<input type="checkbox"/>	1	<input type="checkbox"/>	1	<input type="checkbox"/>	1	<input type="checkbox"/>	1	<input type="checkbox"/>	1	<input type="checkbox"/>	1	<input type="checkbox"/>	1
<input type="checkbox"/>	2	<input type="checkbox"/>	2	<input type="checkbox"/>	2	<input type="checkbox"/>	2	<input type="checkbox"/>	2	<input type="checkbox"/>	2	<input type="checkbox"/>	2	<input type="checkbox"/>	2	<input type="checkbox"/>	2
<input type="checkbox"/>	3	<input type="checkbox"/>	3	<input type="checkbox"/>	3	<input type="checkbox"/>	3	<input type="checkbox"/>	3	<input type="checkbox"/>	3	<input type="checkbox"/>	3	<input type="checkbox"/>	3	<input type="checkbox"/>	3
<input type="checkbox"/>	4	<input type="checkbox"/>	4	<input type="checkbox"/>	4	<input type="checkbox"/>	4	<input type="checkbox"/>	4	<input type="checkbox"/>	4	<input type="checkbox"/>	4	<input type="checkbox"/>	4	<input type="checkbox"/>	4
<input type="checkbox"/>	5	<input type="checkbox"/>	5	<input type="checkbox"/>	5	<input type="checkbox"/>	5	<input type="checkbox"/>	5	<input type="checkbox"/>	5	<input type="checkbox"/>	5	<input type="checkbox"/>	5	<input type="checkbox"/>	5
<input type="checkbox"/>	6	<input type="checkbox"/>	6	<input type="checkbox"/>	6	<input type="checkbox"/>	6	<input type="checkbox"/>	6	<input type="checkbox"/>	6	<input type="checkbox"/>	6	<input type="checkbox"/>	6	<input type="checkbox"/>	6
<input type="checkbox"/>	7	<input type="checkbox"/>	7	<input type="checkbox"/>	7	<input type="checkbox"/>	7	<input type="checkbox"/>	7	<input type="checkbox"/>	7	<input type="checkbox"/>	7	<input type="checkbox"/>	7	<input type="checkbox"/>	7
<input type="checkbox"/>	8	<input type="checkbox"/>	8	<input type="checkbox"/>	8	<input type="checkbox"/>	8	<input type="checkbox"/>	8	<input type="checkbox"/>	8	<input type="checkbox"/>	8	<input type="checkbox"/>	8	<input type="checkbox"/>	8
<input type="checkbox"/>	9	<input type="checkbox"/>	9	<input type="checkbox"/>	9	<input type="checkbox"/>	9	<input type="checkbox"/>	9	<input type="checkbox"/>	9	<input type="checkbox"/>	9	<input type="checkbox"/>	9	<input type="checkbox"/>	9

QCM3L Suites de Fonctions Préing2

← codez votre numéro d'étudiant ci-contre, et inscrivez votre nom et prénom ci-dessous (le NOM d'abord!).

Nom et prénom :
.....
.....

Les cases doivent être complètement noircies avec un stylo NOIR.

Question 1 ♣

On définit la suite de fonctions $f_n(x) = \frac{e^{-nx}}{1+x}$. Alors, la suite $(f_n)_{n \geq 0}$

- converge uniformément sur $[0, 1]$ et la fonction limite est continue
- converge uniformément sur $[1, +\infty[$ et la fonction limite est continue
- converge uniformément sur $[0, +\infty[$

Question 2 ♣

Soit $(f_n)_{n \geq 0}$ une suite de fonctions définies sur un intervalle $I \subset \mathbb{R}$ à valeur dans \mathbb{R} . Quelles les conditions nécessaires pour appliquer le théorème d'interversion limites-dérivations?

- $\exists x_0 \in I$, tel que la suite numérique $(f_n(x_0))_{n \geq 0}$ converge.
- $\forall x_0 \in I$, la suite $(f_n(x_0))_{n \geq 0}$ converge.
- La suite de fonctions (f'_n) converge uniformément sur I vers une fonction g .
- Pour tout $n \in \mathbb{N}$, les fonctions f_n sont de classe C^1 sur I.
- La suite de fonctions (f_n) converge uniformément sur I vers une fonction f continue.

Question 3 ♣

Soit $(f_n)_{n \geq 0}$ une suite de fonctions définies par $f_n(x) = x^n \ln(x)$ pour $x \in]0, 1]$ et $f_n(0) = 0$. Alors

- $(f_n)_{n \geq 0}$ converge uniformément sur $[a, 1]$ ($a \in]0, 1[$)
- $(f_n)_{n \geq 0}$ converge uniformément sur $[0, 1]$
- $(f_n)_{n \geq 0}$ converge uniformément sur $[0, a]$ ($a \in]0, 1[$)

Question 4 ♣

Choisir les suites de fonctions $(f_n)_{n \geq 0}$ qui convergent uniformément vers leur limite simple:

- | | |
|--|--|
| <input type="checkbox"/> $f_n(x) = nxe^{-nx}$ sur $[0; +\infty[$ | <input type="checkbox"/> $f_n(x) = \frac{e^{-x}}{n}$ sur $] - \infty, 0]$ |
| <input type="checkbox"/> $f_n(x) = nxe^{-nx}$ sur $[1; 2]$ | <input type="checkbox"/> $f_n(x) = \frac{e^{-x}}{n}$ sur $]0; +\infty[$ |
| <input type="checkbox"/> $f_n(x) = nxe^{-nx}$ sur $[0; 1[$ | <input type="checkbox"/> $f_n(x) = nxe^{-nx}$ sur $[a; +\infty[$ avec $a \in]0; 1[$ |



<input type="checkbox"/>	0	<input type="checkbox"/>	0	<input type="checkbox"/>	0	<input type="checkbox"/>	0	<input type="checkbox"/>	0	<input type="checkbox"/>	0	<input type="checkbox"/>	0	<input type="checkbox"/>	0	<input type="checkbox"/>	0
<input type="checkbox"/>	1	<input type="checkbox"/>	1	<input type="checkbox"/>	1	<input type="checkbox"/>	1	<input type="checkbox"/>	1	<input type="checkbox"/>	1	<input type="checkbox"/>	1	<input type="checkbox"/>	1	<input type="checkbox"/>	1
<input type="checkbox"/>	2	<input type="checkbox"/>	2	<input type="checkbox"/>	2	<input type="checkbox"/>	2	<input type="checkbox"/>	2	<input type="checkbox"/>	2	<input type="checkbox"/>	2	<input type="checkbox"/>	2	<input type="checkbox"/>	2
<input type="checkbox"/>	3	<input type="checkbox"/>	3	<input type="checkbox"/>	3	<input type="checkbox"/>	3	<input type="checkbox"/>	3	<input type="checkbox"/>	3	<input type="checkbox"/>	3	<input type="checkbox"/>	3	<input type="checkbox"/>	3
<input type="checkbox"/>	4	<input type="checkbox"/>	4	<input type="checkbox"/>	4	<input type="checkbox"/>	4	<input type="checkbox"/>	4	<input type="checkbox"/>	4	<input type="checkbox"/>	4	<input type="checkbox"/>	4	<input type="checkbox"/>	4
<input type="checkbox"/>	5	<input type="checkbox"/>	5	<input type="checkbox"/>	5	<input type="checkbox"/>	5	<input type="checkbox"/>	5	<input type="checkbox"/>	5	<input type="checkbox"/>	5	<input type="checkbox"/>	5	<input type="checkbox"/>	5
<input type="checkbox"/>	6	<input type="checkbox"/>	6	<input type="checkbox"/>	6	<input type="checkbox"/>	6	<input type="checkbox"/>	6	<input type="checkbox"/>	6	<input type="checkbox"/>	6	<input type="checkbox"/>	6	<input type="checkbox"/>	6
<input type="checkbox"/>	7	<input type="checkbox"/>	7	<input type="checkbox"/>	7	<input type="checkbox"/>	7	<input type="checkbox"/>	7	<input type="checkbox"/>	7	<input type="checkbox"/>	7	<input type="checkbox"/>	7	<input type="checkbox"/>	7
<input type="checkbox"/>	8	<input type="checkbox"/>	8	<input type="checkbox"/>	8	<input type="checkbox"/>	8	<input type="checkbox"/>	8	<input type="checkbox"/>	8	<input type="checkbox"/>	8	<input type="checkbox"/>	8	<input type="checkbox"/>	8
<input type="checkbox"/>	9	<input type="checkbox"/>	9	<input type="checkbox"/>	9	<input type="checkbox"/>	9	<input type="checkbox"/>	9	<input type="checkbox"/>	9	<input type="checkbox"/>	9	<input type="checkbox"/>	9	<input type="checkbox"/>	9

QCM3L Suites de Fonctions Préing2

← codez votre numéro d'étudiant ci-contre, et inscrivez votre nom et prénom ci-dessous (le NOM d'abord!).

Nom et prénom :

.....

.....

Les cases doivent être complètement noircies avec un stylo NOIR.

Question 1 ♣

Soit $(f_n)_{n \geq 0}$ une suite de fonctions définies sur un intervalle $I \subset \mathbb{R}$ à valeur dans \mathbb{R} . Quelles les conditions nécessaires pour appliquer le théorème d'interversion limites-dérivations?

- La suite de fonctions (f'_n) converge uniformément sur I vers une fonction g .
- $\exists x_0 \in I$, tel que la suite numérique $(f_n(x_0))_{n \geq 0}$ converge.
- La suite de fonctions (f_n) converge uniformément sur I vers une fonction f continue.
- Pour tout $n \in \mathbb{N}$, les fonctions f_n sont de classe C^1 sur I.
- $\forall x_0 \in I$, la suite $(f_n(x_0))_{n \geq 0}$ converge.

Question 2 ♣

On définit la suite de fonctions $f_n(x) = \frac{e^{-nx}}{1+x}$. Alors, la suite $(f_n)_{n \geq 0}$

- converge uniformément sur $[0, +\infty[$
- converge uniformément sur $[0, 1]$ et la fonction limite est continue
- converge uniformément sur $[1, +\infty[$ et la fonction limite est continue

Question 3 ♣

Choisir les suites de fonctions $(f_n)_{n \geq 0}$ qui convergent uniformément vers leur limite simple:

- | | |
|--|---|
| <input type="checkbox"/> $f_n(x) = nxe^{-nx}$ sur $]0; 1[$ | <input type="checkbox"/> $f_n(x) = \frac{e^{-x}}{n}$ sur $]0; +\infty[$ |
| <input type="checkbox"/> $f_n(x) = nxe^{-nx}$ sur $[a; +\infty[$ avec $a \in]0; 1[$ | <input type="checkbox"/> $f_n(x) = \frac{e^{-x}}{n}$ sur $] - \infty, 0[$ |
| <input type="checkbox"/> $f_n(x) = nxe^{-nx}$ sur $[0; +\infty[$ | <input type="checkbox"/> $f_n(x) = nxe^{-nx}$ sur $[1; 2]$ |

Question 4 ♣

Soit $(f_n)_{n \geq 0}$ une suite de fonctions définies par $f_n(x) = x^n \ln(x)$ pour $x \in]0, 1]$ et $f_n(0) = 0$. Alors

- $(f_n)_{n \geq 0}$ converge uniformément sur $[0, 1]$
- $(f_n)_{n \geq 0}$ converge uniformément sur $[a, 1]$ ($a \in]0, 1[$)
- $(f_n)_{n \geq 0}$ converge uniformément sur $[0, a]$ ($a \in]0, 1[$)



<input type="checkbox"/>	0	<input type="checkbox"/>	0	<input type="checkbox"/>	0	<input type="checkbox"/>	0	<input type="checkbox"/>	0	<input type="checkbox"/>	0	<input type="checkbox"/>	0	<input type="checkbox"/>	0	<input type="checkbox"/>	0
<input type="checkbox"/>	1	<input type="checkbox"/>	1	<input type="checkbox"/>	1	<input type="checkbox"/>	1	<input type="checkbox"/>	1	<input type="checkbox"/>	1	<input type="checkbox"/>	1	<input type="checkbox"/>	1	<input type="checkbox"/>	1
<input type="checkbox"/>	2	<input type="checkbox"/>	2	<input type="checkbox"/>	2	<input type="checkbox"/>	2	<input type="checkbox"/>	2	<input type="checkbox"/>	2	<input type="checkbox"/>	2	<input type="checkbox"/>	2	<input type="checkbox"/>	2
<input type="checkbox"/>	3	<input type="checkbox"/>	3	<input type="checkbox"/>	3	<input type="checkbox"/>	3	<input type="checkbox"/>	3	<input type="checkbox"/>	3	<input type="checkbox"/>	3	<input type="checkbox"/>	3	<input type="checkbox"/>	3
<input type="checkbox"/>	4	<input type="checkbox"/>	4	<input type="checkbox"/>	4	<input type="checkbox"/>	4	<input type="checkbox"/>	4	<input type="checkbox"/>	4	<input type="checkbox"/>	4	<input type="checkbox"/>	4	<input type="checkbox"/>	4
<input type="checkbox"/>	5	<input type="checkbox"/>	5	<input type="checkbox"/>	5	<input type="checkbox"/>	5	<input type="checkbox"/>	5	<input type="checkbox"/>	5	<input type="checkbox"/>	5	<input type="checkbox"/>	5	<input type="checkbox"/>	5
<input type="checkbox"/>	6	<input type="checkbox"/>	6	<input type="checkbox"/>	6	<input type="checkbox"/>	6	<input type="checkbox"/>	6	<input type="checkbox"/>	6	<input type="checkbox"/>	6	<input type="checkbox"/>	6	<input type="checkbox"/>	6
<input type="checkbox"/>	7	<input type="checkbox"/>	7	<input type="checkbox"/>	7	<input type="checkbox"/>	7	<input type="checkbox"/>	7	<input type="checkbox"/>	7	<input type="checkbox"/>	7	<input type="checkbox"/>	7	<input type="checkbox"/>	7
<input type="checkbox"/>	8	<input type="checkbox"/>	8	<input type="checkbox"/>	8	<input type="checkbox"/>	8	<input type="checkbox"/>	8	<input type="checkbox"/>	8	<input type="checkbox"/>	8	<input type="checkbox"/>	8	<input type="checkbox"/>	8
<input type="checkbox"/>	9	<input type="checkbox"/>	9	<input type="checkbox"/>	9	<input type="checkbox"/>	9	<input type="checkbox"/>	9	<input type="checkbox"/>	9	<input type="checkbox"/>	9	<input type="checkbox"/>	9	<input type="checkbox"/>	9

QCM3L Suites de Fonctions Préing2

← codez votre numéro d'étudiant ci-contre, et inscrivez votre nom et prénom ci-dessous (le NOM d'abord!).

Nom et prénom :

.....

.....

Les cases doivent être complètement noircies avec un stylo NOIR.

Question 1 ♣

Soit $(f_n)_{n \geq 0}$ une suite de fonctions définies sur un intervalle $I \subset \mathbb{R}$ à valeur dans \mathbb{R} . Quelles les conditions nécessaires pour appliquer le théorème d'interversion limites-dérivations?

- $\forall x_0 \in I$, la suite $(f_n(x_0))_{n \geq 0}$ converge.
- La suite de fonctions (f'_n) converge uniformément sur I vers une fonction g .
- La suite de fonctions (f_n) converge uniformément sur I vers une fonction f continue.
- Pour tout $n \in \mathbb{N}$, les fonctions f_n sont de classe C^1 sur I.
- $\exists x_0 \in I$, tel que la suite numérique $(f_n(x_0))_{n \geq 0}$ converge.

Question 2 ♣

Soit $(f_n)_{n \geq 0}$ une suite de fonctions définies par $f_n(x) = x^n \ln(x)$ pour $x \in]0, 1]$ et $f_n(0) = 0$. Alors

- $(f_n)_{n \geq 0}$ converge uniformément sur $[0, 1]$
- $(f_n)_{n \geq 0}$ converge uniformément sur $[a, 1]$ ($a \in]0, 1[$)
- $(f_n)_{n \geq 0}$ converge uniformément sur $[0, a]$ ($a \in]0, 1[$)

Question 3 ♣

Choisir les suites de fonctions $(f_n)_{n \geq 0}$ qui convergent uniformément vers leur limite simple:

- | | |
|--|--|
| <input type="checkbox"/> $f_n(x) = \frac{e^{-x}}{n}$ sur $]0; +\infty[$ | <input type="checkbox"/> $f_n(x) = nxe^{-nx}$ sur $[1; 2]$ |
| <input type="checkbox"/> $f_n(x) = \frac{e^{-x}}{n}$ sur $] -\infty, 0]$ | <input type="checkbox"/> $f_n(x) = nxe^{-nx}$ sur $[0; +\infty[$ |
| <input type="checkbox"/> $f_n(x) = nxe^{-nx}$ sur $[0; 1[$ | <input type="checkbox"/> $f_n(x) = nxe^{-nx}$ sur $[a; +\infty[$ avec $a \in]0; 1[$ |

Question 4 ♣

On définit la suite de fonctions $f_n(x) = \frac{e^{-nx}}{1+x}$. Alors, la suite $(f_n)_{n \geq 0}$

- converge uniformément sur $[1, +\infty[$ et la fonction limite est continue
- converge uniformément sur $[0, +\infty[$
- converge uniformément sur $[0, 1]$ et la fonction limite est continue



<input type="checkbox"/> 0	<input type="checkbox"/> 0	<input type="checkbox"/> 0	<input type="checkbox"/> 0	<input type="checkbox"/> 0	<input type="checkbox"/> 0	<input type="checkbox"/> 0	<input type="checkbox"/> 0	<input type="checkbox"/> 0
<input type="checkbox"/> 1	<input type="checkbox"/> 1	<input type="checkbox"/> 1	<input type="checkbox"/> 1	<input type="checkbox"/> 1	<input type="checkbox"/> 1	<input type="checkbox"/> 1	<input type="checkbox"/> 1	<input type="checkbox"/> 1
<input type="checkbox"/> 2	<input type="checkbox"/> 2	<input type="checkbox"/> 2	<input type="checkbox"/> 2	<input type="checkbox"/> 2	<input type="checkbox"/> 2	<input type="checkbox"/> 2	<input type="checkbox"/> 2	<input type="checkbox"/> 2
<input type="checkbox"/> 3	<input type="checkbox"/> 3	<input type="checkbox"/> 3	<input type="checkbox"/> 3	<input type="checkbox"/> 3	<input type="checkbox"/> 3	<input type="checkbox"/> 3	<input type="checkbox"/> 3	<input type="checkbox"/> 3
<input type="checkbox"/> 4	<input type="checkbox"/> 4	<input type="checkbox"/> 4	<input type="checkbox"/> 4	<input type="checkbox"/> 4	<input type="checkbox"/> 4	<input type="checkbox"/> 4	<input type="checkbox"/> 4	<input type="checkbox"/> 4
<input type="checkbox"/> 5	<input type="checkbox"/> 5	<input type="checkbox"/> 5	<input type="checkbox"/> 5	<input type="checkbox"/> 5	<input type="checkbox"/> 5	<input type="checkbox"/> 5	<input type="checkbox"/> 5	<input type="checkbox"/> 5
<input type="checkbox"/> 6	<input type="checkbox"/> 6	<input type="checkbox"/> 6	<input type="checkbox"/> 6	<input type="checkbox"/> 6	<input type="checkbox"/> 6	<input type="checkbox"/> 6	<input type="checkbox"/> 6	<input type="checkbox"/> 6
<input type="checkbox"/> 7	<input type="checkbox"/> 7	<input type="checkbox"/> 7	<input type="checkbox"/> 7	<input type="checkbox"/> 7	<input type="checkbox"/> 7	<input type="checkbox"/> 7	<input type="checkbox"/> 7	<input type="checkbox"/> 7
<input type="checkbox"/> 8	<input type="checkbox"/> 8	<input type="checkbox"/> 8	<input type="checkbox"/> 8	<input type="checkbox"/> 8	<input type="checkbox"/> 8	<input type="checkbox"/> 8	<input type="checkbox"/> 8	<input type="checkbox"/> 8
<input type="checkbox"/> 9	<input type="checkbox"/> 9	<input type="checkbox"/> 9	<input type="checkbox"/> 9	<input type="checkbox"/> 9	<input type="checkbox"/> 9	<input type="checkbox"/> 9	<input type="checkbox"/> 9	<input type="checkbox"/> 9

QCM3L Suites de Fonctions Préing2

← codez votre numéro d'étudiant ci-contre, et inscrivez votre nom et prénom ci-dessous (le NOM d'abord!).

Nom et prénom :

.....

.....

Les cases doivent être complètement noircies avec un stylo NOIR.

Question 1 ♣

Soit $(f_n)_{n \geq 0}$ une suite de fonctions définies sur un intervalle $I \subset \mathbb{R}$ à valeur dans \mathbb{R} . Quelles les conditions nécessaires pour appliquer le théorème d'inversion limites-dérivations?

- Pour tout $n \in \mathbb{N}$, les fonctions f_n sont de classe C^1 sur I .
- La suite de fonctions (f'_n) converge uniformément sur I vers une fonction g .
- $\exists x_0 \in I$, tel que la suite numérique $(f_n(x_0))_{n \geq 0}$ converge.
- $\forall x_0 \in I$, la suite $(f_n(x_0))_{n \geq 0}$ converge.
- La suite de fonctions (f_n) converge uniformément sur I vers une fonction f continue.

Question 2 ♣

Soit $(f_n)_{n \geq 0}$ une suite de fonctions définies par $f_n(x) = x^n \ln(x)$ pour $x \in]0, 1]$ et $f_n(0) = 0$. Alors

- $(f_n)_{n \geq 0}$ converge uniformément sur $[a, 1]$ ($a \in]0, 1[$)
- $(f_n)_{n \geq 0}$ converge uniformément sur $[0, a]$ ($a \in]0, 1[$)
- $(f_n)_{n \geq 0}$ converge uniformément sur $[0, 1]$

Question 3 ♣

Choisir les suites de fonctions $(f_n)_{n \geq 0}$ qui convergent uniformément vers leur limite simple:

- | | |
|--|---|
| <input type="checkbox"/> $f_n(x) = nxe^{-nx}$ sur $]0; +\infty[$ | <input type="checkbox"/> $f_n(x) = nxe^{-nx}$ sur $[1; 2]$ |
| <input type="checkbox"/> $f_n(x) = nxe^{-nx}$ sur $[a; +\infty[$ avec $a \in]0; 1[$ | <input type="checkbox"/> $f_n(x) = nxe^{-nx}$ sur $]0; 1[$ |
| <input type="checkbox"/> $f_n(x) = \frac{e^{-x}}{n}$ sur $]0; +\infty[$ | <input type="checkbox"/> $f_n(x) = \frac{e^{-x}}{n}$ sur $] - \infty, 0]$ |

Question 4 ♣

On définit la suite de fonctions $f_n(x) = \frac{e^{-nx}}{1+x}$. Alors, la suite $(f_n)_{n \geq 0}$

- converge uniformément sur $[0, +\infty[$
- converge uniformément sur $[0, 1]$ et la fonction limite est continue
- converge uniformément sur $[1, +\infty[$ et la fonction limite est continue



<input type="checkbox"/>	0	<input type="checkbox"/>	0	<input type="checkbox"/>	0	<input type="checkbox"/>	0	<input type="checkbox"/>	0	<input type="checkbox"/>	0	<input type="checkbox"/>	0	<input type="checkbox"/>	0	<input type="checkbox"/>	0
<input type="checkbox"/>	1	<input type="checkbox"/>	1	<input type="checkbox"/>	1	<input type="checkbox"/>	1	<input type="checkbox"/>	1	<input type="checkbox"/>	1	<input type="checkbox"/>	1	<input type="checkbox"/>	1	<input type="checkbox"/>	1
<input type="checkbox"/>	2	<input type="checkbox"/>	2	<input type="checkbox"/>	2	<input type="checkbox"/>	2	<input type="checkbox"/>	2	<input type="checkbox"/>	2	<input type="checkbox"/>	2	<input type="checkbox"/>	2	<input type="checkbox"/>	2
<input type="checkbox"/>	3	<input type="checkbox"/>	3	<input type="checkbox"/>	3	<input type="checkbox"/>	3	<input type="checkbox"/>	3	<input type="checkbox"/>	3	<input type="checkbox"/>	3	<input type="checkbox"/>	3	<input type="checkbox"/>	3
<input type="checkbox"/>	4	<input type="checkbox"/>	4	<input type="checkbox"/>	4	<input type="checkbox"/>	4	<input type="checkbox"/>	4	<input type="checkbox"/>	4	<input type="checkbox"/>	4	<input type="checkbox"/>	4	<input type="checkbox"/>	4
<input type="checkbox"/>	5	<input type="checkbox"/>	5	<input type="checkbox"/>	5	<input type="checkbox"/>	5	<input type="checkbox"/>	5	<input type="checkbox"/>	5	<input type="checkbox"/>	5	<input type="checkbox"/>	5	<input type="checkbox"/>	5
<input type="checkbox"/>	6	<input type="checkbox"/>	6	<input type="checkbox"/>	6	<input type="checkbox"/>	6	<input type="checkbox"/>	6	<input type="checkbox"/>	6	<input type="checkbox"/>	6	<input type="checkbox"/>	6	<input type="checkbox"/>	6
<input type="checkbox"/>	7	<input type="checkbox"/>	7	<input type="checkbox"/>	7	<input type="checkbox"/>	7	<input type="checkbox"/>	7	<input type="checkbox"/>	7	<input type="checkbox"/>	7	<input type="checkbox"/>	7	<input type="checkbox"/>	7
<input type="checkbox"/>	8	<input type="checkbox"/>	8	<input type="checkbox"/>	8	<input type="checkbox"/>	8	<input type="checkbox"/>	8	<input type="checkbox"/>	8	<input type="checkbox"/>	8	<input type="checkbox"/>	8	<input type="checkbox"/>	8
<input type="checkbox"/>	9	<input type="checkbox"/>	9	<input type="checkbox"/>	9	<input type="checkbox"/>	9	<input type="checkbox"/>	9	<input type="checkbox"/>	9	<input type="checkbox"/>	9	<input type="checkbox"/>	9	<input type="checkbox"/>	9

QCM3L Suites de Fonctions Préing2

← codez votre numéro d'étudiant ci-contre, et inscrivez votre nom et prénom ci-dessous (le NOM d'abord!).

Nom et prénom :

.....

.....

Les cases doivent être complètement noircies avec un stylo NOIR.

Question 1 ♣

On définit la suite de fonctions $f_n(x) = \frac{e^{-nx}}{1+x}$. Alors, la suite $(f_n)_{n \geq 0}$

- converge uniformément sur $[0, 1]$ et la fonction limite est continue
- converge uniformément sur $[1, +\infty[$ et la fonction limite est continue
- converge uniformément sur $[0, +\infty[$

Question 2 ♣

Soit $(f_n)_{n \geq 0}$ une suite de fonctions définies par $f_n(x) = x^n \ln(x)$ pour $x \in]0, 1]$ et $f_n(0) = 0$. Alors

- $(f_n)_{n \geq 0}$ converge uniformément sur $[0, 1]$
- $(f_n)_{n \geq 0}$ converge uniformément sur $[0, a]$ ($a \in]0, 1[$)
- $(f_n)_{n \geq 0}$ converge uniformément sur $[a, 1]$ ($a \in]0, 1[$)

Question 3 ♣

Soit $(f_n)_{n \geq 0}$ une suite de fonctions définies sur un intervalle $I \subset \mathbb{R}$ à valeur dans \mathbb{R} . Quelles les conditions nécessaires pour appliquer le théorème d'interversion limites-dérivations?

- $\forall x_0 \in I$, la suite $(f_n(x_0))_{n \geq 0}$ converge.
- $\exists x_0 \in I$, tel que la suite numérique $(f_n(x_0))_{n \geq 0}$ converge.
- La suite de fonctions (f_n) converge uniformément sur I vers une fonction f continue.
- Pour tout $n \in \mathbb{N}$, les fonctions f_n sont de classe C^1 sur I.
- La suite de fonctions (f'_n) converge uniformément sur I vers une fonction g .

Question 4 ♣

Choisir les suites de fonctions $(f_n)_{n \geq 0}$ qui convergent uniformément vers leur limite simple:

- | | |
|---|--|
| <input type="checkbox"/> $f_n(x) = nxe^{-nx}$ sur $[0; 1[$ | <input type="checkbox"/> $f_n(x) = \frac{e^{-x}}{n}$ sur $] - \infty, 0]$ |
| <input type="checkbox"/> $f_n(x) = \frac{e^{-x}}{n}$ sur $]0; +\infty[$ | <input type="checkbox"/> $f_n(x) = nxe^{-nx}$ sur $[a; +\infty[$ avec $a \in]0; 1[$ |
| <input type="checkbox"/> $f_n(x) = nxe^{-nx}$ sur $[0; +\infty[$ | <input type="checkbox"/> $f_n(x) = nxe^{-nx}$ sur $[1; 2]$ |



<input type="checkbox"/>	0	<input type="checkbox"/>	0	<input type="checkbox"/>	0	<input type="checkbox"/>	0	<input type="checkbox"/>	0	<input type="checkbox"/>	0	<input type="checkbox"/>	0	<input type="checkbox"/>	0	<input type="checkbox"/>	0
<input type="checkbox"/>	1	<input type="checkbox"/>	1	<input type="checkbox"/>	1	<input type="checkbox"/>	1	<input type="checkbox"/>	1	<input type="checkbox"/>	1	<input type="checkbox"/>	1	<input type="checkbox"/>	1	<input type="checkbox"/>	1
<input type="checkbox"/>	2	<input type="checkbox"/>	2	<input type="checkbox"/>	2	<input type="checkbox"/>	2	<input type="checkbox"/>	2	<input type="checkbox"/>	2	<input type="checkbox"/>	2	<input type="checkbox"/>	2	<input type="checkbox"/>	2
<input type="checkbox"/>	3	<input type="checkbox"/>	3	<input type="checkbox"/>	3	<input type="checkbox"/>	3	<input type="checkbox"/>	3	<input type="checkbox"/>	3	<input type="checkbox"/>	3	<input type="checkbox"/>	3	<input type="checkbox"/>	3
<input type="checkbox"/>	4	<input type="checkbox"/>	4	<input type="checkbox"/>	4	<input type="checkbox"/>	4	<input type="checkbox"/>	4	<input type="checkbox"/>	4	<input type="checkbox"/>	4	<input type="checkbox"/>	4	<input type="checkbox"/>	4
<input type="checkbox"/>	5	<input type="checkbox"/>	5	<input type="checkbox"/>	5	<input type="checkbox"/>	5	<input type="checkbox"/>	5	<input type="checkbox"/>	5	<input type="checkbox"/>	5	<input type="checkbox"/>	5	<input type="checkbox"/>	5
<input type="checkbox"/>	6	<input type="checkbox"/>	6	<input type="checkbox"/>	6	<input type="checkbox"/>	6	<input type="checkbox"/>	6	<input type="checkbox"/>	6	<input type="checkbox"/>	6	<input type="checkbox"/>	6	<input type="checkbox"/>	6
<input type="checkbox"/>	7	<input type="checkbox"/>	7	<input type="checkbox"/>	7	<input type="checkbox"/>	7	<input type="checkbox"/>	7	<input type="checkbox"/>	7	<input type="checkbox"/>	7	<input type="checkbox"/>	7	<input type="checkbox"/>	7
<input type="checkbox"/>	8	<input type="checkbox"/>	8	<input type="checkbox"/>	8	<input type="checkbox"/>	8	<input type="checkbox"/>	8	<input type="checkbox"/>	8	<input type="checkbox"/>	8	<input type="checkbox"/>	8	<input type="checkbox"/>	8
<input type="checkbox"/>	9	<input type="checkbox"/>	9	<input type="checkbox"/>	9	<input type="checkbox"/>	9	<input type="checkbox"/>	9	<input type="checkbox"/>	9	<input type="checkbox"/>	9	<input type="checkbox"/>	9	<input type="checkbox"/>	9

QCM3L Suites de Fonctions Préing2

← codez votre numéro d'étudiant ci-contre, et inscrivez votre nom et prénom ci-dessous (le NOM d'abord!).

Nom et prénom :

.....

.....

Les cases doivent être complètement noircies avec un stylo NOIR.

Question 1 ♣

Choisir les suites de fonctions $(f_n)_{n \geq 0}$ qui convergent uniformément vers leur limite simple:

- | | |
|---|--|
| <input type="checkbox"/> $f_n(x) = nxe^{-nx}$ sur $[0; +\infty[$ | <input type="checkbox"/> $f_n(x) = nxe^{-nx}$ sur $[1; 2]$ |
| <input type="checkbox"/> $f_n(x) = \frac{e^{-x}}{n}$ sur $] - \infty, 0]$ | <input type="checkbox"/> $f_n(x) = nxe^{-nx}$ sur $[a; +\infty[$ avec $a \in]0; 1[$ |
| <input type="checkbox"/> $f_n(x) = nxe^{-nx}$ sur $[0; 1[$ | <input type="checkbox"/> $f_n(x) = \frac{e^{-x}}{n}$ sur $]0; +\infty[$ |

Question 2 ♣

On définit la suite de fonctions $f_n(x) = \frac{e^{-nx}}{1+x}$. Alors, la suite $(f_n)_{n \geq 0}$

- converge uniformément sur $[1, +\infty[$ et la fonction limite est continue
- converge uniformément sur $[0, 1]$ et la fonction limite est continue
- converge uniformément sur $[0, +\infty[$

Question 3 ♣

Soit $(f_n)_{n \geq 0}$ une suite de fonctions définies par $f_n(x) = x^n \ln(x)$ pour $x \in]0, 1]$ et $f_n(0) = 0$. Alors

- $(f_n)_{n \geq 0}$ converge uniformément sur $[0, a]$ ($a \in]0, 1[$)
- $(f_n)_{n \geq 0}$ converge uniformément sur $[0, 1]$
- $(f_n)_{n \geq 0}$ converge uniformément sur $[a, 1]$ ($a \in]0, 1[$)

Question 4 ♣

Soit $(f_n)_{n \geq 0}$ une suite de fonctions définies sur un intervalle $I \subset \mathbb{R}$ à valeur dans \mathbb{R} . Quelles les conditions nécessaires pour appliquer le théorème d'interversion limites-dérivations?

- La suite de fonctions (f'_n) converge uniformément sur I vers une fonction g .
- Pour tout $n \in \mathbb{N}$, les fonctions f_n sont de classe C^1 sur I .
- $\exists x_0 \in I$, tel que la suite numérique $(f_n(x_0))_{n \geq 0}$ converge.
- La suite de fonctions (f_n) converge uniformément sur I vers une fonction f continue.
- $\forall x_0 \in I$, la suite $(f_n(x_0))_{n \geq 0}$ converge.



<input type="checkbox"/> 0	<input type="checkbox"/> 0	<input type="checkbox"/> 0	<input type="checkbox"/> 0	<input type="checkbox"/> 0	<input type="checkbox"/> 0	<input type="checkbox"/> 0	<input type="checkbox"/> 0
<input type="checkbox"/> 1	<input type="checkbox"/> 1	<input type="checkbox"/> 1	<input type="checkbox"/> 1	<input type="checkbox"/> 1	<input type="checkbox"/> 1	<input type="checkbox"/> 1	<input type="checkbox"/> 1
<input type="checkbox"/> 2	<input type="checkbox"/> 2	<input type="checkbox"/> 2	<input type="checkbox"/> 2	<input type="checkbox"/> 2	<input type="checkbox"/> 2	<input type="checkbox"/> 2	<input type="checkbox"/> 2
<input type="checkbox"/> 3	<input type="checkbox"/> 3	<input type="checkbox"/> 3	<input type="checkbox"/> 3	<input type="checkbox"/> 3	<input type="checkbox"/> 3	<input type="checkbox"/> 3	<input type="checkbox"/> 3
<input type="checkbox"/> 4	<input type="checkbox"/> 4	<input type="checkbox"/> 4	<input type="checkbox"/> 4	<input type="checkbox"/> 4	<input type="checkbox"/> 4	<input type="checkbox"/> 4	<input type="checkbox"/> 4
<input type="checkbox"/> 5	<input type="checkbox"/> 5	<input type="checkbox"/> 5	<input type="checkbox"/> 5	<input type="checkbox"/> 5	<input type="checkbox"/> 5	<input type="checkbox"/> 5	<input type="checkbox"/> 5
<input type="checkbox"/> 6	<input type="checkbox"/> 6	<input type="checkbox"/> 6	<input type="checkbox"/> 6	<input type="checkbox"/> 6	<input type="checkbox"/> 6	<input type="checkbox"/> 6	<input type="checkbox"/> 6
<input type="checkbox"/> 7	<input type="checkbox"/> 7	<input type="checkbox"/> 7	<input type="checkbox"/> 7	<input type="checkbox"/> 7	<input type="checkbox"/> 7	<input type="checkbox"/> 7	<input type="checkbox"/> 7
<input type="checkbox"/> 8	<input type="checkbox"/> 8	<input type="checkbox"/> 8	<input type="checkbox"/> 8	<input type="checkbox"/> 8	<input type="checkbox"/> 8	<input type="checkbox"/> 8	<input type="checkbox"/> 8
<input type="checkbox"/> 9	<input type="checkbox"/> 9	<input type="checkbox"/> 9	<input type="checkbox"/> 9	<input type="checkbox"/> 9	<input type="checkbox"/> 9	<input type="checkbox"/> 9	<input type="checkbox"/> 9

QCM3L Suites de Fonctions Préing2

← codez votre numéro d'étudiant ci-contre, et inscrivez votre nom et prénom ci-dessous (le NOM d'abord!).

Nom et prénom :

.....

.....

Les cases doivent être complètement noircies avec un stylo NOIR.

Question 1 ♣

Choisir les suites de fonctions $(f_n)_{n \geq 0}$ qui convergent uniformément vers leur limite simple:

- | | |
|---|--|
| <input type="checkbox"/> $f_n(x) = nxe^{-nx}$ sur $[1; 2]$ | <input type="checkbox"/> $f_n(x) = nxe^{-nx}$ sur $[a; +\infty[$ avec $a \in]0; 1[$ |
| <input type="checkbox"/> $f_n(x) = \frac{e^{-x}}{n}$ sur $] - \infty, 0]$ | <input type="checkbox"/> $f_n(x) = \frac{e^{-x}}{n}$ sur $]0; +\infty[$ |
| <input type="checkbox"/> $f_n(x) = nxe^{-nx}$ sur $[0; +\infty[$ | <input type="checkbox"/> $f_n(x) = nxe^{-nx}$ sur $[0; 1[$ |

Question 2 ♣

Soit $(f_n)_{n \geq 0}$ une suite de fonctions définies par $f_n(x) = x^n \ln(x)$ pour $x \in]0, 1]$ et $f_n(0) = 0$. Alors

- $(f_n)_{n \geq 0}$ converge uniformément sur $[a, 1]$ ($a \in]0, 1[$)
- $(f_n)_{n \geq 0}$ converge uniformément sur $[0, a]$ ($a \in]0, 1[$)
- $(f_n)_{n \geq 0}$ converge uniformément sur $[0, 1]$

Question 3 ♣

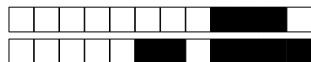
On définit la suite de fonctions $f_n(x) = \frac{e^{-nx}}{1+x}$. Alors, la suite $(f_n)_{n \geq 0}$

- converge uniformément sur $[1, +\infty[$ et la fonction limite est continue
- converge uniformément sur $[0, 1]$ et la fonction limite est continue
- converge uniformément sur $[0, +\infty[$

Question 4 ♣

Soit $(f_n)_{n \geq 0}$ une suite de fonctions définies sur un intervalle $I \subset \mathbb{R}$ à valeur dans \mathbb{R} . Quelles les conditions nécessaires pour appliquer le théorème d'interversion limites-dérivations?

- Pour tout $n \in \mathbb{N}$, les fonctions f_n sont de classe C^1 sur I .
- $\exists x_0 \in I$, tel que la suite numérique $(f_n(x_0))_{n \geq 0}$ converge.
- La suite de fonctions (f_n) converge uniformément sur I vers une fonction f continue.
- $\forall x_0 \in I$, la suite $(f_n(x_0))_{n \geq 0}$ converge.
- La suite de fonctions (f'_n) converge uniformément sur I vers une fonction g .



<input type="checkbox"/>	0	<input type="checkbox"/>	0	<input type="checkbox"/>	0	<input type="checkbox"/>	0	<input type="checkbox"/>	0	<input type="checkbox"/>	0	<input type="checkbox"/>	0	<input type="checkbox"/>	0	<input type="checkbox"/>	0
<input type="checkbox"/>	1	<input type="checkbox"/>	1	<input type="checkbox"/>	1	<input type="checkbox"/>	1	<input type="checkbox"/>	1	<input type="checkbox"/>	1	<input type="checkbox"/>	1	<input type="checkbox"/>	1	<input type="checkbox"/>	1
<input type="checkbox"/>	2	<input type="checkbox"/>	2	<input type="checkbox"/>	2	<input type="checkbox"/>	2	<input type="checkbox"/>	2	<input type="checkbox"/>	2	<input type="checkbox"/>	2	<input type="checkbox"/>	2	<input type="checkbox"/>	2
<input type="checkbox"/>	3	<input type="checkbox"/>	3	<input type="checkbox"/>	3	<input type="checkbox"/>	3	<input type="checkbox"/>	3	<input type="checkbox"/>	3	<input type="checkbox"/>	3	<input type="checkbox"/>	3	<input type="checkbox"/>	3
<input type="checkbox"/>	4	<input type="checkbox"/>	4	<input type="checkbox"/>	4	<input type="checkbox"/>	4	<input type="checkbox"/>	4	<input type="checkbox"/>	4	<input type="checkbox"/>	4	<input type="checkbox"/>	4	<input type="checkbox"/>	4
<input type="checkbox"/>	5	<input type="checkbox"/>	5	<input type="checkbox"/>	5	<input type="checkbox"/>	5	<input type="checkbox"/>	5	<input type="checkbox"/>	5	<input type="checkbox"/>	5	<input type="checkbox"/>	5	<input type="checkbox"/>	5
<input type="checkbox"/>	6	<input type="checkbox"/>	6	<input type="checkbox"/>	6	<input type="checkbox"/>	6	<input type="checkbox"/>	6	<input type="checkbox"/>	6	<input type="checkbox"/>	6	<input type="checkbox"/>	6	<input type="checkbox"/>	6
<input type="checkbox"/>	7	<input type="checkbox"/>	7	<input type="checkbox"/>	7	<input type="checkbox"/>	7	<input type="checkbox"/>	7	<input type="checkbox"/>	7	<input type="checkbox"/>	7	<input type="checkbox"/>	7	<input type="checkbox"/>	7
<input type="checkbox"/>	8	<input type="checkbox"/>	8	<input type="checkbox"/>	8	<input type="checkbox"/>	8	<input type="checkbox"/>	8	<input type="checkbox"/>	8	<input type="checkbox"/>	8	<input type="checkbox"/>	8	<input type="checkbox"/>	8
<input type="checkbox"/>	9	<input type="checkbox"/>	9	<input type="checkbox"/>	9	<input type="checkbox"/>	9	<input type="checkbox"/>	9	<input type="checkbox"/>	9	<input type="checkbox"/>	9	<input type="checkbox"/>	9	<input type="checkbox"/>	9

QCM3L Suites de Fonctions Préing2

← codez votre numéro d'étudiant ci-contre, et inscrivez votre nom et prénom ci-dessous (le NOM d'abord!).

Nom et prénom :

.....

.....

Les cases doivent être complètement noircies avec un stylo NOIR.

Question 1 ♣

On définit la suite de fonctions $f_n(x) = \frac{e^{-nx}}{1+x}$. Alors, la suite $(f_n)_{n \geq 0}$

- converge uniformément sur $[0, 1]$ et la fonction limite est continue
- converge uniformément sur $[0, +\infty[$
- converge uniformément sur $[1, +\infty[$ et la fonction limite est continue

Question 2 ♣

Soit $(f_n)_{n \geq 0}$ une suite de fonctions définies par $f_n(x) = x^n \ln(x)$ pour $x \in]0, 1]$ et $f_n(0) = 0$. Alors

- $(f_n)_{n \geq 0}$ converge uniformément sur $[a, 1]$ ($a \in]0, 1[$)
- $(f_n)_{n \geq 0}$ converge uniformément sur $[0, 1]$
- $(f_n)_{n \geq 0}$ converge uniformément sur $[0, a]$ ($a \in]0, 1[$)

Question 3 ♣

Soit $(f_n)_{n \geq 0}$ une suite de fonctions définies sur un intervalle $I \subset \mathbb{R}$ à valeur dans \mathbb{R} . Quelles les conditions nécessaires pour appliquer le théorème d'interversion limites-dérivations?

- $\exists x_0 \in I$, tel que la suite numérique $(f_n(x_0))_{n \geq 0}$ converge.
- $\forall x_0 \in I$, la suite $(f_n(x_0))_{n \geq 0}$ converge.
- Pour tout $n \in \mathbb{N}$, les fonctions f_n sont de classe C^1 sur I .
- La suite de fonctions (f'_n) converge uniformément sur I vers une fonction g .
- La suite de fonctions (f_n) converge uniformément sur I vers une fonction f continue.

Question 4 ♣

Choisir les suites de fonctions $(f_n)_{n \geq 0}$ qui convergent uniformément vers leur limite simple:

- | | |
|--|--|
| <input type="checkbox"/> $f_n(x) = \frac{e^{-x}}{n}$ sur $]0; +\infty[$ | <input type="checkbox"/> $f_n(x) = \frac{e^{-x}}{n}$ sur $] -\infty, 0]$ |
| <input type="checkbox"/> $f_n(x) = nxe^{-nx}$ sur $[a; +\infty[$ avec $a \in]0; 1[$ | <input type="checkbox"/> $f_n(x) = nxe^{-nx}$ sur $[0; 1[$ |
| <input type="checkbox"/> $f_n(x) = nxe^{-nx}$ sur $[0; +\infty[$ | <input type="checkbox"/> $f_n(x) = nxe^{-nx}$ sur $[1; 2]$ |



<input type="checkbox"/>	0	<input type="checkbox"/>	0	<input type="checkbox"/>	0	<input type="checkbox"/>	0	<input type="checkbox"/>	0	<input type="checkbox"/>	0	<input type="checkbox"/>	0	<input type="checkbox"/>	0	<input type="checkbox"/>	0
<input type="checkbox"/>	1	<input type="checkbox"/>	1	<input type="checkbox"/>	1	<input type="checkbox"/>	1	<input type="checkbox"/>	1	<input type="checkbox"/>	1	<input type="checkbox"/>	1	<input type="checkbox"/>	1	<input type="checkbox"/>	1
<input type="checkbox"/>	2	<input type="checkbox"/>	2	<input type="checkbox"/>	2	<input type="checkbox"/>	2	<input type="checkbox"/>	2	<input type="checkbox"/>	2	<input type="checkbox"/>	2	<input type="checkbox"/>	2	<input type="checkbox"/>	2
<input type="checkbox"/>	3	<input type="checkbox"/>	3	<input type="checkbox"/>	3	<input type="checkbox"/>	3	<input type="checkbox"/>	3	<input type="checkbox"/>	3	<input type="checkbox"/>	3	<input type="checkbox"/>	3	<input type="checkbox"/>	3
<input type="checkbox"/>	4	<input type="checkbox"/>	4	<input type="checkbox"/>	4	<input type="checkbox"/>	4	<input type="checkbox"/>	4	<input type="checkbox"/>	4	<input type="checkbox"/>	4	<input type="checkbox"/>	4	<input type="checkbox"/>	4
<input type="checkbox"/>	5	<input type="checkbox"/>	5	<input type="checkbox"/>	5	<input type="checkbox"/>	5	<input type="checkbox"/>	5	<input type="checkbox"/>	5	<input type="checkbox"/>	5	<input type="checkbox"/>	5	<input type="checkbox"/>	5
<input type="checkbox"/>	6	<input type="checkbox"/>	6	<input type="checkbox"/>	6	<input type="checkbox"/>	6	<input type="checkbox"/>	6	<input type="checkbox"/>	6	<input type="checkbox"/>	6	<input type="checkbox"/>	6	<input type="checkbox"/>	6
<input type="checkbox"/>	7	<input type="checkbox"/>	7	<input type="checkbox"/>	7	<input type="checkbox"/>	7	<input type="checkbox"/>	7	<input type="checkbox"/>	7	<input type="checkbox"/>	7	<input type="checkbox"/>	7	<input type="checkbox"/>	7
<input type="checkbox"/>	8	<input type="checkbox"/>	8	<input type="checkbox"/>	8	<input type="checkbox"/>	8	<input type="checkbox"/>	8	<input type="checkbox"/>	8	<input type="checkbox"/>	8	<input type="checkbox"/>	8	<input type="checkbox"/>	8
<input type="checkbox"/>	9	<input type="checkbox"/>	9	<input type="checkbox"/>	9	<input type="checkbox"/>	9	<input type="checkbox"/>	9	<input type="checkbox"/>	9	<input type="checkbox"/>	9	<input type="checkbox"/>	9	<input type="checkbox"/>	9

QCM3L Suites de Fonctions Préing2

← codez votre numéro d'étudiant ci-contre, et inscrivez votre nom et prénom ci-dessous (le NOM d'abord!).

Nom et prénom :

.....

.....

Les cases doivent être complètement noircies avec un stylo NOIR.

Question 1 ♣

Soit $(f_n)_{n \geq 0}$ une suite de fonctions définies sur un intervalle $I \subset \mathbb{R}$ à valeur dans \mathbb{R} . Quelles les conditions nécessaires pour appliquer le théorème d'interversion limites-dérivations?

- La suite de fonctions (f_n) converge uniformément sur I vers une fonction f continue.
- $\forall x_0 \in I$, la suite $(f_n(x_0))_{n \geq 0}$ converge.
- Pour tout $n \in \mathbb{N}$, les fonctions f_n sont de classe C^1 sur I.
- La suite de fonctions (f'_n) converge uniformément sur I vers une fonction g .
- $\exists x_0 \in I$, tel que la suite numérique $(f_n(x_0))_{n \geq 0}$ converge.

Question 2 ♣

On définit la suite de fonctions $f_n(x) = \frac{e^{-nx}}{1+x}$. Alors, la suite $(f_n)_{n \geq 0}$

- converge uniformément sur $[1, +\infty[$ et la fonction limite est continue
- converge uniformément sur $[0, +\infty[$
- converge uniformément sur $[0, 1]$ et la fonction limite est continue

Question 3 ♣

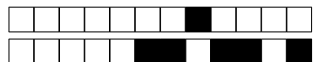
Choisir les suites de fonctions $(f_n)_{n \geq 0}$ qui convergent uniformément vers leur limite simple:

- | | |
|--|--|
| <input type="checkbox"/> $f_n(x) = \frac{e^{-x}}{n}$ sur $] -\infty, 0]$ | <input type="checkbox"/> $f_n(x) = nxe^{-nx}$ sur $[a; +\infty[$ avec $a \in]0; 1[$ |
| <input type="checkbox"/> $f_n(x) = nxe^{-nx}$ sur $[0; 1[$ | <input type="checkbox"/> $f_n(x) = nxe^{-nx}$ sur $[1; 2]$ |
| <input type="checkbox"/> $f_n(x) = \frac{e^{-x}}{n}$ sur $]0; +\infty[$ | <input type="checkbox"/> $f_n(x) = nxe^{-nx}$ sur $[0; +\infty[$ |

Question 4 ♣

Soit $(f_n)_{n \geq 0}$ une suite de fonctions définies par $f_n(x) = x^n \ln(x)$ pour $x \in]0, 1]$ et $f_n(0) = 0$. Alors

- $(f_n)_{n \geq 0}$ converge uniformément sur $[0, 1]$
- $(f_n)_{n \geq 0}$ converge uniformément sur $[a, 1]$ ($a \in]0, 1[$)
- $(f_n)_{n \geq 0}$ converge uniformément sur $[0, a]$ ($a \in]0, 1[$)



<input type="checkbox"/> 0	<input type="checkbox"/> 0	<input type="checkbox"/> 0	<input type="checkbox"/> 0	<input type="checkbox"/> 0	<input type="checkbox"/> 0	<input type="checkbox"/> 0	<input type="checkbox"/> 0
<input type="checkbox"/> 1	<input type="checkbox"/> 1	<input type="checkbox"/> 1	<input type="checkbox"/> 1	<input type="checkbox"/> 1	<input type="checkbox"/> 1	<input type="checkbox"/> 1	<input type="checkbox"/> 1
<input type="checkbox"/> 2	<input type="checkbox"/> 2	<input type="checkbox"/> 2	<input type="checkbox"/> 2	<input type="checkbox"/> 2	<input type="checkbox"/> 2	<input type="checkbox"/> 2	<input type="checkbox"/> 2
<input type="checkbox"/> 3	<input type="checkbox"/> 3	<input type="checkbox"/> 3	<input type="checkbox"/> 3	<input type="checkbox"/> 3	<input type="checkbox"/> 3	<input type="checkbox"/> 3	<input type="checkbox"/> 3
<input type="checkbox"/> 4	<input type="checkbox"/> 4	<input type="checkbox"/> 4	<input type="checkbox"/> 4	<input type="checkbox"/> 4	<input type="checkbox"/> 4	<input type="checkbox"/> 4	<input type="checkbox"/> 4
<input type="checkbox"/> 5	<input type="checkbox"/> 5	<input type="checkbox"/> 5	<input type="checkbox"/> 5	<input type="checkbox"/> 5	<input type="checkbox"/> 5	<input type="checkbox"/> 5	<input type="checkbox"/> 5
<input type="checkbox"/> 6	<input type="checkbox"/> 6	<input type="checkbox"/> 6	<input type="checkbox"/> 6	<input type="checkbox"/> 6	<input type="checkbox"/> 6	<input type="checkbox"/> 6	<input type="checkbox"/> 6
<input type="checkbox"/> 7	<input type="checkbox"/> 7	<input type="checkbox"/> 7	<input type="checkbox"/> 7	<input type="checkbox"/> 7	<input type="checkbox"/> 7	<input type="checkbox"/> 7	<input type="checkbox"/> 7
<input type="checkbox"/> 8	<input type="checkbox"/> 8	<input type="checkbox"/> 8	<input type="checkbox"/> 8	<input type="checkbox"/> 8	<input type="checkbox"/> 8	<input type="checkbox"/> 8	<input type="checkbox"/> 8
<input type="checkbox"/> 9	<input type="checkbox"/> 9	<input type="checkbox"/> 9	<input type="checkbox"/> 9	<input type="checkbox"/> 9	<input type="checkbox"/> 9	<input type="checkbox"/> 9	<input type="checkbox"/> 9

QCM3L Suites de Fonctions Préing2

← codez votre numéro d'étudiant ci-contre, et inscrivez votre nom et prénom ci-dessous (le NOM d'abord!).

Nom et prénom :

.....

.....

Les cases doivent être complètement noircies avec un stylo NOIR.

Question 1 ♣

On définit la suite de fonctions $f_n(x) = \frac{e^{-nx}}{1+x}$. Alors, la suite $(f_n)_{n \geq 0}$

- converge uniformément sur $[0, +\infty[$
- converge uniformément sur $[0, 1]$ et la fonction limite est continue
- converge uniformément sur $[1, +\infty[$ et la fonction limite est continue

Question 2 ♣

Choisir les suites de fonctions $(f_n)_{n \geq 0}$ qui convergent uniformément vers leur limite simple:

- | | |
|--|--|
| <input type="checkbox"/> $f_n(x) = nxe^{-nx}$ sur $[a; +\infty[$ avec $a \in]0; 1[$ | <input type="checkbox"/> $f_n(x) = nxe^{-nx}$ sur $[1; 2]$ |
| <input type="checkbox"/> $f_n(x) = \frac{e^{-x}}{n}$ sur $] -\infty, 0]$ | <input type="checkbox"/> $f_n(x) = nxe^{-nx}$ sur $[0; +\infty[$ |
| <input type="checkbox"/> $f_n(x) = \frac{e^{-x}}{n}$ sur $]0; +\infty[$ | <input type="checkbox"/> $f_n(x) = nxe^{-nx}$ sur $[0; 1[$ |

Question 3 ♣

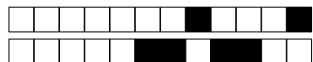
Soit $(f_n)_{n \geq 0}$ une suite de fonctions définies par $f_n(x) = x^n \ln(x)$ pour $x \in]0, 1]$ et $f_n(0) = 0$. Alors

- $(f_n)_{n \geq 0}$ converge uniformément sur $[a, 1]$ ($a \in]0, 1[$)
- $(f_n)_{n \geq 0}$ converge uniformément sur $[0, a]$ ($a \in]0, 1[$)
- $(f_n)_{n \geq 0}$ converge uniformément sur $[0, 1]$

Question 4 ♣

Soit $(f_n)_{n \geq 0}$ une suite de fonctions définies sur un intervalle $I \subset \mathbb{R}$ à valeur dans \mathbb{R} . Quelles les conditions nécessaires pour appliquer le théorème d'interversion limites-dérivations?

- $\forall x_0 \in I$, la suite $(f_n(x_0))_{n \geq 0}$ converge.
- $\exists x_0 \in I$, tel que la suite numérique $(f_n(x_0))_{n \geq 0}$ converge.
- La suite de fonctions (f'_n) converge uniformément sur I vers une fonction g .
- Pour tout $n \in \mathbb{N}$, les fonctions f_n sont de classe C^1 sur I.
- La suite de fonctions (f_n) converge uniformément sur I vers une fonction f continue.



<input type="checkbox"/>	0	<input type="checkbox"/>	0	<input type="checkbox"/>	0	<input type="checkbox"/>	0	<input type="checkbox"/>	0	<input type="checkbox"/>	0	<input type="checkbox"/>	0	<input type="checkbox"/>	0	<input type="checkbox"/>	0
<input type="checkbox"/>	1	<input type="checkbox"/>	1	<input type="checkbox"/>	1	<input type="checkbox"/>	1	<input type="checkbox"/>	1	<input type="checkbox"/>	1	<input type="checkbox"/>	1	<input type="checkbox"/>	1	<input type="checkbox"/>	1
<input type="checkbox"/>	2	<input type="checkbox"/>	2	<input type="checkbox"/>	2	<input type="checkbox"/>	2	<input type="checkbox"/>	2	<input type="checkbox"/>	2	<input type="checkbox"/>	2	<input type="checkbox"/>	2	<input type="checkbox"/>	2
<input type="checkbox"/>	3	<input type="checkbox"/>	3	<input type="checkbox"/>	3	<input type="checkbox"/>	3	<input type="checkbox"/>	3	<input type="checkbox"/>	3	<input type="checkbox"/>	3	<input type="checkbox"/>	3	<input type="checkbox"/>	3
<input type="checkbox"/>	4	<input type="checkbox"/>	4	<input type="checkbox"/>	4	<input type="checkbox"/>	4	<input type="checkbox"/>	4	<input type="checkbox"/>	4	<input type="checkbox"/>	4	<input type="checkbox"/>	4	<input type="checkbox"/>	4
<input type="checkbox"/>	5	<input type="checkbox"/>	5	<input type="checkbox"/>	5	<input type="checkbox"/>	5	<input type="checkbox"/>	5	<input type="checkbox"/>	5	<input type="checkbox"/>	5	<input type="checkbox"/>	5	<input type="checkbox"/>	5
<input type="checkbox"/>	6	<input type="checkbox"/>	6	<input type="checkbox"/>	6	<input type="checkbox"/>	6	<input type="checkbox"/>	6	<input type="checkbox"/>	6	<input type="checkbox"/>	6	<input type="checkbox"/>	6	<input type="checkbox"/>	6
<input type="checkbox"/>	7	<input type="checkbox"/>	7	<input type="checkbox"/>	7	<input type="checkbox"/>	7	<input type="checkbox"/>	7	<input type="checkbox"/>	7	<input type="checkbox"/>	7	<input type="checkbox"/>	7	<input type="checkbox"/>	7
<input type="checkbox"/>	8	<input type="checkbox"/>	8	<input type="checkbox"/>	8	<input type="checkbox"/>	8	<input type="checkbox"/>	8	<input type="checkbox"/>	8	<input type="checkbox"/>	8	<input type="checkbox"/>	8	<input type="checkbox"/>	8
<input type="checkbox"/>	9	<input type="checkbox"/>	9	<input type="checkbox"/>	9	<input type="checkbox"/>	9	<input type="checkbox"/>	9	<input type="checkbox"/>	9	<input type="checkbox"/>	9	<input type="checkbox"/>	9	<input type="checkbox"/>	9

QCM3L Suites de Fonctions Préing2

← codez votre numéro d'étudiant ci-contre, et inscrivez votre nom et prénom ci-dessous (le NOM d'abord!).

Nom et prénom :

.....

.....

Les cases doivent être complètement noircies avec un stylo NOIR.

Question 1 ♣

On définit la suite de fonctions $f_n(x) = \frac{e^{-nx}}{1+x}$. Alors, la suite $(f_n)_{n \geq 0}$

- converge uniformément sur $[0, +\infty[$
- converge uniformément sur $[1, +\infty[$ et la fonction limite est continue
- converge uniformément sur $[0, 1]$ et la fonction limite est continue

Question 2 ♣

Choisir les suites de fonctions $(f_n)_{n \geq 0}$ qui convergent uniformément vers leur limite simple:

- $f_n(x) = \frac{e^{-x}}{n}$ sur $]0; +\infty[$
- $f_n(x) = \frac{e^{-x}}{n}$ sur $] - \infty, 0]$
- $f_n(x) = nxe^{-nx}$ sur $[a; +\infty[$ avec $a \in]0; 1[$
- $f_n(x) = nxe^{-nx}$ sur $[1; 2]$
- $f_n(x) = nxe^{-nx}$ sur $[0; 1[$
- $f_n(x) = nxe^{-nx}$ sur $[0; +\infty[$

Question 3 ♣

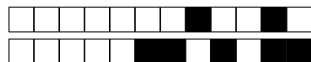
Soit $(f_n)_{n \geq 0}$ une suite de fonctions définies sur un intervalle $I \subset \mathbb{R}$ à valeur dans \mathbb{R} . Quelles les conditions nécessaires pour appliquer le théorème d'interversion limites-dérivations?

- La suite de fonctions (f'_n) converge uniformément sur I vers une fonction g .
- Pour tout $n \in \mathbb{N}$, les fonctions f_n sont de classe C^1 sur I.
- $\exists x_0 \in I$, tel que la suite numérique $(f_n(x_0))_{n \geq 0}$ converge.
- La suite de fonctions (f_n) converge uniformément sur I vers une fonction f continue.
- $\forall x_0 \in I$, la suite $(f_n(x_0))_{n \geq 0}$ converge.

Question 4 ♣

Soit $(f_n)_{n \geq 0}$ une suite de fonctions définies par $f_n(x) = x^n \ln(x)$ pour $x \in]0, 1]$ et $f_n(0) = 0$. Alors

- $(f_n)_{n \geq 0}$ converge uniformément sur $[0, 1]$
- $(f_n)_{n \geq 0}$ converge uniformément sur $[a, 1]$ ($a \in]0, 1[$)
- $(f_n)_{n \geq 0}$ converge uniformément sur $[0, a]$ ($a \in]0, 1[$)



<input type="checkbox"/>	0	<input type="checkbox"/>	0	<input type="checkbox"/>	0	<input type="checkbox"/>	0	<input type="checkbox"/>	0	<input type="checkbox"/>	0	<input type="checkbox"/>	0
<input type="checkbox"/>	1	<input type="checkbox"/>	1	<input type="checkbox"/>	1	<input type="checkbox"/>	1	<input type="checkbox"/>	1	<input type="checkbox"/>	1	<input type="checkbox"/>	1
<input type="checkbox"/>	2	<input type="checkbox"/>	2	<input type="checkbox"/>	2	<input type="checkbox"/>	2	<input type="checkbox"/>	2	<input type="checkbox"/>	2	<input type="checkbox"/>	2
<input type="checkbox"/>	3	<input type="checkbox"/>	3	<input type="checkbox"/>	3	<input type="checkbox"/>	3	<input type="checkbox"/>	3	<input type="checkbox"/>	3	<input type="checkbox"/>	3
<input type="checkbox"/>	4	<input type="checkbox"/>	4	<input type="checkbox"/>	4	<input type="checkbox"/>	4	<input type="checkbox"/>	4	<input type="checkbox"/>	4	<input type="checkbox"/>	4
<input type="checkbox"/>	5	<input type="checkbox"/>	5	<input type="checkbox"/>	5	<input type="checkbox"/>	5	<input type="checkbox"/>	5	<input type="checkbox"/>	5	<input type="checkbox"/>	5
<input type="checkbox"/>	6	<input type="checkbox"/>	6	<input type="checkbox"/>	6	<input type="checkbox"/>	6	<input type="checkbox"/>	6	<input type="checkbox"/>	6	<input type="checkbox"/>	6
<input type="checkbox"/>	7	<input type="checkbox"/>	7	<input type="checkbox"/>	7	<input type="checkbox"/>	7	<input type="checkbox"/>	7	<input type="checkbox"/>	7	<input type="checkbox"/>	7
<input type="checkbox"/>	8	<input type="checkbox"/>	8	<input type="checkbox"/>	8	<input type="checkbox"/>	8	<input type="checkbox"/>	8	<input type="checkbox"/>	8	<input type="checkbox"/>	8
<input type="checkbox"/>	9	<input type="checkbox"/>	9	<input type="checkbox"/>	9	<input type="checkbox"/>	9	<input type="checkbox"/>	9	<input type="checkbox"/>	9	<input type="checkbox"/>	9

QCM3L Suites de Fonctions Préing2

← codez votre numéro d'étudiant ci-contre, et inscrivez votre nom et prénom ci-dessous (le NOM d'abord!).

Nom et prénom :

.....

.....

Les cases doivent être complètement noircies avec un stylo NOIR.

Question 1 ♣

On définit la suite de fonctions $f_n(x) = \frac{e^{-nx}}{1+x}$. Alors, la suite $(f_n)_{n \geq 0}$

- converge uniformément sur $[1, +\infty[$ et la fonction limite est continue
- converge uniformément sur $[0, 1]$ et la fonction limite est continue
- converge uniformément sur $[0, +\infty[$

Question 2 ♣

Soit $(f_n)_{n \geq 0}$ une suite de fonctions définies sur un intervalle $I \subset \mathbb{R}$ à valeur dans \mathbb{R} . Quelles les conditions nécessaires pour appliquer le théorème d'interversion limites-dérivations?

- La suite de fonctions (f'_n) converge uniformément sur I vers une fonction g .
- $\exists x_0 \in I$, tel que la suite numérique $(f_n(x_0))_{n \geq 0}$ converge.
- $\forall x_0 \in I$, la suite $(f_n(x_0))_{n \geq 0}$ converge.
- Pour tout $n \in \mathbb{N}$, les fonctions f_n sont de classe C^1 sur I.
- La suite de fonctions (f_n) converge uniformément sur I vers une fonction f continue.

Question 3 ♣

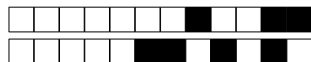
Choisir les suites de fonctions $(f_n)_{n \geq 0}$ qui convergent uniformément vers leur limite simple:

- | | |
|--|--|
| <input type="checkbox"/> $f_n(x) = nxe^{-nx}$ sur $]0; +\infty[$ | <input type="checkbox"/> $f_n(x) = \frac{e^{-x}}{n}$ sur $] -\infty, 0]$ |
| <input type="checkbox"/> $f_n(x) = \frac{e^{-x}}{n}$ sur $]0; +\infty[$ | <input type="checkbox"/> $f_n(x) = nxe^{-nx}$ sur $]0; 1[$ |
| <input type="checkbox"/> $f_n(x) = nxe^{-nx}$ sur $[a; +\infty[$ avec $a \in]0; 1[$ | <input type="checkbox"/> $f_n(x) = nxe^{-nx}$ sur $]1; 2]$ |

Question 4 ♣

Soit $(f_n)_{n \geq 0}$ une suite de fonctions définies par $f_n(x) = x^n \ln(x)$ pour $x \in]0, 1]$ et $f_n(0) = 0$. Alors

- $(f_n)_{n \geq 0}$ converge uniformément sur $[0, a]$ ($a \in]0, 1[$)
- $(f_n)_{n \geq 0}$ converge uniformément sur $[0, 1]$
- $(f_n)_{n \geq 0}$ converge uniformément sur $[a, 1]$ ($a \in]0, 1[$)



<input type="checkbox"/>	0	<input type="checkbox"/>	0	<input type="checkbox"/>	0	<input type="checkbox"/>	0	<input type="checkbox"/>	0	<input type="checkbox"/>	0	<input type="checkbox"/>	0	<input type="checkbox"/>	0	<input type="checkbox"/>	0
<input type="checkbox"/>	1	<input type="checkbox"/>	1	<input type="checkbox"/>	1	<input type="checkbox"/>	1	<input type="checkbox"/>	1	<input type="checkbox"/>	1	<input type="checkbox"/>	1	<input type="checkbox"/>	1	<input type="checkbox"/>	1
<input type="checkbox"/>	2	<input type="checkbox"/>	2	<input type="checkbox"/>	2	<input type="checkbox"/>	2	<input type="checkbox"/>	2	<input type="checkbox"/>	2	<input type="checkbox"/>	2	<input type="checkbox"/>	2	<input type="checkbox"/>	2
<input type="checkbox"/>	3	<input type="checkbox"/>	3	<input type="checkbox"/>	3	<input type="checkbox"/>	3	<input type="checkbox"/>	3	<input type="checkbox"/>	3	<input type="checkbox"/>	3	<input type="checkbox"/>	3	<input type="checkbox"/>	3
<input type="checkbox"/>	4	<input type="checkbox"/>	4	<input type="checkbox"/>	4	<input type="checkbox"/>	4	<input type="checkbox"/>	4	<input type="checkbox"/>	4	<input type="checkbox"/>	4	<input type="checkbox"/>	4	<input type="checkbox"/>	4
<input type="checkbox"/>	5	<input type="checkbox"/>	5	<input type="checkbox"/>	5	<input type="checkbox"/>	5	<input type="checkbox"/>	5	<input type="checkbox"/>	5	<input type="checkbox"/>	5	<input type="checkbox"/>	5	<input type="checkbox"/>	5
<input type="checkbox"/>	6	<input type="checkbox"/>	6	<input type="checkbox"/>	6	<input type="checkbox"/>	6	<input type="checkbox"/>	6	<input type="checkbox"/>	6	<input type="checkbox"/>	6	<input type="checkbox"/>	6	<input type="checkbox"/>	6
<input type="checkbox"/>	7	<input type="checkbox"/>	7	<input type="checkbox"/>	7	<input type="checkbox"/>	7	<input type="checkbox"/>	7	<input type="checkbox"/>	7	<input type="checkbox"/>	7	<input type="checkbox"/>	7	<input type="checkbox"/>	7
<input type="checkbox"/>	8	<input type="checkbox"/>	8	<input type="checkbox"/>	8	<input type="checkbox"/>	8	<input type="checkbox"/>	8	<input type="checkbox"/>	8	<input type="checkbox"/>	8	<input type="checkbox"/>	8	<input type="checkbox"/>	8
<input type="checkbox"/>	9	<input type="checkbox"/>	9	<input type="checkbox"/>	9	<input type="checkbox"/>	9	<input type="checkbox"/>	9	<input type="checkbox"/>	9	<input type="checkbox"/>	9	<input type="checkbox"/>	9	<input type="checkbox"/>	9

QCM3L Suites de Fonctions Préing2

← codez votre numéro d'étudiant ci-contre, et inscrivez votre nom et prénom ci-dessous (le NOM d'abord!).

Nom et prénom :

.....

.....

Les cases doivent être complètement noircies avec un stylo NOIR.

Question 1 ♣

Soit $(f_n)_{n \geq 0}$ une suite de fonctions définies par $f_n(x) = x^n \ln(x)$ pour $x \in]0, 1]$ et $f_n(0) = 0$. Alors

- $(f_n)_{n \geq 0}$ converge uniformément sur $[0, 1]$
- $(f_n)_{n \geq 0}$ converge uniformément sur $[a, 1]$ ($a \in]0, 1[$)
- $(f_n)_{n \geq 0}$ converge uniformément sur $[0, a]$ ($a \in]0, 1[$)

Question 2 ♣

On définit la suite de fonctions $f_n(x) = \frac{e^{-nx}}{1+x}$. Alors, la suite $(f_n)_{n \geq 0}$

- converge uniformément sur $[1, +\infty[$ et la fonction limite est continue
- converge uniformément sur $[0, 1]$ et la fonction limite est continue
- converge uniformément sur $[0, +\infty[$

Question 3 ♣

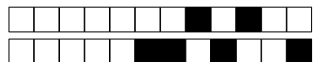
Soit $(f_n)_{n \geq 0}$ une suite de fonctions définies sur un intervalle $I \subset \mathbb{R}$ à valeur dans \mathbb{R} . Quelles les conditions nécessaires pour appliquer le théorème d'interversion limites-dérivations?

- $\exists x_0 \in I$, tel que la suite numérique $(f_n(x_0))_{n \geq 0}$ converge.
- $\forall x_0 \in I$, la suite $(f_n(x_0))_{n \geq 0}$ converge.
- La suite de fonctions (f'_n) converge uniformément sur I vers une fonction g .
- Pour tout $n \in \mathbb{N}$, les fonctions f_n sont de classe C^1 sur I.
- La suite de fonctions (f_n) converge uniformément sur I vers une fonction f continue.

Question 4 ♣

Choisir les suites de fonctions $(f_n)_{n \geq 0}$ qui convergent uniformément vers leur limite simple:

- | | |
|--|---|
| <input type="checkbox"/> $f_n(x) = nxe^{-nx}$ sur $[0; 1[$ | <input type="checkbox"/> $f_n(x) = nxe^{-nx}$ sur $[0; +\infty[$ |
| <input type="checkbox"/> $f_n(x) = nxe^{-nx}$ sur $[a; +\infty[$ avec $a \in]0; 1[$ | <input type="checkbox"/> $f_n(x) = \frac{e^{-x}}{n}$ sur $] - \infty, 0]$ |
| <input type="checkbox"/> $f_n(x) = \frac{e^{-x}}{n}$ sur $]0; +\infty[$ | <input type="checkbox"/> $f_n(x) = nxe^{-nx}$ sur $[1; 2]$ |



<input type="checkbox"/>	0	<input type="checkbox"/>	0	<input type="checkbox"/>	0	<input type="checkbox"/>	0	<input type="checkbox"/>	0	<input type="checkbox"/>	0	<input type="checkbox"/>	0	<input type="checkbox"/>	0	<input type="checkbox"/>	0
<input type="checkbox"/>	1	<input type="checkbox"/>	1	<input type="checkbox"/>	1	<input type="checkbox"/>	1	<input type="checkbox"/>	1	<input type="checkbox"/>	1	<input type="checkbox"/>	1	<input type="checkbox"/>	1	<input type="checkbox"/>	1
<input type="checkbox"/>	2	<input type="checkbox"/>	2	<input type="checkbox"/>	2	<input type="checkbox"/>	2	<input type="checkbox"/>	2	<input type="checkbox"/>	2	<input type="checkbox"/>	2	<input type="checkbox"/>	2	<input type="checkbox"/>	2
<input type="checkbox"/>	3	<input type="checkbox"/>	3	<input type="checkbox"/>	3	<input type="checkbox"/>	3	<input type="checkbox"/>	3	<input type="checkbox"/>	3	<input type="checkbox"/>	3	<input type="checkbox"/>	3	<input type="checkbox"/>	3
<input type="checkbox"/>	4	<input type="checkbox"/>	4	<input type="checkbox"/>	4	<input type="checkbox"/>	4	<input type="checkbox"/>	4	<input type="checkbox"/>	4	<input type="checkbox"/>	4	<input type="checkbox"/>	4	<input type="checkbox"/>	4
<input type="checkbox"/>	5	<input type="checkbox"/>	5	<input type="checkbox"/>	5	<input type="checkbox"/>	5	<input type="checkbox"/>	5	<input type="checkbox"/>	5	<input type="checkbox"/>	5	<input type="checkbox"/>	5	<input type="checkbox"/>	5
<input type="checkbox"/>	6	<input type="checkbox"/>	6	<input type="checkbox"/>	6	<input type="checkbox"/>	6	<input type="checkbox"/>	6	<input type="checkbox"/>	6	<input type="checkbox"/>	6	<input type="checkbox"/>	6	<input type="checkbox"/>	6
<input type="checkbox"/>	7	<input type="checkbox"/>	7	<input type="checkbox"/>	7	<input type="checkbox"/>	7	<input type="checkbox"/>	7	<input type="checkbox"/>	7	<input type="checkbox"/>	7	<input type="checkbox"/>	7	<input type="checkbox"/>	7
<input type="checkbox"/>	8	<input type="checkbox"/>	8	<input type="checkbox"/>	8	<input type="checkbox"/>	8	<input type="checkbox"/>	8	<input type="checkbox"/>	8	<input type="checkbox"/>	8	<input type="checkbox"/>	8	<input type="checkbox"/>	8
<input type="checkbox"/>	9	<input type="checkbox"/>	9	<input type="checkbox"/>	9	<input type="checkbox"/>	9	<input type="checkbox"/>	9	<input type="checkbox"/>	9	<input type="checkbox"/>	9	<input type="checkbox"/>	9	<input type="checkbox"/>	9

QCM3L Suites de Fonctions Préing2

← codez votre numéro d'étudiant ci-contre, et inscrivez votre nom et prénom ci-dessous (le NOM d'abord!).

Nom et prénom :
.....
.....

Les cases doivent être complètement noircies avec un stylo NOIR.

Question 1 ♣

Soit $(f_n)_{n \geq 0}$ une suite de fonctions définies par $f_n(x) = x^n \ln(x)$ pour $x \in]0, 1]$ et $f_n(0) = 0$. Alors

- $(f_n)_{n \geq 0}$ converge uniformément sur $[0, 1]$
- $(f_n)_{n \geq 0}$ converge uniformément sur $[0, a]$ ($a \in]0, 1[$)
- $(f_n)_{n \geq 0}$ converge uniformément sur $[a, 1]$ ($a \in]0, 1[$)

Question 2 ♣

Choisir les suites de fonctions $(f_n)_{n \geq 0}$ qui convergent uniformément vers leur limite simple:

- | | |
|--|---|
| <input type="checkbox"/> $f_n(x) = nxe^{-nx}$ sur $[a; +\infty[$ avec $a \in]0; 1[$ | <input type="checkbox"/> $f_n(x) = \frac{e^{-x}}{n}$ sur $]0; +\infty[$ |
| <input type="checkbox"/> $f_n(x) = nxe^{-nx}$ sur $[1; 2]$ | <input type="checkbox"/> $f_n(x) = nxe^{-nx}$ sur $[0; +\infty[$ |
| <input type="checkbox"/> $f_n(x) = \frac{e^{-x}}{n}$ sur $] - \infty, 0]$ | <input type="checkbox"/> $f_n(x) = nxe^{-nx}$ sur $[0; 1[$ |

Question 3 ♣

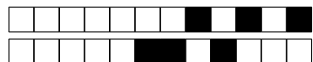
Soit $(f_n)_{n \geq 0}$ une suite de fonctions définies sur un intervalle $I \subset \mathbb{R}$ à valeur dans \mathbb{R} . Quelles les conditions nécessaires pour appliquer le théorème d'interversion limites-dérivations?

- $\exists x_0 \in I$, tel que la suite numérique $(f_n(x_0))_{n \geq 0}$ converge.
- La suite de fonctions (f'_n) converge uniformément sur I vers une fonction g .
- La suite de fonctions (f_n) converge uniformément sur I vers une fonction f continue.
- $\forall x_0 \in I$, la suite $(f_n(x_0))_{n \geq 0}$ converge.
- Pour tout $n \in \mathbb{N}$, les fonctions f_n sont de classe C^1 sur I .

Question 4 ♣

On définit la suite de fonctions $f_n(x) = \frac{e^{-nx}}{1+x}$. Alors, la suite $(f_n)_{n \geq 0}$

- converge uniformément sur $[1, +\infty[$ et la fonction limite est continue
- converge uniformément sur $[0, +\infty[$
- converge uniformément sur $[0, 1]$ et la fonction limite est continue



<input type="checkbox"/>	0	<input type="checkbox"/>	0	<input type="checkbox"/>	0	<input type="checkbox"/>	0	<input type="checkbox"/>	0	<input type="checkbox"/>	0	<input type="checkbox"/>	0	<input type="checkbox"/>	0	<input type="checkbox"/>	0
<input type="checkbox"/>	1	<input type="checkbox"/>	1	<input type="checkbox"/>	1	<input type="checkbox"/>	1	<input type="checkbox"/>	1	<input type="checkbox"/>	1	<input type="checkbox"/>	1	<input type="checkbox"/>	1	<input type="checkbox"/>	1
<input type="checkbox"/>	2	<input type="checkbox"/>	2	<input type="checkbox"/>	2	<input type="checkbox"/>	2	<input type="checkbox"/>	2	<input type="checkbox"/>	2	<input type="checkbox"/>	2	<input type="checkbox"/>	2	<input type="checkbox"/>	2
<input type="checkbox"/>	3	<input type="checkbox"/>	3	<input type="checkbox"/>	3	<input type="checkbox"/>	3	<input type="checkbox"/>	3	<input type="checkbox"/>	3	<input type="checkbox"/>	3	<input type="checkbox"/>	3	<input type="checkbox"/>	3
<input type="checkbox"/>	4	<input type="checkbox"/>	4	<input type="checkbox"/>	4	<input type="checkbox"/>	4	<input type="checkbox"/>	4	<input type="checkbox"/>	4	<input type="checkbox"/>	4	<input type="checkbox"/>	4	<input type="checkbox"/>	4
<input type="checkbox"/>	5	<input type="checkbox"/>	5	<input type="checkbox"/>	5	<input type="checkbox"/>	5	<input type="checkbox"/>	5	<input type="checkbox"/>	5	<input type="checkbox"/>	5	<input type="checkbox"/>	5	<input type="checkbox"/>	5
<input type="checkbox"/>	6	<input type="checkbox"/>	6	<input type="checkbox"/>	6	<input type="checkbox"/>	6	<input type="checkbox"/>	6	<input type="checkbox"/>	6	<input type="checkbox"/>	6	<input type="checkbox"/>	6	<input type="checkbox"/>	6
<input type="checkbox"/>	7	<input type="checkbox"/>	7	<input type="checkbox"/>	7	<input type="checkbox"/>	7	<input type="checkbox"/>	7	<input type="checkbox"/>	7	<input type="checkbox"/>	7	<input type="checkbox"/>	7	<input type="checkbox"/>	7
<input type="checkbox"/>	8	<input type="checkbox"/>	8	<input type="checkbox"/>	8	<input type="checkbox"/>	8	<input type="checkbox"/>	8	<input type="checkbox"/>	8	<input type="checkbox"/>	8	<input type="checkbox"/>	8	<input type="checkbox"/>	8
<input type="checkbox"/>	9	<input type="checkbox"/>	9	<input type="checkbox"/>	9	<input type="checkbox"/>	9	<input type="checkbox"/>	9	<input type="checkbox"/>	9	<input type="checkbox"/>	9	<input type="checkbox"/>	9	<input type="checkbox"/>	9

QCM3L Suites de Fonctions Préing2

← codez votre numéro d'étudiant ci-contre, et inscrivez votre nom et prénom ci-dessous (le NOM d'abord!).

Nom et prénom :

.....

.....

Les cases doivent être complètement noircies avec un stylo NOIR.

Question 1 ♣

On définit la suite de fonctions $f_n(x) = \frac{e^{-nx}}{1+x}$. Alors, la suite $(f_n)_{n \geq 0}$

- converge uniformément sur $[0, +\infty[$
- converge uniformément sur $[1, +\infty[$ et la fonction limite est continue
- converge uniformément sur $[0, 1]$ et la fonction limite est continue

Question 2 ♣

Choisir les suites de fonctions $(f_n)_{n \geq 0}$ qui convergent uniformément vers leur limite simple:

- | | |
|--|--|
| <input type="checkbox"/> $f_n(x) = nxe^{-nx}$ sur $]0; 1[$ | <input type="checkbox"/> $f_n(x) = nxe^{-nx}$ sur $[a; +\infty[$ avec $a \in]0; 1[$ |
| <input type="checkbox"/> $f_n(x) = \frac{e^{-x}}{n}$ sur $] -\infty, 0]$ | <input type="checkbox"/> $f_n(x) = nxe^{-nx}$ sur $[1; 2]$ |
| <input type="checkbox"/> $f_n(x) = nxe^{-nx}$ sur $]0; +\infty[$ | <input type="checkbox"/> $f_n(x) = \frac{e^{-x}}{n}$ sur $]0; +\infty[$ |

Question 3 ♣

Soit $(f_n)_{n \geq 0}$ une suite de fonctions définies par $f_n(x) = x^n \ln(x)$ pour $x \in]0, 1]$ et $f_n(0) = 0$. Alors

- $(f_n)_{n \geq 0}$ converge uniformément sur $[a, 1]$ ($a \in]0, 1[$)
- $(f_n)_{n \geq 0}$ converge uniformément sur $[0, 1]$
- $(f_n)_{n \geq 0}$ converge uniformément sur $[0, a]$ ($a \in]0, 1[$)

Question 4 ♣

Soit $(f_n)_{n \geq 0}$ une suite de fonctions définies sur un intervalle $I \subset \mathbb{R}$ à valeur dans \mathbb{R} . Quelles les conditions nécessaires pour appliquer le théorème d'interversion limites-dérivations?

- La suite de fonctions (f_n) converge uniformément sur I vers une fonction f continue.
- $\forall x_0 \in I$, la suite $(f_n(x_0))_{n \geq 0}$ converge.
- $\exists x_0 \in I$, tel que la suite numérique $(f_n(x_0))_{n \geq 0}$ converge.
- Pour tout $n \in \mathbb{N}$, les fonctions f_n sont de classe C^1 sur I .
- La suite de fonctions (f'_n) converge uniformément sur I vers une fonction g .



<input type="checkbox"/>	0	<input type="checkbox"/>	0	<input type="checkbox"/>	0	<input type="checkbox"/>	0	<input type="checkbox"/>	0	<input type="checkbox"/>	0	<input type="checkbox"/>	0	<input type="checkbox"/>	0	<input type="checkbox"/>	0
<input type="checkbox"/>	1	<input type="checkbox"/>	1	<input type="checkbox"/>	1	<input type="checkbox"/>	1	<input type="checkbox"/>	1	<input type="checkbox"/>	1	<input type="checkbox"/>	1	<input type="checkbox"/>	1	<input type="checkbox"/>	1
<input type="checkbox"/>	2	<input type="checkbox"/>	2	<input type="checkbox"/>	2	<input type="checkbox"/>	2	<input type="checkbox"/>	2	<input type="checkbox"/>	2	<input type="checkbox"/>	2	<input type="checkbox"/>	2	<input type="checkbox"/>	2
<input type="checkbox"/>	3	<input type="checkbox"/>	3	<input type="checkbox"/>	3	<input type="checkbox"/>	3	<input type="checkbox"/>	3	<input type="checkbox"/>	3	<input type="checkbox"/>	3	<input type="checkbox"/>	3	<input type="checkbox"/>	3
<input type="checkbox"/>	4	<input type="checkbox"/>	4	<input type="checkbox"/>	4	<input type="checkbox"/>	4	<input type="checkbox"/>	4	<input type="checkbox"/>	4	<input type="checkbox"/>	4	<input type="checkbox"/>	4	<input type="checkbox"/>	4
<input type="checkbox"/>	5	<input type="checkbox"/>	5	<input type="checkbox"/>	5	<input type="checkbox"/>	5	<input type="checkbox"/>	5	<input type="checkbox"/>	5	<input type="checkbox"/>	5	<input type="checkbox"/>	5	<input type="checkbox"/>	5
<input type="checkbox"/>	6	<input type="checkbox"/>	6	<input type="checkbox"/>	6	<input type="checkbox"/>	6	<input type="checkbox"/>	6	<input type="checkbox"/>	6	<input type="checkbox"/>	6	<input type="checkbox"/>	6	<input type="checkbox"/>	6
<input type="checkbox"/>	7	<input type="checkbox"/>	7	<input type="checkbox"/>	7	<input type="checkbox"/>	7	<input type="checkbox"/>	7	<input type="checkbox"/>	7	<input type="checkbox"/>	7	<input type="checkbox"/>	7	<input type="checkbox"/>	7
<input type="checkbox"/>	8	<input type="checkbox"/>	8	<input type="checkbox"/>	8	<input type="checkbox"/>	8	<input type="checkbox"/>	8	<input type="checkbox"/>	8	<input type="checkbox"/>	8	<input type="checkbox"/>	8	<input type="checkbox"/>	8
<input type="checkbox"/>	9	<input type="checkbox"/>	9	<input type="checkbox"/>	9	<input type="checkbox"/>	9	<input type="checkbox"/>	9	<input type="checkbox"/>	9	<input type="checkbox"/>	9	<input type="checkbox"/>	9	<input type="checkbox"/>	9

QCM3L Suites de Fonctions Préing2

← codez votre numéro d'étudiant ci-contre, et inscrivez votre nom et prénom ci-dessous (le NOM d'abord!).

Nom et prénom :

.....

.....

Les cases doivent être complètement noircies avec un stylo NOIR.

Question 1 ♣

Choisir les suites de fonctions $(f_n)_{n \geq 0}$ qui convergent uniformément vers leur limite simple:

- | | |
|--|--|
| <input type="checkbox"/> $f_n(x) = \frac{e^{-x}}{n}$ sur $] -\infty, 0[$ | <input type="checkbox"/> $f_n(x) = nxe^{-nx}$ sur $[a; +\infty[$ avec $a \in]0; 1[$ |
| <input type="checkbox"/> $f_n(x) = nxe^{-nx}$ sur $[1; 2]$ | <input type="checkbox"/> $f_n(x) = nxe^{-nx}$ sur $[0; +\infty[$ |
| <input type="checkbox"/> $f_n(x) = nxe^{-nx}$ sur $[0; 1[$ | <input type="checkbox"/> $f_n(x) = \frac{e^{-x}}{n}$ sur $]0; +\infty[$ |

Question 2 ♣

Soit $(f_n)_{n \geq 0}$ une suite de fonctions définies sur un intervalle $I \subset \mathbb{R}$ à valeur dans \mathbb{R} . Quelles les conditions nécessaires pour appliquer le théorème d'interversion limites-dérivations?

- La suite de fonctions (f'_n) converge uniformément sur I vers une fonction g .
- Pour tout $n \in \mathbb{N}$, les fonctions f_n sont de classe C^1 sur I.
- $\exists x_0 \in I$, tel que la suite numérique $(f_n(x_0))_{n \geq 0}$ converge.
- La suite de fonctions (f_n) converge uniformément sur I vers une fonction f continue.
- $\forall x_0 \in I$, la suite $(f_n(x_0))_{n \geq 0}$ converge.

Question 3 ♣

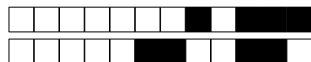
On définit la suite de fonctions $f_n(x) = \frac{e^{-nx}}{1+x}$. Alors, la suite $(f_n)_{n \geq 0}$

- converge uniformément sur $[1, +\infty[$ et la fonction limite est continue
- converge uniformément sur $[0, 1]$ et la fonction limite est continue
- converge uniformément sur $[0, +\infty[$

Question 4 ♣

Soit $(f_n)_{n \geq 0}$ une suite de fonctions définies par $f_n(x) = x^n \ln(x)$ pour $x \in]0, 1]$ et $f_n(0) = 0$. Alors

- $(f_n)_{n \geq 0}$ converge uniformément sur $[a, 1]$ ($a \in]0, 1[$)
- $(f_n)_{n \geq 0}$ converge uniformément sur $[0, 1]$
- $(f_n)_{n \geq 0}$ converge uniformément sur $[0, a]$ ($a \in]0, 1[$)



<input type="checkbox"/>	0	<input type="checkbox"/>	0	<input type="checkbox"/>	0	<input type="checkbox"/>	0	<input type="checkbox"/>	0	<input type="checkbox"/>	0	<input type="checkbox"/>	0	<input type="checkbox"/>	0	<input type="checkbox"/>	0
<input type="checkbox"/>	1	<input type="checkbox"/>	1	<input type="checkbox"/>	1	<input type="checkbox"/>	1	<input type="checkbox"/>	1	<input type="checkbox"/>	1	<input type="checkbox"/>	1	<input type="checkbox"/>	1	<input type="checkbox"/>	1
<input type="checkbox"/>	2	<input type="checkbox"/>	2	<input type="checkbox"/>	2	<input type="checkbox"/>	2	<input type="checkbox"/>	2	<input type="checkbox"/>	2	<input type="checkbox"/>	2	<input type="checkbox"/>	2	<input type="checkbox"/>	2
<input type="checkbox"/>	3	<input type="checkbox"/>	3	<input type="checkbox"/>	3	<input type="checkbox"/>	3	<input type="checkbox"/>	3	<input type="checkbox"/>	3	<input type="checkbox"/>	3	<input type="checkbox"/>	3	<input type="checkbox"/>	3
<input type="checkbox"/>	4	<input type="checkbox"/>	4	<input type="checkbox"/>	4	<input type="checkbox"/>	4	<input type="checkbox"/>	4	<input type="checkbox"/>	4	<input type="checkbox"/>	4	<input type="checkbox"/>	4	<input type="checkbox"/>	4
<input type="checkbox"/>	5	<input type="checkbox"/>	5	<input type="checkbox"/>	5	<input type="checkbox"/>	5	<input type="checkbox"/>	5	<input type="checkbox"/>	5	<input type="checkbox"/>	5	<input type="checkbox"/>	5	<input type="checkbox"/>	5
<input type="checkbox"/>	6	<input type="checkbox"/>	6	<input type="checkbox"/>	6	<input type="checkbox"/>	6	<input type="checkbox"/>	6	<input type="checkbox"/>	6	<input type="checkbox"/>	6	<input type="checkbox"/>	6	<input type="checkbox"/>	6
<input type="checkbox"/>	7	<input type="checkbox"/>	7	<input type="checkbox"/>	7	<input type="checkbox"/>	7	<input type="checkbox"/>	7	<input type="checkbox"/>	7	<input type="checkbox"/>	7	<input type="checkbox"/>	7	<input type="checkbox"/>	7
<input type="checkbox"/>	8	<input type="checkbox"/>	8	<input type="checkbox"/>	8	<input type="checkbox"/>	8	<input type="checkbox"/>	8	<input type="checkbox"/>	8	<input type="checkbox"/>	8	<input type="checkbox"/>	8	<input type="checkbox"/>	8
<input type="checkbox"/>	9	<input type="checkbox"/>	9	<input type="checkbox"/>	9	<input type="checkbox"/>	9	<input type="checkbox"/>	9	<input type="checkbox"/>	9	<input type="checkbox"/>	9	<input type="checkbox"/>	9	<input type="checkbox"/>	9

QCM3L Suites de Fonctions Préing2

← codez votre numéro d'étudiant ci-contre, et inscrivez votre nom et prénom ci-dessous (le NOM d'abord!).

Nom et prénom :

.....

.....

Les cases doivent être complètement noircies avec un stylo NOIR.

Question 1 ♣

On définit la suite de fonctions $f_n(x) = \frac{e^{-nx}}{1+x}$. Alors, la suite $(f_n)_{n \geq 0}$

- converge uniformément sur $[0, +\infty[$
- converge uniformément sur $[1, +\infty[$ et la fonction limite est continue
- converge uniformément sur $[0, 1]$ et la fonction limite est continue

Question 2 ♣

Choisir les suites de fonctions $(f_n)_{n \geq 0}$ qui convergent uniformément vers leur limite simple:

- | | |
|---|--|
| <input type="checkbox"/> $f_n(x) = nxe^{-nx}$ sur $]0; 1[$ | <input type="checkbox"/> $f_n(x) = \frac{e^{-x}}{n}$ sur $] - \infty, 0]$ |
| <input type="checkbox"/> $f_n(x) = nxe^{-nx}$ sur $[1; 2]$ | <input type="checkbox"/> $f_n(x) = nxe^{-nx}$ sur $[a; +\infty[$ avec $a \in]0; 1[$ |
| <input type="checkbox"/> $f_n(x) = \frac{e^{-x}}{n}$ sur $]0; +\infty[$ | <input type="checkbox"/> $f_n(x) = nxe^{-nx}$ sur $[0; +\infty[$ |

Question 3 ♣

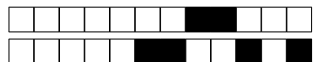
Soit $(f_n)_{n \geq 0}$ une suite de fonctions définies par $f_n(x) = x^n \ln(x)$ pour $x \in]0, 1]$ et $f_n(0) = 0$. Alors

- $(f_n)_{n \geq 0}$ converge uniformément sur $[0, 1]$
- $(f_n)_{n \geq 0}$ converge uniformément sur $[a, 1]$ ($a \in]0, 1[$)
- $(f_n)_{n \geq 0}$ converge uniformément sur $[0, a]$ ($a \in]0, 1[$)

Question 4 ♣

Soit $(f_n)_{n \geq 0}$ une suite de fonctions définies sur un intervalle $I \subset \mathbb{R}$ à valeur dans \mathbb{R} . Quelles les conditions nécessaires pour appliquer le théorème d'interversion limites-dérivations?

- La suite de fonctions (f_n) converge uniformément sur I vers une fonction f continue.
- $\exists x_0 \in I$, tel que la suite numérique $(f_n(x_0))_{n \geq 0}$ converge.
- Pour tout $n \in \mathbb{N}$, les fonctions f_n sont de classe C^1 sur I.
- $\forall x_0 \in I$, la suite $(f_n(x_0))_{n \geq 0}$ converge.
- La suite de fonctions (f'_n) converge uniformément sur I vers une fonction g .



<input type="checkbox"/>	0	<input type="checkbox"/>	0	<input type="checkbox"/>	0	<input type="checkbox"/>	0	<input type="checkbox"/>	0	<input type="checkbox"/>	0	<input type="checkbox"/>	0	<input type="checkbox"/>	0	<input type="checkbox"/>	0
<input type="checkbox"/>	1	<input type="checkbox"/>	1	<input type="checkbox"/>	1	<input type="checkbox"/>	1	<input type="checkbox"/>	1	<input type="checkbox"/>	1	<input type="checkbox"/>	1	<input type="checkbox"/>	1	<input type="checkbox"/>	1
<input type="checkbox"/>	2	<input type="checkbox"/>	2	<input type="checkbox"/>	2	<input type="checkbox"/>	2	<input type="checkbox"/>	2	<input type="checkbox"/>	2	<input type="checkbox"/>	2	<input type="checkbox"/>	2	<input type="checkbox"/>	2
<input type="checkbox"/>	3	<input type="checkbox"/>	3	<input type="checkbox"/>	3	<input type="checkbox"/>	3	<input type="checkbox"/>	3	<input type="checkbox"/>	3	<input type="checkbox"/>	3	<input type="checkbox"/>	3	<input type="checkbox"/>	3
<input type="checkbox"/>	4	<input type="checkbox"/>	4	<input type="checkbox"/>	4	<input type="checkbox"/>	4	<input type="checkbox"/>	4	<input type="checkbox"/>	4	<input type="checkbox"/>	4	<input type="checkbox"/>	4	<input type="checkbox"/>	4
<input type="checkbox"/>	5	<input type="checkbox"/>	5	<input type="checkbox"/>	5	<input type="checkbox"/>	5	<input type="checkbox"/>	5	<input type="checkbox"/>	5	<input type="checkbox"/>	5	<input type="checkbox"/>	5	<input type="checkbox"/>	5
<input type="checkbox"/>	6	<input type="checkbox"/>	6	<input type="checkbox"/>	6	<input type="checkbox"/>	6	<input type="checkbox"/>	6	<input type="checkbox"/>	6	<input type="checkbox"/>	6	<input type="checkbox"/>	6	<input type="checkbox"/>	6
<input type="checkbox"/>	7	<input type="checkbox"/>	7	<input type="checkbox"/>	7	<input type="checkbox"/>	7	<input type="checkbox"/>	7	<input type="checkbox"/>	7	<input type="checkbox"/>	7	<input type="checkbox"/>	7	<input type="checkbox"/>	7
<input type="checkbox"/>	8	<input type="checkbox"/>	8	<input type="checkbox"/>	8	<input type="checkbox"/>	8	<input type="checkbox"/>	8	<input type="checkbox"/>	8	<input type="checkbox"/>	8	<input type="checkbox"/>	8	<input type="checkbox"/>	8
<input type="checkbox"/>	9	<input type="checkbox"/>	9	<input type="checkbox"/>	9	<input type="checkbox"/>	9	<input type="checkbox"/>	9	<input type="checkbox"/>	9	<input type="checkbox"/>	9	<input type="checkbox"/>	9	<input type="checkbox"/>	9

QCM3L Suites de Fonctions Préing2

← codez votre numéro d'étudiant ci-contre, et inscrivez votre nom et prénom ci-dessous (le NOM d'abord!).

Nom et prénom :

.....

.....

Les cases doivent être complètement noircies avec un stylo NOIR.

Question 1 ♣

Soit $(f_n)_{n \geq 0}$ une suite de fonctions définies par $f_n(x) = x^n \ln(x)$ pour $x \in]0, 1]$ et $f_n(0) = 0$. Alors

- $(f_n)_{n \geq 0}$ converge uniformément sur $[a, 1]$ ($a \in]0, 1[$)
- $(f_n)_{n \geq 0}$ converge uniformément sur $[0, a]$ ($a \in]0, 1[$)
- $(f_n)_{n \geq 0}$ converge uniformément sur $[0, 1]$

Question 2 ♣

Choisir les suites de fonctions $(f_n)_{n \geq 0}$ qui convergent uniformément vers leur limite simple:

- | | |
|---|--|
| <input type="checkbox"/> $f_n(x) = \frac{e^{-x}}{n}$ sur $]0; +\infty[$ | <input type="checkbox"/> $f_n(x) = nxe^{-nx}$ sur $[0; 1[$ |
| <input type="checkbox"/> $f_n(x) = nxe^{-nx}$ sur $[1; 2]$ | <input type="checkbox"/> $f_n(x) = nxe^{-nx}$ sur $[0; +\infty[$ |
| <input type="checkbox"/> $f_n(x) = \frac{e^{-x}}{n}$ sur $] - \infty, 0]$ | <input type="checkbox"/> $f_n(x) = nxe^{-nx}$ sur $[a; +\infty[$ avec $a \in]0; 1[$ |

Question 3 ♣

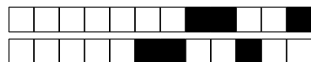
Soit $(f_n)_{n \geq 0}$ une suite de fonctions définies sur un intervalle $I \subset \mathbb{R}$ à valeur dans \mathbb{R} . Quelles les conditions nécessaires pour appliquer le théorème d'interversion limites-dérivations?

- La suite de fonctions (f'_n) converge uniformément sur I vers une fonction g .
- $\forall x_0 \in I$, la suite $(f_n(x_0))_{n \geq 0}$ converge.
- Pour tout $n \in \mathbb{N}$, les fonctions f_n sont de classe C^1 sur I.
- La suite de fonctions (f_n) converge uniformément sur I vers une fonction f continue.
- $\exists x_0 \in I$, tel que la suite numérique $(f_n(x_0))_{n \geq 0}$ converge.

Question 4 ♣

On définit la suite de fonctions $f_n(x) = \frac{e^{-nx}}{1+x}$. Alors, la suite $(f_n)_{n \geq 0}$

- converge uniformément sur $[0, 1]$ et la fonction limite est continue
- converge uniformément sur $[1, +\infty[$ et la fonction limite est continue
- converge uniformément sur $[0, +\infty[$



<input type="checkbox"/>	0	<input type="checkbox"/>	0	<input type="checkbox"/>	0	<input type="checkbox"/>	0	<input type="checkbox"/>	0	<input type="checkbox"/>	0	<input type="checkbox"/>	0	<input type="checkbox"/>	0	<input type="checkbox"/>	0
<input type="checkbox"/>	1	<input type="checkbox"/>	1	<input type="checkbox"/>	1	<input type="checkbox"/>	1	<input type="checkbox"/>	1	<input type="checkbox"/>	1	<input type="checkbox"/>	1	<input type="checkbox"/>	1	<input type="checkbox"/>	1
<input type="checkbox"/>	2	<input type="checkbox"/>	2	<input type="checkbox"/>	2	<input type="checkbox"/>	2	<input type="checkbox"/>	2	<input type="checkbox"/>	2	<input type="checkbox"/>	2	<input type="checkbox"/>	2	<input type="checkbox"/>	2
<input type="checkbox"/>	3	<input type="checkbox"/>	3	<input type="checkbox"/>	3	<input type="checkbox"/>	3	<input type="checkbox"/>	3	<input type="checkbox"/>	3	<input type="checkbox"/>	3	<input type="checkbox"/>	3	<input type="checkbox"/>	3
<input type="checkbox"/>	4	<input type="checkbox"/>	4	<input type="checkbox"/>	4	<input type="checkbox"/>	4	<input type="checkbox"/>	4	<input type="checkbox"/>	4	<input type="checkbox"/>	4	<input type="checkbox"/>	4	<input type="checkbox"/>	4
<input type="checkbox"/>	5	<input type="checkbox"/>	5	<input type="checkbox"/>	5	<input type="checkbox"/>	5	<input type="checkbox"/>	5	<input type="checkbox"/>	5	<input type="checkbox"/>	5	<input type="checkbox"/>	5	<input type="checkbox"/>	5
<input type="checkbox"/>	6	<input type="checkbox"/>	6	<input type="checkbox"/>	6	<input type="checkbox"/>	6	<input type="checkbox"/>	6	<input type="checkbox"/>	6	<input type="checkbox"/>	6	<input type="checkbox"/>	6	<input type="checkbox"/>	6
<input type="checkbox"/>	7	<input type="checkbox"/>	7	<input type="checkbox"/>	7	<input type="checkbox"/>	7	<input type="checkbox"/>	7	<input type="checkbox"/>	7	<input type="checkbox"/>	7	<input type="checkbox"/>	7	<input type="checkbox"/>	7
<input type="checkbox"/>	8	<input type="checkbox"/>	8	<input type="checkbox"/>	8	<input type="checkbox"/>	8	<input type="checkbox"/>	8	<input type="checkbox"/>	8	<input type="checkbox"/>	8	<input type="checkbox"/>	8	<input type="checkbox"/>	8
<input type="checkbox"/>	9	<input type="checkbox"/>	9	<input type="checkbox"/>	9	<input type="checkbox"/>	9	<input type="checkbox"/>	9	<input type="checkbox"/>	9	<input type="checkbox"/>	9	<input type="checkbox"/>	9	<input type="checkbox"/>	9

QCM3L Suites de Fonctions Préing2

← codez votre numéro d'étudiant ci-contre, et inscrivez votre nom et prénom ci-dessous (le NOM d'abord!).

Nom et prénom :

.....

.....

Les cases doivent être complètement noircies avec un stylo NOIR.

Question 1 ♣

Soit $(f_n)_{n \geq 0}$ une suite de fonctions définies sur un intervalle $I \subset \mathbb{R}$ à valeur dans \mathbb{R} . Quelles les conditions nécessaires pour appliquer le théorème d'interversion limites-dérivations?

- La suite de fonctions (f_n) converge uniformément sur I vers une fonction f continue.
- Pour tout $n \in \mathbb{N}$, les fonctions f_n sont de classe C^1 sur I.
- La suite de fonctions (f'_n) converge uniformément sur I vers une fonction g .
- $\forall x_0 \in I$, la suite $(f_n(x_0))_{n \geq 0}$ converge.
- $\exists x_0 \in I$, tel que la suite numérique $(f_n(x_0))_{n \geq 0}$ converge.

Question 2 ♣

Choisir les suites de fonctions $(f_n)_{n \geq 0}$ qui convergent uniformément vers leur limite simple:

- | | |
|--|--|
| <input type="checkbox"/> $f_n(x) = nxe^{-nx}$ sur $[1; 2]$ | <input type="checkbox"/> $f_n(x) = \frac{e^{-x}}{n}$ sur $] -\infty, 0]$ |
| <input type="checkbox"/> $f_n(x) = nxe^{-nx}$ sur $[0; 1[$ | <input type="checkbox"/> $f_n(x) = nxe^{-nx}$ sur $[a; +\infty[$ avec $a \in]0; 1[$ |
| <input type="checkbox"/> $f_n(x) = nxe^{-nx}$ sur $[0; +\infty[$ | <input type="checkbox"/> $f_n(x) = \frac{e^{-x}}{n}$ sur $]0; +\infty[$ |

Question 3 ♣

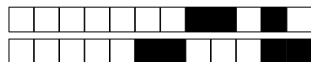
On définit la suite de fonctions $f_n(x) = \frac{e^{-nx}}{1+x}$. Alors, la suite $(f_n)_{n \geq 0}$

- converge uniformément sur $[0, +\infty[$
- converge uniformément sur $[1, +\infty[$ et la fonction limite est continue
- converge uniformément sur $[0, 1]$ et la fonction limite est continue

Question 4 ♣

Soit $(f_n)_{n \geq 0}$ une suite de fonctions définies par $f_n(x) = x^n \ln(x)$ pour $x \in]0, 1]$ et $f_n(0) = 0$. Alors

- $(f_n)_{n \geq 0}$ converge uniformément sur $[0, a]$ ($a \in]0, 1[$)
- $(f_n)_{n \geq 0}$ converge uniformément sur $[a, 1]$ ($a \in]0, 1[$)
- $(f_n)_{n \geq 0}$ converge uniformément sur $[0, 1]$



<input type="checkbox"/>	0	<input type="checkbox"/>	0	<input type="checkbox"/>	0	<input type="checkbox"/>	0	<input type="checkbox"/>	0	<input type="checkbox"/>	0	<input type="checkbox"/>	0	<input type="checkbox"/>	0	<input type="checkbox"/>	0
<input type="checkbox"/>	1	<input type="checkbox"/>	1	<input type="checkbox"/>	1	<input type="checkbox"/>	1	<input type="checkbox"/>	1	<input type="checkbox"/>	1	<input type="checkbox"/>	1	<input type="checkbox"/>	1	<input type="checkbox"/>	1
<input type="checkbox"/>	2	<input type="checkbox"/>	2	<input type="checkbox"/>	2	<input type="checkbox"/>	2	<input type="checkbox"/>	2	<input type="checkbox"/>	2	<input type="checkbox"/>	2	<input type="checkbox"/>	2	<input type="checkbox"/>	2
<input type="checkbox"/>	3	<input type="checkbox"/>	3	<input type="checkbox"/>	3	<input type="checkbox"/>	3	<input type="checkbox"/>	3	<input type="checkbox"/>	3	<input type="checkbox"/>	3	<input type="checkbox"/>	3	<input type="checkbox"/>	3
<input type="checkbox"/>	4	<input type="checkbox"/>	4	<input type="checkbox"/>	4	<input type="checkbox"/>	4	<input type="checkbox"/>	4	<input type="checkbox"/>	4	<input type="checkbox"/>	4	<input type="checkbox"/>	4	<input type="checkbox"/>	4
<input type="checkbox"/>	5	<input type="checkbox"/>	5	<input type="checkbox"/>	5	<input type="checkbox"/>	5	<input type="checkbox"/>	5	<input type="checkbox"/>	5	<input type="checkbox"/>	5	<input type="checkbox"/>	5	<input type="checkbox"/>	5
<input type="checkbox"/>	6	<input type="checkbox"/>	6	<input type="checkbox"/>	6	<input type="checkbox"/>	6	<input type="checkbox"/>	6	<input type="checkbox"/>	6	<input type="checkbox"/>	6	<input type="checkbox"/>	6	<input type="checkbox"/>	6
<input type="checkbox"/>	7	<input type="checkbox"/>	7	<input type="checkbox"/>	7	<input type="checkbox"/>	7	<input type="checkbox"/>	7	<input type="checkbox"/>	7	<input type="checkbox"/>	7	<input type="checkbox"/>	7	<input type="checkbox"/>	7
<input type="checkbox"/>	8	<input type="checkbox"/>	8	<input type="checkbox"/>	8	<input type="checkbox"/>	8	<input type="checkbox"/>	8	<input type="checkbox"/>	8	<input type="checkbox"/>	8	<input type="checkbox"/>	8	<input type="checkbox"/>	8
<input type="checkbox"/>	9	<input type="checkbox"/>	9	<input type="checkbox"/>	9	<input type="checkbox"/>	9	<input type="checkbox"/>	9	<input type="checkbox"/>	9	<input type="checkbox"/>	9	<input type="checkbox"/>	9	<input type="checkbox"/>	9

QCM3L Suites de Fonctions Préing2

← codez votre numéro d'étudiant ci-contre, et inscrivez votre nom et prénom ci-dessous (le NOM d'abord!).

Nom et prénom :

.....

.....

Les cases doivent être complètement noircies avec un stylo NOIR.

Question 1 ♣

Soit $(f_n)_{n \geq 0}$ une suite de fonctions définies par $f_n(x) = x^n \ln(x)$ pour $x \in]0, 1]$ et $f_n(0) = 0$. Alors

- $(f_n)_{n \geq 0}$ converge uniformément sur $[a, 1]$ ($a \in]0, 1[$)
- $(f_n)_{n \geq 0}$ converge uniformément sur $[0, a]$ ($a \in]0, 1[$)
- $(f_n)_{n \geq 0}$ converge uniformément sur $[0, 1]$

Question 2 ♣

Soit $(f_n)_{n \geq 0}$ une suite de fonctions définies sur un intervalle $I \subset \mathbb{R}$ à valeur dans \mathbb{R} . Quelles les conditions nécessaires pour appliquer le théorème d'interversion limites-dérivations?

- $\exists x_0 \in I$, tel que la suite numérique $(f_n(x_0))_{n \geq 0}$ converge.
- La suite de fonctions (f'_n) converge uniformément sur I vers une fonction g .
- La suite de fonctions (f_n) converge uniformément sur I vers une fonction f continue.
- $\forall x_0 \in I$, la suite $(f_n(x_0))_{n \geq 0}$ converge.
- Pour tout $n \in \mathbb{N}$, les fonctions f_n sont de classe C^1 sur I.

Question 3 ♣

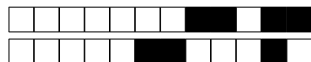
Choisir les suites de fonctions $(f_n)_{n \geq 0}$ qui convergent uniformément vers leur limite simple:

- | | |
|--|---|
| <input type="checkbox"/> $f_n(x) = \frac{e^{-x}}{n}$ sur $] -\infty, 0]$ | <input type="checkbox"/> $f_n(x) = \frac{e^{-x}}{n}$ sur $]0; +\infty[$ |
| <input type="checkbox"/> $f_n(x) = nxe^{-nx}$ sur $[a; +\infty[$ avec $a \in]0; 1[$ | <input type="checkbox"/> $f_n(x) = nxe^{-nx}$ sur $[1; 2]$ |
| <input type="checkbox"/> $f_n(x) = nxe^{-nx}$ sur $[0; +\infty[$ | <input type="checkbox"/> $f_n(x) = nxe^{-nx}$ sur $[0; 1[$ |

Question 4 ♣

On définit la suite de fonctions $f_n(x) = \frac{e^{-nx}}{1+x}$. Alors, la suite $(f_n)_{n \geq 0}$

- converge uniformément sur $[0, 1]$ et la fonction limite est continue
- converge uniformément sur $[0, +\infty[$
- converge uniformément sur $[1, +\infty[$ et la fonction limite est continue



<input type="checkbox"/>	0	<input type="checkbox"/>	0	<input type="checkbox"/>	0	<input type="checkbox"/>	0	<input type="checkbox"/>	0	<input type="checkbox"/>	0	<input type="checkbox"/>	0	<input type="checkbox"/>	0	<input type="checkbox"/>	0
<input type="checkbox"/>	1	<input type="checkbox"/>	1	<input type="checkbox"/>	1	<input type="checkbox"/>	1	<input type="checkbox"/>	1	<input type="checkbox"/>	1	<input type="checkbox"/>	1	<input type="checkbox"/>	1	<input type="checkbox"/>	1
<input type="checkbox"/>	2	<input type="checkbox"/>	2	<input type="checkbox"/>	2	<input type="checkbox"/>	2	<input type="checkbox"/>	2	<input type="checkbox"/>	2	<input type="checkbox"/>	2	<input type="checkbox"/>	2	<input type="checkbox"/>	2
<input type="checkbox"/>	3	<input type="checkbox"/>	3	<input type="checkbox"/>	3	<input type="checkbox"/>	3	<input type="checkbox"/>	3	<input type="checkbox"/>	3	<input type="checkbox"/>	3	<input type="checkbox"/>	3	<input type="checkbox"/>	3
<input type="checkbox"/>	4	<input type="checkbox"/>	4	<input type="checkbox"/>	4	<input type="checkbox"/>	4	<input type="checkbox"/>	4	<input type="checkbox"/>	4	<input type="checkbox"/>	4	<input type="checkbox"/>	4	<input type="checkbox"/>	4
<input type="checkbox"/>	5	<input type="checkbox"/>	5	<input type="checkbox"/>	5	<input type="checkbox"/>	5	<input type="checkbox"/>	5	<input type="checkbox"/>	5	<input type="checkbox"/>	5	<input type="checkbox"/>	5	<input type="checkbox"/>	5
<input type="checkbox"/>	6	<input type="checkbox"/>	6	<input type="checkbox"/>	6	<input type="checkbox"/>	6	<input type="checkbox"/>	6	<input type="checkbox"/>	6	<input type="checkbox"/>	6	<input type="checkbox"/>	6	<input type="checkbox"/>	6
<input type="checkbox"/>	7	<input type="checkbox"/>	7	<input type="checkbox"/>	7	<input type="checkbox"/>	7	<input type="checkbox"/>	7	<input type="checkbox"/>	7	<input type="checkbox"/>	7	<input type="checkbox"/>	7	<input type="checkbox"/>	7
<input type="checkbox"/>	8	<input type="checkbox"/>	8	<input type="checkbox"/>	8	<input type="checkbox"/>	8	<input type="checkbox"/>	8	<input type="checkbox"/>	8	<input type="checkbox"/>	8	<input type="checkbox"/>	8	<input type="checkbox"/>	8
<input type="checkbox"/>	9	<input type="checkbox"/>	9	<input type="checkbox"/>	9	<input type="checkbox"/>	9	<input type="checkbox"/>	9	<input type="checkbox"/>	9	<input type="checkbox"/>	9	<input type="checkbox"/>	9	<input type="checkbox"/>	9

QCM3L Suites de Fonctions Préing2

← codez votre numéro d'étudiant ci-contre, et inscrivez votre nom et prénom ci-dessous (le NOM d'abord!).

Nom et prénom :

.....

.....

Les cases doivent être complètement noircies avec un stylo NOIR.

Question 1 ♣

On définit la suite de fonctions $f_n(x) = \frac{e^{-nx}}{1+x}$. Alors, la suite $(f_n)_{n \geq 0}$

- converge uniformément sur $[1, +\infty[$ et la fonction limite est continue
- converge uniformément sur $[0, 1]$ et la fonction limite est continue
- converge uniformément sur $[0, +\infty[$

Question 2 ♣

Choisir les suites de fonctions $(f_n)_{n \geq 0}$ qui convergent uniformément vers leur limite simple:

- | | |
|--|--|
| <input type="checkbox"/> $f_n(x) = nxe^{-nx}$ sur $[a; +\infty[$ avec $a \in]0; 1[$ | <input type="checkbox"/> $f_n(x) = nxe^{-nx}$ sur $[0; +\infty[$ |
| <input type="checkbox"/> $f_n(x) = \frac{e^{-x}}{n}$ sur $] -\infty, 0]$ | <input type="checkbox"/> $f_n(x) = nxe^{-nx}$ sur $[1; 2]$ |
| <input type="checkbox"/> $f_n(x) = \frac{e^{-x}}{n}$ sur $]0; +\infty[$ | <input type="checkbox"/> $f_n(x) = nxe^{-nx}$ sur $[0; 1[$ |

Question 3 ♣

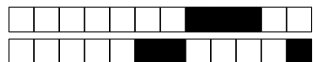
Soit $(f_n)_{n \geq 0}$ une suite de fonctions définies par $f_n(x) = x^n \ln(x)$ pour $x \in]0, 1]$ et $f_n(0) = 0$. Alors

- $(f_n)_{n \geq 0}$ converge uniformément sur $[a, 1]$ ($a \in]0, 1[$)
- $(f_n)_{n \geq 0}$ converge uniformément sur $[0, a]$ ($a \in]0, 1[$)
- $(f_n)_{n \geq 0}$ converge uniformément sur $[0, 1]$

Question 4 ♣

Soit $(f_n)_{n \geq 0}$ une suite de fonctions définies sur un intervalle $I \subset \mathbb{R}$ à valeur dans \mathbb{R} . Quelles les conditions nécessaires pour appliquer le théorème d'interversion limites-dérivations?

- Pour tout $n \in \mathbb{N}$, les fonctions f_n sont de classe C^1 sur I .
- La suite de fonctions (f_n) converge uniformément sur I vers une fonction f continue.
- La suite de fonctions (f'_n) converge uniformément sur I vers une fonction g .
- $\forall x_0 \in I$, la suite $(f_n(x_0))_{n \geq 0}$ converge.
- $\exists x_0 \in I$, tel que la suite numérique $(f_n(x_0))_{n \geq 0}$ converge.



<input type="checkbox"/> 0	<input type="checkbox"/> 0	<input type="checkbox"/> 0	<input type="checkbox"/> 0	<input type="checkbox"/> 0	<input type="checkbox"/> 0	<input type="checkbox"/> 0	<input type="checkbox"/> 0
<input type="checkbox"/> 1	<input type="checkbox"/> 1	<input type="checkbox"/> 1	<input type="checkbox"/> 1	<input type="checkbox"/> 1	<input type="checkbox"/> 1	<input type="checkbox"/> 1	<input type="checkbox"/> 1
<input type="checkbox"/> 2	<input type="checkbox"/> 2	<input type="checkbox"/> 2	<input type="checkbox"/> 2	<input type="checkbox"/> 2	<input type="checkbox"/> 2	<input type="checkbox"/> 2	<input type="checkbox"/> 2
<input type="checkbox"/> 3	<input type="checkbox"/> 3	<input type="checkbox"/> 3	<input type="checkbox"/> 3	<input type="checkbox"/> 3	<input type="checkbox"/> 3	<input type="checkbox"/> 3	<input type="checkbox"/> 3
<input type="checkbox"/> 4	<input type="checkbox"/> 4	<input type="checkbox"/> 4	<input type="checkbox"/> 4	<input type="checkbox"/> 4	<input type="checkbox"/> 4	<input type="checkbox"/> 4	<input type="checkbox"/> 4
<input type="checkbox"/> 5	<input type="checkbox"/> 5	<input type="checkbox"/> 5	<input type="checkbox"/> 5	<input type="checkbox"/> 5	<input type="checkbox"/> 5	<input type="checkbox"/> 5	<input type="checkbox"/> 5
<input type="checkbox"/> 6	<input type="checkbox"/> 6	<input type="checkbox"/> 6	<input type="checkbox"/> 6	<input type="checkbox"/> 6	<input type="checkbox"/> 6	<input type="checkbox"/> 6	<input type="checkbox"/> 6
<input type="checkbox"/> 7	<input type="checkbox"/> 7	<input type="checkbox"/> 7	<input type="checkbox"/> 7	<input type="checkbox"/> 7	<input type="checkbox"/> 7	<input type="checkbox"/> 7	<input type="checkbox"/> 7
<input type="checkbox"/> 8	<input type="checkbox"/> 8	<input type="checkbox"/> 8	<input type="checkbox"/> 8	<input type="checkbox"/> 8	<input type="checkbox"/> 8	<input type="checkbox"/> 8	<input type="checkbox"/> 8
<input type="checkbox"/> 9	<input type="checkbox"/> 9	<input type="checkbox"/> 9	<input type="checkbox"/> 9	<input type="checkbox"/> 9	<input type="checkbox"/> 9	<input type="checkbox"/> 9	<input type="checkbox"/> 9

QCM3L Suites de Fonctions Préing2

← codez votre numéro d'étudiant ci-contre, et inscrivez votre nom et prénom ci-dessous (le NOM d'abord!).

Nom et prénom :

.....

.....

Les cases doivent être complètement noircies avec un stylo NOIR.

Question 1 ♣

Choisir les suites de fonctions $(f_n)_{n \geq 0}$ qui convergent uniformément vers leur limite simple:

- | | |
|--|--|
| <input type="checkbox"/> $f_n(x) = \frac{e^{-x}}{n}$ sur $] -\infty, 0]$ | <input type="checkbox"/> $f_n(x) = nxe^{-nx}$ sur $[1; 2]$ |
| <input type="checkbox"/> $f_n(x) = \frac{e^{-x}}{n}$ sur $]0; +\infty[$ | <input type="checkbox"/> $f_n(x) = nxe^{-nx}$ sur $[0; +\infty[$ |
| <input type="checkbox"/> $f_n(x) = nxe^{-nx}$ sur $[a; +\infty[$ avec $a \in]0; 1[$ | <input type="checkbox"/> $f_n(x) = nxe^{-nx}$ sur $[0; 1[$ |

Question 2 ♣

Soit $(f_n)_{n \geq 0}$ une suite de fonctions définies sur un intervalle $I \subset \mathbb{R}$ à valeur dans \mathbb{R} . Quelles les conditions nécessaires pour appliquer le théorème d'interversion limites-dérivations?

- $\exists x_0 \in I$, tel que la suite numérique $(f_n(x_0))_{n \geq 0}$ converge.
- Pour tout $n \in \mathbb{N}$, les fonctions f_n sont de classe C^1 sur I .
- La suite de fonctions (f_n) converge uniformément sur I vers une fonction f continue.
- La suite de fonctions (f'_n) converge uniformément sur I vers une fonction g .
- $\forall x_0 \in I$, la suite $(f_n(x_0))_{n \geq 0}$ converge.

Question 3 ♣

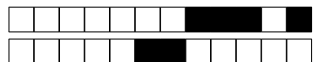
Soit $(f_n)_{n \geq 0}$ une suite de fonctions définies par $f_n(x) = x^n \ln(x)$ pour $x \in]0, 1]$ et $f_n(0) = 0$. Alors

- $(f_n)_{n \geq 0}$ converge uniformément sur $[a, 1]$ ($a \in]0, 1[$)
- $(f_n)_{n \geq 0}$ converge uniformément sur $[0, 1]$
- $(f_n)_{n \geq 0}$ converge uniformément sur $[0, a]$ ($a \in]0, 1[$)

Question 4 ♣

On définit la suite de fonctions $f_n(x) = \frac{e^{-nx}}{1+x}$. Alors, la suite $(f_n)_{n \geq 0}$

- converge uniformément sur $[0, +\infty[$
- converge uniformément sur $[1, +\infty[$ et la fonction limite est continue
- converge uniformément sur $[0, 1]$ et la fonction limite est continue



<input type="checkbox"/>	0	<input type="checkbox"/>	0	<input type="checkbox"/>	0	<input type="checkbox"/>	0	<input type="checkbox"/>	0	<input type="checkbox"/>	0	<input type="checkbox"/>	0	<input type="checkbox"/>	0	<input type="checkbox"/>	0
<input type="checkbox"/>	1	<input type="checkbox"/>	1	<input type="checkbox"/>	1	<input type="checkbox"/>	1	<input type="checkbox"/>	1	<input type="checkbox"/>	1	<input type="checkbox"/>	1	<input type="checkbox"/>	1	<input type="checkbox"/>	1
<input type="checkbox"/>	2	<input type="checkbox"/>	2	<input type="checkbox"/>	2	<input type="checkbox"/>	2	<input type="checkbox"/>	2	<input type="checkbox"/>	2	<input type="checkbox"/>	2	<input type="checkbox"/>	2	<input type="checkbox"/>	2
<input type="checkbox"/>	3	<input type="checkbox"/>	3	<input type="checkbox"/>	3	<input type="checkbox"/>	3	<input type="checkbox"/>	3	<input type="checkbox"/>	3	<input type="checkbox"/>	3	<input type="checkbox"/>	3	<input type="checkbox"/>	3
<input type="checkbox"/>	4	<input type="checkbox"/>	4	<input type="checkbox"/>	4	<input type="checkbox"/>	4	<input type="checkbox"/>	4	<input type="checkbox"/>	4	<input type="checkbox"/>	4	<input type="checkbox"/>	4	<input type="checkbox"/>	4
<input type="checkbox"/>	5	<input type="checkbox"/>	5	<input type="checkbox"/>	5	<input type="checkbox"/>	5	<input type="checkbox"/>	5	<input type="checkbox"/>	5	<input type="checkbox"/>	5	<input type="checkbox"/>	5	<input type="checkbox"/>	5
<input type="checkbox"/>	6	<input type="checkbox"/>	6	<input type="checkbox"/>	6	<input type="checkbox"/>	6	<input type="checkbox"/>	6	<input type="checkbox"/>	6	<input type="checkbox"/>	6	<input type="checkbox"/>	6	<input type="checkbox"/>	6
<input type="checkbox"/>	7	<input type="checkbox"/>	7	<input type="checkbox"/>	7	<input type="checkbox"/>	7	<input type="checkbox"/>	7	<input type="checkbox"/>	7	<input type="checkbox"/>	7	<input type="checkbox"/>	7	<input type="checkbox"/>	7
<input type="checkbox"/>	8	<input type="checkbox"/>	8	<input type="checkbox"/>	8	<input type="checkbox"/>	8	<input type="checkbox"/>	8	<input type="checkbox"/>	8	<input type="checkbox"/>	8	<input type="checkbox"/>	8	<input type="checkbox"/>	8
<input type="checkbox"/>	9	<input type="checkbox"/>	9	<input type="checkbox"/>	9	<input type="checkbox"/>	9	<input type="checkbox"/>	9	<input type="checkbox"/>	9	<input type="checkbox"/>	9	<input type="checkbox"/>	9	<input type="checkbox"/>	9

QCM3L Suites de Fonctions Préing2

← codez votre numéro d'étudiant ci-contre, et inscrivez votre nom et prénom ci-dessous (le NOM d'abord!).

Nom et prénom :

.....

.....

Les cases doivent être complètement noircies avec un stylo NOIR.

Question 1 ♣

Soit $(f_n)_{n \geq 0}$ une suite de fonctions définies sur un intervalle $I \subset \mathbb{R}$ à valeur dans \mathbb{R} . Quelles les conditions nécessaires pour appliquer le théorème d'interversion limites-dérivations?

- Pour tout $n \in \mathbb{N}$, les fonctions f_n sont de classe C^1 sur I .
- $\forall x_0 \in I$, la suite $(f_n(x_0))_{n \geq 0}$ converge.
- La suite de fonctions (f_n) converge uniformément sur I vers une fonction f continue.
- La suite de fonctions (f'_n) converge uniformément sur I vers une fonction g .
- $\exists x_0 \in I$, tel que la suite numérique $(f_n(x_0))_{n \geq 0}$ converge.

Question 2 ♣

Choisir les suites de fonctions $(f_n)_{n \geq 0}$ qui convergent uniformément vers leur limite simple:

- | | |
|--|---|
| <input type="checkbox"/> $f_n(x) = \frac{e^{-x}}{n}$ sur $] -\infty, 0]$ | <input type="checkbox"/> $f_n(x) = nxe^{-nx}$ sur $[1; 2]$ |
| <input type="checkbox"/> $f_n(x) = nxe^{-nx}$ sur $[a; +\infty[$ avec $a \in]0; 1[$ | <input type="checkbox"/> $f_n(x) = nxe^{-nx}$ sur $[0; +\infty[$ |
| <input type="checkbox"/> $f_n(x) = nxe^{-nx}$ sur $[0; 1[$ | <input type="checkbox"/> $f_n(x) = \frac{e^{-x}}{n}$ sur $]0; +\infty[$ |

Question 3 ♣

Soit $(f_n)_{n \geq 0}$ une suite de fonctions définies par $f_n(x) = x^n \ln(x)$ pour $x \in]0, 1]$ et $f_n(0) = 0$. Alors

- $(f_n)_{n \geq 0}$ converge uniformément sur $[0, 1]$
- $(f_n)_{n \geq 0}$ converge uniformément sur $[a, 1]$ ($a \in]0, 1[$)
- $(f_n)_{n \geq 0}$ converge uniformément sur $[0, a]$ ($a \in]0, 1[$)

Question 4 ♣

On définit la suite de fonctions $f_n(x) = \frac{e^{-nx}}{1+x}$. Alors, la suite $(f_n)_{n \geq 0}$

- converge uniformément sur $[0, +\infty[$
- converge uniformément sur $[0, 1]$ et la fonction limite est continue
- converge uniformément sur $[1, +\infty[$ et la fonction limite est continue



<input type="checkbox"/>	0	<input type="checkbox"/>	0	<input type="checkbox"/>	0	<input type="checkbox"/>	0	<input type="checkbox"/>	0	<input type="checkbox"/>	0	<input type="checkbox"/>	0	<input type="checkbox"/>	0	<input type="checkbox"/>	0
<input type="checkbox"/>	1	<input type="checkbox"/>	1	<input type="checkbox"/>	1	<input type="checkbox"/>	1	<input type="checkbox"/>	1	<input type="checkbox"/>	1	<input type="checkbox"/>	1	<input type="checkbox"/>	1	<input type="checkbox"/>	1
<input type="checkbox"/>	2	<input type="checkbox"/>	2	<input type="checkbox"/>	2	<input type="checkbox"/>	2	<input type="checkbox"/>	2	<input type="checkbox"/>	2	<input type="checkbox"/>	2	<input type="checkbox"/>	2	<input type="checkbox"/>	2
<input type="checkbox"/>	3	<input type="checkbox"/>	3	<input type="checkbox"/>	3	<input type="checkbox"/>	3	<input type="checkbox"/>	3	<input type="checkbox"/>	3	<input type="checkbox"/>	3	<input type="checkbox"/>	3	<input type="checkbox"/>	3
<input type="checkbox"/>	4	<input type="checkbox"/>	4	<input type="checkbox"/>	4	<input type="checkbox"/>	4	<input type="checkbox"/>	4	<input type="checkbox"/>	4	<input type="checkbox"/>	4	<input type="checkbox"/>	4	<input type="checkbox"/>	4
<input type="checkbox"/>	5	<input type="checkbox"/>	5	<input type="checkbox"/>	5	<input type="checkbox"/>	5	<input type="checkbox"/>	5	<input type="checkbox"/>	5	<input type="checkbox"/>	5	<input type="checkbox"/>	5	<input type="checkbox"/>	5
<input type="checkbox"/>	6	<input type="checkbox"/>	6	<input type="checkbox"/>	6	<input type="checkbox"/>	6	<input type="checkbox"/>	6	<input type="checkbox"/>	6	<input type="checkbox"/>	6	<input type="checkbox"/>	6	<input type="checkbox"/>	6
<input type="checkbox"/>	7	<input type="checkbox"/>	7	<input type="checkbox"/>	7	<input type="checkbox"/>	7	<input type="checkbox"/>	7	<input type="checkbox"/>	7	<input type="checkbox"/>	7	<input type="checkbox"/>	7	<input type="checkbox"/>	7
<input type="checkbox"/>	8	<input type="checkbox"/>	8	<input type="checkbox"/>	8	<input type="checkbox"/>	8	<input type="checkbox"/>	8	<input type="checkbox"/>	8	<input type="checkbox"/>	8	<input type="checkbox"/>	8	<input type="checkbox"/>	8
<input type="checkbox"/>	9	<input type="checkbox"/>	9	<input type="checkbox"/>	9	<input type="checkbox"/>	9	<input type="checkbox"/>	9	<input type="checkbox"/>	9	<input type="checkbox"/>	9	<input type="checkbox"/>	9	<input type="checkbox"/>	9

QCM3L Suites de Fonctions Préing2

← codez votre numéro d'étudiant ci-contre, et inscrivez votre nom et prénom ci-dessous (le NOM d'abord!).

Nom et prénom :

.....

.....

Les cases doivent être complètement noircies avec un stylo NOIR.

Question 1 ♣

Soit $(f_n)_{n \geq 0}$ une suite de fonctions définies par $f_n(x) = x^n \ln(x)$ pour $x \in]0, 1]$ et $f_n(0) = 0$. Alors

- $(f_n)_{n \geq 0}$ converge uniformément sur $[a, 1]$ ($a \in]0, 1[$)
- $(f_n)_{n \geq 0}$ converge uniformément sur $[0, 1]$
- $(f_n)_{n \geq 0}$ converge uniformément sur $[0, a]$ ($a \in]0, 1[$)

Question 2 ♣

Choisir les suites de fonctions $(f_n)_{n \geq 0}$ qui convergent uniformément vers leur limite simple:

- | | |
|--|---|
| <input type="checkbox"/> $f_n(x) = nxe^{-nx}$ sur $[a; +\infty[$ avec $a \in]0; 1[$ | <input type="checkbox"/> $f_n(x) = nxe^{-nx}$ sur $[0; 1[$ |
| <input type="checkbox"/> $f_n(x) = nxe^{-nx}$ sur $[0; +\infty[$ | <input type="checkbox"/> $f_n(x) = nxe^{-nx}$ sur $[1; 2]$ |
| <input type="checkbox"/> $f_n(x) = \frac{e^{-x}}{n}$ sur $]0; +\infty[$ | <input type="checkbox"/> $f_n(x) = \frac{e^{-x}}{n}$ sur $] - \infty, 0]$ |

Question 3 ♣

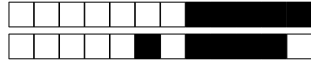
On définit la suite de fonctions $f_n(x) = \frac{e^{-nx}}{1+x}$. Alors, la suite $(f_n)_{n \geq 0}$

- converge uniformément sur $[1, +\infty[$ et la fonction limite est continue
- converge uniformément sur $[0, 1]$ et la fonction limite est continue
- converge uniformément sur $[0, +\infty[$

Question 4 ♣

Soit $(f_n)_{n \geq 0}$ une suite de fonctions définies sur un intervalle $I \subset \mathbb{R}$ à valeur dans \mathbb{R} . Quelles les conditions nécessaires pour appliquer le théorème d'interversion limites-dérivations?

- La suite de fonctions (f'_n) converge uniformément sur I vers une fonction g .
- La suite de fonctions (f_n) converge uniformément sur I vers une fonction f continue.
- Pour tout $n \in \mathbb{N}$, les fonctions f_n sont de classe C^1 sur I .
- $\exists x_0 \in I$, tel que la suite numérique $(f_n(x_0))_{n \geq 0}$ converge.
- $\forall x_0 \in I$, la suite $(f_n(x_0))_{n \geq 0}$ converge.



<input type="checkbox"/>	0	<input type="checkbox"/>	0	<input type="checkbox"/>	0	<input type="checkbox"/>	0	<input type="checkbox"/>	0	<input type="checkbox"/>	0	<input type="checkbox"/>	0	<input type="checkbox"/>	0	<input type="checkbox"/>	0
<input type="checkbox"/>	1	<input type="checkbox"/>	1	<input type="checkbox"/>	1	<input type="checkbox"/>	1	<input type="checkbox"/>	1	<input type="checkbox"/>	1	<input type="checkbox"/>	1	<input type="checkbox"/>	1	<input type="checkbox"/>	1
<input type="checkbox"/>	2	<input type="checkbox"/>	2	<input type="checkbox"/>	2	<input type="checkbox"/>	2	<input type="checkbox"/>	2	<input type="checkbox"/>	2	<input type="checkbox"/>	2	<input type="checkbox"/>	2	<input type="checkbox"/>	2
<input type="checkbox"/>	3	<input type="checkbox"/>	3	<input type="checkbox"/>	3	<input type="checkbox"/>	3	<input type="checkbox"/>	3	<input type="checkbox"/>	3	<input type="checkbox"/>	3	<input type="checkbox"/>	3	<input type="checkbox"/>	3
<input type="checkbox"/>	4	<input type="checkbox"/>	4	<input type="checkbox"/>	4	<input type="checkbox"/>	4	<input type="checkbox"/>	4	<input type="checkbox"/>	4	<input type="checkbox"/>	4	<input type="checkbox"/>	4	<input type="checkbox"/>	4
<input type="checkbox"/>	5	<input type="checkbox"/>	5	<input type="checkbox"/>	5	<input type="checkbox"/>	5	<input type="checkbox"/>	5	<input type="checkbox"/>	5	<input type="checkbox"/>	5	<input type="checkbox"/>	5	<input type="checkbox"/>	5
<input type="checkbox"/>	6	<input type="checkbox"/>	6	<input type="checkbox"/>	6	<input type="checkbox"/>	6	<input type="checkbox"/>	6	<input type="checkbox"/>	6	<input type="checkbox"/>	6	<input type="checkbox"/>	6	<input type="checkbox"/>	6
<input type="checkbox"/>	7	<input type="checkbox"/>	7	<input type="checkbox"/>	7	<input type="checkbox"/>	7	<input type="checkbox"/>	7	<input type="checkbox"/>	7	<input type="checkbox"/>	7	<input type="checkbox"/>	7	<input type="checkbox"/>	7
<input type="checkbox"/>	8	<input type="checkbox"/>	8	<input type="checkbox"/>	8	<input type="checkbox"/>	8	<input type="checkbox"/>	8	<input type="checkbox"/>	8	<input type="checkbox"/>	8	<input type="checkbox"/>	8	<input type="checkbox"/>	8
<input type="checkbox"/>	9	<input type="checkbox"/>	9	<input type="checkbox"/>	9	<input type="checkbox"/>	9	<input type="checkbox"/>	9	<input type="checkbox"/>	9	<input type="checkbox"/>	9	<input type="checkbox"/>	9	<input type="checkbox"/>	9

QCM3L Suites de Fonctions Préing2

← codez votre numéro d'étudiant ci-contre, et inscrivez votre nom et prénom ci-dessous (le NOM d'abord!).

Nom et prénom :

.....

.....

Les cases doivent être complètement noircies avec un stylo NOIR.

Question 1 ♣

Soit $(f_n)_{n \geq 0}$ une suite de fonctions définies par $f_n(x) = x^n \ln(x)$ pour $x \in]0, 1]$ et $f_n(0) = 0$. Alors

- $(f_n)_{n \geq 0}$ converge uniformément sur $[a, 1]$ ($a \in]0, 1[$)
- $(f_n)_{n \geq 0}$ converge uniformément sur $[0, 1]$
- $(f_n)_{n \geq 0}$ converge uniformément sur $[0, a]$ ($a \in]0, 1[$)

Question 2 ♣

Choisir les suites de fonctions $(f_n)_{n \geq 0}$ qui convergent uniformément vers leur limite simple:

- | | |
|---|--|
| <input type="checkbox"/> $f_n(x) = \frac{e^{-x}}{n}$ sur $]0; +\infty[$ | <input type="checkbox"/> $f_n(x) = nxe^{-nx}$ sur $[0; +\infty[$ |
| <input type="checkbox"/> $f_n(x) = \frac{e^{-x}}{n}$ sur $] - \infty, 0]$ | <input type="checkbox"/> $f_n(x) = nxe^{-nx}$ sur $[0; 1[$ |
| <input type="checkbox"/> $f_n(x) = nxe^{-nx}$ sur $[1; 2]$ | <input type="checkbox"/> $f_n(x) = nxe^{-nx}$ sur $[a; +\infty[$ avec $a \in]0; 1[$ |

Question 3 ♣

Soit $(f_n)_{n \geq 0}$ une suite de fonctions définies sur un intervalle $I \subset \mathbb{R}$ à valeur dans \mathbb{R} . Quelles les conditions nécessaires pour appliquer le théorème d'interversion limites-dérivations?

- La suite de fonctions (f_n) converge uniformément sur I vers une fonction f continue.
- La suite de fonctions (f'_n) converge uniformément sur I vers une fonction g .
- $\exists x_0 \in I$, tel que la suite numérique $(f_n(x_0))_{n \geq 0}$ converge.
- $\forall x_0 \in I$, la suite $(f_n(x_0))_{n \geq 0}$ converge.
- Pour tout $n \in \mathbb{N}$, les fonctions f_n sont de classe C^1 sur I.

Question 4 ♣

On définit la suite de fonctions $f_n(x) = \frac{e^{-nx}}{1+x}$. Alors, la suite $(f_n)_{n \geq 0}$

- converge uniformément sur $[1, +\infty[$ et la fonction limite est continue
- converge uniformément sur $[0, 1]$ et la fonction limite est continue
- converge uniformément sur $[0, +\infty[$



<input type="checkbox"/> 0	<input type="checkbox"/> 0	<input type="checkbox"/> 0	<input type="checkbox"/> 0	<input type="checkbox"/> 0	<input type="checkbox"/> 0	<input type="checkbox"/> 0	<input type="checkbox"/> 0	<input type="checkbox"/> 0
<input type="checkbox"/> 1	<input type="checkbox"/> 1	<input type="checkbox"/> 1	<input type="checkbox"/> 1	<input type="checkbox"/> 1	<input type="checkbox"/> 1	<input type="checkbox"/> 1	<input type="checkbox"/> 1	<input type="checkbox"/> 1
<input type="checkbox"/> 2	<input type="checkbox"/> 2	<input type="checkbox"/> 2	<input type="checkbox"/> 2	<input type="checkbox"/> 2	<input type="checkbox"/> 2	<input type="checkbox"/> 2	<input type="checkbox"/> 2	<input type="checkbox"/> 2
<input type="checkbox"/> 3	<input type="checkbox"/> 3	<input type="checkbox"/> 3	<input type="checkbox"/> 3	<input type="checkbox"/> 3	<input type="checkbox"/> 3	<input type="checkbox"/> 3	<input type="checkbox"/> 3	<input type="checkbox"/> 3
<input type="checkbox"/> 4	<input type="checkbox"/> 4	<input type="checkbox"/> 4	<input type="checkbox"/> 4	<input type="checkbox"/> 4	<input type="checkbox"/> 4	<input type="checkbox"/> 4	<input type="checkbox"/> 4	<input type="checkbox"/> 4
<input type="checkbox"/> 5	<input type="checkbox"/> 5	<input type="checkbox"/> 5	<input type="checkbox"/> 5	<input type="checkbox"/> 5	<input type="checkbox"/> 5	<input type="checkbox"/> 5	<input type="checkbox"/> 5	<input type="checkbox"/> 5
<input type="checkbox"/> 6	<input type="checkbox"/> 6	<input type="checkbox"/> 6	<input type="checkbox"/> 6	<input type="checkbox"/> 6	<input type="checkbox"/> 6	<input type="checkbox"/> 6	<input type="checkbox"/> 6	<input type="checkbox"/> 6
<input type="checkbox"/> 7	<input type="checkbox"/> 7	<input type="checkbox"/> 7	<input type="checkbox"/> 7	<input type="checkbox"/> 7	<input type="checkbox"/> 7	<input type="checkbox"/> 7	<input type="checkbox"/> 7	<input type="checkbox"/> 7
<input type="checkbox"/> 8	<input type="checkbox"/> 8	<input type="checkbox"/> 8	<input type="checkbox"/> 8	<input type="checkbox"/> 8	<input type="checkbox"/> 8	<input type="checkbox"/> 8	<input type="checkbox"/> 8	<input type="checkbox"/> 8
<input type="checkbox"/> 9	<input type="checkbox"/> 9	<input type="checkbox"/> 9	<input type="checkbox"/> 9	<input type="checkbox"/> 9	<input type="checkbox"/> 9	<input type="checkbox"/> 9	<input type="checkbox"/> 9	<input type="checkbox"/> 9

QCM3L Suites de Fonctions Préing2

← codez votre numéro d'étudiant ci-contre, et inscrivez votre nom et prénom ci-dessous (le NOM d'abord!).

Nom et prénom :
.....
.....

Les cases doivent être complètement noircies avec un stylo NOIR.

Question 1 ♣

On définit la suite de fonctions $f_n(x) = \frac{e^{-nx}}{1+x}$. Alors, la suite $(f_n)_{n \geq 0}$

- converge uniformément sur $[0, +\infty[$
- converge uniformément sur $[0, 1]$ et la fonction limite est continue
- converge uniformément sur $[1, +\infty[$ et la fonction limite est continue

Question 2 ♣

Choisir les suites de fonctions $(f_n)_{n \geq 0}$ qui convergent uniformément vers leur limite simple:

- $f_n(x) = nxe^{-nx}$ sur $[a; +\infty[$ avec $a \in]0; 1[$
- $f_n(x) = \frac{e^{-x}}{n}$ sur $]0; +\infty[$
- $f_n(x) = nxe^{-nx}$ sur $[0; 1[$
- $f_n(x) = nxe^{-nx}$ sur $[1; 2]$
- $f_n(x) = nxe^{-nx}$ sur $[0; +\infty[$
- $f_n(x) = \frac{e^{-x}}{n}$ sur $] - \infty, 0]$

Question 3 ♣

Soit $(f_n)_{n \geq 0}$ une suite de fonctions définies par $f_n(x) = x^n \ln(x)$ pour $x \in]0, 1]$ et $f_n(0) = 0$. Alors

- $(f_n)_{n \geq 0}$ converge uniformément sur $[0, a]$ ($a \in]0, 1[$)
- $(f_n)_{n \geq 0}$ converge uniformément sur $[a, 1]$ ($a \in]0, 1[$)
- $(f_n)_{n \geq 0}$ converge uniformément sur $[0, 1]$

Question 4 ♣

Soit $(f_n)_{n \geq 0}$ une suite de fonctions définies sur un intervalle $I \subset \mathbb{R}$ à valeur dans \mathbb{R} . Quelles les conditions nécessaires pour appliquer le théorème d'interversion limites-dérivations?

- $\exists x_0 \in I$, tel que la suite numérique $(f_n(x_0))_{n \geq 0}$ converge.
- La suite de fonctions (f_n) converge uniformément sur I vers une fonction f continue.
- La suite de fonctions (f'_n) converge uniformément sur I vers une fonction g .
- $\forall x_0 \in I$, la suite $(f_n(x_0))_{n \geq 0}$ converge.
- Pour tout $n \in \mathbb{N}$, les fonctions f_n sont de classe C^1 sur I.



<input type="checkbox"/>	0	<input type="checkbox"/>	0	<input type="checkbox"/>	0	<input type="checkbox"/>	0	<input type="checkbox"/>	0	<input type="checkbox"/>	0	<input type="checkbox"/>	0	<input type="checkbox"/>	0	<input type="checkbox"/>	0
<input type="checkbox"/>	1	<input type="checkbox"/>	1	<input type="checkbox"/>	1	<input type="checkbox"/>	1	<input type="checkbox"/>	1	<input type="checkbox"/>	1	<input type="checkbox"/>	1	<input type="checkbox"/>	1	<input type="checkbox"/>	1
<input type="checkbox"/>	2	<input type="checkbox"/>	2	<input type="checkbox"/>	2	<input type="checkbox"/>	2	<input type="checkbox"/>	2	<input type="checkbox"/>	2	<input type="checkbox"/>	2	<input type="checkbox"/>	2	<input type="checkbox"/>	2
<input type="checkbox"/>	3	<input type="checkbox"/>	3	<input type="checkbox"/>	3	<input type="checkbox"/>	3	<input type="checkbox"/>	3	<input type="checkbox"/>	3	<input type="checkbox"/>	3	<input type="checkbox"/>	3	<input type="checkbox"/>	3
<input type="checkbox"/>	4	<input type="checkbox"/>	4	<input type="checkbox"/>	4	<input type="checkbox"/>	4	<input type="checkbox"/>	4	<input type="checkbox"/>	4	<input type="checkbox"/>	4	<input type="checkbox"/>	4	<input type="checkbox"/>	4
<input type="checkbox"/>	5	<input type="checkbox"/>	5	<input type="checkbox"/>	5	<input type="checkbox"/>	5	<input type="checkbox"/>	5	<input type="checkbox"/>	5	<input type="checkbox"/>	5	<input type="checkbox"/>	5	<input type="checkbox"/>	5
<input type="checkbox"/>	6	<input type="checkbox"/>	6	<input type="checkbox"/>	6	<input type="checkbox"/>	6	<input type="checkbox"/>	6	<input type="checkbox"/>	6	<input type="checkbox"/>	6	<input type="checkbox"/>	6	<input type="checkbox"/>	6
<input type="checkbox"/>	7	<input type="checkbox"/>	7	<input type="checkbox"/>	7	<input type="checkbox"/>	7	<input type="checkbox"/>	7	<input type="checkbox"/>	7	<input type="checkbox"/>	7	<input type="checkbox"/>	7	<input type="checkbox"/>	7
<input type="checkbox"/>	8	<input type="checkbox"/>	8	<input type="checkbox"/>	8	<input type="checkbox"/>	8	<input type="checkbox"/>	8	<input type="checkbox"/>	8	<input type="checkbox"/>	8	<input type="checkbox"/>	8	<input type="checkbox"/>	8
<input type="checkbox"/>	9	<input type="checkbox"/>	9	<input type="checkbox"/>	9	<input type="checkbox"/>	9	<input type="checkbox"/>	9	<input type="checkbox"/>	9	<input type="checkbox"/>	9	<input type="checkbox"/>	9	<input type="checkbox"/>	9

QCM3L Suites de Fonctions Préing2

← codez votre numéro d'étudiant ci-contre, et inscrivez votre nom et prénom ci-dessous (le NOM d'abord!).

Nom et prénom :

.....

.....

Les cases doivent être complètement noircies avec un stylo NOIR.

Question 1 ♣

Soit $(f_n)_{n \geq 0}$ une suite de fonctions définies par $f_n(x) = x^n \ln(x)$ pour $x \in]0, 1]$ et $f_n(0) = 0$. Alors

- $(f_n)_{n \geq 0}$ converge uniformément sur $[0, 1]$
- $(f_n)_{n \geq 0}$ converge uniformément sur $[a, 1]$ ($a \in]0, 1[$)
- $(f_n)_{n \geq 0}$ converge uniformément sur $[0, a]$ ($a \in]0, 1[$)

Question 2 ♣

On définit la suite de fonctions $f_n(x) = \frac{e^{-nx}}{1+x}$. Alors, la suite $(f_n)_{n \geq 0}$

- converge uniformément sur $[1, +\infty[$ et la fonction limite est continue
- converge uniformément sur $[0, 1]$ et la fonction limite est continue
- converge uniformément sur $[0, +\infty[$

Question 3 ♣

Choisir les suites de fonctions $(f_n)_{n \geq 0}$ qui convergent uniformément vers leur limite simple:

- | | |
|--|---|
| <input type="checkbox"/> $f_n(x) = nxe^{-nx}$ sur $[a; +\infty[$ avec $a \in]0; 1[$ | <input type="checkbox"/> $f_n(x) = \frac{e^{-x}}{n}$ sur $]0; +\infty[$ |
| <input type="checkbox"/> $f_n(x) = nxe^{-nx}$ sur $[0; 1[$ | <input type="checkbox"/> $f_n(x) = nxe^{-nx}$ sur $[0; +\infty[$ |
| <input type="checkbox"/> $f_n(x) = nxe^{-nx}$ sur $[1; 2]$ | <input type="checkbox"/> $f_n(x) = \frac{e^{-x}}{n}$ sur $] - \infty, 0]$ |

Question 4 ♣

Soit $(f_n)_{n \geq 0}$ une suite de fonctions définies sur un intervalle $I \subset \mathbb{R}$ à valeur dans \mathbb{R} . Quelles les conditions nécessaires pour appliquer le théorème d'interversion limites-dérivations?

- La suite de fonctions (f'_n) converge uniformément sur I vers une fonction g .
- $\exists x_0 \in I$, tel que la suite numérique $(f_n(x_0))_{n \geq 0}$ converge.
- Pour tout $n \in \mathbb{N}$, les fonctions f_n sont de classe C^1 sur I .
- La suite de fonctions (f_n) converge uniformément sur I vers une fonction f continue.
- $\forall x_0 \in I$, la suite $(f_n(x_0))_{n \geq 0}$ converge.



<input type="checkbox"/>	0	<input type="checkbox"/>	0	<input type="checkbox"/>	0	<input type="checkbox"/>	0	<input type="checkbox"/>	0	<input type="checkbox"/>	0	<input type="checkbox"/>	0	<input type="checkbox"/>	0	<input type="checkbox"/>	0
<input type="checkbox"/>	1	<input type="checkbox"/>	1	<input type="checkbox"/>	1	<input type="checkbox"/>	1	<input type="checkbox"/>	1	<input type="checkbox"/>	1	<input type="checkbox"/>	1	<input type="checkbox"/>	1	<input type="checkbox"/>	1
<input type="checkbox"/>	2	<input type="checkbox"/>	2	<input type="checkbox"/>	2	<input type="checkbox"/>	2	<input type="checkbox"/>	2	<input type="checkbox"/>	2	<input type="checkbox"/>	2	<input type="checkbox"/>	2	<input type="checkbox"/>	2
<input type="checkbox"/>	3	<input type="checkbox"/>	3	<input type="checkbox"/>	3	<input type="checkbox"/>	3	<input type="checkbox"/>	3	<input type="checkbox"/>	3	<input type="checkbox"/>	3	<input type="checkbox"/>	3	<input type="checkbox"/>	3
<input type="checkbox"/>	4	<input type="checkbox"/>	4	<input type="checkbox"/>	4	<input type="checkbox"/>	4	<input type="checkbox"/>	4	<input type="checkbox"/>	4	<input type="checkbox"/>	4	<input type="checkbox"/>	4	<input type="checkbox"/>	4
<input type="checkbox"/>	5	<input type="checkbox"/>	5	<input type="checkbox"/>	5	<input type="checkbox"/>	5	<input type="checkbox"/>	5	<input type="checkbox"/>	5	<input type="checkbox"/>	5	<input type="checkbox"/>	5	<input type="checkbox"/>	5
<input type="checkbox"/>	6	<input type="checkbox"/>	6	<input type="checkbox"/>	6	<input type="checkbox"/>	6	<input type="checkbox"/>	6	<input type="checkbox"/>	6	<input type="checkbox"/>	6	<input type="checkbox"/>	6	<input type="checkbox"/>	6
<input type="checkbox"/>	7	<input type="checkbox"/>	7	<input type="checkbox"/>	7	<input type="checkbox"/>	7	<input type="checkbox"/>	7	<input type="checkbox"/>	7	<input type="checkbox"/>	7	<input type="checkbox"/>	7	<input type="checkbox"/>	7
<input type="checkbox"/>	8	<input type="checkbox"/>	8	<input type="checkbox"/>	8	<input type="checkbox"/>	8	<input type="checkbox"/>	8	<input type="checkbox"/>	8	<input type="checkbox"/>	8	<input type="checkbox"/>	8	<input type="checkbox"/>	8
<input type="checkbox"/>	9	<input type="checkbox"/>	9	<input type="checkbox"/>	9	<input type="checkbox"/>	9	<input type="checkbox"/>	9	<input type="checkbox"/>	9	<input type="checkbox"/>	9	<input type="checkbox"/>	9	<input type="checkbox"/>	9

QCM3L Suites de Fonctions Préing2

← codez votre numéro d'étudiant ci-contre, et inscrivez votre nom et prénom ci-dessous (le NOM d'abord!).

Nom et prénom :
.....
.....

Les cases doivent être complètement noircies avec un stylo NOIR.

Question 1 ♣

Soit $(f_n)_{n \geq 0}$ une suite de fonctions définies sur un intervalle $I \subset \mathbb{R}$ à valeur dans \mathbb{R} . Quelles les conditions nécessaires pour appliquer le théorème d'interversion limites-dérivations?

- Pour tout $n \in \mathbb{N}$, les fonctions f_n sont de classe C^1 sur I .
- $\exists x_0 \in I$, tel que la suite numérique $(f_n(x_0))_{n \geq 0}$ converge.
- La suite de fonctions (f'_n) converge uniformément sur I vers une fonction g .
- La suite de fonctions (f_n) converge uniformément sur I vers une fonction f continue.
- $\forall x_0 \in I$, la suite $(f_n(x_0))_{n \geq 0}$ converge.

Question 2 ♣

Choisir les suites de fonctions $(f_n)_{n \geq 0}$ qui convergent uniformément vers leur limite simple:

- | | |
|--|---|
| <input type="checkbox"/> $f_n(x) = \frac{e^{-x}}{n}$ sur $] -\infty, 0]$ | <input type="checkbox"/> $f_n(x) = nxe^{-nx}$ sur $[1; 2]$ |
| <input type="checkbox"/> $f_n(x) = nxe^{-nx}$ sur $[0; +\infty[$ | <input type="checkbox"/> $f_n(x) = nxe^{-nx}$ sur $[0; 1[$ |
| <input type="checkbox"/> $f_n(x) = nxe^{-nx}$ sur $[a; +\infty[$ avec $a \in]0; 1[$ | <input type="checkbox"/> $f_n(x) = \frac{e^{-x}}{n}$ sur $]0; +\infty[$ |

Question 3 ♣

Soit $(f_n)_{n \geq 0}$ une suite de fonctions définies par $f_n(x) = x^n \ln(x)$ pour $x \in]0, 1]$ et $f_n(0) = 0$. Alors

- $(f_n)_{n \geq 0}$ converge uniformément sur $[0, a]$ ($a \in]0, 1[$)
- $(f_n)_{n \geq 0}$ converge uniformément sur $[a, 1]$ ($a \in]0, 1[$)
- $(f_n)_{n \geq 0}$ converge uniformément sur $[0, 1]$

Question 4 ♣

On définit la suite de fonctions $f_n(x) = \frac{e^{-nx}}{1+x}$. Alors, la suite $(f_n)_{n \geq 0}$

- converge uniformément sur $[1, +\infty[$ et la fonction limite est continue
- converge uniformément sur $[0, 1]$ et la fonction limite est continue
- converge uniformément sur $[0, +\infty[$



<input type="checkbox"/>	0	<input type="checkbox"/>	0	<input type="checkbox"/>	0	<input type="checkbox"/>	0	<input type="checkbox"/>	0	<input type="checkbox"/>	0	<input type="checkbox"/>	0	<input type="checkbox"/>	0	<input type="checkbox"/>	0
<input type="checkbox"/>	1	<input type="checkbox"/>	1	<input type="checkbox"/>	1	<input type="checkbox"/>	1	<input type="checkbox"/>	1	<input type="checkbox"/>	1	<input type="checkbox"/>	1	<input type="checkbox"/>	1	<input type="checkbox"/>	1
<input type="checkbox"/>	2	<input type="checkbox"/>	2	<input type="checkbox"/>	2	<input type="checkbox"/>	2	<input type="checkbox"/>	2	<input type="checkbox"/>	2	<input type="checkbox"/>	2	<input type="checkbox"/>	2	<input type="checkbox"/>	2
<input type="checkbox"/>	3	<input type="checkbox"/>	3	<input type="checkbox"/>	3	<input type="checkbox"/>	3	<input type="checkbox"/>	3	<input type="checkbox"/>	3	<input type="checkbox"/>	3	<input type="checkbox"/>	3	<input type="checkbox"/>	3
<input type="checkbox"/>	4	<input type="checkbox"/>	4	<input type="checkbox"/>	4	<input type="checkbox"/>	4	<input type="checkbox"/>	4	<input type="checkbox"/>	4	<input type="checkbox"/>	4	<input type="checkbox"/>	4	<input type="checkbox"/>	4
<input type="checkbox"/>	5	<input type="checkbox"/>	5	<input type="checkbox"/>	5	<input type="checkbox"/>	5	<input type="checkbox"/>	5	<input type="checkbox"/>	5	<input type="checkbox"/>	5	<input type="checkbox"/>	5	<input type="checkbox"/>	5
<input type="checkbox"/>	6	<input type="checkbox"/>	6	<input type="checkbox"/>	6	<input type="checkbox"/>	6	<input type="checkbox"/>	6	<input type="checkbox"/>	6	<input type="checkbox"/>	6	<input type="checkbox"/>	6	<input type="checkbox"/>	6
<input type="checkbox"/>	7	<input type="checkbox"/>	7	<input type="checkbox"/>	7	<input type="checkbox"/>	7	<input type="checkbox"/>	7	<input type="checkbox"/>	7	<input type="checkbox"/>	7	<input type="checkbox"/>	7	<input type="checkbox"/>	7
<input type="checkbox"/>	8	<input type="checkbox"/>	8	<input type="checkbox"/>	8	<input type="checkbox"/>	8	<input type="checkbox"/>	8	<input type="checkbox"/>	8	<input type="checkbox"/>	8	<input type="checkbox"/>	8	<input type="checkbox"/>	8
<input type="checkbox"/>	9	<input type="checkbox"/>	9	<input type="checkbox"/>	9	<input type="checkbox"/>	9	<input type="checkbox"/>	9	<input type="checkbox"/>	9	<input type="checkbox"/>	9	<input type="checkbox"/>	9	<input type="checkbox"/>	9

QCM3L Suites de Fonctions Préing2

← codez votre numéro d'étudiant ci-contre, et inscrivez votre nom et prénom ci-dessous (le NOM d'abord!).

Nom et prénom :

.....

.....

Les cases doivent être complètement noircies avec un stylo NOIR.

Question 1 ♣

Soit $(f_n)_{n \geq 0}$ une suite de fonctions définies sur un intervalle $I \subset \mathbb{R}$ à valeur dans \mathbb{R} . Quelles les conditions nécessaires pour appliquer le théorème d'interversion limites-dérivations?

- La suite de fonctions (f_n) converge uniformément sur I vers une fonction f continue.
- $\exists x_0 \in I$, tel que la suite numérique $(f_n(x_0))_{n \geq 0}$ converge.
- La suite de fonctions (f'_n) converge uniformément sur I vers une fonction g .
- Pour tout $n \in \mathbb{N}$, les fonctions f_n sont de classe C^1 sur I.
- $\forall x_0 \in I$, la suite $(f_n(x_0))_{n \geq 0}$ converge.

Question 2 ♣

Soit $(f_n)_{n \geq 0}$ une suite de fonctions définies par $f_n(x) = x^n \ln(x)$ pour $x \in]0, 1]$ et $f_n(0) = 0$. Alors

- $(f_n)_{n \geq 0}$ converge uniformément sur $[a, 1]$ ($a \in]0, 1[$)
- $(f_n)_{n \geq 0}$ converge uniformément sur $[0, 1]$
- $(f_n)_{n \geq 0}$ converge uniformément sur $[0, a]$ ($a \in]0, 1[$)

Question 3 ♣

Choisir les suites de fonctions $(f_n)_{n \geq 0}$ qui convergent uniformément vers leur limite simple:

- | | |
|---|--|
| <input type="checkbox"/> $f_n(x) = nxe^{-nx}$ sur $[1; 2]$ | <input type="checkbox"/> $f_n(x) = \frac{e^{-x}}{n}$ sur $] - \infty, 0]$ |
| <input type="checkbox"/> $f_n(x) = nxe^{-nx}$ sur $[0; 1[$ | <input type="checkbox"/> $f_n(x) = nxe^{-nx}$ sur $[a; +\infty[$ avec $a \in]0; 1[$ |
| <input type="checkbox"/> $f_n(x) = \frac{e^{-x}}{n}$ sur $]0; +\infty[$ | <input type="checkbox"/> $f_n(x) = nxe^{-nx}$ sur $[0; +\infty[$ |

Question 4 ♣

On définit la suite de fonctions $f_n(x) = \frac{e^{-nx}}{1+x}$. Alors, la suite $(f_n)_{n \geq 0}$

- converge uniformément sur $[0, 1]$ et la fonction limite est continue
- converge uniformément sur $[0, +\infty[$
- converge uniformément sur $[1, +\infty[$ et la fonction limite est continue



<input type="checkbox"/>	0	<input type="checkbox"/>	0	<input type="checkbox"/>	0	<input type="checkbox"/>	0	<input type="checkbox"/>	0	<input type="checkbox"/>	0	<input type="checkbox"/>	0	<input type="checkbox"/>	0	<input type="checkbox"/>	0
<input type="checkbox"/>	1	<input type="checkbox"/>	1	<input type="checkbox"/>	1	<input type="checkbox"/>	1	<input type="checkbox"/>	1	<input type="checkbox"/>	1	<input type="checkbox"/>	1	<input type="checkbox"/>	1	<input type="checkbox"/>	1
<input type="checkbox"/>	2	<input type="checkbox"/>	2	<input type="checkbox"/>	2	<input type="checkbox"/>	2	<input type="checkbox"/>	2	<input type="checkbox"/>	2	<input type="checkbox"/>	2	<input type="checkbox"/>	2	<input type="checkbox"/>	2
<input type="checkbox"/>	3	<input type="checkbox"/>	3	<input type="checkbox"/>	3	<input type="checkbox"/>	3	<input type="checkbox"/>	3	<input type="checkbox"/>	3	<input type="checkbox"/>	3	<input type="checkbox"/>	3	<input type="checkbox"/>	3
<input type="checkbox"/>	4	<input type="checkbox"/>	4	<input type="checkbox"/>	4	<input type="checkbox"/>	4	<input type="checkbox"/>	4	<input type="checkbox"/>	4	<input type="checkbox"/>	4	<input type="checkbox"/>	4	<input type="checkbox"/>	4
<input type="checkbox"/>	5	<input type="checkbox"/>	5	<input type="checkbox"/>	5	<input type="checkbox"/>	5	<input type="checkbox"/>	5	<input type="checkbox"/>	5	<input type="checkbox"/>	5	<input type="checkbox"/>	5	<input type="checkbox"/>	5
<input type="checkbox"/>	6	<input type="checkbox"/>	6	<input type="checkbox"/>	6	<input type="checkbox"/>	6	<input type="checkbox"/>	6	<input type="checkbox"/>	6	<input type="checkbox"/>	6	<input type="checkbox"/>	6	<input type="checkbox"/>	6
<input type="checkbox"/>	7	<input type="checkbox"/>	7	<input type="checkbox"/>	7	<input type="checkbox"/>	7	<input type="checkbox"/>	7	<input type="checkbox"/>	7	<input type="checkbox"/>	7	<input type="checkbox"/>	7	<input type="checkbox"/>	7
<input type="checkbox"/>	8	<input type="checkbox"/>	8	<input type="checkbox"/>	8	<input type="checkbox"/>	8	<input type="checkbox"/>	8	<input type="checkbox"/>	8	<input type="checkbox"/>	8	<input type="checkbox"/>	8	<input type="checkbox"/>	8
<input type="checkbox"/>	9	<input type="checkbox"/>	9	<input type="checkbox"/>	9	<input type="checkbox"/>	9	<input type="checkbox"/>	9	<input type="checkbox"/>	9	<input type="checkbox"/>	9	<input type="checkbox"/>	9	<input type="checkbox"/>	9

QCM3L Suites de Fonctions Préing2

← codez votre numéro d'étudiant ci-contre, et inscrivez votre nom et prénom ci-dessous (le NOM d'abord!).

Nom et prénom :
.....
.....

Les cases doivent être complètement noircies avec un stylo NOIR.

Question 1 ♣

Choisir les suites de fonctions $(f_n)_{n \geq 0}$ qui convergent uniformément vers leur limite simple:

- | | |
|--|---|
| <input type="checkbox"/> $f_n(x) = nxe^{-nx}$ sur $[1; 2]$ | <input type="checkbox"/> $f_n(x) = nxe^{-nx}$ sur $[0; +\infty[$ |
| <input type="checkbox"/> $f_n(x) = nxe^{-nx}$ sur $[a; +\infty[$ avec $a \in]0; 1[$ | <input type="checkbox"/> $f_n(x) = nxe^{-nx}$ sur $[0; 1[$ |
| <input type="checkbox"/> $f_n(x) = \frac{e^{-x}}{n}$ sur $]0; +\infty[$ | <input type="checkbox"/> $f_n(x) = \frac{e^{-x}}{n}$ sur $] - \infty, 0]$ |

Question 2 ♣

Soit $(f_n)_{n \geq 0}$ une suite de fonctions définies sur un intervalle $I \subset \mathbb{R}$ à valeur dans \mathbb{R} . Quelles les conditions nécessaires pour appliquer le théorème d'interversion limites-dérivations?

- $\exists x_0 \in I$, tel que la suite numérique $(f_n(x_0))_{n \geq 0}$ converge.
- Pour tout $n \in \mathbb{N}$, les fonctions f_n sont de classe C^1 sur I .
- $\forall x_0 \in I$, la suite $(f_n(x_0))_{n \geq 0}$ converge.
- La suite de fonctions (f'_n) converge uniformément sur I vers une fonction g .
- La suite de fonctions (f_n) converge uniformément sur I vers une fonction f continue.

Question 3 ♣

Soit $(f_n)_{n \geq 0}$ une suite de fonctions définies par $f_n(x) = x^n \ln(x)$ pour $x \in]0, 1]$ et $f_n(0) = 0$. Alors

- $(f_n)_{n \geq 0}$ converge uniformément sur $[0, a]$ ($a \in]0, 1[$)
- $(f_n)_{n \geq 0}$ converge uniformément sur $[a, 1]$ ($a \in]0, 1[$)
- $(f_n)_{n \geq 0}$ converge uniformément sur $[0, 1]$

Question 4 ♣

On définit la suite de fonctions $f_n(x) = \frac{e^{-nx}}{1+x}$. Alors, la suite $(f_n)_{n \geq 0}$

- converge uniformément sur $[0, +\infty[$
- converge uniformément sur $[1, +\infty[$ et la fonction limite est continue
- converge uniformément sur $[0, 1]$ et la fonction limite est continue



<input type="checkbox"/>	0	<input type="checkbox"/>	0	<input type="checkbox"/>	0	<input type="checkbox"/>	0	<input type="checkbox"/>	0	<input type="checkbox"/>	0	<input type="checkbox"/>	0	<input type="checkbox"/>	0	<input type="checkbox"/>	0
<input type="checkbox"/>	1	<input type="checkbox"/>	1	<input type="checkbox"/>	1	<input type="checkbox"/>	1	<input type="checkbox"/>	1	<input type="checkbox"/>	1	<input type="checkbox"/>	1	<input type="checkbox"/>	1	<input type="checkbox"/>	1
<input type="checkbox"/>	2	<input type="checkbox"/>	2	<input type="checkbox"/>	2	<input type="checkbox"/>	2	<input type="checkbox"/>	2	<input type="checkbox"/>	2	<input type="checkbox"/>	2	<input type="checkbox"/>	2	<input type="checkbox"/>	2
<input type="checkbox"/>	3	<input type="checkbox"/>	3	<input type="checkbox"/>	3	<input type="checkbox"/>	3	<input type="checkbox"/>	3	<input type="checkbox"/>	3	<input type="checkbox"/>	3	<input type="checkbox"/>	3	<input type="checkbox"/>	3
<input type="checkbox"/>	4	<input type="checkbox"/>	4	<input type="checkbox"/>	4	<input type="checkbox"/>	4	<input type="checkbox"/>	4	<input type="checkbox"/>	4	<input type="checkbox"/>	4	<input type="checkbox"/>	4	<input type="checkbox"/>	4
<input type="checkbox"/>	5	<input type="checkbox"/>	5	<input type="checkbox"/>	5	<input type="checkbox"/>	5	<input type="checkbox"/>	5	<input type="checkbox"/>	5	<input type="checkbox"/>	5	<input type="checkbox"/>	5	<input type="checkbox"/>	5
<input type="checkbox"/>	6	<input type="checkbox"/>	6	<input type="checkbox"/>	6	<input type="checkbox"/>	6	<input type="checkbox"/>	6	<input type="checkbox"/>	6	<input type="checkbox"/>	6	<input type="checkbox"/>	6	<input type="checkbox"/>	6
<input type="checkbox"/>	7	<input type="checkbox"/>	7	<input type="checkbox"/>	7	<input type="checkbox"/>	7	<input type="checkbox"/>	7	<input type="checkbox"/>	7	<input type="checkbox"/>	7	<input type="checkbox"/>	7	<input type="checkbox"/>	7
<input type="checkbox"/>	8	<input type="checkbox"/>	8	<input type="checkbox"/>	8	<input type="checkbox"/>	8	<input type="checkbox"/>	8	<input type="checkbox"/>	8	<input type="checkbox"/>	8	<input type="checkbox"/>	8	<input type="checkbox"/>	8
<input type="checkbox"/>	9	<input type="checkbox"/>	9	<input type="checkbox"/>	9	<input type="checkbox"/>	9	<input type="checkbox"/>	9	<input type="checkbox"/>	9	<input type="checkbox"/>	9	<input type="checkbox"/>	9	<input type="checkbox"/>	9

QCM3L Suites de Fonctions Préing2

← codez votre numéro d'étudiant ci-contre, et inscrivez votre nom et prénom ci-dessous (le NOM d'abord!).

Nom et prénom :

.....

.....

Les cases doivent être complètement noircies avec un stylo NOIR.

Question 1 ♣

Soit $(f_n)_{n \geq 0}$ une suite de fonctions définies par $f_n(x) = x^n \ln(x)$ pour $x \in]0, 1]$ et $f_n(0) = 0$. Alors

- $(f_n)_{n \geq 0}$ converge uniformément sur $[a, 1]$ ($a \in]0, 1[$)
- $(f_n)_{n \geq 0}$ converge uniformément sur $[0, 1]$
- $(f_n)_{n \geq 0}$ converge uniformément sur $[0, a]$ ($a \in]0, 1[$)

Question 2 ♣

Choisir les suites de fonctions $(f_n)_{n \geq 0}$ qui convergent uniformément vers leur limite simple:

- | | |
|--|---|
| <input type="checkbox"/> $f_n(x) = nxe^{-nx}$ sur $[a; +\infty[$ avec $a \in]0; 1[$ | <input type="checkbox"/> $f_n(x) = nxe^{-nx}$ sur $[1; 2]$ |
| <input type="checkbox"/> $f_n(x) = \frac{e^{-x}}{n}$ sur $] - \infty, 0]$ | <input type="checkbox"/> $f_n(x) = nxe^{-nx}$ sur $[0; +\infty[$ |
| <input type="checkbox"/> $f_n(x) = nxe^{-nx}$ sur $[0; 1[$ | <input type="checkbox"/> $f_n(x) = \frac{e^{-x}}{n}$ sur $]0; +\infty[$ |

Question 3 ♣

Soit $(f_n)_{n \geq 0}$ une suite de fonctions définies sur un intervalle $I \subset \mathbb{R}$ à valeur dans \mathbb{R} . Quelles les conditions nécessaires pour appliquer le théorème d'interversion limites-dérivations?

- $\exists x_0 \in I$, tel que la suite numérique $(f_n(x_0))_{n \geq 0}$ converge.
- La suite de fonctions (f'_n) converge uniformément sur I vers une fonction g .
- La suite de fonctions (f_n) converge uniformément sur I vers une fonction f continue.
- Pour tout $n \in \mathbb{N}$, les fonctions f_n sont de classe C^1 sur I.
- $\forall x_0 \in I$, la suite $(f_n(x_0))_{n \geq 0}$ converge.

Question 4 ♣

On définit la suite de fonctions $f_n(x) = \frac{e^{-nx}}{1+x}$. Alors, la suite $(f_n)_{n \geq 0}$

- converge uniformément sur $[0, 1]$ et la fonction limite est continue
- converge uniformément sur $[1, +\infty[$ et la fonction limite est continue
- converge uniformément sur $[0, +\infty[$



<input type="checkbox"/>	0	<input type="checkbox"/>	0	<input type="checkbox"/>	0	<input type="checkbox"/>	0	<input type="checkbox"/>	0	<input type="checkbox"/>	0	<input type="checkbox"/>	0	<input type="checkbox"/>	0	<input type="checkbox"/>	0
<input type="checkbox"/>	1	<input type="checkbox"/>	1	<input type="checkbox"/>	1	<input type="checkbox"/>	1	<input type="checkbox"/>	1	<input type="checkbox"/>	1	<input type="checkbox"/>	1	<input type="checkbox"/>	1	<input type="checkbox"/>	1
<input type="checkbox"/>	2	<input type="checkbox"/>	2	<input type="checkbox"/>	2	<input type="checkbox"/>	2	<input type="checkbox"/>	2	<input type="checkbox"/>	2	<input type="checkbox"/>	2	<input type="checkbox"/>	2	<input type="checkbox"/>	2
<input type="checkbox"/>	3	<input type="checkbox"/>	3	<input type="checkbox"/>	3	<input type="checkbox"/>	3	<input type="checkbox"/>	3	<input type="checkbox"/>	3	<input type="checkbox"/>	3	<input type="checkbox"/>	3	<input type="checkbox"/>	3
<input type="checkbox"/>	4	<input type="checkbox"/>	4	<input type="checkbox"/>	4	<input type="checkbox"/>	4	<input type="checkbox"/>	4	<input type="checkbox"/>	4	<input type="checkbox"/>	4	<input type="checkbox"/>	4	<input type="checkbox"/>	4
<input type="checkbox"/>	5	<input type="checkbox"/>	5	<input type="checkbox"/>	5	<input type="checkbox"/>	5	<input type="checkbox"/>	5	<input type="checkbox"/>	5	<input type="checkbox"/>	5	<input type="checkbox"/>	5	<input type="checkbox"/>	5
<input type="checkbox"/>	6	<input type="checkbox"/>	6	<input type="checkbox"/>	6	<input type="checkbox"/>	6	<input type="checkbox"/>	6	<input type="checkbox"/>	6	<input type="checkbox"/>	6	<input type="checkbox"/>	6	<input type="checkbox"/>	6
<input type="checkbox"/>	7	<input type="checkbox"/>	7	<input type="checkbox"/>	7	<input type="checkbox"/>	7	<input type="checkbox"/>	7	<input type="checkbox"/>	7	<input type="checkbox"/>	7	<input type="checkbox"/>	7	<input type="checkbox"/>	7
<input type="checkbox"/>	8	<input type="checkbox"/>	8	<input type="checkbox"/>	8	<input type="checkbox"/>	8	<input type="checkbox"/>	8	<input type="checkbox"/>	8	<input type="checkbox"/>	8	<input type="checkbox"/>	8	<input type="checkbox"/>	8
<input type="checkbox"/>	9	<input type="checkbox"/>	9	<input type="checkbox"/>	9	<input type="checkbox"/>	9	<input type="checkbox"/>	9	<input type="checkbox"/>	9	<input type="checkbox"/>	9	<input type="checkbox"/>	9	<input type="checkbox"/>	9

QCM3L Suites de Fonctions Préing2

← codez votre numéro d'étudiant ci-contre, et inscrivez votre nom et prénom ci-dessous (le NOM d'abord!).

Nom et prénom :

.....

.....

Les cases doivent être complètement noircies avec un stylo NOIR.

Question 1 ♣

Soit $(f_n)_{n \geq 0}$ une suite de fonctions définies sur un intervalle $I \subset \mathbb{R}$ à valeur dans \mathbb{R} . Quelles les conditions nécessaires pour appliquer le théorème d'interversion limites-dérivations?

- La suite de fonctions (f'_n) converge uniformément sur I vers une fonction g .
- $\forall x_0 \in I$, la suite $(f_n(x_0))_{n \geq 0}$ converge.
- Pour tout $n \in \mathbb{N}$, les fonctions f_n sont de classe C^1 sur I.
- $\exists x_0 \in I$, tel que la suite numérique $(f_n(x_0))_{n \geq 0}$ converge.
- La suite de fonctions (f_n) converge uniformément sur I vers une fonction f continue.

Question 2 ♣

Choisir les suites de fonctions $(f_n)_{n \geq 0}$ qui convergent uniformément vers leur limite simple:

- | | |
|--|---|
| <input type="checkbox"/> $f_n(x) = \frac{e^{-x}}{n}$ sur $]0; +\infty[$ | <input type="checkbox"/> $f_n(x) = \frac{e^{-x}}{n}$ sur $] - \infty, 0]$ |
| <input type="checkbox"/> $f_n(x) = nxe^{-nx}$ sur $[a; +\infty[$ avec $a \in]0; 1[$ | <input type="checkbox"/> $f_n(x) = nxe^{-nx}$ sur $[0; +\infty[$ |
| <input type="checkbox"/> $f_n(x) = nxe^{-nx}$ sur $[0; 1[$ | <input type="checkbox"/> $f_n(x) = nxe^{-nx}$ sur $[1; 2]$ |

Question 3 ♣

On définit la suite de fonctions $f_n(x) = \frac{e^{-nx}}{1+x}$. Alors, la suite $(f_n)_{n \geq 0}$

- converge uniformément sur $[0, +\infty[$
- converge uniformément sur $[1, +\infty[$ et la fonction limite est continue
- converge uniformément sur $[0, 1]$ et la fonction limite est continue

Question 4 ♣

Soit $(f_n)_{n \geq 0}$ une suite de fonctions définies par $f_n(x) = x^n \ln(x)$ pour $x \in]0, 1]$ et $f_n(0) = 0$. Alors

- $(f_n)_{n \geq 0}$ converge uniformément sur $[a, 1]$ ($a \in]0, 1[$)
- $(f_n)_{n \geq 0}$ converge uniformément sur $[0, a]$ ($a \in]0, 1[$)
- $(f_n)_{n \geq 0}$ converge uniformément sur $[0, 1]$



<input type="checkbox"/> 0	<input type="checkbox"/> 0	<input type="checkbox"/> 0	<input type="checkbox"/> 0	<input type="checkbox"/> 0	<input type="checkbox"/> 0	<input type="checkbox"/> 0	<input type="checkbox"/> 0	<input type="checkbox"/> 0
<input type="checkbox"/> 1	<input type="checkbox"/> 1	<input type="checkbox"/> 1	<input type="checkbox"/> 1	<input type="checkbox"/> 1	<input type="checkbox"/> 1	<input type="checkbox"/> 1	<input type="checkbox"/> 1	<input type="checkbox"/> 1
<input type="checkbox"/> 2	<input type="checkbox"/> 2	<input type="checkbox"/> 2	<input type="checkbox"/> 2	<input type="checkbox"/> 2	<input type="checkbox"/> 2	<input type="checkbox"/> 2	<input type="checkbox"/> 2	<input type="checkbox"/> 2
<input type="checkbox"/> 3	<input type="checkbox"/> 3	<input type="checkbox"/> 3	<input type="checkbox"/> 3	<input type="checkbox"/> 3	<input type="checkbox"/> 3	<input type="checkbox"/> 3	<input type="checkbox"/> 3	<input type="checkbox"/> 3
<input type="checkbox"/> 4	<input type="checkbox"/> 4	<input type="checkbox"/> 4	<input type="checkbox"/> 4	<input type="checkbox"/> 4	<input type="checkbox"/> 4	<input type="checkbox"/> 4	<input type="checkbox"/> 4	<input type="checkbox"/> 4
<input type="checkbox"/> 5	<input type="checkbox"/> 5	<input type="checkbox"/> 5	<input type="checkbox"/> 5	<input type="checkbox"/> 5	<input type="checkbox"/> 5	<input type="checkbox"/> 5	<input type="checkbox"/> 5	<input type="checkbox"/> 5
<input type="checkbox"/> 6	<input type="checkbox"/> 6	<input type="checkbox"/> 6	<input type="checkbox"/> 6	<input type="checkbox"/> 6	<input type="checkbox"/> 6	<input type="checkbox"/> 6	<input type="checkbox"/> 6	<input type="checkbox"/> 6
<input type="checkbox"/> 7	<input type="checkbox"/> 7	<input type="checkbox"/> 7	<input type="checkbox"/> 7	<input type="checkbox"/> 7	<input type="checkbox"/> 7	<input type="checkbox"/> 7	<input type="checkbox"/> 7	<input type="checkbox"/> 7
<input type="checkbox"/> 8	<input type="checkbox"/> 8	<input type="checkbox"/> 8	<input type="checkbox"/> 8	<input type="checkbox"/> 8	<input type="checkbox"/> 8	<input type="checkbox"/> 8	<input type="checkbox"/> 8	<input type="checkbox"/> 8
<input type="checkbox"/> 9	<input type="checkbox"/> 9	<input type="checkbox"/> 9	<input type="checkbox"/> 9	<input type="checkbox"/> 9	<input type="checkbox"/> 9	<input type="checkbox"/> 9	<input type="checkbox"/> 9	<input type="checkbox"/> 9

QCM3L Suites de Fonctions Préing2

← codez votre numéro d'étudiant ci-contre, et inscrivez votre nom et prénom ci-dessous (le NOM d'abord!).

Nom et prénom :
.....
.....

Les cases doivent être complètement noircies avec un stylo NOIR.

Question 1 ♣

Choisir les suites de fonctions $(f_n)_{n \geq 0}$ qui convergent uniformément vers leur limite simple:

- | | |
|--|--|
| <input type="checkbox"/> $f_n(x) = \frac{e^{-x}}{n}$ sur $] -\infty, 0]$ | <input type="checkbox"/> $f_n(x) = nxe^{-nx}$ sur $[a; +\infty[$ avec $a \in]0; 1[$ |
| <input type="checkbox"/> $f_n(x) = nxe^{-nx}$ sur $[0; 1[$ | <input type="checkbox"/> $f_n(x) = \frac{e^{-x}}{n}$ sur $]0; +\infty[$ |
| <input type="checkbox"/> $f_n(x) = nxe^{-nx}$ sur $[0; +\infty[$ | <input type="checkbox"/> $f_n(x) = nxe^{-nx}$ sur $[1; 2]$ |

Question 2 ♣

On définit la suite de fonctions $f_n(x) = \frac{e^{-nx}}{1+x}$. Alors, la suite $(f_n)_{n \geq 0}$

- converge uniformément sur $[0, +\infty[$
- converge uniformément sur $[0, 1]$ et la fonction limite est continue
- converge uniformément sur $[1, +\infty[$ et la fonction limite est continue

Question 3 ♣

Soit $(f_n)_{n \geq 0}$ une suite de fonctions définies par $f_n(x) = x^n \ln(x)$ pour $x \in]0, 1]$ et $f_n(0) = 0$. Alors

- $(f_n)_{n \geq 0}$ converge uniformément sur $[0, 1]$
- $(f_n)_{n \geq 0}$ converge uniformément sur $[0, a]$ ($a \in]0, 1[$)
- $(f_n)_{n \geq 0}$ converge uniformément sur $[a, 1]$ ($a \in]0, 1[$)

Question 4 ♣

Soit $(f_n)_{n \geq 0}$ une suite de fonctions définies sur un intervalle $I \subset \mathbb{R}$ à valeur dans \mathbb{R} . Quelles les conditions nécessaires pour appliquer le théorème d'interversion limites-dérivations?

- $\forall x_0 \in I$, la suite $(f_n(x_0))_{n \geq 0}$ converge.
- Pour tout $n \in \mathbb{N}$, les fonctions f_n sont de classe C^1 sur I .
- $\exists x_0 \in I$, tel que la suite numérique $(f_n(x_0))_{n \geq 0}$ converge.
- La suite de fonctions (f_n) converge uniformément sur I vers une fonction f continue.
- La suite de fonctions (f'_n) converge uniformément sur I vers une fonction g .



<input type="checkbox"/>	<input type="checkbox"/>	<input type="checkbox"/>	<input type="checkbox"/>	<input type="checkbox"/>	<input type="checkbox"/>	<input type="checkbox"/>	<input type="checkbox"/>	<input type="checkbox"/>
<input type="checkbox"/>	<input type="checkbox"/>	<input type="checkbox"/>	<input type="checkbox"/>	<input type="checkbox"/>	<input type="checkbox"/>	<input type="checkbox"/>	<input type="checkbox"/>	<input type="checkbox"/>
<input type="checkbox"/>	<input type="checkbox"/>	<input type="checkbox"/>	<input type="checkbox"/>	<input type="checkbox"/>	<input type="checkbox"/>	<input type="checkbox"/>	<input type="checkbox"/>	<input type="checkbox"/>
<input type="checkbox"/>	<input type="checkbox"/>	<input type="checkbox"/>	<input type="checkbox"/>	<input type="checkbox"/>	<input type="checkbox"/>	<input type="checkbox"/>	<input type="checkbox"/>	<input type="checkbox"/>
<input type="checkbox"/>	<input type="checkbox"/>	<input type="checkbox"/>	<input type="checkbox"/>	<input type="checkbox"/>	<input type="checkbox"/>	<input type="checkbox"/>	<input type="checkbox"/>	<input type="checkbox"/>
<input type="checkbox"/>	<input type="checkbox"/>	<input type="checkbox"/>	<input type="checkbox"/>	<input type="checkbox"/>	<input type="checkbox"/>	<input type="checkbox"/>	<input type="checkbox"/>	<input type="checkbox"/>
<input type="checkbox"/>	<input type="checkbox"/>	<input type="checkbox"/>	<input type="checkbox"/>	<input type="checkbox"/>	<input type="checkbox"/>	<input type="checkbox"/>	<input type="checkbox"/>	<input type="checkbox"/>
<input type="checkbox"/>	<input type="checkbox"/>	<input type="checkbox"/>	<input type="checkbox"/>	<input type="checkbox"/>	<input type="checkbox"/>	<input type="checkbox"/>	<input type="checkbox"/>	<input type="checkbox"/>
<input type="checkbox"/>	<input type="checkbox"/>	<input type="checkbox"/>	<input type="checkbox"/>	<input type="checkbox"/>	<input type="checkbox"/>	<input type="checkbox"/>	<input type="checkbox"/>	<input type="checkbox"/>
<input type="checkbox"/>	<input type="checkbox"/>	<input type="checkbox"/>	<input type="checkbox"/>	<input type="checkbox"/>	<input type="checkbox"/>	<input type="checkbox"/>	<input type="checkbox"/>	<input type="checkbox"/>

QCM3L Suites de Fonctions Préing2

← codez votre numéro d'étudiant ci-contre, et inscrivez votre nom et prénom ci-dessous (le NOM d'abord!).

Nom et prénom :
.....
.....

Les cases doivent être complètement noircies avec un stylo NOIR.

Question 1 ♣

Soit $(f_n)_{n \geq 0}$ une suite de fonctions définies sur un intervalle $I \subset \mathbb{R}$ à valeur dans \mathbb{R} . Quelles les conditions nécessaires pour appliquer le théorème d'interversion limites-dérivations?

- Pour tout $n \in \mathbb{N}$, les fonctions f_n sont de classe C^1 sur I .
- La suite de fonctions (f_n) converge uniformément sur I vers une fonction f continue.
- $\forall x_0 \in I$, la suite $(f_n(x_0))_{n \geq 0}$ converge.
- $\exists x_0 \in I$, tel que la suite numérique $(f_n(x_0))_{n \geq 0}$ converge.
- La suite de fonctions (f'_n) converge uniformément sur I vers une fonction g .

Question 2 ♣

Choisir les suites de fonctions $(f_n)_{n \geq 0}$ qui convergent uniformément vers leur limite simple:

- | | |
|--|---|
| <input type="checkbox"/> $f_n(x) = nxe^{-nx}$ sur $[a; +\infty[$ avec $a \in]0; 1[$ | <input type="checkbox"/> $f_n(x) = nxe^{-nx}$ sur $[0; +\infty[$ |
| <input type="checkbox"/> $f_n(x) = nxe^{-nx}$ sur $[1; 2]$ | <input type="checkbox"/> $f_n(x) = nxe^{-nx}$ sur $[0; 1[$ |
| <input type="checkbox"/> $f_n(x) = \frac{e^{-x}}{n}$ sur $] - \infty, 0]$ | <input type="checkbox"/> $f_n(x) = \frac{e^{-x}}{n}$ sur $]0; +\infty[$ |

Question 3 ♣

Soit $(f_n)_{n \geq 0}$ une suite de fonctions définies par $f_n(x) = x^n \ln(x)$ pour $x \in]0, 1]$ et $f_n(0) = 0$. Alors

- $(f_n)_{n \geq 0}$ converge uniformément sur $[0, a]$ ($a \in]0, 1[$)
- $(f_n)_{n \geq 0}$ converge uniformément sur $[0, 1]$
- $(f_n)_{n \geq 0}$ converge uniformément sur $[a, 1]$ ($a \in]0, 1[$)

Question 4 ♣

On définit la suite de fonctions $f_n(x) = \frac{e^{-nx}}{1+x}$. Alors, la suite $(f_n)_{n \geq 0}$

- converge uniformément sur $[1, +\infty[$ et la fonction limite est continue
- converge uniformément sur $[0, +\infty[$
- converge uniformément sur $[0, 1]$ et la fonction limite est continue



<input type="checkbox"/>	0	<input type="checkbox"/>	0	<input type="checkbox"/>	0	<input type="checkbox"/>	0	<input type="checkbox"/>	0	<input type="checkbox"/>	0	<input type="checkbox"/>	0	<input type="checkbox"/>	0	<input type="checkbox"/>	0
<input type="checkbox"/>	1	<input type="checkbox"/>	1	<input type="checkbox"/>	1	<input type="checkbox"/>	1	<input type="checkbox"/>	1	<input type="checkbox"/>	1	<input type="checkbox"/>	1	<input type="checkbox"/>	1	<input type="checkbox"/>	1
<input type="checkbox"/>	2	<input type="checkbox"/>	2	<input type="checkbox"/>	2	<input type="checkbox"/>	2	<input type="checkbox"/>	2	<input type="checkbox"/>	2	<input type="checkbox"/>	2	<input type="checkbox"/>	2	<input type="checkbox"/>	2
<input type="checkbox"/>	3	<input type="checkbox"/>	3	<input type="checkbox"/>	3	<input type="checkbox"/>	3	<input type="checkbox"/>	3	<input type="checkbox"/>	3	<input type="checkbox"/>	3	<input type="checkbox"/>	3	<input type="checkbox"/>	3
<input type="checkbox"/>	4	<input type="checkbox"/>	4	<input type="checkbox"/>	4	<input type="checkbox"/>	4	<input type="checkbox"/>	4	<input type="checkbox"/>	4	<input type="checkbox"/>	4	<input type="checkbox"/>	4	<input type="checkbox"/>	4
<input type="checkbox"/>	5	<input type="checkbox"/>	5	<input type="checkbox"/>	5	<input type="checkbox"/>	5	<input type="checkbox"/>	5	<input type="checkbox"/>	5	<input type="checkbox"/>	5	<input type="checkbox"/>	5	<input type="checkbox"/>	5
<input type="checkbox"/>	6	<input type="checkbox"/>	6	<input type="checkbox"/>	6	<input type="checkbox"/>	6	<input type="checkbox"/>	6	<input type="checkbox"/>	6	<input type="checkbox"/>	6	<input type="checkbox"/>	6	<input type="checkbox"/>	6
<input type="checkbox"/>	7	<input type="checkbox"/>	7	<input type="checkbox"/>	7	<input type="checkbox"/>	7	<input type="checkbox"/>	7	<input type="checkbox"/>	7	<input type="checkbox"/>	7	<input type="checkbox"/>	7	<input type="checkbox"/>	7
<input type="checkbox"/>	8	<input type="checkbox"/>	8	<input type="checkbox"/>	8	<input type="checkbox"/>	8	<input type="checkbox"/>	8	<input type="checkbox"/>	8	<input type="checkbox"/>	8	<input type="checkbox"/>	8	<input type="checkbox"/>	8
<input type="checkbox"/>	9	<input type="checkbox"/>	9	<input type="checkbox"/>	9	<input type="checkbox"/>	9	<input type="checkbox"/>	9	<input type="checkbox"/>	9	<input type="checkbox"/>	9	<input type="checkbox"/>	9	<input type="checkbox"/>	9

QCM3L Suites de Fonctions Préing2

← codez votre numéro d'étudiant ci-contre, et inscrivez votre nom et prénom ci-dessous (le NOM d'abord!).

Nom et prénom :

.....

.....

Les cases doivent être complètement noircies avec un stylo NOIR.

Question 1 ♣

On définit la suite de fonctions $f_n(x) = \frac{e^{-nx}}{1+x}$. Alors, la suite $(f_n)_{n \geq 0}$

- converge uniformément sur $[0, 1]$ et la fonction limite est continue
- converge uniformément sur $[0, +\infty[$
- converge uniformément sur $[1, +\infty[$ et la fonction limite est continue

Question 2 ♣

Soit $(f_n)_{n \geq 0}$ une suite de fonctions définies sur un intervalle $I \subset \mathbb{R}$ à valeur dans \mathbb{R} . Quelles les conditions nécessaires pour appliquer le théorème d'interversion limites-dérivations?

- Pour tout $n \in \mathbb{N}$, les fonctions f_n sont de classe C^1 sur I .
- $\forall x_0 \in I$, la suite $(f_n(x_0))_{n \geq 0}$ converge.
- La suite de fonctions (f_n) converge uniformément sur I vers une fonction f continue.
- La suite de fonctions (f'_n) converge uniformément sur I vers une fonction g .
- $\exists x_0 \in I$, tel que la suite numérique $(f_n(x_0))_{n \geq 0}$ converge.

Question 3 ♣

Soit $(f_n)_{n \geq 0}$ une suite de fonctions définies par $f_n(x) = x^n \ln(x)$ pour $x \in]0, 1]$ et $f_n(0) = 0$. Alors

- $(f_n)_{n \geq 0}$ converge uniformément sur $[0, a]$ ($a \in]0, 1[$)
- $(f_n)_{n \geq 0}$ converge uniformément sur $[a, 1]$ ($a \in]0, 1[$)
- $(f_n)_{n \geq 0}$ converge uniformément sur $[0, 1]$

Question 4 ♣

Choisir les suites de fonctions $(f_n)_{n \geq 0}$ qui convergent uniformément vers leur limite simple:

- | | |
|---|--|
| <input type="checkbox"/> $f_n(x) = \frac{e^{-x}}{n}$ sur $] - \infty, 0]$ | <input type="checkbox"/> $f_n(x) = nxe^{-nx}$ sur $[0; 1[$ |
| <input type="checkbox"/> $f_n(x) = nxe^{-nx}$ sur $[0; +\infty[$ | <input type="checkbox"/> $f_n(x) = nxe^{-nx}$ sur $[1; 2]$ |
| <input type="checkbox"/> $f_n(x) = \frac{e^{-x}}{n}$ sur $]0; +\infty[$ | <input type="checkbox"/> $f_n(x) = nxe^{-nx}$ sur $[a; +\infty[$ avec $a \in]0; 1[$ |



<input type="checkbox"/>	0	<input type="checkbox"/>	0	<input type="checkbox"/>	0	<input type="checkbox"/>	0	<input type="checkbox"/>	0	<input type="checkbox"/>	0	<input type="checkbox"/>	0	<input type="checkbox"/>	0	<input type="checkbox"/>	0
<input type="checkbox"/>	1	<input type="checkbox"/>	1	<input type="checkbox"/>	1	<input type="checkbox"/>	1	<input type="checkbox"/>	1	<input type="checkbox"/>	1	<input type="checkbox"/>	1	<input type="checkbox"/>	1	<input type="checkbox"/>	1
<input type="checkbox"/>	2	<input type="checkbox"/>	2	<input type="checkbox"/>	2	<input type="checkbox"/>	2	<input type="checkbox"/>	2	<input type="checkbox"/>	2	<input type="checkbox"/>	2	<input type="checkbox"/>	2	<input type="checkbox"/>	2
<input type="checkbox"/>	3	<input type="checkbox"/>	3	<input type="checkbox"/>	3	<input type="checkbox"/>	3	<input type="checkbox"/>	3	<input type="checkbox"/>	3	<input type="checkbox"/>	3	<input type="checkbox"/>	3	<input type="checkbox"/>	3
<input type="checkbox"/>	4	<input type="checkbox"/>	4	<input type="checkbox"/>	4	<input type="checkbox"/>	4	<input type="checkbox"/>	4	<input type="checkbox"/>	4	<input type="checkbox"/>	4	<input type="checkbox"/>	4	<input type="checkbox"/>	4
<input type="checkbox"/>	5	<input type="checkbox"/>	5	<input type="checkbox"/>	5	<input type="checkbox"/>	5	<input type="checkbox"/>	5	<input type="checkbox"/>	5	<input type="checkbox"/>	5	<input type="checkbox"/>	5	<input type="checkbox"/>	5
<input type="checkbox"/>	6	<input type="checkbox"/>	6	<input type="checkbox"/>	6	<input type="checkbox"/>	6	<input type="checkbox"/>	6	<input type="checkbox"/>	6	<input type="checkbox"/>	6	<input type="checkbox"/>	6	<input type="checkbox"/>	6
<input type="checkbox"/>	7	<input type="checkbox"/>	7	<input type="checkbox"/>	7	<input type="checkbox"/>	7	<input type="checkbox"/>	7	<input type="checkbox"/>	7	<input type="checkbox"/>	7	<input type="checkbox"/>	7	<input type="checkbox"/>	7
<input type="checkbox"/>	8	<input type="checkbox"/>	8	<input type="checkbox"/>	8	<input type="checkbox"/>	8	<input type="checkbox"/>	8	<input type="checkbox"/>	8	<input type="checkbox"/>	8	<input type="checkbox"/>	8	<input type="checkbox"/>	8
<input type="checkbox"/>	9	<input type="checkbox"/>	9	<input type="checkbox"/>	9	<input type="checkbox"/>	9	<input type="checkbox"/>	9	<input type="checkbox"/>	9	<input type="checkbox"/>	9	<input type="checkbox"/>	9	<input type="checkbox"/>	9

QCM3L Suites de Fonctions Préing2

← codez votre numéro d'étudiant ci-contre, et inscrivez votre nom et prénom ci-dessous (le NOM d'abord!).

Nom et prénom :
.....
.....

Les cases doivent être complètement noircies avec un stylo NOIR.

Question 1 ♣

Soit $(f_n)_{n \geq 0}$ une suite de fonctions définies sur un intervalle $I \subset \mathbb{R}$ à valeur dans \mathbb{R} . Quelles les conditions nécessaires pour appliquer le théorème d'interversion limites-dérivations?

- La suite de fonctions (f'_n) converge uniformément sur I vers une fonction g .
- La suite de fonctions (f_n) converge uniformément sur I vers une fonction f continue.
- $\forall x_0 \in I$, la suite $(f_n(x_0))_{n \geq 0}$ converge.
- Pour tout $n \in \mathbb{N}$, les fonctions f_n sont de classe C^1 sur I.
- $\exists x_0 \in I$, tel que la suite numérique $(f_n(x_0))_{n \geq 0}$ converge.

Question 2 ♣

On définit la suite de fonctions $f_n(x) = \frac{e^{-nx}}{1+x}$. Alors, la suite $(f_n)_{n \geq 0}$

- converge uniformément sur $[0, 1]$ et la fonction limite est continue
- converge uniformément sur $[0, +\infty[$
- converge uniformément sur $[1, +\infty[$ et la fonction limite est continue

Question 3 ♣

Soit $(f_n)_{n \geq 0}$ une suite de fonctions définies par $f_n(x) = x^n \ln(x)$ pour $x \in]0, 1]$ et $f_n(0) = 0$. Alors

- $(f_n)_{n \geq 0}$ converge uniformément sur $[0, a]$ ($a \in]0, 1[$)
- $(f_n)_{n \geq 0}$ converge uniformément sur $[a, 1]$ ($a \in]0, 1[$)
- $(f_n)_{n \geq 0}$ converge uniformément sur $[0, 1]$

Question 4 ♣

Choisir les suites de fonctions $(f_n)_{n \geq 0}$ qui convergent uniformément vers leur limite simple:

- | | |
|--|---|
| <input type="checkbox"/> $f_n(x) = \frac{e^{-x}}{n}$ sur $] - \infty, 0]$ | <input type="checkbox"/> $f_n(x) = \frac{e^{-x}}{n}$ sur $]0; +\infty[$ |
| <input type="checkbox"/> $f_n(x) = nxe^{-nx}$ sur $[a; +\infty[$ avec $a \in]0; 1[$ | <input type="checkbox"/> $f_n(x) = nxe^{-nx}$ sur $[0; 1[$ |
| <input type="checkbox"/> $f_n(x) = nxe^{-nx}$ sur $[1; 2]$ | <input type="checkbox"/> $f_n(x) = nxe^{-nx}$ sur $[0; +\infty[$ |



<input type="checkbox"/>	0	<input type="checkbox"/>	0	<input type="checkbox"/>	0	<input type="checkbox"/>	0	<input type="checkbox"/>	0	<input type="checkbox"/>	0	<input type="checkbox"/>	0	<input type="checkbox"/>	0	<input type="checkbox"/>	0
<input type="checkbox"/>	1	<input type="checkbox"/>	1	<input type="checkbox"/>	1	<input type="checkbox"/>	1	<input type="checkbox"/>	1	<input type="checkbox"/>	1	<input type="checkbox"/>	1	<input type="checkbox"/>	1	<input type="checkbox"/>	1
<input type="checkbox"/>	2	<input type="checkbox"/>	2	<input type="checkbox"/>	2	<input type="checkbox"/>	2	<input type="checkbox"/>	2	<input type="checkbox"/>	2	<input type="checkbox"/>	2	<input type="checkbox"/>	2	<input type="checkbox"/>	2
<input type="checkbox"/>	3	<input type="checkbox"/>	3	<input type="checkbox"/>	3	<input type="checkbox"/>	3	<input type="checkbox"/>	3	<input type="checkbox"/>	3	<input type="checkbox"/>	3	<input type="checkbox"/>	3	<input type="checkbox"/>	3
<input type="checkbox"/>	4	<input type="checkbox"/>	4	<input type="checkbox"/>	4	<input type="checkbox"/>	4	<input type="checkbox"/>	4	<input type="checkbox"/>	4	<input type="checkbox"/>	4	<input type="checkbox"/>	4	<input type="checkbox"/>	4
<input type="checkbox"/>	5	<input type="checkbox"/>	5	<input type="checkbox"/>	5	<input type="checkbox"/>	5	<input type="checkbox"/>	5	<input type="checkbox"/>	5	<input type="checkbox"/>	5	<input type="checkbox"/>	5	<input type="checkbox"/>	5
<input type="checkbox"/>	6	<input type="checkbox"/>	6	<input type="checkbox"/>	6	<input type="checkbox"/>	6	<input type="checkbox"/>	6	<input type="checkbox"/>	6	<input type="checkbox"/>	6	<input type="checkbox"/>	6	<input type="checkbox"/>	6
<input type="checkbox"/>	7	<input type="checkbox"/>	7	<input type="checkbox"/>	7	<input type="checkbox"/>	7	<input type="checkbox"/>	7	<input type="checkbox"/>	7	<input type="checkbox"/>	7	<input type="checkbox"/>	7	<input type="checkbox"/>	7
<input type="checkbox"/>	8	<input type="checkbox"/>	8	<input type="checkbox"/>	8	<input type="checkbox"/>	8	<input type="checkbox"/>	8	<input type="checkbox"/>	8	<input type="checkbox"/>	8	<input type="checkbox"/>	8	<input type="checkbox"/>	8
<input type="checkbox"/>	9	<input type="checkbox"/>	9	<input type="checkbox"/>	9	<input type="checkbox"/>	9	<input type="checkbox"/>	9	<input type="checkbox"/>	9	<input type="checkbox"/>	9	<input type="checkbox"/>	9	<input type="checkbox"/>	9

QCM3L Suites de Fonctions Préing2

← codez votre numéro d'étudiant ci-contre, et inscrivez votre nom et prénom ci-dessous (le NOM d'abord!).

Nom et prénom :

.....

.....

Les cases doivent être complètement noircies avec un stylo NOIR.

Question 1 ♣

Soit $(f_n)_{n \geq 0}$ une suite de fonctions définies sur un intervalle $I \subset \mathbb{R}$ à valeur dans \mathbb{R} . Quelles les conditions nécessaires pour appliquer le théorème d'inversion limites-dérivations?

- Pour tout $n \in \mathbb{N}$, les fonctions f_n sont de classe C^1 sur I .
- La suite de fonctions (f'_n) converge uniformément sur I vers une fonction g .
- $\exists x_0 \in I$, tel que la suite numérique $(f_n(x_0))_{n \geq 0}$ converge.
- La suite de fonctions (f_n) converge uniformément sur I vers une fonction f continue.
- $\forall x_0 \in I$, la suite $(f_n(x_0))_{n \geq 0}$ converge.

Question 2 ♣

On définit la suite de fonctions $f_n(x) = \frac{e^{-nx}}{1+x}$. Alors, la suite $(f_n)_{n \geq 0}$

- converge uniformément sur $[0, +\infty[$
- converge uniformément sur $[1, +\infty[$ et la fonction limite est continue
- converge uniformément sur $[0, 1]$ et la fonction limite est continue

Question 3 ♣

Soit $(f_n)_{n \geq 0}$ une suite de fonctions définies par $f_n(x) = x^n \ln(x)$ pour $x \in]0, 1]$ et $f_n(0) = 0$. Alors

- $(f_n)_{n \geq 0}$ converge uniformément sur $[0, 1]$
- $(f_n)_{n \geq 0}$ converge uniformément sur $[a, 1]$ ($a \in]0, 1[$)
- $(f_n)_{n \geq 0}$ converge uniformément sur $[0, a]$ ($a \in]0, 1[$)

Question 4 ♣

Choisir les suites de fonctions $(f_n)_{n \geq 0}$ qui convergent uniformément vers leur limite simple:

- | | |
|---|--|
| <input type="checkbox"/> $f_n(x) = \frac{e^{-x}}{n}$ sur $]0; +\infty[$ | <input type="checkbox"/> $f_n(x) = nxe^{-nx}$ sur $[0; 1[$ |
| <input type="checkbox"/> $f_n(x) = \frac{e^{-x}}{n}$ sur $] - \infty, 0]$ | <input type="checkbox"/> $f_n(x) = nxe^{-nx}$ sur $[1; 2]$ |
| <input type="checkbox"/> $f_n(x) = nxe^{-nx}$ sur $[0; +\infty[$ | <input type="checkbox"/> $f_n(x) = nxe^{-nx}$ sur $[a; +\infty[$ avec $a \in]0; 1[$ |



<input type="checkbox"/>	<input type="checkbox"/>	<input type="checkbox"/>	<input type="checkbox"/>	<input type="checkbox"/>	<input type="checkbox"/>	<input type="checkbox"/>	<input type="checkbox"/>	<input type="checkbox"/>
<input type="checkbox"/>	<input type="checkbox"/>	<input type="checkbox"/>	<input type="checkbox"/>	<input type="checkbox"/>	<input type="checkbox"/>	<input type="checkbox"/>	<input type="checkbox"/>	<input type="checkbox"/>
<input type="checkbox"/>	<input type="checkbox"/>	<input type="checkbox"/>	<input type="checkbox"/>	<input type="checkbox"/>	<input type="checkbox"/>	<input type="checkbox"/>	<input type="checkbox"/>	<input type="checkbox"/>
<input type="checkbox"/>	<input type="checkbox"/>	<input type="checkbox"/>	<input type="checkbox"/>	<input type="checkbox"/>	<input type="checkbox"/>	<input type="checkbox"/>	<input type="checkbox"/>	<input type="checkbox"/>
<input type="checkbox"/>	<input type="checkbox"/>	<input type="checkbox"/>	<input type="checkbox"/>	<input type="checkbox"/>	<input type="checkbox"/>	<input type="checkbox"/>	<input type="checkbox"/>	<input type="checkbox"/>
<input type="checkbox"/>	<input type="checkbox"/>	<input type="checkbox"/>	<input type="checkbox"/>	<input type="checkbox"/>	<input type="checkbox"/>	<input type="checkbox"/>	<input type="checkbox"/>	<input type="checkbox"/>
<input type="checkbox"/>	<input type="checkbox"/>	<input type="checkbox"/>	<input type="checkbox"/>	<input type="checkbox"/>	<input type="checkbox"/>	<input type="checkbox"/>	<input type="checkbox"/>	<input type="checkbox"/>
<input type="checkbox"/>	<input type="checkbox"/>	<input type="checkbox"/>	<input type="checkbox"/>	<input type="checkbox"/>	<input type="checkbox"/>	<input type="checkbox"/>	<input type="checkbox"/>	<input type="checkbox"/>
<input type="checkbox"/>	<input type="checkbox"/>	<input type="checkbox"/>	<input type="checkbox"/>	<input type="checkbox"/>	<input type="checkbox"/>	<input type="checkbox"/>	<input type="checkbox"/>	<input type="checkbox"/>
<input type="checkbox"/>	<input type="checkbox"/>	<input type="checkbox"/>	<input type="checkbox"/>	<input type="checkbox"/>	<input type="checkbox"/>	<input type="checkbox"/>	<input type="checkbox"/>	<input type="checkbox"/>

QCM3L Suites de Fonctions Préing2

← codez votre numéro d'étudiant ci-contre, et inscrivez votre nom et prénom ci-dessous (le NOM d'abord!).

Nom et prénom :
.....
.....

Les cases doivent être complètement noircies avec un stylo NOIR.

Question 1 ♣

Soit $(f_n)_{n \geq 0}$ une suite de fonctions définies sur un intervalle $I \subset \mathbb{R}$ à valeur dans \mathbb{R} . Quelles les conditions nécessaires pour appliquer le théorème d'interversion limites-dérivations?

- $\forall x_0 \in I$, la suite $(f_n(x_0))_{n \geq 0}$ converge.
- La suite de fonctions (f'_n) converge uniformément sur I vers une fonction g .
- La suite de fonctions (f_n) converge uniformément sur I vers une fonction f continue.
- $\exists x_0 \in I$, tel que la suite numérique $(f_n(x_0))_{n \geq 0}$ converge.
- Pour tout $n \in \mathbb{N}$, les fonctions f_n sont de classe C^1 sur I.

Question 2 ♣

Choisir les suites de fonctions $(f_n)_{n \geq 0}$ qui convergent uniformément vers leur limite simple:

- | | |
|--|---|
| <input type="checkbox"/> $f_n(x) = nxe^{-nx}$ sur $[a; +\infty[$ avec $a \in]0; 1[$ | <input type="checkbox"/> $f_n(x) = \frac{e^{-x}}{n}$ sur $]0; +\infty[$ |
| <input type="checkbox"/> $f_n(x) = nxe^{-nx}$ sur $[1; 2]$ | <input type="checkbox"/> $f_n(x) = nxe^{-nx}$ sur $[0; +\infty[$ |
| <input type="checkbox"/> $f_n(x) = \frac{e^{-x}}{n}$ sur $] - \infty, 0]$ | <input type="checkbox"/> $f_n(x) = nxe^{-nx}$ sur $[0; 1[$ |

Question 3 ♣

Soit $(f_n)_{n \geq 0}$ une suite de fonctions définies par $f_n(x) = x^n \ln(x)$ pour $x \in]0, 1]$ et $f_n(0) = 0$. Alors

- $(f_n)_{n \geq 0}$ converge uniformément sur $[0, 1]$
- $(f_n)_{n \geq 0}$ converge uniformément sur $[a, 1]$ ($a \in]0, 1[$)
- $(f_n)_{n \geq 0}$ converge uniformément sur $[0, a]$ ($a \in]0, 1[$)

Question 4 ♣

On définit la suite de fonctions $f_n(x) = \frac{e^{-nx}}{1+x}$. Alors, la suite $(f_n)_{n \geq 0}$

- converge uniformément sur $[0, +\infty[$
- converge uniformément sur $[1, +\infty[$ et la fonction limite est continue
- converge uniformément sur $[0, 1]$ et la fonction limite est continue



<input type="checkbox"/>	0	<input type="checkbox"/>	0	<input type="checkbox"/>	0	<input type="checkbox"/>	0	<input type="checkbox"/>	0	<input type="checkbox"/>	0	<input type="checkbox"/>	0	<input type="checkbox"/>	0	<input type="checkbox"/>	0
<input type="checkbox"/>	1	<input type="checkbox"/>	1	<input type="checkbox"/>	1	<input type="checkbox"/>	1	<input type="checkbox"/>	1	<input type="checkbox"/>	1	<input type="checkbox"/>	1	<input type="checkbox"/>	1	<input type="checkbox"/>	1
<input type="checkbox"/>	2	<input type="checkbox"/>	2	<input type="checkbox"/>	2	<input type="checkbox"/>	2	<input type="checkbox"/>	2	<input type="checkbox"/>	2	<input type="checkbox"/>	2	<input type="checkbox"/>	2	<input type="checkbox"/>	2
<input type="checkbox"/>	3	<input type="checkbox"/>	3	<input type="checkbox"/>	3	<input type="checkbox"/>	3	<input type="checkbox"/>	3	<input type="checkbox"/>	3	<input type="checkbox"/>	3	<input type="checkbox"/>	3	<input type="checkbox"/>	3
<input type="checkbox"/>	4	<input type="checkbox"/>	4	<input type="checkbox"/>	4	<input type="checkbox"/>	4	<input type="checkbox"/>	4	<input type="checkbox"/>	4	<input type="checkbox"/>	4	<input type="checkbox"/>	4	<input type="checkbox"/>	4
<input type="checkbox"/>	5	<input type="checkbox"/>	5	<input type="checkbox"/>	5	<input type="checkbox"/>	5	<input type="checkbox"/>	5	<input type="checkbox"/>	5	<input type="checkbox"/>	5	<input type="checkbox"/>	5	<input type="checkbox"/>	5
<input type="checkbox"/>	6	<input type="checkbox"/>	6	<input type="checkbox"/>	6	<input type="checkbox"/>	6	<input type="checkbox"/>	6	<input type="checkbox"/>	6	<input type="checkbox"/>	6	<input type="checkbox"/>	6	<input type="checkbox"/>	6
<input type="checkbox"/>	7	<input type="checkbox"/>	7	<input type="checkbox"/>	7	<input type="checkbox"/>	7	<input type="checkbox"/>	7	<input type="checkbox"/>	7	<input type="checkbox"/>	7	<input type="checkbox"/>	7	<input type="checkbox"/>	7
<input type="checkbox"/>	8	<input type="checkbox"/>	8	<input type="checkbox"/>	8	<input type="checkbox"/>	8	<input type="checkbox"/>	8	<input type="checkbox"/>	8	<input type="checkbox"/>	8	<input type="checkbox"/>	8	<input type="checkbox"/>	8
<input type="checkbox"/>	9	<input type="checkbox"/>	9	<input type="checkbox"/>	9	<input type="checkbox"/>	9	<input type="checkbox"/>	9	<input type="checkbox"/>	9	<input type="checkbox"/>	9	<input type="checkbox"/>	9	<input type="checkbox"/>	9

QCM3L Suites de Fonctions Préing2

← codez votre numéro d'étudiant ci-contre, et inscrivez votre nom et prénom ci-dessous (le NOM d'abord!).

Nom et prénom :
.....
.....

Les cases doivent être complètement noircies avec un stylo NOIR.

Question 1 ♣

Soit $(f_n)_{n \geq 0}$ une suite de fonctions définies par $f_n(x) = x^n \ln(x)$ pour $x \in]0, 1]$ et $f_n(0) = 0$. Alors

- $(f_n)_{n \geq 0}$ converge uniformément sur $[0, 1]$
- $(f_n)_{n \geq 0}$ converge uniformément sur $[a, 1]$ ($a \in]0, 1[$)
- $(f_n)_{n \geq 0}$ converge uniformément sur $[0, a]$ ($a \in]0, 1[$)

Question 2 ♣

Soit $(f_n)_{n \geq 0}$ une suite de fonctions définies sur un intervalle $I \subset \mathbb{R}$ à valeur dans \mathbb{R} . Quelles les conditions nécessaires pour appliquer le théorème d'interversion limites-dérivations?

- Pour tout $n \in \mathbb{N}$, les fonctions f_n sont de classe C^1 sur I .
- $\exists x_0 \in I$, tel que la suite numérique $(f_n(x_0))_{n \geq 0}$ converge.
- La suite de fonctions (f_n) converge uniformément sur I vers une fonction f continue.
- La suite de fonctions (f'_n) converge uniformément sur I vers une fonction g .
- $\forall x_0 \in I$, la suite $(f_n(x_0))_{n \geq 0}$ converge.

Question 3 ♣

On définit la suite de fonctions $f_n(x) = \frac{e^{-nx}}{1+x}$. Alors, la suite $(f_n)_{n \geq 0}$

- converge uniformément sur $[0, 1]$ et la fonction limite est continue
- converge uniformément sur $[0, +\infty[$
- converge uniformément sur $[1, +\infty[$ et la fonction limite est continue

Question 4 ♣

Choisir les suites de fonctions $(f_n)_{n \geq 0}$ qui convergent uniformément vers leur limite simple:

- | | |
|---|--|
| <input type="checkbox"/> $f_n(x) = nxe^{-nx}$ sur $[0; +\infty[$ | <input type="checkbox"/> $f_n(x) = \frac{e^{-x}}{n}$ sur $] -\infty, 0]$ |
| <input type="checkbox"/> $f_n(x) = \frac{e^{-x}}{n}$ sur $]0; +\infty[$ | <input type="checkbox"/> $f_n(x) = nxe^{-nx}$ sur $[a; +\infty[$ avec $a \in]0; 1[$ |
| <input type="checkbox"/> $f_n(x) = nxe^{-nx}$ sur $[1; 2]$ | <input type="checkbox"/> $f_n(x) = nxe^{-nx}$ sur $[0; 1[$ |



<input type="checkbox"/>	0	<input type="checkbox"/>	0	<input type="checkbox"/>	0	<input type="checkbox"/>	0	<input type="checkbox"/>	0	<input type="checkbox"/>	0	<input type="checkbox"/>	0	<input type="checkbox"/>	0	<input type="checkbox"/>	0
<input type="checkbox"/>	1	<input type="checkbox"/>	1	<input type="checkbox"/>	1	<input type="checkbox"/>	1	<input type="checkbox"/>	1	<input type="checkbox"/>	1	<input type="checkbox"/>	1	<input type="checkbox"/>	1	<input type="checkbox"/>	1
<input type="checkbox"/>	2	<input type="checkbox"/>	2	<input type="checkbox"/>	2	<input type="checkbox"/>	2	<input type="checkbox"/>	2	<input type="checkbox"/>	2	<input type="checkbox"/>	2	<input type="checkbox"/>	2	<input type="checkbox"/>	2
<input type="checkbox"/>	3	<input type="checkbox"/>	3	<input type="checkbox"/>	3	<input type="checkbox"/>	3	<input type="checkbox"/>	3	<input type="checkbox"/>	3	<input type="checkbox"/>	3	<input type="checkbox"/>	3	<input type="checkbox"/>	3
<input type="checkbox"/>	4	<input type="checkbox"/>	4	<input type="checkbox"/>	4	<input type="checkbox"/>	4	<input type="checkbox"/>	4	<input type="checkbox"/>	4	<input type="checkbox"/>	4	<input type="checkbox"/>	4	<input type="checkbox"/>	4
<input type="checkbox"/>	5	<input type="checkbox"/>	5	<input type="checkbox"/>	5	<input type="checkbox"/>	5	<input type="checkbox"/>	5	<input type="checkbox"/>	5	<input type="checkbox"/>	5	<input type="checkbox"/>	5	<input type="checkbox"/>	5
<input type="checkbox"/>	6	<input type="checkbox"/>	6	<input type="checkbox"/>	6	<input type="checkbox"/>	6	<input type="checkbox"/>	6	<input type="checkbox"/>	6	<input type="checkbox"/>	6	<input type="checkbox"/>	6	<input type="checkbox"/>	6
<input type="checkbox"/>	7	<input type="checkbox"/>	7	<input type="checkbox"/>	7	<input type="checkbox"/>	7	<input type="checkbox"/>	7	<input type="checkbox"/>	7	<input type="checkbox"/>	7	<input type="checkbox"/>	7	<input type="checkbox"/>	7
<input type="checkbox"/>	8	<input type="checkbox"/>	8	<input type="checkbox"/>	8	<input type="checkbox"/>	8	<input type="checkbox"/>	8	<input type="checkbox"/>	8	<input type="checkbox"/>	8	<input type="checkbox"/>	8	<input type="checkbox"/>	8
<input type="checkbox"/>	9	<input type="checkbox"/>	9	<input type="checkbox"/>	9	<input type="checkbox"/>	9	<input type="checkbox"/>	9	<input type="checkbox"/>	9	<input type="checkbox"/>	9	<input type="checkbox"/>	9	<input type="checkbox"/>	9

QCM3L Suites de Fonctions Préing2

← codez votre numéro d'étudiant ci-contre, et inscrivez votre nom et prénom ci-dessous (le NOM d'abord!).

Nom et prénom :

.....

.....

Les cases doivent être complètement noircies avec un stylo NOIR.

Question 1 ♣

Soit $(f_n)_{n \geq 0}$ une suite de fonctions définies sur un intervalle $I \subset \mathbb{R}$ à valeur dans \mathbb{R} . Quelles les conditions nécessaires pour appliquer le théorème d'inversion limites-dérivations?

- Pour tout $n \in \mathbb{N}$, les fonctions f_n sont de classe C^1 sur I .
- $\exists x_0 \in I$, tel que la suite numérique $(f_n(x_0))_{n \geq 0}$ converge.
- La suite de fonctions (f'_n) converge uniformément sur I vers une fonction g .
- La suite de fonctions (f_n) converge uniformément sur I vers une fonction f continue.
- $\forall x_0 \in I$, la suite $(f_n(x_0))_{n \geq 0}$ converge.

Question 2 ♣

Choisir les suites de fonctions $(f_n)_{n \geq 0}$ qui convergent uniformément vers leur limite simple:

- $f_n(x) = nxe^{-nx}$ sur $[a; +\infty[$ avec $a \in]0; 1[$
- $f_n(x) = nxe^{-nx}$ sur $[1; 2]$
- $f_n(x) = nxe^{-nx}$ sur $[0; 1[$
- $f_n(x) = \frac{e^{-x}}{n}$ sur $] -\infty, 0]$
- $f_n(x) = \frac{e^{-x}}{n}$ sur $]0; +\infty[$
- $f_n(x) = nxe^{-nx}$ sur $[0; +\infty[$

Question 3 ♣

On définit la suite de fonctions $f_n(x) = \frac{e^{-nx}}{1+x}$. Alors, la suite $(f_n)_{n \geq 0}$

- converge uniformément sur $[1, +\infty[$ et la fonction limite est continue
- converge uniformément sur $[0, +\infty[$
- converge uniformément sur $[0, 1]$ et la fonction limite est continue

Question 4 ♣

Soit $(f_n)_{n \geq 0}$ une suite de fonctions définies par $f_n(x) = x^n \ln(x)$ pour $x \in]0, 1]$ et $f_n(0) = 0$. Alors

- $(f_n)_{n \geq 0}$ converge uniformément sur $[0, 1]$
- $(f_n)_{n \geq 0}$ converge uniformément sur $[0, a]$ ($a \in]0, 1[$)
- $(f_n)_{n \geq 0}$ converge uniformément sur $[a, 1]$ ($a \in]0, 1[$)



<input type="checkbox"/>	0	<input type="checkbox"/>	0	<input type="checkbox"/>	0	<input type="checkbox"/>	0	<input type="checkbox"/>	0	<input type="checkbox"/>	0	<input type="checkbox"/>	0	<input type="checkbox"/>	0	<input type="checkbox"/>	0
<input type="checkbox"/>	1	<input type="checkbox"/>	1	<input type="checkbox"/>	1	<input type="checkbox"/>	1	<input type="checkbox"/>	1	<input type="checkbox"/>	1	<input type="checkbox"/>	1	<input type="checkbox"/>	1	<input type="checkbox"/>	1
<input type="checkbox"/>	2	<input type="checkbox"/>	2	<input type="checkbox"/>	2	<input type="checkbox"/>	2	<input type="checkbox"/>	2	<input type="checkbox"/>	2	<input type="checkbox"/>	2	<input type="checkbox"/>	2	<input type="checkbox"/>	2
<input type="checkbox"/>	3	<input type="checkbox"/>	3	<input type="checkbox"/>	3	<input type="checkbox"/>	3	<input type="checkbox"/>	3	<input type="checkbox"/>	3	<input type="checkbox"/>	3	<input type="checkbox"/>	3	<input type="checkbox"/>	3
<input type="checkbox"/>	4	<input type="checkbox"/>	4	<input type="checkbox"/>	4	<input type="checkbox"/>	4	<input type="checkbox"/>	4	<input type="checkbox"/>	4	<input type="checkbox"/>	4	<input type="checkbox"/>	4	<input type="checkbox"/>	4
<input type="checkbox"/>	5	<input type="checkbox"/>	5	<input type="checkbox"/>	5	<input type="checkbox"/>	5	<input type="checkbox"/>	5	<input type="checkbox"/>	5	<input type="checkbox"/>	5	<input type="checkbox"/>	5	<input type="checkbox"/>	5
<input type="checkbox"/>	6	<input type="checkbox"/>	6	<input type="checkbox"/>	6	<input type="checkbox"/>	6	<input type="checkbox"/>	6	<input type="checkbox"/>	6	<input type="checkbox"/>	6	<input type="checkbox"/>	6	<input type="checkbox"/>	6
<input type="checkbox"/>	7	<input type="checkbox"/>	7	<input type="checkbox"/>	7	<input type="checkbox"/>	7	<input type="checkbox"/>	7	<input type="checkbox"/>	7	<input type="checkbox"/>	7	<input type="checkbox"/>	7	<input type="checkbox"/>	7
<input type="checkbox"/>	8	<input type="checkbox"/>	8	<input type="checkbox"/>	8	<input type="checkbox"/>	8	<input type="checkbox"/>	8	<input type="checkbox"/>	8	<input type="checkbox"/>	8	<input type="checkbox"/>	8	<input type="checkbox"/>	8
<input type="checkbox"/>	9	<input type="checkbox"/>	9	<input type="checkbox"/>	9	<input type="checkbox"/>	9	<input type="checkbox"/>	9	<input type="checkbox"/>	9	<input type="checkbox"/>	9	<input type="checkbox"/>	9	<input type="checkbox"/>	9

QCM3L Suites de Fonctions Préing2

← codez votre numéro d'étudiant ci-contre, et inscrivez votre nom et prénom ci-dessous (le NOM d'abord!).

Nom et prénom :

.....

.....

Les cases doivent être complètement noircies avec un stylo NOIR.

Question 1 ♣

Soit $(f_n)_{n \geq 0}$ une suite de fonctions définies par $f_n(x) = x^n \ln(x)$ pour $x \in]0, 1]$ et $f_n(0) = 0$. Alors

- $(f_n)_{n \geq 0}$ converge uniformément sur $[a, 1]$ ($a \in]0, 1[$)
- $(f_n)_{n \geq 0}$ converge uniformément sur $[0, a]$ ($a \in]0, 1[$)
- $(f_n)_{n \geq 0}$ converge uniformément sur $[0, 1]$

Question 2 ♣

On définit la suite de fonctions $f_n(x) = \frac{e^{-nx}}{1+x}$. Alors, la suite $(f_n)_{n \geq 0}$

- converge uniformément sur $[0, +\infty[$
- converge uniformément sur $[1, +\infty[$ et la fonction limite est continue
- converge uniformément sur $[0, 1]$ et la fonction limite est continue

Question 3 ♣

Choisir les suites de fonctions $(f_n)_{n \geq 0}$ qui convergent uniformément vers leur limite simple:

- | | |
|--|---|
| <input type="checkbox"/> $f_n(x) = nxe^{-nx}$ sur $[a; +\infty[$ avec $a \in]0; 1[$ | <input type="checkbox"/> $f_n(x) = \frac{e^{-x}}{n}$ sur $]0; +\infty[$ |
| <input type="checkbox"/> $f_n(x) = \frac{e^{-x}}{n}$ sur $] - \infty, 0]$ | <input type="checkbox"/> $f_n(x) = nxe^{-nx}$ sur $[1; 2]$ |
| <input type="checkbox"/> $f_n(x) = nxe^{-nx}$ sur $[0; +\infty[$ | <input type="checkbox"/> $f_n(x) = nxe^{-nx}$ sur $[0; 1[$ |

Question 4 ♣

Soit $(f_n)_{n \geq 0}$ une suite de fonctions définies sur un intervalle $I \subset \mathbb{R}$ à valeur dans \mathbb{R} . Quelles les conditions nécessaires pour appliquer le théorème d'interversion limites-dérivations?

- La suite de fonctions (f'_n) converge uniformément sur I vers une fonction g .
- $\forall x_0 \in I$, la suite $(f_n(x_0))_{n \geq 0}$ converge.
- La suite de fonctions (f_n) converge uniformément sur I vers une fonction f continue.
- $\exists x_0 \in I$, tel que la suite numérique $(f_n(x_0))_{n \geq 0}$ converge.
- Pour tout $n \in \mathbb{N}$, les fonctions f_n sont de classe C^1 sur I .



<input type="checkbox"/>	0	<input type="checkbox"/>	0	<input type="checkbox"/>	0	<input type="checkbox"/>	0	<input type="checkbox"/>	0	<input type="checkbox"/>	0	<input type="checkbox"/>	0	<input type="checkbox"/>	0	<input type="checkbox"/>	0
<input type="checkbox"/>	1	<input type="checkbox"/>	1	<input type="checkbox"/>	1	<input type="checkbox"/>	1	<input type="checkbox"/>	1	<input type="checkbox"/>	1	<input type="checkbox"/>	1	<input type="checkbox"/>	1	<input type="checkbox"/>	1
<input type="checkbox"/>	2	<input type="checkbox"/>	2	<input type="checkbox"/>	2	<input type="checkbox"/>	2	<input type="checkbox"/>	2	<input type="checkbox"/>	2	<input type="checkbox"/>	2	<input type="checkbox"/>	2	<input type="checkbox"/>	2
<input type="checkbox"/>	3	<input type="checkbox"/>	3	<input type="checkbox"/>	3	<input type="checkbox"/>	3	<input type="checkbox"/>	3	<input type="checkbox"/>	3	<input type="checkbox"/>	3	<input type="checkbox"/>	3	<input type="checkbox"/>	3
<input type="checkbox"/>	4	<input type="checkbox"/>	4	<input type="checkbox"/>	4	<input type="checkbox"/>	4	<input type="checkbox"/>	4	<input type="checkbox"/>	4	<input type="checkbox"/>	4	<input type="checkbox"/>	4	<input type="checkbox"/>	4
<input type="checkbox"/>	5	<input type="checkbox"/>	5	<input type="checkbox"/>	5	<input type="checkbox"/>	5	<input type="checkbox"/>	5	<input type="checkbox"/>	5	<input type="checkbox"/>	5	<input type="checkbox"/>	5	<input type="checkbox"/>	5
<input type="checkbox"/>	6	<input type="checkbox"/>	6	<input type="checkbox"/>	6	<input type="checkbox"/>	6	<input type="checkbox"/>	6	<input type="checkbox"/>	6	<input type="checkbox"/>	6	<input type="checkbox"/>	6	<input type="checkbox"/>	6
<input type="checkbox"/>	7	<input type="checkbox"/>	7	<input type="checkbox"/>	7	<input type="checkbox"/>	7	<input type="checkbox"/>	7	<input type="checkbox"/>	7	<input type="checkbox"/>	7	<input type="checkbox"/>	7	<input type="checkbox"/>	7
<input type="checkbox"/>	8	<input type="checkbox"/>	8	<input type="checkbox"/>	8	<input type="checkbox"/>	8	<input type="checkbox"/>	8	<input type="checkbox"/>	8	<input type="checkbox"/>	8	<input type="checkbox"/>	8	<input type="checkbox"/>	8
<input type="checkbox"/>	9	<input type="checkbox"/>	9	<input type="checkbox"/>	9	<input type="checkbox"/>	9	<input type="checkbox"/>	9	<input type="checkbox"/>	9	<input type="checkbox"/>	9	<input type="checkbox"/>	9	<input type="checkbox"/>	9

QCM3L Suites de Fonctions Préing2

← codez votre numéro d'étudiant ci-contre, et inscrivez votre nom et prénom ci-dessous (le NOM d'abord!).

Nom et prénom :

.....

.....

Les cases doivent être complètement noircies avec un stylo NOIR.

Question 1 ♣

Soit $(f_n)_{n \geq 0}$ une suite de fonctions définies sur un intervalle $I \subset \mathbb{R}$ à valeur dans \mathbb{R} . Quelles les conditions nécessaires pour appliquer le théorème d'inversion limites-dérivations?

- Pour tout $n \in \mathbb{N}$, les fonctions f_n sont de classe C^1 sur I .
- $\exists x_0 \in I$, tel que la suite numérique $(f_n(x_0))_{n \geq 0}$ converge.
- La suite de fonctions (f_n) converge uniformément sur I vers une fonction f continue.
- La suite de fonctions (f'_n) converge uniformément sur I vers une fonction g .
- $\forall x_0 \in I$, la suite $(f_n(x_0))_{n \geq 0}$ converge.

Question 2 ♣

On définit la suite de fonctions $f_n(x) = \frac{e^{-nx}}{1+x}$. Alors, la suite $(f_n)_{n \geq 0}$

- converge uniformément sur $[0, +\infty[$
- converge uniformément sur $[0, 1]$ et la fonction limite est continue
- converge uniformément sur $[1, +\infty[$ et la fonction limite est continue

Question 3 ♣

Soit $(f_n)_{n \geq 0}$ une suite de fonctions définies par $f_n(x) = x^n \ln(x)$ pour $x \in]0, 1]$ et $f_n(0) = 0$. Alors

- $(f_n)_{n \geq 0}$ converge uniformément sur $[a, 1]$ ($a \in]0, 1[$)
- $(f_n)_{n \geq 0}$ converge uniformément sur $[0, 1]$
- $(f_n)_{n \geq 0}$ converge uniformément sur $[0, a]$ ($a \in]0, 1[$)

Question 4 ♣

Choisir les suites de fonctions $(f_n)_{n \geq 0}$ qui convergent uniformément vers leur limite simple:

- | | |
|--|--|
| <input type="checkbox"/> $f_n(x) = nxe^{-nx}$ sur $[0; +\infty[$ | <input type="checkbox"/> $f_n(x) = nxe^{-nx}$ sur $[a; +\infty[$ avec $a \in]0; 1[$ |
| <input type="checkbox"/> $f_n(x) = \frac{e^{-x}}{n}$ sur $] -\infty, 0]$ | <input type="checkbox"/> $f_n(x) = \frac{e^{-x}}{n}$ sur $]0; +\infty[$ |
| <input type="checkbox"/> $f_n(x) = nxe^{-nx}$ sur $[1; 2]$ | <input type="checkbox"/> $f_n(x) = nxe^{-nx}$ sur $[0; 1[$ |



<input type="checkbox"/>	0	<input type="checkbox"/>	0	<input type="checkbox"/>	0	<input type="checkbox"/>	0	<input type="checkbox"/>	0	<input type="checkbox"/>	0	<input type="checkbox"/>	0	<input type="checkbox"/>	0	<input type="checkbox"/>	0
<input type="checkbox"/>	1	<input type="checkbox"/>	1	<input type="checkbox"/>	1	<input type="checkbox"/>	1	<input type="checkbox"/>	1	<input type="checkbox"/>	1	<input type="checkbox"/>	1	<input type="checkbox"/>	1	<input type="checkbox"/>	1
<input type="checkbox"/>	2	<input type="checkbox"/>	2	<input type="checkbox"/>	2	<input type="checkbox"/>	2	<input type="checkbox"/>	2	<input type="checkbox"/>	2	<input type="checkbox"/>	2	<input type="checkbox"/>	2	<input type="checkbox"/>	2
<input type="checkbox"/>	3	<input type="checkbox"/>	3	<input type="checkbox"/>	3	<input type="checkbox"/>	3	<input type="checkbox"/>	3	<input type="checkbox"/>	3	<input type="checkbox"/>	3	<input type="checkbox"/>	3	<input type="checkbox"/>	3
<input type="checkbox"/>	4	<input type="checkbox"/>	4	<input type="checkbox"/>	4	<input type="checkbox"/>	4	<input type="checkbox"/>	4	<input type="checkbox"/>	4	<input type="checkbox"/>	4	<input type="checkbox"/>	4	<input type="checkbox"/>	4
<input type="checkbox"/>	5	<input type="checkbox"/>	5	<input type="checkbox"/>	5	<input type="checkbox"/>	5	<input type="checkbox"/>	5	<input type="checkbox"/>	5	<input type="checkbox"/>	5	<input type="checkbox"/>	5	<input type="checkbox"/>	5
<input type="checkbox"/>	6	<input type="checkbox"/>	6	<input type="checkbox"/>	6	<input type="checkbox"/>	6	<input type="checkbox"/>	6	<input type="checkbox"/>	6	<input type="checkbox"/>	6	<input type="checkbox"/>	6	<input type="checkbox"/>	6
<input type="checkbox"/>	7	<input type="checkbox"/>	7	<input type="checkbox"/>	7	<input type="checkbox"/>	7	<input type="checkbox"/>	7	<input type="checkbox"/>	7	<input type="checkbox"/>	7	<input type="checkbox"/>	7	<input type="checkbox"/>	7
<input type="checkbox"/>	8	<input type="checkbox"/>	8	<input type="checkbox"/>	8	<input type="checkbox"/>	8	<input type="checkbox"/>	8	<input type="checkbox"/>	8	<input type="checkbox"/>	8	<input type="checkbox"/>	8	<input type="checkbox"/>	8
<input type="checkbox"/>	9	<input type="checkbox"/>	9	<input type="checkbox"/>	9	<input type="checkbox"/>	9	<input type="checkbox"/>	9	<input type="checkbox"/>	9	<input type="checkbox"/>	9	<input type="checkbox"/>	9	<input type="checkbox"/>	9

QCM3L Suites de Fonctions Préing2

← codez votre numéro d'étudiant ci-contre, et inscrivez votre nom et prénom ci-dessous (le NOM d'abord!).

Nom et prénom :

.....

.....

Les cases doivent être complètement noircies avec un stylo NOIR.

Question 1 ♣

Choisir les suites de fonctions $(f_n)_{n \geq 0}$ qui convergent uniformément vers leur limite simple:

- | | |
|--|---|
| <input type="checkbox"/> $f_n(x) = nxe^{-nx}$ sur $[a; +\infty[$ avec $a \in]0; 1[$ | <input type="checkbox"/> $f_n(x) = \frac{e^{-x}}{n}$ sur $] - \infty, 0]$ |
| <input type="checkbox"/> $f_n(x) = nxe^{-nx}$ sur $[0; +\infty[$ | <input type="checkbox"/> $f_n(x) = \frac{e^{-x}}{n}$ sur $]0; +\infty[$ |
| <input type="checkbox"/> $f_n(x) = nxe^{-nx}$ sur $[0; 1[$ | <input type="checkbox"/> $f_n(x) = nxe^{-nx}$ sur $[1; 2]$ |

Question 2 ♣

On définit la suite de fonctions $f_n(x) = \frac{e^{-nx}}{1+x}$. Alors, la suite $(f_n)_{n \geq 0}$

- converge uniformément sur $[1, +\infty[$ et la fonction limite est continue
- converge uniformément sur $[0, +\infty[$
- converge uniformément sur $[0, 1]$ et la fonction limite est continue

Question 3 ♣

Soit $(f_n)_{n \geq 0}$ une suite de fonctions définies par $f_n(x) = x^n \ln(x)$ pour $x \in]0, 1]$ et $f_n(0) = 0$. Alors

- $(f_n)_{n \geq 0}$ converge uniformément sur $[0, 1]$
- $(f_n)_{n \geq 0}$ converge uniformément sur $[a, 1]$ ($a \in]0, 1[$)
- $(f_n)_{n \geq 0}$ converge uniformément sur $[0, a]$ ($a \in]0, 1[$)

Question 4 ♣

Soit $(f_n)_{n \geq 0}$ une suite de fonctions définies sur un intervalle $I \subset \mathbb{R}$ à valeur dans \mathbb{R} . Quelles les conditions nécessaires pour appliquer le théorème d'interversion limites-dérivations?

- Pour tout $n \in \mathbb{N}$, les fonctions f_n sont de classe C^1 sur I .
- La suite de fonctions (f_n) converge uniformément sur I vers une fonction f continue.
- $\forall x_0 \in I$, la suite $(f_n(x_0))_{n \geq 0}$ converge.
- $\exists x_0 \in I$, tel que la suite numérique $(f_n(x_0))_{n \geq 0}$ converge.
- La suite de fonctions (f'_n) converge uniformément sur I vers une fonction g .



<input type="checkbox"/> 0	<input type="checkbox"/> 0	<input type="checkbox"/> 0	<input type="checkbox"/> 0	<input type="checkbox"/> 0	<input type="checkbox"/> 0	<input type="checkbox"/> 0	<input type="checkbox"/> 0
<input type="checkbox"/> 1	<input type="checkbox"/> 1	<input type="checkbox"/> 1	<input type="checkbox"/> 1	<input type="checkbox"/> 1	<input type="checkbox"/> 1	<input type="checkbox"/> 1	<input type="checkbox"/> 1
<input type="checkbox"/> 2	<input type="checkbox"/> 2	<input type="checkbox"/> 2	<input type="checkbox"/> 2	<input type="checkbox"/> 2	<input type="checkbox"/> 2	<input type="checkbox"/> 2	<input type="checkbox"/> 2
<input type="checkbox"/> 3	<input type="checkbox"/> 3	<input type="checkbox"/> 3	<input type="checkbox"/> 3	<input type="checkbox"/> 3	<input type="checkbox"/> 3	<input type="checkbox"/> 3	<input type="checkbox"/> 3
<input type="checkbox"/> 4	<input type="checkbox"/> 4	<input type="checkbox"/> 4	<input type="checkbox"/> 4	<input type="checkbox"/> 4	<input type="checkbox"/> 4	<input type="checkbox"/> 4	<input type="checkbox"/> 4
<input type="checkbox"/> 5	<input type="checkbox"/> 5	<input type="checkbox"/> 5	<input type="checkbox"/> 5	<input type="checkbox"/> 5	<input type="checkbox"/> 5	<input type="checkbox"/> 5	<input type="checkbox"/> 5
<input type="checkbox"/> 6	<input type="checkbox"/> 6	<input type="checkbox"/> 6	<input type="checkbox"/> 6	<input type="checkbox"/> 6	<input type="checkbox"/> 6	<input type="checkbox"/> 6	<input type="checkbox"/> 6
<input type="checkbox"/> 7	<input type="checkbox"/> 7	<input type="checkbox"/> 7	<input type="checkbox"/> 7	<input type="checkbox"/> 7	<input type="checkbox"/> 7	<input type="checkbox"/> 7	<input type="checkbox"/> 7
<input type="checkbox"/> 8	<input type="checkbox"/> 8	<input type="checkbox"/> 8	<input type="checkbox"/> 8	<input type="checkbox"/> 8	<input type="checkbox"/> 8	<input type="checkbox"/> 8	<input type="checkbox"/> 8
<input type="checkbox"/> 9	<input type="checkbox"/> 9	<input type="checkbox"/> 9	<input type="checkbox"/> 9	<input type="checkbox"/> 9	<input type="checkbox"/> 9	<input type="checkbox"/> 9	<input type="checkbox"/> 9

QCM3L Suites de Fonctions Préing2

← codez votre numéro d'étudiant ci-contre, et inscrivez votre nom et prénom ci-dessous (le NOM d'abord!).

Nom et prénom :

.....

.....

Les cases doivent être complètement noircies avec un stylo NOIR.

Question 1 ♣

On définit la suite de fonctions $f_n(x) = \frac{e^{-nx}}{1+x}$. Alors, la suite $(f_n)_{n \geq 0}$

- converge uniformément sur $[0, +\infty[$
- converge uniformément sur $[0, 1]$ et la fonction limite est continue
- converge uniformément sur $[1, +\infty[$ et la fonction limite est continue

Question 2 ♣

Soit $(f_n)_{n \geq 0}$ une suite de fonctions définies par $f_n(x) = x^n \ln(x)$ pour $x \in]0, 1]$ et $f_n(0) = 0$. Alors

- $(f_n)_{n \geq 0}$ converge uniformément sur $[0, a]$ ($a \in]0, 1[$)
- $(f_n)_{n \geq 0}$ converge uniformément sur $[a, 1]$ ($a \in]0, 1[$)
- $(f_n)_{n \geq 0}$ converge uniformément sur $[0, 1]$

Question 3 ♣

Choisir les suites de fonctions $(f_n)_{n \geq 0}$ qui convergent uniformément vers leur limite simple:

- | | |
|---|--|
| <input type="checkbox"/> $f_n(x) = nxe^{-nx}$ sur $]0; +\infty[$ | <input type="checkbox"/> $f_n(x) = nxe^{-nx}$ sur $[a; +\infty[$ avec $a \in]0; 1[$ |
| <input type="checkbox"/> $f_n(x) = \frac{e^{-x}}{n}$ sur $]0; +\infty[$ | <input type="checkbox"/> $f_n(x) = nxe^{-nx}$ sur $[1; 2]$ |
| <input type="checkbox"/> $f_n(x) = nxe^{-nx}$ sur $[0; 1[$ | <input type="checkbox"/> $f_n(x) = \frac{e^{-x}}{n}$ sur $] -\infty, 0]$ |

Question 4 ♣

Soit $(f_n)_{n \geq 0}$ une suite de fonctions définies sur un intervalle $I \subset \mathbb{R}$ à valeur dans \mathbb{R} . Quelles les conditions nécessaires pour appliquer le théorème d'interversion limites-dérivations?

- $\exists x_0 \in I$, tel que la suite numérique $(f_n(x_0))_{n \geq 0}$ converge.
- La suite de fonctions (f_n) converge uniformément sur I vers une fonction f continue.
- Pour tout $n \in \mathbb{N}$, les fonctions f_n sont de classe C^1 sur I.
- $\forall x_0 \in I$, la suite $(f_n(x_0))_{n \geq 0}$ converge.
- La suite de fonctions (f'_n) converge uniformément sur I vers une fonction g .



<input type="checkbox"/>	0	<input type="checkbox"/>	0	<input type="checkbox"/>	0	<input type="checkbox"/>	0	<input type="checkbox"/>	0	<input type="checkbox"/>	0	<input type="checkbox"/>	0	<input type="checkbox"/>	0	<input type="checkbox"/>	0
<input type="checkbox"/>	1	<input type="checkbox"/>	1	<input type="checkbox"/>	1	<input type="checkbox"/>	1	<input type="checkbox"/>	1	<input type="checkbox"/>	1	<input type="checkbox"/>	1	<input type="checkbox"/>	1	<input type="checkbox"/>	1
<input type="checkbox"/>	2	<input type="checkbox"/>	2	<input type="checkbox"/>	2	<input type="checkbox"/>	2	<input type="checkbox"/>	2	<input type="checkbox"/>	2	<input type="checkbox"/>	2	<input type="checkbox"/>	2	<input type="checkbox"/>	2
<input type="checkbox"/>	3	<input type="checkbox"/>	3	<input type="checkbox"/>	3	<input type="checkbox"/>	3	<input type="checkbox"/>	3	<input type="checkbox"/>	3	<input type="checkbox"/>	3	<input type="checkbox"/>	3	<input type="checkbox"/>	3
<input type="checkbox"/>	4	<input type="checkbox"/>	4	<input type="checkbox"/>	4	<input type="checkbox"/>	4	<input type="checkbox"/>	4	<input type="checkbox"/>	4	<input type="checkbox"/>	4	<input type="checkbox"/>	4	<input type="checkbox"/>	4
<input type="checkbox"/>	5	<input type="checkbox"/>	5	<input type="checkbox"/>	5	<input type="checkbox"/>	5	<input type="checkbox"/>	5	<input type="checkbox"/>	5	<input type="checkbox"/>	5	<input type="checkbox"/>	5	<input type="checkbox"/>	5
<input type="checkbox"/>	6	<input type="checkbox"/>	6	<input type="checkbox"/>	6	<input type="checkbox"/>	6	<input type="checkbox"/>	6	<input type="checkbox"/>	6	<input type="checkbox"/>	6	<input type="checkbox"/>	6	<input type="checkbox"/>	6
<input type="checkbox"/>	7	<input type="checkbox"/>	7	<input type="checkbox"/>	7	<input type="checkbox"/>	7	<input type="checkbox"/>	7	<input type="checkbox"/>	7	<input type="checkbox"/>	7	<input type="checkbox"/>	7	<input type="checkbox"/>	7
<input type="checkbox"/>	8	<input type="checkbox"/>	8	<input type="checkbox"/>	8	<input type="checkbox"/>	8	<input type="checkbox"/>	8	<input type="checkbox"/>	8	<input type="checkbox"/>	8	<input type="checkbox"/>	8	<input type="checkbox"/>	8
<input type="checkbox"/>	9	<input type="checkbox"/>	9	<input type="checkbox"/>	9	<input type="checkbox"/>	9	<input type="checkbox"/>	9	<input type="checkbox"/>	9	<input type="checkbox"/>	9	<input type="checkbox"/>	9	<input type="checkbox"/>	9

QCM3L Suites de Fonctions Préing2

← codez votre numéro d'étudiant ci-contre, et inscrivez votre nom et prénom ci-dessous (le NOM d'abord!).

Nom et prénom :

.....

.....

Les cases doivent être complètement noircies avec un stylo NOIR.

Question 1 ♣

Soit $(f_n)_{n \geq 0}$ une suite de fonctions définies sur un intervalle $I \subset \mathbb{R}$ à valeur dans \mathbb{R} . Quelles les conditions nécessaires pour appliquer le théorème d'interversion limites-dérivations?

- La suite de fonctions (f_n) converge uniformément sur I vers une fonction f continue.
- $\exists x_0 \in I$, tel que la suite numérique $(f_n(x_0))_{n \geq 0}$ converge.
- $\forall x_0 \in I$, la suite $(f_n(x_0))_{n \geq 0}$ converge.
- Pour tout $n \in \mathbb{N}$, les fonctions f_n sont de classe C^1 sur I.
- La suite de fonctions (f'_n) converge uniformément sur I vers une fonction g .

Question 2 ♣

Choisir les suites de fonctions $(f_n)_{n \geq 0}$ qui convergent uniformément vers leur limite simple:

- | | |
|---|--|
| <input type="checkbox"/> $f_n(x) = nxe^{-nx}$ sur $]0; +\infty[$ | <input type="checkbox"/> $f_n(x) = nxe^{-nx}$ sur $[a; +\infty[$ avec $a \in]0; 1[$ |
| <input type="checkbox"/> $f_n(x) = \frac{e^{-x}}{n}$ sur $]0; +\infty[$ | <input type="checkbox"/> $f_n(x) = nxe^{-nx}$ sur $[1; 2]$ |
| <input type="checkbox"/> $f_n(x) = nxe^{-nx}$ sur $[0; 1[$ | <input type="checkbox"/> $f_n(x) = \frac{e^{-x}}{n}$ sur $] -\infty, 0]$ |

Question 3 ♣

Soit $(f_n)_{n \geq 0}$ une suite de fonctions définies par $f_n(x) = x^n \ln(x)$ pour $x \in]0, 1]$ et $f_n(0) = 0$. Alors

- $(f_n)_{n \geq 0}$ converge uniformément sur $[a, 1]$ ($a \in]0, 1[$)
- $(f_n)_{n \geq 0}$ converge uniformément sur $[0, 1]$
- $(f_n)_{n \geq 0}$ converge uniformément sur $[0, a]$ ($a \in]0, 1[$)

Question 4 ♣

On définit la suite de fonctions $f_n(x) = \frac{e^{-nx}}{1+x}$. Alors, la suite $(f_n)_{n \geq 0}$

- converge uniformément sur $[0, +\infty[$
- converge uniformément sur $[1, +\infty[$ et la fonction limite est continue
- converge uniformément sur $[0, 1]$ et la fonction limite est continue



<input type="checkbox"/>	0	<input type="checkbox"/>	0	<input type="checkbox"/>	0	<input type="checkbox"/>	0	<input type="checkbox"/>	0	<input type="checkbox"/>	0	<input type="checkbox"/>	0	<input type="checkbox"/>	0	<input type="checkbox"/>	0
<input type="checkbox"/>	1	<input type="checkbox"/>	1	<input type="checkbox"/>	1	<input type="checkbox"/>	1	<input type="checkbox"/>	1	<input type="checkbox"/>	1	<input type="checkbox"/>	1	<input type="checkbox"/>	1	<input type="checkbox"/>	1
<input type="checkbox"/>	2	<input type="checkbox"/>	2	<input type="checkbox"/>	2	<input type="checkbox"/>	2	<input type="checkbox"/>	2	<input type="checkbox"/>	2	<input type="checkbox"/>	2	<input type="checkbox"/>	2	<input type="checkbox"/>	2
<input type="checkbox"/>	3	<input type="checkbox"/>	3	<input type="checkbox"/>	3	<input type="checkbox"/>	3	<input type="checkbox"/>	3	<input type="checkbox"/>	3	<input type="checkbox"/>	3	<input type="checkbox"/>	3	<input type="checkbox"/>	3
<input type="checkbox"/>	4	<input type="checkbox"/>	4	<input type="checkbox"/>	4	<input type="checkbox"/>	4	<input type="checkbox"/>	4	<input type="checkbox"/>	4	<input type="checkbox"/>	4	<input type="checkbox"/>	4	<input type="checkbox"/>	4
<input type="checkbox"/>	5	<input type="checkbox"/>	5	<input type="checkbox"/>	5	<input type="checkbox"/>	5	<input type="checkbox"/>	5	<input type="checkbox"/>	5	<input type="checkbox"/>	5	<input type="checkbox"/>	5	<input type="checkbox"/>	5
<input type="checkbox"/>	6	<input type="checkbox"/>	6	<input type="checkbox"/>	6	<input type="checkbox"/>	6	<input type="checkbox"/>	6	<input type="checkbox"/>	6	<input type="checkbox"/>	6	<input type="checkbox"/>	6	<input type="checkbox"/>	6
<input type="checkbox"/>	7	<input type="checkbox"/>	7	<input type="checkbox"/>	7	<input type="checkbox"/>	7	<input type="checkbox"/>	7	<input type="checkbox"/>	7	<input type="checkbox"/>	7	<input type="checkbox"/>	7	<input type="checkbox"/>	7
<input type="checkbox"/>	8	<input type="checkbox"/>	8	<input type="checkbox"/>	8	<input type="checkbox"/>	8	<input type="checkbox"/>	8	<input type="checkbox"/>	8	<input type="checkbox"/>	8	<input type="checkbox"/>	8	<input type="checkbox"/>	8
<input type="checkbox"/>	9	<input type="checkbox"/>	9	<input type="checkbox"/>	9	<input type="checkbox"/>	9	<input type="checkbox"/>	9	<input type="checkbox"/>	9	<input type="checkbox"/>	9	<input type="checkbox"/>	9	<input type="checkbox"/>	9

QCM3L Suites de Fonctions Préing2

← codez votre numéro d'étudiant ci-contre, et inscrivez votre nom et prénom ci-dessous (le NOM d'abord!).

Nom et prénom :
.....
.....

Les cases doivent être complètement noircies avec un stylo NOIR.

Question 1 ♣

On définit la suite de fonctions $f_n(x) = \frac{e^{-nx}}{1+x}$. Alors, la suite $(f_n)_{n \geq 0}$

- converge uniformément sur $[1, +\infty[$ et la fonction limite est continue
- converge uniformément sur $[0, +\infty[$
- converge uniformément sur $[0, 1]$ et la fonction limite est continue

Question 2 ♣

Choisir les suites de fonctions $(f_n)_{n \geq 0}$ qui convergent uniformément vers leur limite simple:

- | | |
|--|--|
| <input type="checkbox"/> $f_n(x) = nxe^{-nx}$ sur $[a; +\infty[$ avec $a \in]0; 1[$ | <input type="checkbox"/> $f_n(x) = \frac{e^{-x}}{n}$ sur $] -\infty, 0]$ |
| <input type="checkbox"/> $f_n(x) = \frac{e^{-x}}{n}$ sur $]0; +\infty[$ | <input type="checkbox"/> $f_n(x) = nxe^{-nx}$ sur $[0; +\infty[$ |
| <input type="checkbox"/> $f_n(x) = nxe^{-nx}$ sur $[1; 2]$ | <input type="checkbox"/> $f_n(x) = nxe^{-nx}$ sur $[0; 1[$ |

Question 3 ♣

Soit $(f_n)_{n \geq 0}$ une suite de fonctions définies par $f_n(x) = x^n \ln(x)$ pour $x \in]0, 1]$ et $f_n(0) = 0$. Alors

- $(f_n)_{n \geq 0}$ converge uniformément sur $[0, a]$ ($a \in]0, 1[$)
- $(f_n)_{n \geq 0}$ converge uniformément sur $[0, 1]$
- $(f_n)_{n \geq 0}$ converge uniformément sur $[a, 1]$ ($a \in]0, 1[$)

Question 4 ♣

Soit $(f_n)_{n \geq 0}$ une suite de fonctions définies sur un intervalle $I \subset \mathbb{R}$ à valeur dans \mathbb{R} . Quelles les conditions nécessaires pour appliquer le théorème d'interversion limites-dérivations?

- La suite de fonctions (f_n) converge uniformément sur I vers une fonction f continue.
- $\forall x_0 \in I$, la suite $(f_n(x_0))_{n \geq 0}$ converge.
- Pour tout $n \in \mathbb{N}$, les fonctions f_n sont de classe C^1 sur I .
- La suite de fonctions (f'_n) converge uniformément sur I vers une fonction g .
- $\exists x_0 \in I$, tel que la suite numérique $(f_n(x_0))_{n \geq 0}$ converge.



<input type="checkbox"/>	0	<input type="checkbox"/>	0	<input type="checkbox"/>	0	<input type="checkbox"/>	0	<input type="checkbox"/>	0	<input type="checkbox"/>	0	<input type="checkbox"/>	0	<input type="checkbox"/>	0	<input type="checkbox"/>	0
<input type="checkbox"/>	1	<input type="checkbox"/>	1	<input type="checkbox"/>	1	<input type="checkbox"/>	1	<input type="checkbox"/>	1	<input type="checkbox"/>	1	<input type="checkbox"/>	1	<input type="checkbox"/>	1	<input type="checkbox"/>	1
<input type="checkbox"/>	2	<input type="checkbox"/>	2	<input type="checkbox"/>	2	<input type="checkbox"/>	2	<input type="checkbox"/>	2	<input type="checkbox"/>	2	<input type="checkbox"/>	2	<input type="checkbox"/>	2	<input type="checkbox"/>	2
<input type="checkbox"/>	3	<input type="checkbox"/>	3	<input type="checkbox"/>	3	<input type="checkbox"/>	3	<input type="checkbox"/>	3	<input type="checkbox"/>	3	<input type="checkbox"/>	3	<input type="checkbox"/>	3	<input type="checkbox"/>	3
<input type="checkbox"/>	4	<input type="checkbox"/>	4	<input type="checkbox"/>	4	<input type="checkbox"/>	4	<input type="checkbox"/>	4	<input type="checkbox"/>	4	<input type="checkbox"/>	4	<input type="checkbox"/>	4	<input type="checkbox"/>	4
<input type="checkbox"/>	5	<input type="checkbox"/>	5	<input type="checkbox"/>	5	<input type="checkbox"/>	5	<input type="checkbox"/>	5	<input type="checkbox"/>	5	<input type="checkbox"/>	5	<input type="checkbox"/>	5	<input type="checkbox"/>	5
<input type="checkbox"/>	6	<input type="checkbox"/>	6	<input type="checkbox"/>	6	<input type="checkbox"/>	6	<input type="checkbox"/>	6	<input type="checkbox"/>	6	<input type="checkbox"/>	6	<input type="checkbox"/>	6	<input type="checkbox"/>	6
<input type="checkbox"/>	7	<input type="checkbox"/>	7	<input type="checkbox"/>	7	<input type="checkbox"/>	7	<input type="checkbox"/>	7	<input type="checkbox"/>	7	<input type="checkbox"/>	7	<input type="checkbox"/>	7	<input type="checkbox"/>	7
<input type="checkbox"/>	8	<input type="checkbox"/>	8	<input type="checkbox"/>	8	<input type="checkbox"/>	8	<input type="checkbox"/>	8	<input type="checkbox"/>	8	<input type="checkbox"/>	8	<input type="checkbox"/>	8	<input type="checkbox"/>	8
<input type="checkbox"/>	9	<input type="checkbox"/>	9	<input type="checkbox"/>	9	<input type="checkbox"/>	9	<input type="checkbox"/>	9	<input type="checkbox"/>	9	<input type="checkbox"/>	9	<input type="checkbox"/>	9	<input type="checkbox"/>	9

QCM3L Suites de Fonctions Préing2

← codez votre numéro d'étudiant ci-contre, et inscrivez votre nom et prénom ci-dessous (le NOM d'abord!).

Nom et prénom :
.....
.....

Les cases doivent être complètement noircies avec un stylo NOIR.

Question 1 ♣

Soit $(f_n)_{n \geq 0}$ une suite de fonctions définies sur un intervalle $I \subset \mathbb{R}$ à valeur dans \mathbb{R} . Quelles les conditions nécessaires pour appliquer le théorème d'interversion limites-dérivations?

- $\forall x_0 \in I$, la suite $(f_n(x_0))_{n \geq 0}$ converge.
- $\exists x_0 \in I$, tel que la suite numérique $(f_n(x_0))_{n \geq 0}$ converge.
- La suite de fonctions (f'_n) converge uniformément sur I vers une fonction g .
- Pour tout $n \in \mathbb{N}$, les fonctions f_n sont de classe C^1 sur I.
- La suite de fonctions (f_n) converge uniformément sur I vers une fonction f continue.

Question 2 ♣

Choisir les suites de fonctions $(f_n)_{n \geq 0}$ qui convergent uniformément vers leur limite simple:

- | | |
|--|---|
| <input type="checkbox"/> $f_n(x) = nxe^{-nx}$ sur $[a; +\infty[$ avec $a \in]0; 1[$ | <input type="checkbox"/> $f_n(x) = nxe^{-nx}$ sur $[0; +\infty[$ |
| <input type="checkbox"/> $f_n(x) = nxe^{-nx}$ sur $[0; 1[$ | <input type="checkbox"/> $f_n(x) = nxe^{-nx}$ sur $[1; 2]$ |
| <input type="checkbox"/> $f_n(x) = \frac{e^{-x}}{n}$ sur $]0; +\infty[$ | <input type="checkbox"/> $f_n(x) = \frac{e^{-x}}{n}$ sur $] - \infty, 0]$ |

Question 3 ♣

On définit la suite de fonctions $f_n(x) = \frac{e^{-nx}}{1+x}$. Alors, la suite $(f_n)_{n \geq 0}$

- converge uniformément sur $[0, 1]$ et la fonction limite est continue
- converge uniformément sur $[1, +\infty[$ et la fonction limite est continue
- converge uniformément sur $[0, +\infty[$

Question 4 ♣

Soit $(f_n)_{n \geq 0}$ une suite de fonctions définies par $f_n(x) = x^n \ln(x)$ pour $x \in]0, 1]$ et $f_n(0) = 0$. Alors

- $(f_n)_{n \geq 0}$ converge uniformément sur $[0, a]$ ($a \in]0, 1[$)
- $(f_n)_{n \geq 0}$ converge uniformément sur $[0, 1]$
- $(f_n)_{n \geq 0}$ converge uniformément sur $[a, 1]$ ($a \in]0, 1[$)



<input type="checkbox"/> 0	<input type="checkbox"/> 0	<input type="checkbox"/> 0	<input type="checkbox"/> 0	<input type="checkbox"/> 0	<input type="checkbox"/> 0	<input type="checkbox"/> 0	<input type="checkbox"/> 0	<input type="checkbox"/> 0
<input type="checkbox"/> 1	<input type="checkbox"/> 1	<input type="checkbox"/> 1	<input type="checkbox"/> 1	<input type="checkbox"/> 1	<input type="checkbox"/> 1	<input type="checkbox"/> 1	<input type="checkbox"/> 1	<input type="checkbox"/> 1
<input type="checkbox"/> 2	<input type="checkbox"/> 2	<input type="checkbox"/> 2	<input type="checkbox"/> 2	<input type="checkbox"/> 2	<input type="checkbox"/> 2	<input type="checkbox"/> 2	<input type="checkbox"/> 2	<input type="checkbox"/> 2
<input type="checkbox"/> 3	<input type="checkbox"/> 3	<input type="checkbox"/> 3	<input type="checkbox"/> 3	<input type="checkbox"/> 3	<input type="checkbox"/> 3	<input type="checkbox"/> 3	<input type="checkbox"/> 3	<input type="checkbox"/> 3
<input type="checkbox"/> 4	<input type="checkbox"/> 4	<input type="checkbox"/> 4	<input type="checkbox"/> 4	<input type="checkbox"/> 4	<input type="checkbox"/> 4	<input type="checkbox"/> 4	<input type="checkbox"/> 4	<input type="checkbox"/> 4
<input type="checkbox"/> 5	<input type="checkbox"/> 5	<input type="checkbox"/> 5	<input type="checkbox"/> 5	<input type="checkbox"/> 5	<input type="checkbox"/> 5	<input type="checkbox"/> 5	<input type="checkbox"/> 5	<input type="checkbox"/> 5
<input type="checkbox"/> 6	<input type="checkbox"/> 6	<input type="checkbox"/> 6	<input type="checkbox"/> 6	<input type="checkbox"/> 6	<input type="checkbox"/> 6	<input type="checkbox"/> 6	<input type="checkbox"/> 6	<input type="checkbox"/> 6
<input type="checkbox"/> 7	<input type="checkbox"/> 7	<input type="checkbox"/> 7	<input type="checkbox"/> 7	<input type="checkbox"/> 7	<input type="checkbox"/> 7	<input type="checkbox"/> 7	<input type="checkbox"/> 7	<input type="checkbox"/> 7
<input type="checkbox"/> 8	<input type="checkbox"/> 8	<input type="checkbox"/> 8	<input type="checkbox"/> 8	<input type="checkbox"/> 8	<input type="checkbox"/> 8	<input type="checkbox"/> 8	<input type="checkbox"/> 8	<input type="checkbox"/> 8
<input type="checkbox"/> 9	<input type="checkbox"/> 9	<input type="checkbox"/> 9	<input type="checkbox"/> 9	<input type="checkbox"/> 9	<input type="checkbox"/> 9	<input type="checkbox"/> 9	<input type="checkbox"/> 9	<input type="checkbox"/> 9

QCM3L Suites de Fonctions Préing2

← codez votre numéro d'étudiant ci-contre, et inscrivez votre nom et prénom ci-dessous (le NOM d'abord!).

Nom et prénom :
.....
.....

Les cases doivent être complètement noircies avec un stylo NOIR.

Question 1 ♣

Choisir les suites de fonctions $(f_n)_{n \geq 0}$ qui convergent uniformément vers leur limite simple:

- | | |
|--|--|
| <input type="checkbox"/> $f_n(x) = \frac{e^{-x}}{n}$ sur $] -\infty, 0]$ | <input type="checkbox"/> $f_n(x) = nxe^{-nx}$ sur $[0; 1[$ |
| <input type="checkbox"/> $f_n(x) = nxe^{-nx}$ sur $[a; +\infty[$ avec $a \in]0; 1[$ | <input type="checkbox"/> $f_n(x) = nxe^{-nx}$ sur $[1; 2]$ |
| <input type="checkbox"/> $f_n(x) = \frac{e^{-x}}{n}$ sur $]0; +\infty[$ | <input type="checkbox"/> $f_n(x) = nxe^{-nx}$ sur $[0; +\infty[$ |

Question 2 ♣

Soit $(f_n)_{n \geq 0}$ une suite de fonctions définies sur un intervalle $I \subset \mathbb{R}$ à valeur dans \mathbb{R} . Quelles les conditions nécessaires pour appliquer le théorème d'interversion limites-dérivations?

- La suite de fonctions (f'_n) converge uniformément sur I vers une fonction g .
- $\forall x_0 \in I$, la suite $(f_n(x_0))_{n \geq 0}$ converge.
- Pour tout $n \in \mathbb{N}$, les fonctions f_n sont de classe C^1 sur I.
- La suite de fonctions (f_n) converge uniformément sur I vers une fonction f continue.
- $\exists x_0 \in I$, tel que la suite numérique $(f_n(x_0))_{n \geq 0}$ converge.

Question 3 ♣

Soit $(f_n)_{n \geq 0}$ une suite de fonctions définies par $f_n(x) = x^n \ln(x)$ pour $x \in]0, 1]$ et $f_n(0) = 0$. Alors

- $(f_n)_{n \geq 0}$ converge uniformément sur $[0, 1]$
- $(f_n)_{n \geq 0}$ converge uniformément sur $[0, a]$ ($a \in]0, 1[$)
- $(f_n)_{n \geq 0}$ converge uniformément sur $[a, 1]$ ($a \in]0, 1[$)

Question 4 ♣

On définit la suite de fonctions $f_n(x) = \frac{e^{-nx}}{1+x}$. Alors, la suite $(f_n)_{n \geq 0}$

- converge uniformément sur $[0, +\infty[$
- converge uniformément sur $[0, 1]$ et la fonction limite est continue
- converge uniformément sur $[1, +\infty[$ et la fonction limite est continue



<input type="checkbox"/>	0	<input type="checkbox"/>	0	<input type="checkbox"/>	0	<input type="checkbox"/>	0	<input type="checkbox"/>	0	<input type="checkbox"/>	0	<input type="checkbox"/>	0	<input type="checkbox"/>	0	<input type="checkbox"/>	0
<input type="checkbox"/>	1	<input type="checkbox"/>	1	<input type="checkbox"/>	1	<input type="checkbox"/>	1	<input type="checkbox"/>	1	<input type="checkbox"/>	1	<input type="checkbox"/>	1	<input type="checkbox"/>	1	<input type="checkbox"/>	1
<input type="checkbox"/>	2	<input type="checkbox"/>	2	<input type="checkbox"/>	2	<input type="checkbox"/>	2	<input type="checkbox"/>	2	<input type="checkbox"/>	2	<input type="checkbox"/>	2	<input type="checkbox"/>	2	<input type="checkbox"/>	2
<input type="checkbox"/>	3	<input type="checkbox"/>	3	<input type="checkbox"/>	3	<input type="checkbox"/>	3	<input type="checkbox"/>	3	<input type="checkbox"/>	3	<input type="checkbox"/>	3	<input type="checkbox"/>	3	<input type="checkbox"/>	3
<input type="checkbox"/>	4	<input type="checkbox"/>	4	<input type="checkbox"/>	4	<input type="checkbox"/>	4	<input type="checkbox"/>	4	<input type="checkbox"/>	4	<input type="checkbox"/>	4	<input type="checkbox"/>	4	<input type="checkbox"/>	4
<input type="checkbox"/>	5	<input type="checkbox"/>	5	<input type="checkbox"/>	5	<input type="checkbox"/>	5	<input type="checkbox"/>	5	<input type="checkbox"/>	5	<input type="checkbox"/>	5	<input type="checkbox"/>	5	<input type="checkbox"/>	5
<input type="checkbox"/>	6	<input type="checkbox"/>	6	<input type="checkbox"/>	6	<input type="checkbox"/>	6	<input type="checkbox"/>	6	<input type="checkbox"/>	6	<input type="checkbox"/>	6	<input type="checkbox"/>	6	<input type="checkbox"/>	6
<input type="checkbox"/>	7	<input type="checkbox"/>	7	<input type="checkbox"/>	7	<input type="checkbox"/>	7	<input type="checkbox"/>	7	<input type="checkbox"/>	7	<input type="checkbox"/>	7	<input type="checkbox"/>	7	<input type="checkbox"/>	7
<input type="checkbox"/>	8	<input type="checkbox"/>	8	<input type="checkbox"/>	8	<input type="checkbox"/>	8	<input type="checkbox"/>	8	<input type="checkbox"/>	8	<input type="checkbox"/>	8	<input type="checkbox"/>	8	<input type="checkbox"/>	8
<input type="checkbox"/>	9	<input type="checkbox"/>	9	<input type="checkbox"/>	9	<input type="checkbox"/>	9	<input type="checkbox"/>	9	<input type="checkbox"/>	9	<input type="checkbox"/>	9	<input type="checkbox"/>	9	<input type="checkbox"/>	9

QCM3L Suites de Fonctions Préing2

← codez votre numéro d'étudiant ci-contre, et inscrivez votre nom et prénom ci-dessous (le NOM d'abord!).

Nom et prénom :
.....
.....

Les cases doivent être complètement noircies avec un stylo NOIR.

Question 1 ♣

Choisir les suites de fonctions $(f_n)_{n \geq 0}$ qui convergent uniformément vers leur limite simple:

- | | | | |
|--------------------------|---|--------------------------|--|
| <input type="checkbox"/> | $f_n(x) = nxe^{-nx}$ sur $]0; +\infty[$ | <input type="checkbox"/> | $f_n(x) = \frac{e^{-x}}{n}$ sur $]0; +\infty[$ |
| <input type="checkbox"/> | $f_n(x) = nxe^{-nx}$ sur $]0; 1[$ | | |
| <input type="checkbox"/> | $f_n(x) = nxe^{-nx}$ sur $[a; +\infty[$ avec $a \in]0; 1[$ | | |
| <input type="checkbox"/> | $f_n(x) = nxe^{-nx}$ sur $[1; 2]$ | <input type="checkbox"/> | $f_n(x) = \frac{e^{-x}}{n}$ sur $] - \infty, 0]$ |

Question 2 ♣

Soit $(f_n)_{n \geq 0}$ une suite de fonctions définies par $f_n(x) = x^n \ln(x)$ pour $x \in]0, 1]$ et $f_n(0) = 0$. Alors

- $(f_n)_{n \geq 0}$ converge uniformément sur $[0, 1]$
- $(f_n)_{n \geq 0}$ converge uniformément sur $[a, 1]$ ($a \in]0, 1[$)
- $(f_n)_{n \geq 0}$ converge uniformément sur $[0, a]$ ($a \in]0, 1[$)

Question 3 ♣

On définit la suite de fonctions $f_n(x) = \frac{e^{-nx}}{1+x}$. Alors, la suite $(f_n)_{n \geq 0}$

- converge uniformément sur $[0, +\infty[$
- converge uniformément sur $[1, +\infty[$ et la fonction limite est continue
- converge uniformément sur $[0, 1]$ et la fonction limite est continue

Question 4 ♣

Soit $(f_n)_{n \geq 0}$ une suite de fonctions définies sur un intervalle $I \subset \mathbb{R}$ à valeur dans \mathbb{R} . Quelles les conditions nécessaires pour appliquer le théorème d'interversion limites-dérivations?

- Pour tout $n \in \mathbb{N}$, les fonctions f_n sont de classe C^1 sur I .
- La suite de fonctions (f_n) converge uniformément sur I vers une fonction f continue.
- La suite de fonctions (f'_n) converge uniformément sur I vers une fonction g .
- $\forall x_0 \in I$, la suite $(f_n(x_0))_{n \geq 0}$ converge.
- $\exists x_0 \in I$, tel que la suite numérique $(f_n(x_0))_{n \geq 0}$ converge.



<input type="checkbox"/>	0	<input type="checkbox"/>	0	<input type="checkbox"/>	0	<input type="checkbox"/>	0	<input type="checkbox"/>	0	<input type="checkbox"/>	0	<input type="checkbox"/>	0	<input type="checkbox"/>	0	<input type="checkbox"/>	0
<input type="checkbox"/>	1	<input type="checkbox"/>	1	<input type="checkbox"/>	1	<input type="checkbox"/>	1	<input type="checkbox"/>	1	<input type="checkbox"/>	1	<input type="checkbox"/>	1	<input type="checkbox"/>	1	<input type="checkbox"/>	1
<input type="checkbox"/>	2	<input type="checkbox"/>	2	<input type="checkbox"/>	2	<input type="checkbox"/>	2	<input type="checkbox"/>	2	<input type="checkbox"/>	2	<input type="checkbox"/>	2	<input type="checkbox"/>	2	<input type="checkbox"/>	2
<input type="checkbox"/>	3	<input type="checkbox"/>	3	<input type="checkbox"/>	3	<input type="checkbox"/>	3	<input type="checkbox"/>	3	<input type="checkbox"/>	3	<input type="checkbox"/>	3	<input type="checkbox"/>	3	<input type="checkbox"/>	3
<input type="checkbox"/>	4	<input type="checkbox"/>	4	<input type="checkbox"/>	4	<input type="checkbox"/>	4	<input type="checkbox"/>	4	<input type="checkbox"/>	4	<input type="checkbox"/>	4	<input type="checkbox"/>	4	<input type="checkbox"/>	4
<input type="checkbox"/>	5	<input type="checkbox"/>	5	<input type="checkbox"/>	5	<input type="checkbox"/>	5	<input type="checkbox"/>	5	<input type="checkbox"/>	5	<input type="checkbox"/>	5	<input type="checkbox"/>	5	<input type="checkbox"/>	5
<input type="checkbox"/>	6	<input type="checkbox"/>	6	<input type="checkbox"/>	6	<input type="checkbox"/>	6	<input type="checkbox"/>	6	<input type="checkbox"/>	6	<input type="checkbox"/>	6	<input type="checkbox"/>	6	<input type="checkbox"/>	6
<input type="checkbox"/>	7	<input type="checkbox"/>	7	<input type="checkbox"/>	7	<input type="checkbox"/>	7	<input type="checkbox"/>	7	<input type="checkbox"/>	7	<input type="checkbox"/>	7	<input type="checkbox"/>	7	<input type="checkbox"/>	7
<input type="checkbox"/>	8	<input type="checkbox"/>	8	<input type="checkbox"/>	8	<input type="checkbox"/>	8	<input type="checkbox"/>	8	<input type="checkbox"/>	8	<input type="checkbox"/>	8	<input type="checkbox"/>	8	<input type="checkbox"/>	8
<input type="checkbox"/>	9	<input type="checkbox"/>	9	<input type="checkbox"/>	9	<input type="checkbox"/>	9	<input type="checkbox"/>	9	<input type="checkbox"/>	9	<input type="checkbox"/>	9	<input type="checkbox"/>	9	<input type="checkbox"/>	9

QCM3L Suites de Fonctions Préing2

← codez votre numéro d'étudiant ci-contre, et inscrivez votre nom et prénom ci-dessous (le NOM d'abord!).

Nom et prénom :

.....

.....

Les cases doivent être complètement noircies avec un stylo NOIR.

Question 1 ♣

On définit la suite de fonctions $f_n(x) = \frac{e^{-nx}}{1+x}$. Alors, la suite $(f_n)_{n \geq 0}$

- converge uniformément sur $[0, 1]$ et la fonction limite est continue
- converge uniformément sur $[0, +\infty[$
- converge uniformément sur $[1, +\infty[$ et la fonction limite est continue

Question 2 ♣

Choisir les suites de fonctions $(f_n)_{n \geq 0}$ qui convergent uniformément vers leur limite simple:

- | | |
|---|--|
| <input type="checkbox"/> $f_n(x) = nxe^{-nx}$ sur $[0; 1[$ | <input type="checkbox"/> $f_n(x) = nxe^{-nx}$ sur $[0; +\infty[$ |
| <input type="checkbox"/> $f_n(x) = \frac{e^{-x}}{n}$ sur $]0; +\infty[$ | <input type="checkbox"/> $f_n(x) = nxe^{-nx}$ sur $[a; +\infty[$ avec $a \in]0; 1[$ |
| <input type="checkbox"/> $f_n(x) = \frac{e^{-x}}{n}$ sur $] - \infty, 0]$ | <input type="checkbox"/> $f_n(x) = nxe^{-nx}$ sur $[1; 2]$ |

Question 3 ♣

Soit $(f_n)_{n \geq 0}$ une suite de fonctions définies par $f_n(x) = x^n \ln(x)$ pour $x \in]0, 1]$ et $f_n(0) = 0$. Alors

- $(f_n)_{n \geq 0}$ converge uniformément sur $[0, 1]$
- $(f_n)_{n \geq 0}$ converge uniformément sur $[0, a]$ ($a \in]0, 1[$)
- $(f_n)_{n \geq 0}$ converge uniformément sur $[a, 1]$ ($a \in]0, 1[$)

Question 4 ♣

Soit $(f_n)_{n \geq 0}$ une suite de fonctions définies sur un intervalle $I \subset \mathbb{R}$ à valeur dans \mathbb{R} . Quelles les conditions nécessaires pour appliquer le théorème d'interversion limites-dérivations?

- Pour tout $n \in \mathbb{N}$, les fonctions f_n sont de classe C^1 sur I .
- La suite de fonctions (f'_n) converge uniformément sur I vers une fonction g .
- $\forall x_0 \in I$, la suite $(f_n(x_0))_{n \geq 0}$ converge.
- $\exists x_0 \in I$, tel que la suite numérique $(f_n(x_0))_{n \geq 0}$ converge.
- La suite de fonctions (f_n) converge uniformément sur I vers une fonction f continue.



<input type="checkbox"/>	0	<input type="checkbox"/>	0	<input type="checkbox"/>	0	<input type="checkbox"/>	0	<input type="checkbox"/>	0	<input type="checkbox"/>	0	<input type="checkbox"/>	0	<input type="checkbox"/>	0	<input type="checkbox"/>	0
<input type="checkbox"/>	1	<input type="checkbox"/>	1	<input type="checkbox"/>	1	<input type="checkbox"/>	1	<input type="checkbox"/>	1	<input type="checkbox"/>	1	<input type="checkbox"/>	1	<input type="checkbox"/>	1	<input type="checkbox"/>	1
<input type="checkbox"/>	2	<input type="checkbox"/>	2	<input type="checkbox"/>	2	<input type="checkbox"/>	2	<input type="checkbox"/>	2	<input type="checkbox"/>	2	<input type="checkbox"/>	2	<input type="checkbox"/>	2	<input type="checkbox"/>	2
<input type="checkbox"/>	3	<input type="checkbox"/>	3	<input type="checkbox"/>	3	<input type="checkbox"/>	3	<input type="checkbox"/>	3	<input type="checkbox"/>	3	<input type="checkbox"/>	3	<input type="checkbox"/>	3	<input type="checkbox"/>	3
<input type="checkbox"/>	4	<input type="checkbox"/>	4	<input type="checkbox"/>	4	<input type="checkbox"/>	4	<input type="checkbox"/>	4	<input type="checkbox"/>	4	<input type="checkbox"/>	4	<input type="checkbox"/>	4	<input type="checkbox"/>	4
<input type="checkbox"/>	5	<input type="checkbox"/>	5	<input type="checkbox"/>	5	<input type="checkbox"/>	5	<input type="checkbox"/>	5	<input type="checkbox"/>	5	<input type="checkbox"/>	5	<input type="checkbox"/>	5	<input type="checkbox"/>	5
<input type="checkbox"/>	6	<input type="checkbox"/>	6	<input type="checkbox"/>	6	<input type="checkbox"/>	6	<input type="checkbox"/>	6	<input type="checkbox"/>	6	<input type="checkbox"/>	6	<input type="checkbox"/>	6	<input type="checkbox"/>	6
<input type="checkbox"/>	7	<input type="checkbox"/>	7	<input type="checkbox"/>	7	<input type="checkbox"/>	7	<input type="checkbox"/>	7	<input type="checkbox"/>	7	<input type="checkbox"/>	7	<input type="checkbox"/>	7	<input type="checkbox"/>	7
<input type="checkbox"/>	8	<input type="checkbox"/>	8	<input type="checkbox"/>	8	<input type="checkbox"/>	8	<input type="checkbox"/>	8	<input type="checkbox"/>	8	<input type="checkbox"/>	8	<input type="checkbox"/>	8	<input type="checkbox"/>	8
<input type="checkbox"/>	9	<input type="checkbox"/>	9	<input type="checkbox"/>	9	<input type="checkbox"/>	9	<input type="checkbox"/>	9	<input type="checkbox"/>	9	<input type="checkbox"/>	9	<input type="checkbox"/>	9	<input type="checkbox"/>	9

QCM3L Suites de Fonctions Préing2

← codez votre numéro d'étudiant ci-contre, et inscrivez votre nom et prénom ci-dessous (le NOM d'abord!).

Nom et prénom :

.....

.....

Les cases doivent être complètement noircies avec un stylo NOIR.

Question 1 ♣

Soit $(f_n)_{n \geq 0}$ une suite de fonctions définies sur un intervalle $I \subset \mathbb{R}$ à valeur dans \mathbb{R} . Quelles les conditions nécessaires pour appliquer le théorème d'interversion limites-dérivations?

- La suite de fonctions (f'_n) converge uniformément sur I vers une fonction g .
- $\exists x_0 \in I$, tel que la suite numérique $(f_n(x_0))_{n \geq 0}$ converge.
- La suite de fonctions (f_n) converge uniformément sur I vers une fonction f continue.
- $\forall x_0 \in I$, la suite $(f_n(x_0))_{n \geq 0}$ converge.
- Pour tout $n \in \mathbb{N}$, les fonctions f_n sont de classe C^1 sur I.

Question 2 ♣

Soit $(f_n)_{n \geq 0}$ une suite de fonctions définies par $f_n(x) = x^n \ln(x)$ pour $x \in]0, 1]$ et $f_n(0) = 0$. Alors

- $(f_n)_{n \geq 0}$ converge uniformément sur $[0, 1]$
- $(f_n)_{n \geq 0}$ converge uniformément sur $[0, a]$ ($a \in]0, 1[$)
- $(f_n)_{n \geq 0}$ converge uniformément sur $[a, 1]$ ($a \in]0, 1[$)

Question 3 ♣

On définit la suite de fonctions $f_n(x) = \frac{e^{-nx}}{1+x}$. Alors, la suite $(f_n)_{n \geq 0}$

- converge uniformément sur $[1, +\infty[$ et la fonction limite est continue
- converge uniformément sur $[0, 1]$ et la fonction limite est continue
- converge uniformément sur $[0, +\infty[$

Question 4 ♣

Choisir les suites de fonctions $(f_n)_{n \geq 0}$ qui convergent uniformément vers leur limite simple:

- | | |
|--|---|
| <input type="checkbox"/> $f_n(x) = \frac{e^{-x}}{n}$ sur $] - \infty, 0]$ | <input type="checkbox"/> $f_n(x) = \frac{e^{-x}}{n}$ sur $]0; +\infty[$ |
| <input type="checkbox"/> $f_n(x) = nxe^{-nx}$ sur $[0; 1[$ | <input type="checkbox"/> $f_n(x) = nxe^{-nx}$ sur $[1; 2]$ |
| <input type="checkbox"/> $f_n(x) = nxe^{-nx}$ sur $[a; +\infty[$ avec $a \in]0; 1[$ | <input type="checkbox"/> $f_n(x) = nxe^{-nx}$ sur $[0; +\infty[$ |



<input type="checkbox"/>	0	<input type="checkbox"/>	0	<input type="checkbox"/>	0	<input type="checkbox"/>	0	<input type="checkbox"/>	0	<input type="checkbox"/>	0	<input type="checkbox"/>	0	<input type="checkbox"/>	0	<input type="checkbox"/>	0
<input type="checkbox"/>	1	<input type="checkbox"/>	1	<input type="checkbox"/>	1	<input type="checkbox"/>	1	<input type="checkbox"/>	1	<input type="checkbox"/>	1	<input type="checkbox"/>	1	<input type="checkbox"/>	1	<input type="checkbox"/>	1
<input type="checkbox"/>	2	<input type="checkbox"/>	2	<input type="checkbox"/>	2	<input type="checkbox"/>	2	<input type="checkbox"/>	2	<input type="checkbox"/>	2	<input type="checkbox"/>	2	<input type="checkbox"/>	2	<input type="checkbox"/>	2
<input type="checkbox"/>	3	<input type="checkbox"/>	3	<input type="checkbox"/>	3	<input type="checkbox"/>	3	<input type="checkbox"/>	3	<input type="checkbox"/>	3	<input type="checkbox"/>	3	<input type="checkbox"/>	3	<input type="checkbox"/>	3
<input type="checkbox"/>	4	<input type="checkbox"/>	4	<input type="checkbox"/>	4	<input type="checkbox"/>	4	<input type="checkbox"/>	4	<input type="checkbox"/>	4	<input type="checkbox"/>	4	<input type="checkbox"/>	4	<input type="checkbox"/>	4
<input type="checkbox"/>	5	<input type="checkbox"/>	5	<input type="checkbox"/>	5	<input type="checkbox"/>	5	<input type="checkbox"/>	5	<input type="checkbox"/>	5	<input type="checkbox"/>	5	<input type="checkbox"/>	5	<input type="checkbox"/>	5
<input type="checkbox"/>	6	<input type="checkbox"/>	6	<input type="checkbox"/>	6	<input type="checkbox"/>	6	<input type="checkbox"/>	6	<input type="checkbox"/>	6	<input type="checkbox"/>	6	<input type="checkbox"/>	6	<input type="checkbox"/>	6
<input type="checkbox"/>	7	<input type="checkbox"/>	7	<input type="checkbox"/>	7	<input type="checkbox"/>	7	<input type="checkbox"/>	7	<input type="checkbox"/>	7	<input type="checkbox"/>	7	<input type="checkbox"/>	7	<input type="checkbox"/>	7
<input type="checkbox"/>	8	<input type="checkbox"/>	8	<input type="checkbox"/>	8	<input type="checkbox"/>	8	<input type="checkbox"/>	8	<input type="checkbox"/>	8	<input type="checkbox"/>	8	<input type="checkbox"/>	8	<input type="checkbox"/>	8
<input type="checkbox"/>	9	<input type="checkbox"/>	9	<input type="checkbox"/>	9	<input type="checkbox"/>	9	<input type="checkbox"/>	9	<input type="checkbox"/>	9	<input type="checkbox"/>	9	<input type="checkbox"/>	9	<input type="checkbox"/>	9

QCM3L Suites de Fonctions Préing2

← codez votre numéro d'étudiant ci-contre, et inscrivez votre nom et prénom ci-dessous (le NOM d'abord!).

Nom et prénom :

.....

.....

Les cases doivent être complètement noircies avec un stylo NOIR.

Question 1 ♣

On définit la suite de fonctions $f_n(x) = \frac{e^{-nx}}{1+x}$. Alors, la suite $(f_n)_{n \geq 0}$

- converge uniformément sur $[0, 1]$ et la fonction limite est continue
- converge uniformément sur $[0, +\infty[$
- converge uniformément sur $[1, +\infty[$ et la fonction limite est continue

Question 2 ♣

Soit $(f_n)_{n \geq 0}$ une suite de fonctions définies par $f_n(x) = x^n \ln(x)$ pour $x \in]0, 1]$ et $f_n(0) = 0$. Alors

- $(f_n)_{n \geq 0}$ converge uniformément sur $[0, 1]$
- $(f_n)_{n \geq 0}$ converge uniformément sur $[0, a]$ ($a \in]0, 1[$)
- $(f_n)_{n \geq 0}$ converge uniformément sur $[a, 1]$ ($a \in]0, 1[$)

Question 3 ♣

Soit $(f_n)_{n \geq 0}$ une suite de fonctions définies sur un intervalle $I \subset \mathbb{R}$ à valeur dans \mathbb{R} . Quelles les conditions nécessaires pour appliquer le théorème d'interversion limites-dérivations?

- Pour tout $n \in \mathbb{N}$, les fonctions f_n sont de classe C^1 sur I .
- $\forall x_0 \in I$, la suite $(f_n(x_0))_{n \geq 0}$ converge.
- La suite de fonctions (f'_n) converge uniformément sur I vers une fonction g .
- La suite de fonctions (f_n) converge uniformément sur I vers une fonction f continue.
- $\exists x_0 \in I$, tel que la suite numérique $(f_n(x_0))_{n \geq 0}$ converge.

Question 4 ♣

Choisir les suites de fonctions $(f_n)_{n \geq 0}$ qui convergent uniformément vers leur limite simple:

- | | |
|--|---|
| <input type="checkbox"/> $f_n(x) = nxe^{-nx}$ sur $[0; +\infty[$ | <input type="checkbox"/> $f_n(x) = nxe^{-nx}$ sur $[1; 2]$ |
| <input type="checkbox"/> $f_n(x) = \frac{e^{-x}}{n}$ sur $] - \infty, 0]$ | <input type="checkbox"/> $f_n(x) = \frac{e^{-x}}{n}$ sur $]0; +\infty[$ |
| <input type="checkbox"/> $f_n(x) = nxe^{-nx}$ sur $[a; +\infty[$ avec $a \in]0; 1[$ | <input type="checkbox"/> $f_n(x) = nxe^{-nx}$ sur $[0; 1[$ |



<input type="checkbox"/>	0	<input type="checkbox"/>	0	<input type="checkbox"/>	0	<input type="checkbox"/>	0	<input type="checkbox"/>	0	<input type="checkbox"/>	0	<input type="checkbox"/>	0	<input type="checkbox"/>	0	<input type="checkbox"/>	0
<input type="checkbox"/>	1	<input type="checkbox"/>	1	<input type="checkbox"/>	1	<input type="checkbox"/>	1	<input type="checkbox"/>	1	<input type="checkbox"/>	1	<input type="checkbox"/>	1	<input type="checkbox"/>	1	<input type="checkbox"/>	1
<input type="checkbox"/>	2	<input type="checkbox"/>	2	<input type="checkbox"/>	2	<input type="checkbox"/>	2	<input type="checkbox"/>	2	<input type="checkbox"/>	2	<input type="checkbox"/>	2	<input type="checkbox"/>	2	<input type="checkbox"/>	2
<input type="checkbox"/>	3	<input type="checkbox"/>	3	<input type="checkbox"/>	3	<input type="checkbox"/>	3	<input type="checkbox"/>	3	<input type="checkbox"/>	3	<input type="checkbox"/>	3	<input type="checkbox"/>	3	<input type="checkbox"/>	3
<input type="checkbox"/>	4	<input type="checkbox"/>	4	<input type="checkbox"/>	4	<input type="checkbox"/>	4	<input type="checkbox"/>	4	<input type="checkbox"/>	4	<input type="checkbox"/>	4	<input type="checkbox"/>	4	<input type="checkbox"/>	4
<input type="checkbox"/>	5	<input type="checkbox"/>	5	<input type="checkbox"/>	5	<input type="checkbox"/>	5	<input type="checkbox"/>	5	<input type="checkbox"/>	5	<input type="checkbox"/>	5	<input type="checkbox"/>	5	<input type="checkbox"/>	5
<input type="checkbox"/>	6	<input type="checkbox"/>	6	<input type="checkbox"/>	6	<input type="checkbox"/>	6	<input type="checkbox"/>	6	<input type="checkbox"/>	6	<input type="checkbox"/>	6	<input type="checkbox"/>	6	<input type="checkbox"/>	6
<input type="checkbox"/>	7	<input type="checkbox"/>	7	<input type="checkbox"/>	7	<input type="checkbox"/>	7	<input type="checkbox"/>	7	<input type="checkbox"/>	7	<input type="checkbox"/>	7	<input type="checkbox"/>	7	<input type="checkbox"/>	7
<input type="checkbox"/>	8	<input type="checkbox"/>	8	<input type="checkbox"/>	8	<input type="checkbox"/>	8	<input type="checkbox"/>	8	<input type="checkbox"/>	8	<input type="checkbox"/>	8	<input type="checkbox"/>	8	<input type="checkbox"/>	8
<input type="checkbox"/>	9	<input type="checkbox"/>	9	<input type="checkbox"/>	9	<input type="checkbox"/>	9	<input type="checkbox"/>	9	<input type="checkbox"/>	9	<input type="checkbox"/>	9	<input type="checkbox"/>	9	<input type="checkbox"/>	9

QCM3L Suites de Fonctions Préing2

← codez votre numéro d'étudiant ci-contre, et inscrivez votre nom et prénom ci-dessous (le NOM d'abord!).

Nom et prénom :

.....

.....

Les cases doivent être complètement noircies avec un stylo NOIR.

Question 1 ♣

Choisir les suites de fonctions $(f_n)_{n \geq 0}$ qui convergent uniformément vers leur limite simple:

- | | |
|--|--|
| <input type="checkbox"/> $f_n(x) = \frac{e^{-x}}{n}$ sur $] -\infty, 0]$ | <input type="checkbox"/> $f_n(x) = \frac{e^{-x}}{n}$ sur $]0; +\infty[$ |
| <input type="checkbox"/> $f_n(x) = nxe^{-nx}$ sur $[1; 2]$ | <input type="checkbox"/> $f_n(x) = nxe^{-nx}$ sur $[0; 1[$ |
| <input type="checkbox"/> $f_n(x) = nxe^{-nx}$ sur $[0; +\infty[$ | <input type="checkbox"/> $f_n(x) = nxe^{-nx}$ sur $[a; +\infty[$ avec $a \in]0; 1[$ |

Question 2 ♣

On définit la suite de fonctions $f_n(x) = \frac{e^{-nx}}{1+x}$. Alors, la suite $(f_n)_{n \geq 0}$

- converge uniformément sur $[0, 1]$ et la fonction limite est continue
- converge uniformément sur $[1, +\infty[$ et la fonction limite est continue
- converge uniformément sur $[0, +\infty[$

Question 3 ♣

Soit $(f_n)_{n \geq 0}$ une suite de fonctions définies par $f_n(x) = x^n \ln(x)$ pour $x \in]0, 1]$ et $f_n(0) = 0$. Alors

- $(f_n)_{n \geq 0}$ converge uniformément sur $[0, a]$ ($a \in]0, 1[$)
- $(f_n)_{n \geq 0}$ converge uniformément sur $[a, 1]$ ($a \in]0, 1[$)
- $(f_n)_{n \geq 0}$ converge uniformément sur $[0, 1]$

Question 4 ♣

Soit $(f_n)_{n \geq 0}$ une suite de fonctions définies sur un intervalle $I \subset \mathbb{R}$ à valeur dans \mathbb{R} . Quelles les conditions nécessaires pour appliquer le théorème d'interversion limites-dérivations?

- $\exists x_0 \in I$, tel que la suite numérique $(f_n(x_0))_{n \geq 0}$ converge.
- La suite de fonctions (f'_n) converge uniformément sur I vers une fonction g .
- $\forall x_0 \in I$, la suite $(f_n(x_0))_{n \geq 0}$ converge.
- Pour tout $n \in \mathbb{N}$, les fonctions f_n sont de classe C^1 sur I .
- La suite de fonctions (f_n) converge uniformément sur I vers une fonction f continue.



<input type="checkbox"/> 0	<input type="checkbox"/> 0	<input type="checkbox"/> 0	<input type="checkbox"/> 0	<input type="checkbox"/> 0	<input type="checkbox"/> 0	<input type="checkbox"/> 0	<input type="checkbox"/> 0
<input type="checkbox"/> 1	<input type="checkbox"/> 1	<input type="checkbox"/> 1	<input type="checkbox"/> 1	<input type="checkbox"/> 1	<input type="checkbox"/> 1	<input type="checkbox"/> 1	<input type="checkbox"/> 1
<input type="checkbox"/> 2	<input type="checkbox"/> 2	<input type="checkbox"/> 2	<input type="checkbox"/> 2	<input type="checkbox"/> 2	<input type="checkbox"/> 2	<input type="checkbox"/> 2	<input type="checkbox"/> 2
<input type="checkbox"/> 3	<input type="checkbox"/> 3	<input type="checkbox"/> 3	<input type="checkbox"/> 3	<input type="checkbox"/> 3	<input type="checkbox"/> 3	<input type="checkbox"/> 3	<input type="checkbox"/> 3
<input type="checkbox"/> 4	<input type="checkbox"/> 4	<input type="checkbox"/> 4	<input type="checkbox"/> 4	<input type="checkbox"/> 4	<input type="checkbox"/> 4	<input type="checkbox"/> 4	<input type="checkbox"/> 4
<input type="checkbox"/> 5	<input type="checkbox"/> 5	<input type="checkbox"/> 5	<input type="checkbox"/> 5	<input type="checkbox"/> 5	<input type="checkbox"/> 5	<input type="checkbox"/> 5	<input type="checkbox"/> 5
<input type="checkbox"/> 6	<input type="checkbox"/> 6	<input type="checkbox"/> 6	<input type="checkbox"/> 6	<input type="checkbox"/> 6	<input type="checkbox"/> 6	<input type="checkbox"/> 6	<input type="checkbox"/> 6
<input type="checkbox"/> 7	<input type="checkbox"/> 7	<input type="checkbox"/> 7	<input type="checkbox"/> 7	<input type="checkbox"/> 7	<input type="checkbox"/> 7	<input type="checkbox"/> 7	<input type="checkbox"/> 7
<input type="checkbox"/> 8	<input type="checkbox"/> 8	<input type="checkbox"/> 8	<input type="checkbox"/> 8	<input type="checkbox"/> 8	<input type="checkbox"/> 8	<input type="checkbox"/> 8	<input type="checkbox"/> 8
<input type="checkbox"/> 9	<input type="checkbox"/> 9	<input type="checkbox"/> 9	<input type="checkbox"/> 9	<input type="checkbox"/> 9	<input type="checkbox"/> 9	<input type="checkbox"/> 9	<input type="checkbox"/> 9

QCM3L Suites de Fonctions Préing2

← codez votre numéro d'étudiant ci-contre, et inscrivez votre nom et prénom ci-dessous (le NOM d'abord!).

Nom et prénom :

.....

.....

Les cases doivent être complètement noircies avec un stylo NOIR.

Question 1 ♣

On définit la suite de fonctions $f_n(x) = \frac{e^{-nx}}{1+x}$. Alors, la suite $(f_n)_{n \geq 0}$

- converge uniformément sur $[1, +\infty[$ et la fonction limite est continue
- converge uniformément sur $[0, 1]$ et la fonction limite est continue
- converge uniformément sur $[0, +\infty[$

Question 2 ♣

Soit $(f_n)_{n \geq 0}$ une suite de fonctions définies par $f_n(x) = x^n \ln(x)$ pour $x \in]0, 1]$ et $f_n(0) = 0$. Alors

- $(f_n)_{n \geq 0}$ converge uniformément sur $[a, 1]$ ($a \in]0, 1[$)
- $(f_n)_{n \geq 0}$ converge uniformément sur $[0, 1]$
- $(f_n)_{n \geq 0}$ converge uniformément sur $[0, a]$ ($a \in]0, 1[$)

Question 3 ♣

Soit $(f_n)_{n \geq 0}$ une suite de fonctions définies sur un intervalle $I \subset \mathbb{R}$ à valeur dans \mathbb{R} . Quelles les conditions nécessaires pour appliquer le théorème d'interversion limites-dérivations?

- La suite de fonctions (f'_n) converge uniformément sur I vers une fonction g .
- $\forall x_0 \in I$, la suite $(f_n(x_0))_{n \geq 0}$ converge.
- Pour tout $n \in \mathbb{N}$, les fonctions f_n sont de classe C^1 sur I.
- La suite de fonctions (f_n) converge uniformément sur I vers une fonction f continue.
- $\exists x_0 \in I$, tel que la suite numérique $(f_n(x_0))_{n \geq 0}$ converge.

Question 4 ♣

Choisir les suites de fonctions $(f_n)_{n \geq 0}$ qui convergent uniformément vers leur limite simple:

- | | |
|---|--|
| <input type="checkbox"/> $f_n(x) = nxe^{-nx}$ sur $[1; 2]$ | <input type="checkbox"/> $f_n(x) = nxe^{-nx}$ sur $[0; 1[$ |
| <input type="checkbox"/> $f_n(x) = \frac{e^{-x}}{n}$ sur $]0; +\infty[$ | <input type="checkbox"/> $f_n(x) = \frac{e^{-x}}{n}$ sur $] - \infty, 0]$ |
| <input type="checkbox"/> $f_n(x) = nxe^{-nx}$ sur $[0; +\infty[$ | <input type="checkbox"/> $f_n(x) = nxe^{-nx}$ sur $[a; +\infty[$ avec $a \in]0; 1[$ |



<input type="checkbox"/>	0	<input type="checkbox"/>	0	<input type="checkbox"/>	0	<input type="checkbox"/>	0	<input type="checkbox"/>	0	<input type="checkbox"/>	0	<input type="checkbox"/>	0	<input type="checkbox"/>	0	<input type="checkbox"/>	0
<input type="checkbox"/>	1	<input type="checkbox"/>	1	<input type="checkbox"/>	1	<input type="checkbox"/>	1	<input type="checkbox"/>	1	<input type="checkbox"/>	1	<input type="checkbox"/>	1	<input type="checkbox"/>	1	<input type="checkbox"/>	1
<input type="checkbox"/>	2	<input type="checkbox"/>	2	<input type="checkbox"/>	2	<input type="checkbox"/>	2	<input type="checkbox"/>	2	<input type="checkbox"/>	2	<input type="checkbox"/>	2	<input type="checkbox"/>	2	<input type="checkbox"/>	2
<input type="checkbox"/>	3	<input type="checkbox"/>	3	<input type="checkbox"/>	3	<input type="checkbox"/>	3	<input type="checkbox"/>	3	<input type="checkbox"/>	3	<input type="checkbox"/>	3	<input type="checkbox"/>	3	<input type="checkbox"/>	3
<input type="checkbox"/>	4	<input type="checkbox"/>	4	<input type="checkbox"/>	4	<input type="checkbox"/>	4	<input type="checkbox"/>	4	<input type="checkbox"/>	4	<input type="checkbox"/>	4	<input type="checkbox"/>	4	<input type="checkbox"/>	4
<input type="checkbox"/>	5	<input type="checkbox"/>	5	<input type="checkbox"/>	5	<input type="checkbox"/>	5	<input type="checkbox"/>	5	<input type="checkbox"/>	5	<input type="checkbox"/>	5	<input type="checkbox"/>	5	<input type="checkbox"/>	5
<input type="checkbox"/>	6	<input type="checkbox"/>	6	<input type="checkbox"/>	6	<input type="checkbox"/>	6	<input type="checkbox"/>	6	<input type="checkbox"/>	6	<input type="checkbox"/>	6	<input type="checkbox"/>	6	<input type="checkbox"/>	6
<input type="checkbox"/>	7	<input type="checkbox"/>	7	<input type="checkbox"/>	7	<input type="checkbox"/>	7	<input type="checkbox"/>	7	<input type="checkbox"/>	7	<input type="checkbox"/>	7	<input type="checkbox"/>	7	<input type="checkbox"/>	7
<input type="checkbox"/>	8	<input type="checkbox"/>	8	<input type="checkbox"/>	8	<input type="checkbox"/>	8	<input type="checkbox"/>	8	<input type="checkbox"/>	8	<input type="checkbox"/>	8	<input type="checkbox"/>	8	<input type="checkbox"/>	8
<input type="checkbox"/>	9	<input type="checkbox"/>	9	<input type="checkbox"/>	9	<input type="checkbox"/>	9	<input type="checkbox"/>	9	<input type="checkbox"/>	9	<input type="checkbox"/>	9	<input type="checkbox"/>	9	<input type="checkbox"/>	9

QCM3L Suites de Fonctions Préing2

← codez votre numéro d'étudiant ci-contre, et inscrivez votre nom et prénom ci-dessous (le NOM d'abord!).

Nom et prénom :
.....
.....

Les cases doivent être complètement noircies avec un stylo NOIR.

Question 1 ♣

Soit $(f_n)_{n \geq 0}$ une suite de fonctions définies par $f_n(x) = x^n \ln(x)$ pour $x \in]0, 1]$ et $f_n(0) = 0$. Alors

- $(f_n)_{n \geq 0}$ converge uniformément sur $[0, a]$ ($a \in]0, 1[$)
- $(f_n)_{n \geq 0}$ converge uniformément sur $[a, 1]$ ($a \in]0, 1[$)
- $(f_n)_{n \geq 0}$ converge uniformément sur $[0, 1]$

Question 2 ♣

Choisir les suites de fonctions $(f_n)_{n \geq 0}$ qui convergent uniformément vers leur limite simple:

- | | |
|--|---|
| <input type="checkbox"/> $f_n(x) = nxe^{-nx}$ sur $[a; +\infty[$ avec $a \in]0; 1[$ | <input type="checkbox"/> $f_n(x) = nxe^{-nx}$ sur $[0; +\infty[$ |
| <input type="checkbox"/> $f_n(x) = \frac{e^{-x}}{n}$ sur $] - \infty, 0]$ | <input type="checkbox"/> $f_n(x) = nxe^{-nx}$ sur $[1; 2]$ |
| <input type="checkbox"/> $f_n(x) = nxe^{-nx}$ sur $[0; 1[$ | <input type="checkbox"/> $f_n(x) = \frac{e^{-x}}{n}$ sur $]0; +\infty[$ |

Question 3 ♣

Soit $(f_n)_{n \geq 0}$ une suite de fonctions définies sur un intervalle $I \subset \mathbb{R}$ à valeur dans \mathbb{R} . Quelles les conditions nécessaires pour appliquer le théorème d'interversion limites-dérivations?

- La suite de fonctions (f_n) converge uniformément sur I vers une fonction f continue.
- $\forall x_0 \in I$, la suite $(f_n(x_0))_{n \geq 0}$ converge.
- La suite de fonctions (f'_n) converge uniformément sur I vers une fonction g .
- Pour tout $n \in \mathbb{N}$, les fonctions f_n sont de classe C^1 sur I.
- $\exists x_0 \in I$, tel que la suite numérique $(f_n(x_0))_{n \geq 0}$ converge.

Question 4 ♣

On définit la suite de fonctions $f_n(x) = \frac{e^{-nx}}{1+x}$. Alors, la suite $(f_n)_{n \geq 0}$

- converge uniformément sur $[1, +\infty[$ et la fonction limite est continue
- converge uniformément sur $[0, 1]$ et la fonction limite est continue
- converge uniformément sur $[0, +\infty[$



<input type="checkbox"/>	0	<input type="checkbox"/>	0	<input type="checkbox"/>	0	<input type="checkbox"/>	0	<input type="checkbox"/>	0	<input type="checkbox"/>	0	<input type="checkbox"/>	0	<input type="checkbox"/>	0	<input type="checkbox"/>	0
<input type="checkbox"/>	1	<input type="checkbox"/>	1	<input type="checkbox"/>	1	<input type="checkbox"/>	1	<input type="checkbox"/>	1	<input type="checkbox"/>	1	<input type="checkbox"/>	1	<input type="checkbox"/>	1	<input type="checkbox"/>	1
<input type="checkbox"/>	2	<input type="checkbox"/>	2	<input type="checkbox"/>	2	<input type="checkbox"/>	2	<input type="checkbox"/>	2	<input type="checkbox"/>	2	<input type="checkbox"/>	2	<input type="checkbox"/>	2	<input type="checkbox"/>	2
<input type="checkbox"/>	3	<input type="checkbox"/>	3	<input type="checkbox"/>	3	<input type="checkbox"/>	3	<input type="checkbox"/>	3	<input type="checkbox"/>	3	<input type="checkbox"/>	3	<input type="checkbox"/>	3	<input type="checkbox"/>	3
<input type="checkbox"/>	4	<input type="checkbox"/>	4	<input type="checkbox"/>	4	<input type="checkbox"/>	4	<input type="checkbox"/>	4	<input type="checkbox"/>	4	<input type="checkbox"/>	4	<input type="checkbox"/>	4	<input type="checkbox"/>	4
<input type="checkbox"/>	5	<input type="checkbox"/>	5	<input type="checkbox"/>	5	<input type="checkbox"/>	5	<input type="checkbox"/>	5	<input type="checkbox"/>	5	<input type="checkbox"/>	5	<input type="checkbox"/>	5	<input type="checkbox"/>	5
<input type="checkbox"/>	6	<input type="checkbox"/>	6	<input type="checkbox"/>	6	<input type="checkbox"/>	6	<input type="checkbox"/>	6	<input type="checkbox"/>	6	<input type="checkbox"/>	6	<input type="checkbox"/>	6	<input type="checkbox"/>	6
<input type="checkbox"/>	7	<input type="checkbox"/>	7	<input type="checkbox"/>	7	<input type="checkbox"/>	7	<input type="checkbox"/>	7	<input type="checkbox"/>	7	<input type="checkbox"/>	7	<input type="checkbox"/>	7	<input type="checkbox"/>	7
<input type="checkbox"/>	8	<input type="checkbox"/>	8	<input type="checkbox"/>	8	<input type="checkbox"/>	8	<input type="checkbox"/>	8	<input type="checkbox"/>	8	<input type="checkbox"/>	8	<input type="checkbox"/>	8	<input type="checkbox"/>	8
<input type="checkbox"/>	9	<input type="checkbox"/>	9	<input type="checkbox"/>	9	<input type="checkbox"/>	9	<input type="checkbox"/>	9	<input type="checkbox"/>	9	<input type="checkbox"/>	9	<input type="checkbox"/>	9	<input type="checkbox"/>	9

QCM3L Suites de Fonctions Préing2

← codez votre numéro d'étudiant ci-contre, et inscrivez votre nom et prénom ci-dessous (le NOM d'abord!).

Nom et prénom :
.....
.....

Les cases doivent être complètement noircies avec un stylo NOIR.

Question 1 ♣

On définit la suite de fonctions $f_n(x) = \frac{e^{-nx}}{1+x}$. Alors, la suite $(f_n)_{n \geq 0}$

- converge uniformément sur $[0, 1]$ et la fonction limite est continue
- converge uniformément sur $[0, +\infty[$
- converge uniformément sur $[1, +\infty[$ et la fonction limite est continue

Question 2 ♣

Soit $(f_n)_{n \geq 0}$ une suite de fonctions définies sur un intervalle $I \subset \mathbb{R}$ à valeur dans \mathbb{R} . Quelles les conditions nécessaires pour appliquer le théorème d'interversion limites-dérivations?

- $\forall x_0 \in I$, la suite $(f_n(x_0))_{n \geq 0}$ converge.
- La suite de fonctions (f_n) converge uniformément sur I vers une fonction f continue.
- La suite de fonctions (f'_n) converge uniformément sur I vers une fonction g .
- Pour tout $n \in \mathbb{N}$, les fonctions f_n sont de classe C^1 sur I.
- $\exists x_0 \in I$, tel que la suite numérique $(f_n(x_0))_{n \geq 0}$ converge.

Question 3 ♣

Soit $(f_n)_{n \geq 0}$ une suite de fonctions définies par $f_n(x) = x^n \ln(x)$ pour $x \in]0, 1]$ et $f_n(0) = 0$. Alors

- $(f_n)_{n \geq 0}$ converge uniformément sur $[0, a]$ ($a \in]0, 1[$)
- $(f_n)_{n \geq 0}$ converge uniformément sur $[a, 1]$ ($a \in]0, 1[$)
- $(f_n)_{n \geq 0}$ converge uniformément sur $[0, 1]$

Question 4 ♣

Choisir les suites de fonctions $(f_n)_{n \geq 0}$ qui convergent uniformément vers leur limite simple:

- | | |
|---|--|
| <input type="checkbox"/> $f_n(x) = \frac{e^{-x}}{n}$ sur $] - \infty, 0]$ | <input type="checkbox"/> $f_n(x) = nxe^{-nx}$ sur $[0; 1[$ |
| <input type="checkbox"/> $f_n(x) = nxe^{-nx}$ sur $[0; +\infty[$ | <input type="checkbox"/> $f_n(x) = nxe^{-nx}$ sur $[1; 2]$ |
| <input type="checkbox"/> $f_n(x) = \frac{e^{-x}}{n}$ sur $]0; +\infty[$ | <input type="checkbox"/> $f_n(x) = nxe^{-nx}$ sur $[a; +\infty[$ avec $a \in]0; 1[$ |



<input type="checkbox"/>	0	<input type="checkbox"/>	0	<input type="checkbox"/>	0	<input type="checkbox"/>	0	<input type="checkbox"/>	0	<input type="checkbox"/>	0	<input type="checkbox"/>	0	<input type="checkbox"/>	0	<input type="checkbox"/>	0
<input type="checkbox"/>	1	<input type="checkbox"/>	1	<input type="checkbox"/>	1	<input type="checkbox"/>	1	<input type="checkbox"/>	1	<input type="checkbox"/>	1	<input type="checkbox"/>	1	<input type="checkbox"/>	1	<input type="checkbox"/>	1
<input type="checkbox"/>	2	<input type="checkbox"/>	2	<input type="checkbox"/>	2	<input type="checkbox"/>	2	<input type="checkbox"/>	2	<input type="checkbox"/>	2	<input type="checkbox"/>	2	<input type="checkbox"/>	2	<input type="checkbox"/>	2
<input type="checkbox"/>	3	<input type="checkbox"/>	3	<input type="checkbox"/>	3	<input type="checkbox"/>	3	<input type="checkbox"/>	3	<input type="checkbox"/>	3	<input type="checkbox"/>	3	<input type="checkbox"/>	3	<input type="checkbox"/>	3
<input type="checkbox"/>	4	<input type="checkbox"/>	4	<input type="checkbox"/>	4	<input type="checkbox"/>	4	<input type="checkbox"/>	4	<input type="checkbox"/>	4	<input type="checkbox"/>	4	<input type="checkbox"/>	4	<input type="checkbox"/>	4
<input type="checkbox"/>	5	<input type="checkbox"/>	5	<input type="checkbox"/>	5	<input type="checkbox"/>	5	<input type="checkbox"/>	5	<input type="checkbox"/>	5	<input type="checkbox"/>	5	<input type="checkbox"/>	5	<input type="checkbox"/>	5
<input type="checkbox"/>	6	<input type="checkbox"/>	6	<input type="checkbox"/>	6	<input type="checkbox"/>	6	<input type="checkbox"/>	6	<input type="checkbox"/>	6	<input type="checkbox"/>	6	<input type="checkbox"/>	6	<input type="checkbox"/>	6
<input type="checkbox"/>	7	<input type="checkbox"/>	7	<input type="checkbox"/>	7	<input type="checkbox"/>	7	<input type="checkbox"/>	7	<input type="checkbox"/>	7	<input type="checkbox"/>	7	<input type="checkbox"/>	7	<input type="checkbox"/>	7
<input type="checkbox"/>	8	<input type="checkbox"/>	8	<input type="checkbox"/>	8	<input type="checkbox"/>	8	<input type="checkbox"/>	8	<input type="checkbox"/>	8	<input type="checkbox"/>	8	<input type="checkbox"/>	8	<input type="checkbox"/>	8
<input type="checkbox"/>	9	<input type="checkbox"/>	9	<input type="checkbox"/>	9	<input type="checkbox"/>	9	<input type="checkbox"/>	9	<input type="checkbox"/>	9	<input type="checkbox"/>	9	<input type="checkbox"/>	9	<input type="checkbox"/>	9

QCM3L Suites de Fonctions Préing2

← codez votre numéro d'étudiant ci-contre, et inscrivez votre nom et prénom ci-dessous (le NOM d'abord!).

Nom et prénom :

.....

.....

Les cases doivent être complètement noircies avec un stylo NOIR.

Question 1 ♣

Soit $(f_n)_{n \geq 0}$ une suite de fonctions définies sur un intervalle $I \subset \mathbb{R}$ à valeur dans \mathbb{R} . Quelles les conditions nécessaires pour appliquer le théorème d'interversion limites-dérivations?

- La suite de fonctions (f_n) converge uniformément sur I vers une fonction f continue.
- $\exists x_0 \in I$, tel que la suite numérique $(f_n(x_0))_{n \geq 0}$ converge.
- Pour tout $n \in \mathbb{N}$, les fonctions f_n sont de classe C^1 sur I.
- La suite de fonctions (f'_n) converge uniformément sur I vers une fonction g .
- $\forall x_0 \in I$, la suite $(f_n(x_0))_{n \geq 0}$ converge.

Question 2 ♣

Choisir les suites de fonctions $(f_n)_{n \geq 0}$ qui convergent uniformément vers leur limite simple:

- | | |
|---|--|
| <input type="checkbox"/> $f_n(x) = nxe^{-nx}$ sur $]0; 1[$ | <input type="checkbox"/> $f_n(x) = \frac{e^{-x}}{n}$ sur $]0; +\infty[$ |
| <input type="checkbox"/> $f_n(x) = nxe^{-nx}$ sur $[1; 2]$ | <input type="checkbox"/> $f_n(x) = nxe^{-nx}$ sur $]0; +\infty[$ |
| <input type="checkbox"/> $f_n(x) = \frac{e^{-x}}{n}$ sur $] - \infty, 0]$ | <input type="checkbox"/> $f_n(x) = nxe^{-nx}$ sur $[a; +\infty[$ avec $a \in]0; 1[$ |

Question 3 ♣

On définit la suite de fonctions $f_n(x) = \frac{e^{-nx}}{1+x}$. Alors, la suite $(f_n)_{n \geq 0}$

- converge uniformément sur $]0, +\infty[$
- converge uniformément sur $[0, 1]$ et la fonction limite est continue
- converge uniformément sur $[1, +\infty[$ et la fonction limite est continue

Question 4 ♣

Soit $(f_n)_{n \geq 0}$ une suite de fonctions définies par $f_n(x) = x^n \ln(x)$ pour $x \in]0, 1]$ et $f_n(0) = 0$. Alors

- $(f_n)_{n \geq 0}$ converge uniformément sur $[0, a]$ ($a \in]0, 1[$)
- $(f_n)_{n \geq 0}$ converge uniformément sur $[a, 1]$ ($a \in]0, 1[$)
- $(f_n)_{n \geq 0}$ converge uniformément sur $[0, 1]$



<input type="checkbox"/>	0	<input type="checkbox"/>	0	<input type="checkbox"/>	0	<input type="checkbox"/>	0	<input type="checkbox"/>	0	<input type="checkbox"/>	0	<input type="checkbox"/>	0	<input type="checkbox"/>	0	<input type="checkbox"/>	0
<input type="checkbox"/>	1	<input type="checkbox"/>	1	<input type="checkbox"/>	1	<input type="checkbox"/>	1	<input type="checkbox"/>	1	<input type="checkbox"/>	1	<input type="checkbox"/>	1	<input type="checkbox"/>	1	<input type="checkbox"/>	1
<input type="checkbox"/>	2	<input type="checkbox"/>	2	<input type="checkbox"/>	2	<input type="checkbox"/>	2	<input type="checkbox"/>	2	<input type="checkbox"/>	2	<input type="checkbox"/>	2	<input type="checkbox"/>	2	<input type="checkbox"/>	2
<input type="checkbox"/>	3	<input type="checkbox"/>	3	<input type="checkbox"/>	3	<input type="checkbox"/>	3	<input type="checkbox"/>	3	<input type="checkbox"/>	3	<input type="checkbox"/>	3	<input type="checkbox"/>	3	<input type="checkbox"/>	3
<input type="checkbox"/>	4	<input type="checkbox"/>	4	<input type="checkbox"/>	4	<input type="checkbox"/>	4	<input type="checkbox"/>	4	<input type="checkbox"/>	4	<input type="checkbox"/>	4	<input type="checkbox"/>	4	<input type="checkbox"/>	4
<input type="checkbox"/>	5	<input type="checkbox"/>	5	<input type="checkbox"/>	5	<input type="checkbox"/>	5	<input type="checkbox"/>	5	<input type="checkbox"/>	5	<input type="checkbox"/>	5	<input type="checkbox"/>	5	<input type="checkbox"/>	5
<input type="checkbox"/>	6	<input type="checkbox"/>	6	<input type="checkbox"/>	6	<input type="checkbox"/>	6	<input type="checkbox"/>	6	<input type="checkbox"/>	6	<input type="checkbox"/>	6	<input type="checkbox"/>	6	<input type="checkbox"/>	6
<input type="checkbox"/>	7	<input type="checkbox"/>	7	<input type="checkbox"/>	7	<input type="checkbox"/>	7	<input type="checkbox"/>	7	<input type="checkbox"/>	7	<input type="checkbox"/>	7	<input type="checkbox"/>	7	<input type="checkbox"/>	7
<input type="checkbox"/>	8	<input type="checkbox"/>	8	<input type="checkbox"/>	8	<input type="checkbox"/>	8	<input type="checkbox"/>	8	<input type="checkbox"/>	8	<input type="checkbox"/>	8	<input type="checkbox"/>	8	<input type="checkbox"/>	8
<input type="checkbox"/>	9	<input type="checkbox"/>	9	<input type="checkbox"/>	9	<input type="checkbox"/>	9	<input type="checkbox"/>	9	<input type="checkbox"/>	9	<input type="checkbox"/>	9	<input type="checkbox"/>	9	<input type="checkbox"/>	9

QCM3L Suites de Fonctions Préing2

← codez votre numéro d'étudiant ci-contre, et inscrivez votre nom et prénom ci-dessous (le NOM d'abord!).

Nom et prénom :

.....

.....

Les cases doivent être complètement noircies avec un stylo NOIR.

Question 1 ♣

Soit $(f_n)_{n \geq 0}$ une suite de fonctions définies par $f_n(x) = x^n \ln(x)$ pour $x \in]0, 1]$ et $f_n(0) = 0$. Alors

- $(f_n)_{n \geq 0}$ converge uniformément sur $[0, a]$ ($a \in]0, 1[$)
- $(f_n)_{n \geq 0}$ converge uniformément sur $[0, 1]$
- $(f_n)_{n \geq 0}$ converge uniformément sur $[a, 1]$ ($a \in]0, 1[$)

Question 2 ♣

On définit la suite de fonctions $f_n(x) = \frac{e^{-nx}}{1+x}$. Alors, la suite $(f_n)_{n \geq 0}$

- converge uniformément sur $[0, 1]$ et la fonction limite est continue
- converge uniformément sur $[0, +\infty[$
- converge uniformément sur $[1, +\infty[$ et la fonction limite est continue

Question 3 ♣

Soit $(f_n)_{n \geq 0}$ une suite de fonctions définies sur un intervalle $I \subset \mathbb{R}$ à valeur dans \mathbb{R} . Quelles les conditions nécessaires pour appliquer le théorème d'interversion limites-dérivations?

- $\exists x_0 \in I$, tel que la suite numérique $(f_n(x_0))_{n \geq 0}$ converge.
- La suite de fonctions (f_n) converge uniformément sur I vers une fonction f continue.
- Pour tout $n \in \mathbb{N}$, les fonctions f_n sont de classe C^1 sur I.
- $\forall x_0 \in I$, la suite $(f_n(x_0))_{n \geq 0}$ converge.
- La suite de fonctions (f'_n) converge uniformément sur I vers une fonction g .

Question 4 ♣

Choisir les suites de fonctions $(f_n)_{n \geq 0}$ qui convergent uniformément vers leur limite simple:

- | | |
|---|--|
| <input type="checkbox"/> $f_n(x) = \frac{e^{-x}}{n}$ sur $]0; +\infty[$ | <input type="checkbox"/> $f_n(x) = \frac{e^{-x}}{n}$ sur $] - \infty, 0]$ |
| <input type="checkbox"/> $f_n(x) = nxe^{-nx}$ sur $[0; +\infty[$ | <input type="checkbox"/> $f_n(x) = nxe^{-nx}$ sur $[a; +\infty[$ avec $a \in]0; 1[$ |
| <input type="checkbox"/> $f_n(x) = nxe^{-nx}$ sur $[0; 1[$ | <input type="checkbox"/> $f_n(x) = nxe^{-nx}$ sur $[1; 2]$ |



<input type="checkbox"/>	0	<input type="checkbox"/>	0	<input type="checkbox"/>	0	<input type="checkbox"/>	0	<input type="checkbox"/>	0	<input type="checkbox"/>	0	<input type="checkbox"/>	0
<input type="checkbox"/>	1	<input type="checkbox"/>	1	<input type="checkbox"/>	1	<input type="checkbox"/>	1	<input type="checkbox"/>	1	<input type="checkbox"/>	1	<input type="checkbox"/>	1
<input type="checkbox"/>	2	<input type="checkbox"/>	2	<input type="checkbox"/>	2	<input type="checkbox"/>	2	<input type="checkbox"/>	2	<input type="checkbox"/>	2	<input type="checkbox"/>	2
<input type="checkbox"/>	3	<input type="checkbox"/>	3	<input type="checkbox"/>	3	<input type="checkbox"/>	3	<input type="checkbox"/>	3	<input type="checkbox"/>	3	<input type="checkbox"/>	3
<input type="checkbox"/>	4	<input type="checkbox"/>	4	<input type="checkbox"/>	4	<input type="checkbox"/>	4	<input type="checkbox"/>	4	<input type="checkbox"/>	4	<input type="checkbox"/>	4
<input type="checkbox"/>	5	<input type="checkbox"/>	5	<input type="checkbox"/>	5	<input type="checkbox"/>	5	<input type="checkbox"/>	5	<input type="checkbox"/>	5	<input type="checkbox"/>	5
<input type="checkbox"/>	6	<input type="checkbox"/>	6	<input type="checkbox"/>	6	<input type="checkbox"/>	6	<input type="checkbox"/>	6	<input type="checkbox"/>	6	<input type="checkbox"/>	6
<input type="checkbox"/>	7	<input type="checkbox"/>	7	<input type="checkbox"/>	7	<input type="checkbox"/>	7	<input type="checkbox"/>	7	<input type="checkbox"/>	7	<input type="checkbox"/>	7
<input type="checkbox"/>	8	<input type="checkbox"/>	8	<input type="checkbox"/>	8	<input type="checkbox"/>	8	<input type="checkbox"/>	8	<input type="checkbox"/>	8	<input type="checkbox"/>	8
<input type="checkbox"/>	9	<input type="checkbox"/>	9	<input type="checkbox"/>	9	<input type="checkbox"/>	9	<input type="checkbox"/>	9	<input type="checkbox"/>	9	<input type="checkbox"/>	9

QCM3L Suites de Fonctions Préing2

← codez votre numéro d'étudiant ci-contre, et inscrivez votre nom et prénom ci-dessous (le NOM d'abord!).

Nom et prénom :

.....

.....

Les cases doivent être complètement noircies avec un stylo NOIR.

Question 1 ♣

On définit la suite de fonctions $f_n(x) = \frac{e^{-nx}}{1+x}$. Alors, la suite $(f_n)_{n \geq 0}$

- converge uniformément sur $[1, +\infty[$ et la fonction limite est continue
- converge uniformément sur $[0, 1]$ et la fonction limite est continue
- converge uniformément sur $[0, +\infty[$

Question 2 ♣

Choisir les suites de fonctions $(f_n)_{n \geq 0}$ qui convergent uniformément vers leur limite simple:

- $f_n(x) = nxe^{-nx}$ sur $[a; +\infty[$ avec $a \in]0; 1[$
- $f_n(x) = nxe^{-nx}$ sur $[1; 2]$
- $f_n(x) = \frac{e^{-x}}{n}$ sur $]0; +\infty[$
- $f_n(x) = \frac{e^{-x}}{n}$ sur $] - \infty, 0]$
- $f_n(x) = nxe^{-nx}$ sur $[0; 1[$
- $f_n(x) = nxe^{-nx}$ sur $[0; +\infty[$

Question 3 ♣

Soit $(f_n)_{n \geq 0}$ une suite de fonctions définies par $f_n(x) = x^n \ln(x)$ pour $x \in]0, 1]$ et $f_n(0) = 0$. Alors

- $(f_n)_{n \geq 0}$ converge uniformément sur $[0, a]$ ($a \in]0, 1[$)
- $(f_n)_{n \geq 0}$ converge uniformément sur $[0, 1]$
- $(f_n)_{n \geq 0}$ converge uniformément sur $[a, 1]$ ($a \in]0, 1[$)

Question 4 ♣

Soit $(f_n)_{n \geq 0}$ une suite de fonctions définies sur un intervalle $I \subset \mathbb{R}$ à valeur dans \mathbb{R} . Quelles les conditions nécessaires pour appliquer le théorème d'interversion limites-dérivations?

- La suite de fonctions (f_n) converge uniformément sur I vers une fonction f continue.
- La suite de fonctions (f'_n) converge uniformément sur I vers une fonction g .
- Pour tout $n \in \mathbb{N}$, les fonctions f_n sont de classe C^1 sur I.
- $\exists x_0 \in I$, tel que la suite numérique $(f_n(x_0))_{n \geq 0}$ converge.
- $\forall x_0 \in I$, la suite $(f_n(x_0))_{n \geq 0}$ converge.



<input type="checkbox"/>	0	<input type="checkbox"/>	0	<input type="checkbox"/>	0	<input type="checkbox"/>	0	<input type="checkbox"/>	0	<input type="checkbox"/>	0	<input type="checkbox"/>	0	<input type="checkbox"/>	0	<input type="checkbox"/>	0
<input type="checkbox"/>	1	<input type="checkbox"/>	1	<input type="checkbox"/>	1	<input type="checkbox"/>	1	<input type="checkbox"/>	1	<input type="checkbox"/>	1	<input type="checkbox"/>	1	<input type="checkbox"/>	1	<input type="checkbox"/>	1
<input type="checkbox"/>	2	<input type="checkbox"/>	2	<input type="checkbox"/>	2	<input type="checkbox"/>	2	<input type="checkbox"/>	2	<input type="checkbox"/>	2	<input type="checkbox"/>	2	<input type="checkbox"/>	2	<input type="checkbox"/>	2
<input type="checkbox"/>	3	<input type="checkbox"/>	3	<input type="checkbox"/>	3	<input type="checkbox"/>	3	<input type="checkbox"/>	3	<input type="checkbox"/>	3	<input type="checkbox"/>	3	<input type="checkbox"/>	3	<input type="checkbox"/>	3
<input type="checkbox"/>	4	<input type="checkbox"/>	4	<input type="checkbox"/>	4	<input type="checkbox"/>	4	<input type="checkbox"/>	4	<input type="checkbox"/>	4	<input type="checkbox"/>	4	<input type="checkbox"/>	4	<input type="checkbox"/>	4
<input type="checkbox"/>	5	<input type="checkbox"/>	5	<input type="checkbox"/>	5	<input type="checkbox"/>	5	<input type="checkbox"/>	5	<input type="checkbox"/>	5	<input type="checkbox"/>	5	<input type="checkbox"/>	5	<input type="checkbox"/>	5
<input type="checkbox"/>	6	<input type="checkbox"/>	6	<input type="checkbox"/>	6	<input type="checkbox"/>	6	<input type="checkbox"/>	6	<input type="checkbox"/>	6	<input type="checkbox"/>	6	<input type="checkbox"/>	6	<input type="checkbox"/>	6
<input type="checkbox"/>	7	<input type="checkbox"/>	7	<input type="checkbox"/>	7	<input type="checkbox"/>	7	<input type="checkbox"/>	7	<input type="checkbox"/>	7	<input type="checkbox"/>	7	<input type="checkbox"/>	7	<input type="checkbox"/>	7
<input type="checkbox"/>	8	<input type="checkbox"/>	8	<input type="checkbox"/>	8	<input type="checkbox"/>	8	<input type="checkbox"/>	8	<input type="checkbox"/>	8	<input type="checkbox"/>	8	<input type="checkbox"/>	8	<input type="checkbox"/>	8
<input type="checkbox"/>	9	<input type="checkbox"/>	9	<input type="checkbox"/>	9	<input type="checkbox"/>	9	<input type="checkbox"/>	9	<input type="checkbox"/>	9	<input type="checkbox"/>	9	<input type="checkbox"/>	9	<input type="checkbox"/>	9

QCM3L Suites de Fonctions Préing2

← codez votre numéro d'étudiant ci-contre, et inscrivez votre nom et prénom ci-dessous (le NOM d'abord!).

Nom et prénom :

.....

.....

Les cases doivent être complètement noircies avec un stylo NOIR.

Question 1 ♣

Soit $(f_n)_{n \geq 0}$ une suite de fonctions définies sur un intervalle $I \subset \mathbb{R}$ à valeur dans \mathbb{R} . Quelles les conditions nécessaires pour appliquer le théorème d'inversion limites-dérivations?

- Pour tout $n \in \mathbb{N}$, les fonctions f_n sont de classe C^1 sur I .
- La suite de fonctions (f'_n) converge uniformément sur I vers une fonction g .
- La suite de fonctions (f_n) converge uniformément sur I vers une fonction f continue.
- $\exists x_0 \in I$, tel que la suite numérique $(f_n(x_0))_{n \geq 0}$ converge.
- $\forall x_0 \in I$, la suite $(f_n(x_0))_{n \geq 0}$ converge.

Question 2 ♣

On définit la suite de fonctions $f_n(x) = \frac{e^{-nx}}{1+x}$. Alors, la suite $(f_n)_{n \geq 0}$

- converge uniformément sur $[0, 1]$ et la fonction limite est continue
- converge uniformément sur $[1, +\infty[$ et la fonction limite est continue
- converge uniformément sur $[0, +\infty[$

Question 3 ♣

Soit $(f_n)_{n \geq 0}$ une suite de fonctions définies par $f_n(x) = x^n \ln(x)$ pour $x \in]0, 1]$ et $f_n(0) = 0$. Alors

- $(f_n)_{n \geq 0}$ converge uniformément sur $[a, 1]$ ($a \in]0, 1[$)
- $(f_n)_{n \geq 0}$ converge uniformément sur $[0, 1]$
- $(f_n)_{n \geq 0}$ converge uniformément sur $[0, a]$ ($a \in]0, 1[$)

Question 4 ♣

Choisir les suites de fonctions $(f_n)_{n \geq 0}$ qui convergent uniformément vers leur limite simple:

- | | |
|--|---|
| <input type="checkbox"/> $f_n(x) = nxe^{-nx}$ sur $]0; +\infty[$ | <input type="checkbox"/> $f_n(x) = \frac{e^{-x}}{n}$ sur $]0; +\infty[$ |
| <input type="checkbox"/> $f_n(x) = \frac{e^{-x}}{n}$ sur $] - \infty, 0]$ | <input type="checkbox"/> $f_n(x) = nxe^{-nx}$ sur $[1; 2]$ |
| <input type="checkbox"/> $f_n(x) = nxe^{-nx}$ sur $[a; +\infty[$ avec $a \in]0; 1[$ | <input type="checkbox"/> $f_n(x) = nxe^{-nx}$ sur $[0; 1[$ |



<input type="checkbox"/>	0	<input type="checkbox"/>	0	<input type="checkbox"/>	0	<input type="checkbox"/>	0	<input type="checkbox"/>	0	<input type="checkbox"/>	0	<input type="checkbox"/>	0	<input type="checkbox"/>	0	<input type="checkbox"/>	0
<input type="checkbox"/>	1	<input type="checkbox"/>	1	<input type="checkbox"/>	1	<input type="checkbox"/>	1	<input type="checkbox"/>	1	<input type="checkbox"/>	1	<input type="checkbox"/>	1	<input type="checkbox"/>	1	<input type="checkbox"/>	1
<input type="checkbox"/>	2	<input type="checkbox"/>	2	<input type="checkbox"/>	2	<input type="checkbox"/>	2	<input type="checkbox"/>	2	<input type="checkbox"/>	2	<input type="checkbox"/>	2	<input type="checkbox"/>	2	<input type="checkbox"/>	2
<input type="checkbox"/>	3	<input type="checkbox"/>	3	<input type="checkbox"/>	3	<input type="checkbox"/>	3	<input type="checkbox"/>	3	<input type="checkbox"/>	3	<input type="checkbox"/>	3	<input type="checkbox"/>	3	<input type="checkbox"/>	3
<input type="checkbox"/>	4	<input type="checkbox"/>	4	<input type="checkbox"/>	4	<input type="checkbox"/>	4	<input type="checkbox"/>	4	<input type="checkbox"/>	4	<input type="checkbox"/>	4	<input type="checkbox"/>	4	<input type="checkbox"/>	4
<input type="checkbox"/>	5	<input type="checkbox"/>	5	<input type="checkbox"/>	5	<input type="checkbox"/>	5	<input type="checkbox"/>	5	<input type="checkbox"/>	5	<input type="checkbox"/>	5	<input type="checkbox"/>	5	<input type="checkbox"/>	5
<input type="checkbox"/>	6	<input type="checkbox"/>	6	<input type="checkbox"/>	6	<input type="checkbox"/>	6	<input type="checkbox"/>	6	<input type="checkbox"/>	6	<input type="checkbox"/>	6	<input type="checkbox"/>	6	<input type="checkbox"/>	6
<input type="checkbox"/>	7	<input type="checkbox"/>	7	<input type="checkbox"/>	7	<input type="checkbox"/>	7	<input type="checkbox"/>	7	<input type="checkbox"/>	7	<input type="checkbox"/>	7	<input type="checkbox"/>	7	<input type="checkbox"/>	7
<input type="checkbox"/>	8	<input type="checkbox"/>	8	<input type="checkbox"/>	8	<input type="checkbox"/>	8	<input type="checkbox"/>	8	<input type="checkbox"/>	8	<input type="checkbox"/>	8	<input type="checkbox"/>	8	<input type="checkbox"/>	8
<input type="checkbox"/>	9	<input type="checkbox"/>	9	<input type="checkbox"/>	9	<input type="checkbox"/>	9	<input type="checkbox"/>	9	<input type="checkbox"/>	9	<input type="checkbox"/>	9	<input type="checkbox"/>	9	<input type="checkbox"/>	9

QCM3L Suites de Fonctions Préing2

← codez votre numéro d'étudiant ci-contre, et inscrivez votre nom et prénom ci-dessous (le NOM d'abord!).

Nom et prénom :

.....

.....

Les cases doivent être complètement noircies avec un stylo NOIR.

Question 1 ♣

Soit $(f_n)_{n \geq 0}$ une suite de fonctions définies par $f_n(x) = x^n \ln(x)$ pour $x \in]0, 1]$ et $f_n(0) = 0$. Alors

- $(f_n)_{n \geq 0}$ converge uniformément sur $[a, 1]$ ($a \in]0, 1[$)
- $(f_n)_{n \geq 0}$ converge uniformément sur $[0, a]$ ($a \in]0, 1[$)
- $(f_n)_{n \geq 0}$ converge uniformément sur $[0, 1]$

Question 2 ♣

Soit $(f_n)_{n \geq 0}$ une suite de fonctions définies sur un intervalle $I \subset \mathbb{R}$ à valeur dans \mathbb{R} . Quelles les conditions nécessaires pour appliquer le théorème d'interversion limites-dérivations?

- La suite de fonctions (f'_n) converge uniformément sur I vers une fonction g .
- $\forall x_0 \in I$, la suite $(f_n(x_0))_{n \geq 0}$ converge.
- $\exists x_0 \in I$, tel que la suite numérique $(f_n(x_0))_{n \geq 0}$ converge.
- La suite de fonctions (f_n) converge uniformément sur I vers une fonction f continue.
- Pour tout $n \in \mathbb{N}$, les fonctions f_n sont de classe C^1 sur I.

Question 3 ♣

Choisir les suites de fonctions $(f_n)_{n \geq 0}$ qui convergent uniformément vers leur limite simple:

- | | |
|---|--|
| <input type="checkbox"/> $f_n(x) = nxe^{-nx}$ sur $]0; +\infty[$ | <input type="checkbox"/> $f_n(x) = \frac{e^{-x}}{n}$ sur $] - \infty, 0]$ |
| <input type="checkbox"/> $f_n(x) = nxe^{-nx}$ sur $]0; 1[$ | <input type="checkbox"/> $f_n(x) = nxe^{-nx}$ sur $]1; 2]$ |
| <input type="checkbox"/> $f_n(x) = \frac{e^{-x}}{n}$ sur $]0; +\infty[$ | <input type="checkbox"/> $f_n(x) = nxe^{-nx}$ sur $[a; +\infty[$ avec $a \in]0; 1[$ |

Question 4 ♣

On définit la suite de fonctions $f_n(x) = \frac{e^{-nx}}{1+x}$. Alors, la suite $(f_n)_{n \geq 0}$

- converge uniformément sur $[1, +\infty[$ et la fonction limite est continue
- converge uniformément sur $[0, +\infty[$
- converge uniformément sur $[0, 1]$ et la fonction limite est continue



<input type="checkbox"/>	0	<input type="checkbox"/>	0	<input type="checkbox"/>	0	<input type="checkbox"/>	0	<input type="checkbox"/>	0	<input type="checkbox"/>	0	<input type="checkbox"/>	0	<input type="checkbox"/>	0	<input type="checkbox"/>	0
<input type="checkbox"/>	1	<input type="checkbox"/>	1	<input type="checkbox"/>	1	<input type="checkbox"/>	1	<input type="checkbox"/>	1	<input type="checkbox"/>	1	<input type="checkbox"/>	1	<input type="checkbox"/>	1	<input type="checkbox"/>	1
<input type="checkbox"/>	2	<input type="checkbox"/>	2	<input type="checkbox"/>	2	<input type="checkbox"/>	2	<input type="checkbox"/>	2	<input type="checkbox"/>	2	<input type="checkbox"/>	2	<input type="checkbox"/>	2	<input type="checkbox"/>	2
<input type="checkbox"/>	3	<input type="checkbox"/>	3	<input type="checkbox"/>	3	<input type="checkbox"/>	3	<input type="checkbox"/>	3	<input type="checkbox"/>	3	<input type="checkbox"/>	3	<input type="checkbox"/>	3	<input type="checkbox"/>	3
<input type="checkbox"/>	4	<input type="checkbox"/>	4	<input type="checkbox"/>	4	<input type="checkbox"/>	4	<input type="checkbox"/>	4	<input type="checkbox"/>	4	<input type="checkbox"/>	4	<input type="checkbox"/>	4	<input type="checkbox"/>	4
<input type="checkbox"/>	5	<input type="checkbox"/>	5	<input type="checkbox"/>	5	<input type="checkbox"/>	5	<input type="checkbox"/>	5	<input type="checkbox"/>	5	<input type="checkbox"/>	5	<input type="checkbox"/>	5	<input type="checkbox"/>	5
<input type="checkbox"/>	6	<input type="checkbox"/>	6	<input type="checkbox"/>	6	<input type="checkbox"/>	6	<input type="checkbox"/>	6	<input type="checkbox"/>	6	<input type="checkbox"/>	6	<input type="checkbox"/>	6	<input type="checkbox"/>	6
<input type="checkbox"/>	7	<input type="checkbox"/>	7	<input type="checkbox"/>	7	<input type="checkbox"/>	7	<input type="checkbox"/>	7	<input type="checkbox"/>	7	<input type="checkbox"/>	7	<input type="checkbox"/>	7	<input type="checkbox"/>	7
<input type="checkbox"/>	8	<input type="checkbox"/>	8	<input type="checkbox"/>	8	<input type="checkbox"/>	8	<input type="checkbox"/>	8	<input type="checkbox"/>	8	<input type="checkbox"/>	8	<input type="checkbox"/>	8	<input type="checkbox"/>	8
<input type="checkbox"/>	9	<input type="checkbox"/>	9	<input type="checkbox"/>	9	<input type="checkbox"/>	9	<input type="checkbox"/>	9	<input type="checkbox"/>	9	<input type="checkbox"/>	9	<input type="checkbox"/>	9	<input type="checkbox"/>	9

QCM3L Suites de Fonctions Préing2

← codez votre numéro d'étudiant ci-contre, et inscrivez votre nom et prénom ci-dessous (le NOM d'abord!).

Nom et prénom :

.....

.....

Les cases doivent être complètement noircies avec un stylo NOIR.

Question 1 ♣

Soit $(f_n)_{n \geq 0}$ une suite de fonctions définies par $f_n(x) = x^n \ln(x)$ pour $x \in]0, 1]$ et $f_n(0) = 0$. Alors

- $(f_n)_{n \geq 0}$ converge uniformément sur $[a, 1]$ ($a \in]0, 1[$)
- $(f_n)_{n \geq 0}$ converge uniformément sur $[0, 1]$
- $(f_n)_{n \geq 0}$ converge uniformément sur $[0, a]$ ($a \in]0, 1[$)

Question 2 ♣

Soit $(f_n)_{n \geq 0}$ une suite de fonctions définies sur un intervalle $I \subset \mathbb{R}$ à valeur dans \mathbb{R} . Quelles les conditions nécessaires pour appliquer le théorème d'interversion limites-dérivations?

- $\forall x_0 \in I$, la suite $(f_n(x_0))_{n \geq 0}$ converge.
- Pour tout $n \in \mathbb{N}$, les fonctions f_n sont de classe C^1 sur I .
- La suite de fonctions (f'_n) converge uniformément sur I vers une fonction g .
- La suite de fonctions (f_n) converge uniformément sur I vers une fonction f continue.
- $\exists x_0 \in I$, tel que la suite numérique $(f_n(x_0))_{n \geq 0}$ converge.

Question 3 ♣

On définit la suite de fonctions $f_n(x) = \frac{e^{-nx}}{1+x}$. Alors, la suite $(f_n)_{n \geq 0}$

- converge uniformément sur $[0, 1]$ et la fonction limite est continue
- converge uniformément sur $[1, +\infty[$ et la fonction limite est continue
- converge uniformément sur $[0, +\infty[$

Question 4 ♣

Choisir les suites de fonctions $(f_n)_{n \geq 0}$ qui convergent uniformément vers leur limite simple:

- | | |
|---|--|
| <input type="checkbox"/> $f_n(x) = nxe^{-nx}$ sur $]0; 1[$ | <input type="checkbox"/> $f_n(x) = \frac{e^{-x}}{n}$ sur $] - \infty, 0]$ |
| <input type="checkbox"/> $f_n(x) = nxe^{-nx}$ sur $[1; 2]$ | <input type="checkbox"/> $f_n(x) = nxe^{-nx}$ sur $[0; +\infty[$ |
| <input type="checkbox"/> $f_n(x) = \frac{e^{-x}}{n}$ sur $]0; +\infty[$ | <input type="checkbox"/> $f_n(x) = nxe^{-nx}$ sur $[a; +\infty[$ avec $a \in]0; 1[$ |



<input type="checkbox"/>	0	<input type="checkbox"/>	0	<input type="checkbox"/>	0	<input type="checkbox"/>	0	<input type="checkbox"/>	0	<input type="checkbox"/>	0	<input type="checkbox"/>	0	<input type="checkbox"/>	0	<input type="checkbox"/>	0
<input type="checkbox"/>	1	<input type="checkbox"/>	1	<input type="checkbox"/>	1	<input type="checkbox"/>	1	<input type="checkbox"/>	1	<input type="checkbox"/>	1	<input type="checkbox"/>	1	<input type="checkbox"/>	1	<input type="checkbox"/>	1
<input type="checkbox"/>	2	<input type="checkbox"/>	2	<input type="checkbox"/>	2	<input type="checkbox"/>	2	<input type="checkbox"/>	2	<input type="checkbox"/>	2	<input type="checkbox"/>	2	<input type="checkbox"/>	2	<input type="checkbox"/>	2
<input type="checkbox"/>	3	<input type="checkbox"/>	3	<input type="checkbox"/>	3	<input type="checkbox"/>	3	<input type="checkbox"/>	3	<input type="checkbox"/>	3	<input type="checkbox"/>	3	<input type="checkbox"/>	3	<input type="checkbox"/>	3
<input type="checkbox"/>	4	<input type="checkbox"/>	4	<input type="checkbox"/>	4	<input type="checkbox"/>	4	<input type="checkbox"/>	4	<input type="checkbox"/>	4	<input type="checkbox"/>	4	<input type="checkbox"/>	4	<input type="checkbox"/>	4
<input type="checkbox"/>	5	<input type="checkbox"/>	5	<input type="checkbox"/>	5	<input type="checkbox"/>	5	<input type="checkbox"/>	5	<input type="checkbox"/>	5	<input type="checkbox"/>	5	<input type="checkbox"/>	5	<input type="checkbox"/>	5
<input type="checkbox"/>	6	<input type="checkbox"/>	6	<input type="checkbox"/>	6	<input type="checkbox"/>	6	<input type="checkbox"/>	6	<input type="checkbox"/>	6	<input type="checkbox"/>	6	<input type="checkbox"/>	6	<input type="checkbox"/>	6
<input type="checkbox"/>	7	<input type="checkbox"/>	7	<input type="checkbox"/>	7	<input type="checkbox"/>	7	<input type="checkbox"/>	7	<input type="checkbox"/>	7	<input type="checkbox"/>	7	<input type="checkbox"/>	7	<input type="checkbox"/>	7
<input type="checkbox"/>	8	<input type="checkbox"/>	8	<input type="checkbox"/>	8	<input type="checkbox"/>	8	<input type="checkbox"/>	8	<input type="checkbox"/>	8	<input type="checkbox"/>	8	<input type="checkbox"/>	8	<input type="checkbox"/>	8
<input type="checkbox"/>	9	<input type="checkbox"/>	9	<input type="checkbox"/>	9	<input type="checkbox"/>	9	<input type="checkbox"/>	9	<input type="checkbox"/>	9	<input type="checkbox"/>	9	<input type="checkbox"/>	9	<input type="checkbox"/>	9

QCM3L Suites de Fonctions Préing2

← codez votre numéro d'étudiant ci-contre, et inscrivez votre nom et prénom ci-dessous (le NOM d'abord!).

Nom et prénom :
.....
.....

Les cases doivent être complètement noircies avec un stylo NOIR.

Question 1 ♣

Choisir les suites de fonctions $(f_n)_{n \geq 0}$ qui convergent uniformément vers leur limite simple:

- | | |
|--|--|
| <input type="checkbox"/> $f_n(x) = nxe^{-nx}$ sur $[1; 2]$ | <input type="checkbox"/> $f_n(x) = \frac{e^{-x}}{n}$ sur $]0; +\infty[$ |
| <input type="checkbox"/> $f_n(x) = nxe^{-nx}$ sur $[0; 1[$ | <input type="checkbox"/> $f_n(x) = nxe^{-nx}$ sur $[0; +\infty[$ |
| <input type="checkbox"/> $f_n(x) = nxe^{-nx}$ sur $[a; +\infty[$ avec $a \in]0; 1[$ | <input type="checkbox"/> $f_n(x) = \frac{e^{-x}}{n}$ sur $] -\infty, 0]$ |

Question 2 ♣

On définit la suite de fonctions $f_n(x) = \frac{e^{-nx}}{1+x}$. Alors, la suite $(f_n)_{n \geq 0}$

- converge uniformément sur $[0, 1]$ et la fonction limite est continue
- converge uniformément sur $[1, +\infty[$ et la fonction limite est continue
- converge uniformément sur $[0, +\infty[$

Question 3 ♣

Soit $(f_n)_{n \geq 0}$ une suite de fonctions définies sur un intervalle $I \subset \mathbb{R}$ à valeur dans \mathbb{R} . Quelles les conditions nécessaires pour appliquer le théorème d'interversion limites-dérivations?

- $\exists x_0 \in I$, tel que la suite numérique $(f_n(x_0))_{n \geq 0}$ converge.
- Pour tout $n \in \mathbb{N}$, les fonctions f_n sont de classe C^1 sur I .
- La suite de fonctions (f_n) converge uniformément sur I vers une fonction f continue.
- $\forall x_0 \in I$, la suite $(f_n(x_0))_{n \geq 0}$ converge.
- La suite de fonctions (f'_n) converge uniformément sur I vers une fonction g .

Question 4 ♣

Soit $(f_n)_{n \geq 0}$ une suite de fonctions définies par $f_n(x) = x^n \ln(x)$ pour $x \in]0, 1]$ et $f_n(0) = 0$. Alors

- $(f_n)_{n \geq 0}$ converge uniformément sur $[0, 1]$
- $(f_n)_{n \geq 0}$ converge uniformément sur $[0, a]$ ($a \in]0, 1[$)
- $(f_n)_{n \geq 0}$ converge uniformément sur $[a, 1]$ ($a \in]0, 1[$)



<input type="checkbox"/>	0	<input type="checkbox"/>	0	<input type="checkbox"/>	0	<input type="checkbox"/>	0	<input type="checkbox"/>	0	<input type="checkbox"/>	0	<input type="checkbox"/>	0	<input type="checkbox"/>	0	<input type="checkbox"/>	0
<input type="checkbox"/>	1	<input type="checkbox"/>	1	<input type="checkbox"/>	1	<input type="checkbox"/>	1	<input type="checkbox"/>	1	<input type="checkbox"/>	1	<input type="checkbox"/>	1	<input type="checkbox"/>	1	<input type="checkbox"/>	1
<input type="checkbox"/>	2	<input type="checkbox"/>	2	<input type="checkbox"/>	2	<input type="checkbox"/>	2	<input type="checkbox"/>	2	<input type="checkbox"/>	2	<input type="checkbox"/>	2	<input type="checkbox"/>	2	<input type="checkbox"/>	2
<input type="checkbox"/>	3	<input type="checkbox"/>	3	<input type="checkbox"/>	3	<input type="checkbox"/>	3	<input type="checkbox"/>	3	<input type="checkbox"/>	3	<input type="checkbox"/>	3	<input type="checkbox"/>	3	<input type="checkbox"/>	3
<input type="checkbox"/>	4	<input type="checkbox"/>	4	<input type="checkbox"/>	4	<input type="checkbox"/>	4	<input type="checkbox"/>	4	<input type="checkbox"/>	4	<input type="checkbox"/>	4	<input type="checkbox"/>	4	<input type="checkbox"/>	4
<input type="checkbox"/>	5	<input type="checkbox"/>	5	<input type="checkbox"/>	5	<input type="checkbox"/>	5	<input type="checkbox"/>	5	<input type="checkbox"/>	5	<input type="checkbox"/>	5	<input type="checkbox"/>	5	<input type="checkbox"/>	5
<input type="checkbox"/>	6	<input type="checkbox"/>	6	<input type="checkbox"/>	6	<input type="checkbox"/>	6	<input type="checkbox"/>	6	<input type="checkbox"/>	6	<input type="checkbox"/>	6	<input type="checkbox"/>	6	<input type="checkbox"/>	6
<input type="checkbox"/>	7	<input type="checkbox"/>	7	<input type="checkbox"/>	7	<input type="checkbox"/>	7	<input type="checkbox"/>	7	<input type="checkbox"/>	7	<input type="checkbox"/>	7	<input type="checkbox"/>	7	<input type="checkbox"/>	7
<input type="checkbox"/>	8	<input type="checkbox"/>	8	<input type="checkbox"/>	8	<input type="checkbox"/>	8	<input type="checkbox"/>	8	<input type="checkbox"/>	8	<input type="checkbox"/>	8	<input type="checkbox"/>	8	<input type="checkbox"/>	8
<input type="checkbox"/>	9	<input type="checkbox"/>	9	<input type="checkbox"/>	9	<input type="checkbox"/>	9	<input type="checkbox"/>	9	<input type="checkbox"/>	9	<input type="checkbox"/>	9	<input type="checkbox"/>	9	<input type="checkbox"/>	9

QCM3L Suites de Fonctions Préing2

← codez votre numéro d'étudiant ci-contre, et inscrivez votre nom et prénom ci-dessous (le NOM d'abord!).

Nom et prénom :

.....

.....

Les cases doivent être complètement noircies avec un stylo NOIR.

Question 1 ♣

Soit $(f_n)_{n \geq 0}$ une suite de fonctions définies sur un intervalle $I \subset \mathbb{R}$ à valeur dans \mathbb{R} . Quelles les conditions nécessaires pour appliquer le théorème d'interversion limites-dérivations?

- $\forall x_0 \in I$, la suite $(f_n(x_0))_{n \geq 0}$ converge.
- $\exists x_0 \in I$, tel que la suite numérique $(f_n(x_0))_{n \geq 0}$ converge.
- La suite de fonctions (f_n) converge uniformément sur I vers une fonction f continue.
- La suite de fonctions (f'_n) converge uniformément sur I vers une fonction g .
- Pour tout $n \in \mathbb{N}$, les fonctions f_n sont de classe C^1 sur I.

Question 2 ♣

On définit la suite de fonctions $f_n(x) = \frac{e^{-nx}}{1+x}$. Alors, la suite $(f_n)_{n \geq 0}$

- converge uniformément sur $[0, 1]$ et la fonction limite est continue
- converge uniformément sur $[1, +\infty[$ et la fonction limite est continue
- converge uniformément sur $[0, +\infty[$

Question 3 ♣

Choisir les suites de fonctions $(f_n)_{n \geq 0}$ qui convergent uniformément vers leur limite simple:

- $f_n(x) = nxe^{-nx}$ sur $]0; 1[$
- $f_n(x) = nxe^{-nx}$ sur $]0; +\infty[$
- $f_n(x) = nxe^{-nx}$ sur $[1; 2]$
- $f_n(x) = nxe^{-nx}$ sur $[a; +\infty[$ avec $a \in]0; 1[$
- $f_n(x) = \frac{e^{-x}}{n}$ sur $] -\infty, 0]$
- $f_n(x) = \frac{e^{-x}}{n}$ sur $]0; +\infty[$

Question 4 ♣

Soit $(f_n)_{n \geq 0}$ une suite de fonctions définies par $f_n(x) = x^n \ln(x)$ pour $x \in]0, 1]$ et $f_n(0) = 0$. Alors

- $(f_n)_{n \geq 0}$ converge uniformément sur $[0, 1]$
- $(f_n)_{n \geq 0}$ converge uniformément sur $[0, a]$ ($a \in]0, 1[$)
- $(f_n)_{n \geq 0}$ converge uniformément sur $[a, 1]$ ($a \in]0, 1[$)



<input type="checkbox"/> 0	<input type="checkbox"/> 0	<input type="checkbox"/> 0	<input type="checkbox"/> 0	<input type="checkbox"/> 0	<input type="checkbox"/> 0	<input type="checkbox"/> 0	<input type="checkbox"/> 0
<input type="checkbox"/> 1	<input type="checkbox"/> 1	<input type="checkbox"/> 1	<input type="checkbox"/> 1	<input type="checkbox"/> 1	<input type="checkbox"/> 1	<input type="checkbox"/> 1	<input type="checkbox"/> 1
<input type="checkbox"/> 2	<input type="checkbox"/> 2	<input type="checkbox"/> 2	<input type="checkbox"/> 2	<input type="checkbox"/> 2	<input type="checkbox"/> 2	<input type="checkbox"/> 2	<input type="checkbox"/> 2
<input type="checkbox"/> 3	<input type="checkbox"/> 3	<input type="checkbox"/> 3	<input type="checkbox"/> 3	<input type="checkbox"/> 3	<input type="checkbox"/> 3	<input type="checkbox"/> 3	<input type="checkbox"/> 3
<input type="checkbox"/> 4	<input type="checkbox"/> 4	<input type="checkbox"/> 4	<input type="checkbox"/> 4	<input type="checkbox"/> 4	<input type="checkbox"/> 4	<input type="checkbox"/> 4	<input type="checkbox"/> 4
<input type="checkbox"/> 5	<input type="checkbox"/> 5	<input type="checkbox"/> 5	<input type="checkbox"/> 5	<input type="checkbox"/> 5	<input type="checkbox"/> 5	<input type="checkbox"/> 5	<input type="checkbox"/> 5
<input type="checkbox"/> 6	<input type="checkbox"/> 6	<input type="checkbox"/> 6	<input type="checkbox"/> 6	<input type="checkbox"/> 6	<input type="checkbox"/> 6	<input type="checkbox"/> 6	<input type="checkbox"/> 6
<input type="checkbox"/> 7	<input type="checkbox"/> 7	<input type="checkbox"/> 7	<input type="checkbox"/> 7	<input type="checkbox"/> 7	<input type="checkbox"/> 7	<input type="checkbox"/> 7	<input type="checkbox"/> 7
<input type="checkbox"/> 8	<input type="checkbox"/> 8	<input type="checkbox"/> 8	<input type="checkbox"/> 8	<input type="checkbox"/> 8	<input type="checkbox"/> 8	<input type="checkbox"/> 8	<input type="checkbox"/> 8
<input type="checkbox"/> 9	<input type="checkbox"/> 9	<input type="checkbox"/> 9	<input type="checkbox"/> 9	<input type="checkbox"/> 9	<input type="checkbox"/> 9	<input type="checkbox"/> 9	<input type="checkbox"/> 9

QCM3L Suites de Fonctions Préing2

← codez votre numéro d'étudiant ci-contre, et inscrivez votre nom et prénom ci-dessous (le NOM d'abord!).

Nom et prénom :

.....

.....

Les cases doivent être complètement noircies avec un stylo NOIR.

Question 1 ♣

Choisir les suites de fonctions $(f_n)_{n \geq 0}$ qui convergent uniformément vers leur limite simple:

- | | |
|---|--|
| <input type="checkbox"/> $f_n(x) = nxe^{-nx}$ sur $]0; 1[$ | <input type="checkbox"/> $f_n(x) = nxe^{-nx}$ sur $[a; +\infty[$ avec $a \in]0; 1[$ |
| <input type="checkbox"/> $f_n(x) = \frac{e^{-x}}{n}$ sur $] - \infty, 0]$ | <input type="checkbox"/> $f_n(x) = nxe^{-nx}$ sur $]1; 2]$ |
| <input type="checkbox"/> $f_n(x) = nxe^{-nx}$ sur $]0; +\infty[$ | <input type="checkbox"/> $f_n(x) = \frac{e^{-x}}{n}$ sur $]0; +\infty[$ |

Question 2 ♣

On définit la suite de fonctions $f_n(x) = \frac{e^{-nx}}{1+x}$. Alors, la suite $(f_n)_{n \geq 0}$

- converge uniformément sur $]0, +\infty[$
- converge uniformément sur $]0, 1]$ et la fonction limite est continue
- converge uniformément sur $]1, +\infty[$ et la fonction limite est continue

Question 3 ♣

Soit $(f_n)_{n \geq 0}$ une suite de fonctions définies par $f_n(x) = x^n \ln(x)$ pour $x \in]0, 1]$ et $f_n(0) = 0$. Alors

- $(f_n)_{n \geq 0}$ converge uniformément sur $]0, a]$ ($a \in]0, 1[$)
- $(f_n)_{n \geq 0}$ converge uniformément sur $]a, 1]$ ($a \in]0, 1[$)
- $(f_n)_{n \geq 0}$ converge uniformément sur $]0, 1]$

Question 4 ♣

Soit $(f_n)_{n \geq 0}$ une suite de fonctions définies sur un intervalle $I \subset \mathbb{R}$ à valeur dans \mathbb{R} . Quelles les conditions nécessaires pour appliquer le théorème d'interversion limites-dérivations?

- Pour tout $n \in \mathbb{N}$, les fonctions f_n sont de classe C^1 sur I .
- $\forall x_0 \in I$, la suite $(f_n(x_0))_{n \geq 0}$ converge.
- La suite de fonctions (f'_n) converge uniformément sur I vers une fonction g .
- $\exists x_0 \in I$, tel que la suite numérique $(f_n(x_0))_{n \geq 0}$ converge.
- La suite de fonctions (f_n) converge uniformément sur I vers une fonction f continue.



<input type="checkbox"/>	0	<input type="checkbox"/>	0	<input type="checkbox"/>	0	<input type="checkbox"/>	0	<input type="checkbox"/>	0	<input type="checkbox"/>	0	<input type="checkbox"/>	0	<input type="checkbox"/>	0	<input type="checkbox"/>	0
<input type="checkbox"/>	1	<input type="checkbox"/>	1	<input type="checkbox"/>	1	<input type="checkbox"/>	1	<input type="checkbox"/>	1	<input type="checkbox"/>	1	<input type="checkbox"/>	1	<input type="checkbox"/>	1	<input type="checkbox"/>	1
<input type="checkbox"/>	2	<input type="checkbox"/>	2	<input type="checkbox"/>	2	<input type="checkbox"/>	2	<input type="checkbox"/>	2	<input type="checkbox"/>	2	<input type="checkbox"/>	2	<input type="checkbox"/>	2	<input type="checkbox"/>	2
<input type="checkbox"/>	3	<input type="checkbox"/>	3	<input type="checkbox"/>	3	<input type="checkbox"/>	3	<input type="checkbox"/>	3	<input type="checkbox"/>	3	<input type="checkbox"/>	3	<input type="checkbox"/>	3	<input type="checkbox"/>	3
<input type="checkbox"/>	4	<input type="checkbox"/>	4	<input type="checkbox"/>	4	<input type="checkbox"/>	4	<input type="checkbox"/>	4	<input type="checkbox"/>	4	<input type="checkbox"/>	4	<input type="checkbox"/>	4	<input type="checkbox"/>	4
<input type="checkbox"/>	5	<input type="checkbox"/>	5	<input type="checkbox"/>	5	<input type="checkbox"/>	5	<input type="checkbox"/>	5	<input type="checkbox"/>	5	<input type="checkbox"/>	5	<input type="checkbox"/>	5	<input type="checkbox"/>	5
<input type="checkbox"/>	6	<input type="checkbox"/>	6	<input type="checkbox"/>	6	<input type="checkbox"/>	6	<input type="checkbox"/>	6	<input type="checkbox"/>	6	<input type="checkbox"/>	6	<input type="checkbox"/>	6	<input type="checkbox"/>	6
<input type="checkbox"/>	7	<input type="checkbox"/>	7	<input type="checkbox"/>	7	<input type="checkbox"/>	7	<input type="checkbox"/>	7	<input type="checkbox"/>	7	<input type="checkbox"/>	7	<input type="checkbox"/>	7	<input type="checkbox"/>	7
<input type="checkbox"/>	8	<input type="checkbox"/>	8	<input type="checkbox"/>	8	<input type="checkbox"/>	8	<input type="checkbox"/>	8	<input type="checkbox"/>	8	<input type="checkbox"/>	8	<input type="checkbox"/>	8	<input type="checkbox"/>	8
<input type="checkbox"/>	9	<input type="checkbox"/>	9	<input type="checkbox"/>	9	<input type="checkbox"/>	9	<input type="checkbox"/>	9	<input type="checkbox"/>	9	<input type="checkbox"/>	9	<input type="checkbox"/>	9	<input type="checkbox"/>	9

QCM3L Suites de Fonctions Préing2

← codez votre numéro d'étudiant ci-contre, et inscrivez votre nom et prénom ci-dessous (le NOM d'abord!).

Nom et prénom :

.....

.....

Les cases doivent être complètement noircies avec un stylo NOIR.

Question 1 ♣

On définit la suite de fonctions $f_n(x) = \frac{e^{-nx}}{1+x}$. Alors, la suite $(f_n)_{n \geq 0}$

- converge uniformément sur $[0, 1]$ et la fonction limite est continue
- converge uniformément sur $[1, +\infty[$ et la fonction limite est continue
- converge uniformément sur $[0, +\infty[$

Question 2 ♣

Soit $(f_n)_{n \geq 0}$ une suite de fonctions définies par $f_n(x) = x^n \ln(x)$ pour $x \in]0, 1]$ et $f_n(0) = 0$. Alors

- $(f_n)_{n \geq 0}$ converge uniformément sur $[a, 1]$ ($a \in]0, 1[$)
- $(f_n)_{n \geq 0}$ converge uniformément sur $[0, 1]$
- $(f_n)_{n \geq 0}$ converge uniformément sur $[0, a]$ ($a \in]0, 1[$)

Question 3 ♣

Choisir les suites de fonctions $(f_n)_{n \geq 0}$ qui convergent uniformément vers leur limite simple:

- | | |
|--|---|
| <input type="checkbox"/> $f_n(x) = nxe^{-nx}$ sur $[0; +\infty[$ | <input type="checkbox"/> $f_n(x) = nxe^{-nx}$ sur $[1; 2]$ |
| <input type="checkbox"/> $f_n(x) = nxe^{-nx}$ sur $[a; +\infty[$ avec $a \in]0; 1[$ | <input type="checkbox"/> $f_n(x) = nxe^{-nx}$ sur $[0; 1[$ |
| <input type="checkbox"/> $f_n(x) = \frac{e^{-x}}{n}$ sur $]0; +\infty[$ | <input type="checkbox"/> $f_n(x) = \frac{e^{-x}}{n}$ sur $] - \infty, 0]$ |

Question 4 ♣

Soit $(f_n)_{n \geq 0}$ une suite de fonctions définies sur un intervalle $I \subset \mathbb{R}$ à valeur dans \mathbb{R} . Quelles les conditions nécessaires pour appliquer le théorème d'interversion limites-dérivations?

- La suite de fonctions (f_n) converge uniformément sur I vers une fonction f continue.
- $\forall x_0 \in I$, la suite $(f_n(x_0))_{n \geq 0}$ converge.
- Pour tout $n \in \mathbb{N}$, les fonctions f_n sont de classe C^1 sur I .
- $\exists x_0 \in I$, tel que la suite numérique $(f_n(x_0))_{n \geq 0}$ converge.
- La suite de fonctions (f'_n) converge uniformément sur I vers une fonction g .



<input type="checkbox"/>	0	<input type="checkbox"/>	0	<input type="checkbox"/>	0	<input type="checkbox"/>	0	<input type="checkbox"/>	0	<input type="checkbox"/>	0	<input type="checkbox"/>	0	<input type="checkbox"/>	0	<input type="checkbox"/>	0
<input type="checkbox"/>	1	<input type="checkbox"/>	1	<input type="checkbox"/>	1	<input type="checkbox"/>	1	<input type="checkbox"/>	1	<input type="checkbox"/>	1	<input type="checkbox"/>	1	<input type="checkbox"/>	1	<input type="checkbox"/>	1
<input type="checkbox"/>	2	<input type="checkbox"/>	2	<input type="checkbox"/>	2	<input type="checkbox"/>	2	<input type="checkbox"/>	2	<input type="checkbox"/>	2	<input type="checkbox"/>	2	<input type="checkbox"/>	2	<input type="checkbox"/>	2
<input type="checkbox"/>	3	<input type="checkbox"/>	3	<input type="checkbox"/>	3	<input type="checkbox"/>	3	<input type="checkbox"/>	3	<input type="checkbox"/>	3	<input type="checkbox"/>	3	<input type="checkbox"/>	3	<input type="checkbox"/>	3
<input type="checkbox"/>	4	<input type="checkbox"/>	4	<input type="checkbox"/>	4	<input type="checkbox"/>	4	<input type="checkbox"/>	4	<input type="checkbox"/>	4	<input type="checkbox"/>	4	<input type="checkbox"/>	4	<input type="checkbox"/>	4
<input type="checkbox"/>	5	<input type="checkbox"/>	5	<input type="checkbox"/>	5	<input type="checkbox"/>	5	<input type="checkbox"/>	5	<input type="checkbox"/>	5	<input type="checkbox"/>	5	<input type="checkbox"/>	5	<input type="checkbox"/>	5
<input type="checkbox"/>	6	<input type="checkbox"/>	6	<input type="checkbox"/>	6	<input type="checkbox"/>	6	<input type="checkbox"/>	6	<input type="checkbox"/>	6	<input type="checkbox"/>	6	<input type="checkbox"/>	6	<input type="checkbox"/>	6
<input type="checkbox"/>	7	<input type="checkbox"/>	7	<input type="checkbox"/>	7	<input type="checkbox"/>	7	<input type="checkbox"/>	7	<input type="checkbox"/>	7	<input type="checkbox"/>	7	<input type="checkbox"/>	7	<input type="checkbox"/>	7
<input type="checkbox"/>	8	<input type="checkbox"/>	8	<input type="checkbox"/>	8	<input type="checkbox"/>	8	<input type="checkbox"/>	8	<input type="checkbox"/>	8	<input type="checkbox"/>	8	<input type="checkbox"/>	8	<input type="checkbox"/>	8
<input type="checkbox"/>	9	<input type="checkbox"/>	9	<input type="checkbox"/>	9	<input type="checkbox"/>	9	<input type="checkbox"/>	9	<input type="checkbox"/>	9	<input type="checkbox"/>	9	<input type="checkbox"/>	9	<input type="checkbox"/>	9

QCM3L Suites de Fonctions Préing2

← codez votre numéro d'étudiant ci-contre, et inscrivez votre nom et prénom ci-dessous (le NOM d'abord!).

Nom et prénom :

.....

.....

Les cases doivent être complètement noircies avec un stylo NOIR.

Question 1 ♣

On définit la suite de fonctions $f_n(x) = \frac{e^{-nx}}{1+x}$. Alors, la suite $(f_n)_{n \geq 0}$

- converge uniformément sur $[0, +\infty[$
- converge uniformément sur $[0, 1]$ et la fonction limite est continue
- converge uniformément sur $[1, +\infty[$ et la fonction limite est continue

Question 2 ♣

Soit $(f_n)_{n \geq 0}$ une suite de fonctions définies par $f_n(x) = x^n \ln(x)$ pour $x \in]0, 1]$ et $f_n(0) = 0$. Alors

- $(f_n)_{n \geq 0}$ converge uniformément sur $[a, 1]$ ($a \in]0, 1[$)
- $(f_n)_{n \geq 0}$ converge uniformément sur $[0, a]$ ($a \in]0, 1[$)
- $(f_n)_{n \geq 0}$ converge uniformément sur $[0, 1]$

Question 3 ♣

Choisir les suites de fonctions $(f_n)_{n \geq 0}$ qui convergent uniformément vers leur limite simple:

- | | |
|--|--|
| <input type="checkbox"/> $f_n(x) = nxe^{-nx}$ sur $[1; 2]$ | <input type="checkbox"/> $f_n(x) = \frac{e^{-x}}{n}$ sur $] -\infty, 0]$ |
| <input type="checkbox"/> $f_n(x) = nxe^{-nx}$ sur $[a; +\infty[$ avec $a \in]0; 1[$ | <input type="checkbox"/> $f_n(x) = \frac{e^{-x}}{n}$ sur $]0; +\infty[$ |
| <input type="checkbox"/> $f_n(x) = nxe^{-nx}$ sur $[0; +\infty[$ | <input type="checkbox"/> $f_n(x) = nxe^{-nx}$ sur $[0; 1[$ |

Question 4 ♣

Soit $(f_n)_{n \geq 0}$ une suite de fonctions définies sur un intervalle $I \subset \mathbb{R}$ à valeur dans \mathbb{R} . Quelles les conditions nécessaires pour appliquer le théorème d'interversion limites-dérivations?

- $\forall x_0 \in I$, la suite $(f_n(x_0))_{n \geq 0}$ converge.
- $\exists x_0 \in I$, tel que la suite numérique $(f_n(x_0))_{n \geq 0}$ converge.
- La suite de fonctions (f_n) converge uniformément sur I vers une fonction f continue.
- La suite de fonctions (f'_n) converge uniformément sur I vers une fonction g .
- Pour tout $n \in \mathbb{N}$, les fonctions f_n sont de classe C^1 sur I .



<input type="checkbox"/>	0	<input type="checkbox"/>	0	<input type="checkbox"/>	0	<input type="checkbox"/>	0	<input type="checkbox"/>	0	<input type="checkbox"/>	0	<input type="checkbox"/>	0	<input type="checkbox"/>	0	<input type="checkbox"/>	0
<input type="checkbox"/>	1	<input type="checkbox"/>	1	<input type="checkbox"/>	1	<input type="checkbox"/>	1	<input type="checkbox"/>	1	<input type="checkbox"/>	1	<input type="checkbox"/>	1	<input type="checkbox"/>	1	<input type="checkbox"/>	1
<input type="checkbox"/>	2	<input type="checkbox"/>	2	<input type="checkbox"/>	2	<input type="checkbox"/>	2	<input type="checkbox"/>	2	<input type="checkbox"/>	2	<input type="checkbox"/>	2	<input type="checkbox"/>	2	<input type="checkbox"/>	2
<input type="checkbox"/>	3	<input type="checkbox"/>	3	<input type="checkbox"/>	3	<input type="checkbox"/>	3	<input type="checkbox"/>	3	<input type="checkbox"/>	3	<input type="checkbox"/>	3	<input type="checkbox"/>	3	<input type="checkbox"/>	3
<input type="checkbox"/>	4	<input type="checkbox"/>	4	<input type="checkbox"/>	4	<input type="checkbox"/>	4	<input type="checkbox"/>	4	<input type="checkbox"/>	4	<input type="checkbox"/>	4	<input type="checkbox"/>	4	<input type="checkbox"/>	4
<input type="checkbox"/>	5	<input type="checkbox"/>	5	<input type="checkbox"/>	5	<input type="checkbox"/>	5	<input type="checkbox"/>	5	<input type="checkbox"/>	5	<input type="checkbox"/>	5	<input type="checkbox"/>	5	<input type="checkbox"/>	5
<input type="checkbox"/>	6	<input type="checkbox"/>	6	<input type="checkbox"/>	6	<input type="checkbox"/>	6	<input type="checkbox"/>	6	<input type="checkbox"/>	6	<input type="checkbox"/>	6	<input type="checkbox"/>	6	<input type="checkbox"/>	6
<input type="checkbox"/>	7	<input type="checkbox"/>	7	<input type="checkbox"/>	7	<input type="checkbox"/>	7	<input type="checkbox"/>	7	<input type="checkbox"/>	7	<input type="checkbox"/>	7	<input type="checkbox"/>	7	<input type="checkbox"/>	7
<input type="checkbox"/>	8	<input type="checkbox"/>	8	<input type="checkbox"/>	8	<input type="checkbox"/>	8	<input type="checkbox"/>	8	<input type="checkbox"/>	8	<input type="checkbox"/>	8	<input type="checkbox"/>	8	<input type="checkbox"/>	8
<input type="checkbox"/>	9	<input type="checkbox"/>	9	<input type="checkbox"/>	9	<input type="checkbox"/>	9	<input type="checkbox"/>	9	<input type="checkbox"/>	9	<input type="checkbox"/>	9	<input type="checkbox"/>	9	<input type="checkbox"/>	9

QCM3L Suites de Fonctions Préing2

← codez votre numéro d'étudiant ci-contre, et inscrivez votre nom et prénom ci-dessous (le NOM d'abord!).

Nom et prénom :

.....

.....

Les cases doivent être complètement noircies avec un stylo NOIR.

Question 1 ♣

Soit $(f_n)_{n \geq 0}$ une suite de fonctions définies par $f_n(x) = x^n \ln(x)$ pour $x \in]0, 1]$ et $f_n(0) = 0$. Alors

- $(f_n)_{n \geq 0}$ converge uniformément sur $[0, a]$ ($a \in]0, 1[$)
- $(f_n)_{n \geq 0}$ converge uniformément sur $[0, 1]$
- $(f_n)_{n \geq 0}$ converge uniformément sur $[a, 1]$ ($a \in]0, 1[$)

Question 2 ♣

Soit $(f_n)_{n \geq 0}$ une suite de fonctions définies sur un intervalle $I \subset \mathbb{R}$ à valeur dans \mathbb{R} . Quelles les conditions nécessaires pour appliquer le théorème d'interversion limites-dérivations?

- $\forall x_0 \in I$, la suite $(f_n(x_0))_{n \geq 0}$ converge.
- La suite de fonctions (f_n) converge uniformément sur I vers une fonction f continue.
- La suite de fonctions (f'_n) converge uniformément sur I vers une fonction g .
- $\exists x_0 \in I$, tel que la suite numérique $(f_n(x_0))_{n \geq 0}$ converge.
- Pour tout $n \in \mathbb{N}$, les fonctions f_n sont de classe C^1 sur I.

Question 3 ♣

On définit la suite de fonctions $f_n(x) = \frac{e^{-nx}}{1+x}$. Alors, la suite $(f_n)_{n \geq 0}$

- converge uniformément sur $[0, +\infty[$
- converge uniformément sur $[0, 1]$ et la fonction limite est continue
- converge uniformément sur $[1, +\infty[$ et la fonction limite est continue

Question 4 ♣

Choisir les suites de fonctions $(f_n)_{n \geq 0}$ qui convergent uniformément vers leur limite simple:

- | | |
|--|--|
| <input type="checkbox"/> $f_n(x) = \frac{e^{-x}}{n}$ sur $] - \infty, 0]$ | <input type="checkbox"/> $f_n(x) = nxe^{-nx}$ sur $[1; 2]$ |
| <input type="checkbox"/> $f_n(x) = nxe^{-nx}$ sur $[a; +\infty[$ avec $a \in]0; 1[$ | <input type="checkbox"/> $f_n(x) = nxe^{-nx}$ sur $[0; +\infty[$ |
| <input type="checkbox"/> $f_n(x) = \frac{e^{-x}}{n}$ sur $]0; +\infty[$ | <input type="checkbox"/> $f_n(x) = nxe^{-nx}$ sur $[0; 1[$ |



<input type="checkbox"/>	0	<input type="checkbox"/>	0	<input type="checkbox"/>	0	<input type="checkbox"/>	0	<input type="checkbox"/>	0	<input type="checkbox"/>	0	<input type="checkbox"/>	0	<input type="checkbox"/>	0	<input type="checkbox"/>	0
<input type="checkbox"/>	1	<input type="checkbox"/>	1	<input type="checkbox"/>	1	<input type="checkbox"/>	1	<input type="checkbox"/>	1	<input type="checkbox"/>	1	<input type="checkbox"/>	1	<input type="checkbox"/>	1	<input type="checkbox"/>	1
<input type="checkbox"/>	2	<input type="checkbox"/>	2	<input type="checkbox"/>	2	<input type="checkbox"/>	2	<input type="checkbox"/>	2	<input type="checkbox"/>	2	<input type="checkbox"/>	2	<input type="checkbox"/>	2	<input type="checkbox"/>	2
<input type="checkbox"/>	3	<input type="checkbox"/>	3	<input type="checkbox"/>	3	<input type="checkbox"/>	3	<input type="checkbox"/>	3	<input type="checkbox"/>	3	<input type="checkbox"/>	3	<input type="checkbox"/>	3	<input type="checkbox"/>	3
<input type="checkbox"/>	4	<input type="checkbox"/>	4	<input type="checkbox"/>	4	<input type="checkbox"/>	4	<input type="checkbox"/>	4	<input type="checkbox"/>	4	<input type="checkbox"/>	4	<input type="checkbox"/>	4	<input type="checkbox"/>	4
<input type="checkbox"/>	5	<input type="checkbox"/>	5	<input type="checkbox"/>	5	<input type="checkbox"/>	5	<input type="checkbox"/>	5	<input type="checkbox"/>	5	<input type="checkbox"/>	5	<input type="checkbox"/>	5	<input type="checkbox"/>	5
<input type="checkbox"/>	6	<input type="checkbox"/>	6	<input type="checkbox"/>	6	<input type="checkbox"/>	6	<input type="checkbox"/>	6	<input type="checkbox"/>	6	<input type="checkbox"/>	6	<input type="checkbox"/>	6	<input type="checkbox"/>	6
<input type="checkbox"/>	7	<input type="checkbox"/>	7	<input type="checkbox"/>	7	<input type="checkbox"/>	7	<input type="checkbox"/>	7	<input type="checkbox"/>	7	<input type="checkbox"/>	7	<input type="checkbox"/>	7	<input type="checkbox"/>	7
<input type="checkbox"/>	8	<input type="checkbox"/>	8	<input type="checkbox"/>	8	<input type="checkbox"/>	8	<input type="checkbox"/>	8	<input type="checkbox"/>	8	<input type="checkbox"/>	8	<input type="checkbox"/>	8	<input type="checkbox"/>	8
<input type="checkbox"/>	9	<input type="checkbox"/>	9	<input type="checkbox"/>	9	<input type="checkbox"/>	9	<input type="checkbox"/>	9	<input type="checkbox"/>	9	<input type="checkbox"/>	9	<input type="checkbox"/>	9	<input type="checkbox"/>	9

QCM3L Suites de Fonctions Préing2

← codez votre numéro d'étudiant ci-contre, et inscrivez votre nom et prénom ci-dessous (le NOM d'abord!).

Nom et prénom :

.....

.....

Les cases doivent être complètement noircies avec un stylo NOIR.

Question 1 ♣

Soit $(f_n)_{n \geq 0}$ une suite de fonctions définies par $f_n(x) = x^n \ln(x)$ pour $x \in]0, 1]$ et $f_n(0) = 0$. Alors

- $(f_n)_{n \geq 0}$ converge uniformément sur $[0, a]$ ($a \in]0, 1[$)
- $(f_n)_{n \geq 0}$ converge uniformément sur $[0, 1]$
- $(f_n)_{n \geq 0}$ converge uniformément sur $[a, 1]$ ($a \in]0, 1[$)

Question 2 ♣

Choisir les suites de fonctions $(f_n)_{n \geq 0}$ qui convergent uniformément vers leur limite simple:

- | | |
|--|---|
| <input type="checkbox"/> $f_n(x) = nxe^{-nx}$ sur $[1; 2]$ | <input type="checkbox"/> $f_n(x) = \frac{e^{-x}}{n}$ sur $] - \infty, 0]$ |
| <input type="checkbox"/> $f_n(x) = nxe^{-nx}$ sur $[0; +\infty[$ | <input type="checkbox"/> $f_n(x) = nxe^{-nx}$ sur $[0; 1[$ |
| <input type="checkbox"/> $f_n(x) = nxe^{-nx}$ sur $[a; +\infty[$ avec $a \in]0; 1[$ | <input type="checkbox"/> $f_n(x) = \frac{e^{-x}}{n}$ sur $]0; +\infty[$ |

Question 3 ♣

On définit la suite de fonctions $f_n(x) = \frac{e^{-nx}}{1+x}$. Alors, la suite $(f_n)_{n \geq 0}$

- converge uniformément sur $[1, +\infty[$ et la fonction limite est continue
- converge uniformément sur $[0, 1]$ et la fonction limite est continue
- converge uniformément sur $[0, +\infty[$

Question 4 ♣

Soit $(f_n)_{n \geq 0}$ une suite de fonctions définies sur un intervalle $I \subset \mathbb{R}$ à valeur dans \mathbb{R} . Quelles les conditions nécessaires pour appliquer le théorème d'interversion limites-dérivations?

- $\forall x_0 \in I$, la suite $(f_n(x_0))_{n \geq 0}$ converge.
- $\exists x_0 \in I$, tel que la suite numérique $(f_n(x_0))_{n \geq 0}$ converge.
- Pour tout $n \in \mathbb{N}$, les fonctions f_n sont de classe C^1 sur I .
- La suite de fonctions (f_n) converge uniformément sur I vers une fonction f continue.
- La suite de fonctions (f'_n) converge uniformément sur I vers une fonction g .



<input type="checkbox"/> 0	<input type="checkbox"/> 0	<input type="checkbox"/> 0	<input type="checkbox"/> 0	<input type="checkbox"/> 0	<input type="checkbox"/> 0	<input type="checkbox"/> 0	<input type="checkbox"/> 0
<input type="checkbox"/> 1	<input type="checkbox"/> 1	<input type="checkbox"/> 1	<input type="checkbox"/> 1	<input type="checkbox"/> 1	<input type="checkbox"/> 1	<input type="checkbox"/> 1	<input type="checkbox"/> 1
<input type="checkbox"/> 2	<input type="checkbox"/> 2	<input type="checkbox"/> 2	<input type="checkbox"/> 2	<input type="checkbox"/> 2	<input type="checkbox"/> 2	<input type="checkbox"/> 2	<input type="checkbox"/> 2
<input type="checkbox"/> 3	<input type="checkbox"/> 3	<input type="checkbox"/> 3	<input type="checkbox"/> 3	<input type="checkbox"/> 3	<input type="checkbox"/> 3	<input type="checkbox"/> 3	<input type="checkbox"/> 3
<input type="checkbox"/> 4	<input type="checkbox"/> 4	<input type="checkbox"/> 4	<input type="checkbox"/> 4	<input type="checkbox"/> 4	<input type="checkbox"/> 4	<input type="checkbox"/> 4	<input type="checkbox"/> 4
<input type="checkbox"/> 5	<input type="checkbox"/> 5	<input type="checkbox"/> 5	<input type="checkbox"/> 5	<input type="checkbox"/> 5	<input type="checkbox"/> 5	<input type="checkbox"/> 5	<input type="checkbox"/> 5
<input type="checkbox"/> 6	<input type="checkbox"/> 6	<input type="checkbox"/> 6	<input type="checkbox"/> 6	<input type="checkbox"/> 6	<input type="checkbox"/> 6	<input type="checkbox"/> 6	<input type="checkbox"/> 6
<input type="checkbox"/> 7	<input type="checkbox"/> 7	<input type="checkbox"/> 7	<input type="checkbox"/> 7	<input type="checkbox"/> 7	<input type="checkbox"/> 7	<input type="checkbox"/> 7	<input type="checkbox"/> 7
<input type="checkbox"/> 8	<input type="checkbox"/> 8	<input type="checkbox"/> 8	<input type="checkbox"/> 8	<input type="checkbox"/> 8	<input type="checkbox"/> 8	<input type="checkbox"/> 8	<input type="checkbox"/> 8
<input type="checkbox"/> 9	<input type="checkbox"/> 9	<input type="checkbox"/> 9	<input type="checkbox"/> 9	<input type="checkbox"/> 9	<input type="checkbox"/> 9	<input type="checkbox"/> 9	<input type="checkbox"/> 9

QCM3L Suites de Fonctions Préing2

← codez votre numéro d'étudiant ci-contre, et inscrivez votre nom et prénom ci-dessous (le NOM d'abord!).

Nom et prénom :

.....

.....

Les cases doivent être complètement noircies avec un stylo NOIR.

Question 1 ♣

Soit $(f_n)_{n \geq 0}$ une suite de fonctions définies par $f_n(x) = x^n \ln(x)$ pour $x \in]0, 1]$ et $f_n(0) = 0$. Alors

- $(f_n)_{n \geq 0}$ converge uniformément sur $[a, 1]$ ($a \in]0, 1[$)
- $(f_n)_{n \geq 0}$ converge uniformément sur $[0, a]$ ($a \in]0, 1[$)
- $(f_n)_{n \geq 0}$ converge uniformément sur $[0, 1]$

Question 2 ♣

On définit la suite de fonctions $f_n(x) = \frac{e^{-nx}}{1+x}$. Alors, la suite $(f_n)_{n \geq 0}$

- converge uniformément sur $[1, +\infty[$ et la fonction limite est continue
- converge uniformément sur $[0, 1]$ et la fonction limite est continue
- converge uniformément sur $[0, +\infty[$

Question 3 ♣

Soit $(f_n)_{n \geq 0}$ une suite de fonctions définies sur un intervalle $I \subset \mathbb{R}$ à valeur dans \mathbb{R} . Quelles les conditions nécessaires pour appliquer le théorème d'interversion limites-dérivations?

- La suite de fonctions (f'_n) converge uniformément sur I vers une fonction g .
- La suite de fonctions (f_n) converge uniformément sur I vers une fonction f continue.
- $\forall x_0 \in I$, la suite $(f_n(x_0))_{n \geq 0}$ converge.
- Pour tout $n \in \mathbb{N}$, les fonctions f_n sont de classe C^1 sur I.
- $\exists x_0 \in I$, tel que la suite numérique $(f_n(x_0))_{n \geq 0}$ converge.

Question 4 ♣

Choisir les suites de fonctions $(f_n)_{n \geq 0}$ qui convergent uniformément vers leur limite simple:

- | | |
|---|--|
| <input type="checkbox"/> $f_n(x) = nxe^{-nx}$ sur $[0; +\infty[$ | <input type="checkbox"/> $f_n(x) = nxe^{-nx}$ sur $[0; 1[$ |
| <input type="checkbox"/> $f_n(x) = nxe^{-nx}$ sur $[1; 2]$ | <input type="checkbox"/> $f_n(x) = nxe^{-nx}$ sur $[a; +\infty[$ avec $a \in]0; 1[$ |
| <input type="checkbox"/> $f_n(x) = \frac{e^{-x}}{n}$ sur $] - \infty, 0]$ | <input type="checkbox"/> $f_n(x) = \frac{e^{-x}}{n}$ sur $]0; +\infty[$ |



<input type="checkbox"/>	0	<input type="checkbox"/>	0	<input type="checkbox"/>	0	<input type="checkbox"/>	0	<input type="checkbox"/>	0	<input type="checkbox"/>	0	<input type="checkbox"/>	0	<input type="checkbox"/>	0	<input type="checkbox"/>	0
<input type="checkbox"/>	1	<input type="checkbox"/>	1	<input type="checkbox"/>	1	<input type="checkbox"/>	1	<input type="checkbox"/>	1	<input type="checkbox"/>	1	<input type="checkbox"/>	1	<input type="checkbox"/>	1	<input type="checkbox"/>	1
<input type="checkbox"/>	2	<input type="checkbox"/>	2	<input type="checkbox"/>	2	<input type="checkbox"/>	2	<input type="checkbox"/>	2	<input type="checkbox"/>	2	<input type="checkbox"/>	2	<input type="checkbox"/>	2	<input type="checkbox"/>	2
<input type="checkbox"/>	3	<input type="checkbox"/>	3	<input type="checkbox"/>	3	<input type="checkbox"/>	3	<input type="checkbox"/>	3	<input type="checkbox"/>	3	<input type="checkbox"/>	3	<input type="checkbox"/>	3	<input type="checkbox"/>	3
<input type="checkbox"/>	4	<input type="checkbox"/>	4	<input type="checkbox"/>	4	<input type="checkbox"/>	4	<input type="checkbox"/>	4	<input type="checkbox"/>	4	<input type="checkbox"/>	4	<input type="checkbox"/>	4	<input type="checkbox"/>	4
<input type="checkbox"/>	5	<input type="checkbox"/>	5	<input type="checkbox"/>	5	<input type="checkbox"/>	5	<input type="checkbox"/>	5	<input type="checkbox"/>	5	<input type="checkbox"/>	5	<input type="checkbox"/>	5	<input type="checkbox"/>	5
<input type="checkbox"/>	6	<input type="checkbox"/>	6	<input type="checkbox"/>	6	<input type="checkbox"/>	6	<input type="checkbox"/>	6	<input type="checkbox"/>	6	<input type="checkbox"/>	6	<input type="checkbox"/>	6	<input type="checkbox"/>	6
<input type="checkbox"/>	7	<input type="checkbox"/>	7	<input type="checkbox"/>	7	<input type="checkbox"/>	7	<input type="checkbox"/>	7	<input type="checkbox"/>	7	<input type="checkbox"/>	7	<input type="checkbox"/>	7	<input type="checkbox"/>	7
<input type="checkbox"/>	8	<input type="checkbox"/>	8	<input type="checkbox"/>	8	<input type="checkbox"/>	8	<input type="checkbox"/>	8	<input type="checkbox"/>	8	<input type="checkbox"/>	8	<input type="checkbox"/>	8	<input type="checkbox"/>	8
<input type="checkbox"/>	9	<input type="checkbox"/>	9	<input type="checkbox"/>	9	<input type="checkbox"/>	9	<input type="checkbox"/>	9	<input type="checkbox"/>	9	<input type="checkbox"/>	9	<input type="checkbox"/>	9	<input type="checkbox"/>	9

QCM3L Suites de Fonctions Préing2

← codez votre numéro d'étudiant ci-contre, et inscrivez votre nom et prénom ci-dessous (le NOM d'abord!).

Nom et prénom :

.....

.....

Les cases doivent être complètement noircies avec un stylo NOIR.

Question 1 ♣

Choisir les suites de fonctions $(f_n)_{n \geq 0}$ qui convergent uniformément vers leur limite simple:

- | | |
|--|---|
| <input type="checkbox"/> $f_n(x) = \frac{e^{-x}}{n}$ sur $] -\infty, 0]$ | <input type="checkbox"/> $f_n(x) = nxe^{-nx}$ sur $[0; 1[$ |
| <input type="checkbox"/> $f_n(x) = nxe^{-nx}$ sur $[1; 2]$ | <input type="checkbox"/> $f_n(x) = nxe^{-nx}$ sur $[0; +\infty[$ |
| <input type="checkbox"/> $f_n(x) = nxe^{-nx}$ sur $[a; +\infty[$ avec $a \in]0; 1[$ | <input type="checkbox"/> $f_n(x) = \frac{e^{-x}}{n}$ sur $]0; +\infty[$ |

Question 2 ♣

Soit $(f_n)_{n \geq 0}$ une suite de fonctions définies par $f_n(x) = x^n \ln(x)$ pour $x \in]0, 1]$ et $f_n(0) = 0$. Alors

- $(f_n)_{n \geq 0}$ converge uniformément sur $[0, 1]$
- $(f_n)_{n \geq 0}$ converge uniformément sur $[a, 1]$ ($a \in]0, 1[$)
- $(f_n)_{n \geq 0}$ converge uniformément sur $[0, a]$ ($a \in]0, 1[$)

Question 3 ♣

On définit la suite de fonctions $f_n(x) = \frac{e^{-nx}}{1+x}$. Alors, la suite $(f_n)_{n \geq 0}$

- converge uniformément sur $[0, +\infty[$
- converge uniformément sur $[0, 1]$ et la fonction limite est continue
- converge uniformément sur $[1, +\infty[$ et la fonction limite est continue

Question 4 ♣

Soit $(f_n)_{n \geq 0}$ une suite de fonctions définies sur un intervalle $I \subset \mathbb{R}$ à valeur dans \mathbb{R} . Quelles les conditions nécessaires pour appliquer le théorème d'interversion limites-dérivations?

- La suite de fonctions (f'_n) converge uniformément sur I vers une fonction g .
- La suite de fonctions (f_n) converge uniformément sur I vers une fonction f continue.
- $\exists x_0 \in I$, tel que la suite numérique $(f_n(x_0))_{n \geq 0}$ converge.
- $\forall x_0 \in I$, la suite $(f_n(x_0))_{n \geq 0}$ converge.
- Pour tout $n \in \mathbb{N}$, les fonctions f_n sont de classe C^1 sur I.



<input type="checkbox"/> 0	<input type="checkbox"/> 0	<input type="checkbox"/> 0	<input type="checkbox"/> 0	<input type="checkbox"/> 0	<input type="checkbox"/> 0	<input type="checkbox"/> 0	<input type="checkbox"/> 0
<input type="checkbox"/> 1	<input type="checkbox"/> 1	<input type="checkbox"/> 1	<input type="checkbox"/> 1	<input type="checkbox"/> 1	<input type="checkbox"/> 1	<input type="checkbox"/> 1	<input type="checkbox"/> 1
<input type="checkbox"/> 2	<input type="checkbox"/> 2	<input type="checkbox"/> 2	<input type="checkbox"/> 2	<input type="checkbox"/> 2	<input type="checkbox"/> 2	<input type="checkbox"/> 2	<input type="checkbox"/> 2
<input type="checkbox"/> 3	<input type="checkbox"/> 3	<input type="checkbox"/> 3	<input type="checkbox"/> 3	<input type="checkbox"/> 3	<input type="checkbox"/> 3	<input type="checkbox"/> 3	<input type="checkbox"/> 3
<input type="checkbox"/> 4	<input type="checkbox"/> 4	<input type="checkbox"/> 4	<input type="checkbox"/> 4	<input type="checkbox"/> 4	<input type="checkbox"/> 4	<input type="checkbox"/> 4	<input type="checkbox"/> 4
<input type="checkbox"/> 5	<input type="checkbox"/> 5	<input type="checkbox"/> 5	<input type="checkbox"/> 5	<input type="checkbox"/> 5	<input type="checkbox"/> 5	<input type="checkbox"/> 5	<input type="checkbox"/> 5
<input type="checkbox"/> 6	<input type="checkbox"/> 6	<input type="checkbox"/> 6	<input type="checkbox"/> 6	<input type="checkbox"/> 6	<input type="checkbox"/> 6	<input type="checkbox"/> 6	<input type="checkbox"/> 6
<input type="checkbox"/> 7	<input type="checkbox"/> 7	<input type="checkbox"/> 7	<input type="checkbox"/> 7	<input type="checkbox"/> 7	<input type="checkbox"/> 7	<input type="checkbox"/> 7	<input type="checkbox"/> 7
<input type="checkbox"/> 8	<input type="checkbox"/> 8	<input type="checkbox"/> 8	<input type="checkbox"/> 8	<input type="checkbox"/> 8	<input type="checkbox"/> 8	<input type="checkbox"/> 8	<input type="checkbox"/> 8
<input type="checkbox"/> 9	<input type="checkbox"/> 9	<input type="checkbox"/> 9	<input type="checkbox"/> 9	<input type="checkbox"/> 9	<input type="checkbox"/> 9	<input type="checkbox"/> 9	<input type="checkbox"/> 9

QCM3L Suites de Fonctions Préing2

← codez votre numéro d'étudiant ci-contre, et inscrivez votre nom et prénom ci-dessous (le NOM d'abord!).

Nom et prénom :

.....

.....

Les cases doivent être complètement noircies avec un stylo NOIR.

Question 1 ♣

On définit la suite de fonctions $f_n(x) = \frac{e^{-nx}}{1+x}$. Alors, la suite $(f_n)_{n \geq 0}$

- converge uniformément sur $[1, +\infty[$ et la fonction limite est continue
- converge uniformément sur $[0, +\infty[$
- converge uniformément sur $[0, 1]$ et la fonction limite est continue

Question 2 ♣

Soit $(f_n)_{n \geq 0}$ une suite de fonctions définies sur un intervalle $I \subset \mathbb{R}$ à valeur dans \mathbb{R} . Quelles les conditions nécessaires pour appliquer le théorème d'interversion limites-dérivations?

- La suite de fonctions (f_n) converge uniformément sur I vers une fonction f continue.
- La suite de fonctions (f'_n) converge uniformément sur I vers une fonction g .
- $\forall x_0 \in I$, la suite $(f_n(x_0))_{n \geq 0}$ converge.
- Pour tout $n \in \mathbb{N}$, les fonctions f_n sont de classe C^1 sur I.
- $\exists x_0 \in I$, tel que la suite numérique $(f_n(x_0))_{n \geq 0}$ converge.

Question 3 ♣

Choisir les suites de fonctions $(f_n)_{n \geq 0}$ qui convergent uniformément vers leur limite simple:

- | | |
|--|--|
| <input type="checkbox"/> $f_n(x) = nxe^{-nx}$ sur $[a; +\infty[$ avec $a \in]0; 1[$ | <input type="checkbox"/> $f_n(x) = \frac{e^{-x}}{n}$ sur $] -\infty, 0]$ |
| <input type="checkbox"/> $f_n(x) = \frac{e^{-x}}{n}$ sur $]0; +\infty[$ | <input type="checkbox"/> $f_n(x) = nxe^{-nx}$ sur $[1; 2]$ |
| <input type="checkbox"/> $f_n(x) = nxe^{-nx}$ sur $[0; 1[$ | <input type="checkbox"/> $f_n(x) = nxe^{-nx}$ sur $[0; +\infty[$ |

Question 4 ♣

Soit $(f_n)_{n \geq 0}$ une suite de fonctions définies par $f_n(x) = x^n \ln(x)$ pour $x \in]0, 1]$ et $f_n(0) = 0$. Alors

- $(f_n)_{n \geq 0}$ converge uniformément sur $[0, 1]$
- $(f_n)_{n \geq 0}$ converge uniformément sur $[0, a]$ ($a \in]0, 1[$)
- $(f_n)_{n \geq 0}$ converge uniformément sur $[a, 1]$ ($a \in]0, 1[$)



<input type="checkbox"/>	0	<input type="checkbox"/>	0	<input type="checkbox"/>	0	<input type="checkbox"/>	0	<input type="checkbox"/>	0	<input type="checkbox"/>	0	<input type="checkbox"/>	0	<input type="checkbox"/>	0	<input type="checkbox"/>	0
<input type="checkbox"/>	1	<input type="checkbox"/>	1	<input type="checkbox"/>	1	<input type="checkbox"/>	1	<input type="checkbox"/>	1	<input type="checkbox"/>	1	<input type="checkbox"/>	1	<input type="checkbox"/>	1	<input type="checkbox"/>	1
<input type="checkbox"/>	2	<input type="checkbox"/>	2	<input type="checkbox"/>	2	<input type="checkbox"/>	2	<input type="checkbox"/>	2	<input type="checkbox"/>	2	<input type="checkbox"/>	2	<input type="checkbox"/>	2	<input type="checkbox"/>	2
<input type="checkbox"/>	3	<input type="checkbox"/>	3	<input type="checkbox"/>	3	<input type="checkbox"/>	3	<input type="checkbox"/>	3	<input type="checkbox"/>	3	<input type="checkbox"/>	3	<input type="checkbox"/>	3	<input type="checkbox"/>	3
<input type="checkbox"/>	4	<input type="checkbox"/>	4	<input type="checkbox"/>	4	<input type="checkbox"/>	4	<input type="checkbox"/>	4	<input type="checkbox"/>	4	<input type="checkbox"/>	4	<input type="checkbox"/>	4	<input type="checkbox"/>	4
<input type="checkbox"/>	5	<input type="checkbox"/>	5	<input type="checkbox"/>	5	<input type="checkbox"/>	5	<input type="checkbox"/>	5	<input type="checkbox"/>	5	<input type="checkbox"/>	5	<input type="checkbox"/>	5	<input type="checkbox"/>	5
<input type="checkbox"/>	6	<input type="checkbox"/>	6	<input type="checkbox"/>	6	<input type="checkbox"/>	6	<input type="checkbox"/>	6	<input type="checkbox"/>	6	<input type="checkbox"/>	6	<input type="checkbox"/>	6	<input type="checkbox"/>	6
<input type="checkbox"/>	7	<input type="checkbox"/>	7	<input type="checkbox"/>	7	<input type="checkbox"/>	7	<input type="checkbox"/>	7	<input type="checkbox"/>	7	<input type="checkbox"/>	7	<input type="checkbox"/>	7	<input type="checkbox"/>	7
<input type="checkbox"/>	8	<input type="checkbox"/>	8	<input type="checkbox"/>	8	<input type="checkbox"/>	8	<input type="checkbox"/>	8	<input type="checkbox"/>	8	<input type="checkbox"/>	8	<input type="checkbox"/>	8	<input type="checkbox"/>	8
<input type="checkbox"/>	9	<input type="checkbox"/>	9	<input type="checkbox"/>	9	<input type="checkbox"/>	9	<input type="checkbox"/>	9	<input type="checkbox"/>	9	<input type="checkbox"/>	9	<input type="checkbox"/>	9	<input type="checkbox"/>	9

QCM3L Suites de Fonctions Préing2

← codez votre numéro d'étudiant ci-contre, et inscrivez votre nom et prénom ci-dessous (le NOM d'abord!).

Nom et prénom :

.....

.....

Les cases doivent être complètement noircies avec un stylo NOIR.

Question 1 ♣

Soit $(f_n)_{n \geq 0}$ une suite de fonctions définies par $f_n(x) = x^n \ln(x)$ pour $x \in]0, 1]$ et $f_n(0) = 0$. Alors

- $(f_n)_{n \geq 0}$ converge uniformément sur $[a, 1]$ ($a \in]0, 1[$)
- $(f_n)_{n \geq 0}$ converge uniformément sur $[0, a]$ ($a \in]0, 1[$)
- $(f_n)_{n \geq 0}$ converge uniformément sur $[0, 1]$

Question 2 ♣

Soit $(f_n)_{n \geq 0}$ une suite de fonctions définies sur un intervalle $I \subset \mathbb{R}$ à valeur dans \mathbb{R} . Quelles les conditions nécessaires pour appliquer le théorème d'interversion limites-dérivations?

- La suite de fonctions (f'_n) converge uniformément sur I vers une fonction g .
- La suite de fonctions (f_n) converge uniformément sur I vers une fonction f continue.
- $\exists x_0 \in I$, tel que la suite numérique $(f_n(x_0))_{n \geq 0}$ converge.
- $\forall x_0 \in I$, la suite $(f_n(x_0))_{n \geq 0}$ converge.
- Pour tout $n \in \mathbb{N}$, les fonctions f_n sont de classe C^1 sur I.

Question 3 ♣

On définit la suite de fonctions $f_n(x) = \frac{e^{-nx}}{1+x}$. Alors, la suite $(f_n)_{n \geq 0}$

- converge uniformément sur $[1, +\infty[$ et la fonction limite est continue
- converge uniformément sur $[0, +\infty[$
- converge uniformément sur $[0, 1]$ et la fonction limite est continue

Question 4 ♣

Choisir les suites de fonctions $(f_n)_{n \geq 0}$ qui convergent uniformément vers leur limite simple:

- | | |
|--|--|
| <input type="checkbox"/> $f_n(x) = \frac{e^{-x}}{n}$ sur $]0; +\infty[$ | <input type="checkbox"/> $f_n(x) = nxe^{-nx}$ sur $[1; 2]$ |
| <input type="checkbox"/> $f_n(x) = \frac{e^{-x}}{n}$ sur $] - \infty, 0]$ | <input type="checkbox"/> $f_n(x) = nxe^{-nx}$ sur $[0; +\infty[$ |
| <input type="checkbox"/> $f_n(x) = nxe^{-nx}$ sur $[a; +\infty[$ avec $a \in]0; 1[$ | <input type="checkbox"/> $f_n(x) = nxe^{-nx}$ sur $[0; 1[$ |



<input type="checkbox"/>	0	<input type="checkbox"/>	0	<input type="checkbox"/>	0	<input type="checkbox"/>	0	<input type="checkbox"/>	0	<input type="checkbox"/>	0	<input type="checkbox"/>	0	<input type="checkbox"/>	0	<input type="checkbox"/>	0
<input type="checkbox"/>	1	<input type="checkbox"/>	1	<input type="checkbox"/>	1	<input type="checkbox"/>	1	<input type="checkbox"/>	1	<input type="checkbox"/>	1	<input type="checkbox"/>	1	<input type="checkbox"/>	1	<input type="checkbox"/>	1
<input type="checkbox"/>	2	<input type="checkbox"/>	2	<input type="checkbox"/>	2	<input type="checkbox"/>	2	<input type="checkbox"/>	2	<input type="checkbox"/>	2	<input type="checkbox"/>	2	<input type="checkbox"/>	2	<input type="checkbox"/>	2
<input type="checkbox"/>	3	<input type="checkbox"/>	3	<input type="checkbox"/>	3	<input type="checkbox"/>	3	<input type="checkbox"/>	3	<input type="checkbox"/>	3	<input type="checkbox"/>	3	<input type="checkbox"/>	3	<input type="checkbox"/>	3
<input type="checkbox"/>	4	<input type="checkbox"/>	4	<input type="checkbox"/>	4	<input type="checkbox"/>	4	<input type="checkbox"/>	4	<input type="checkbox"/>	4	<input type="checkbox"/>	4	<input type="checkbox"/>	4	<input type="checkbox"/>	4
<input type="checkbox"/>	5	<input type="checkbox"/>	5	<input type="checkbox"/>	5	<input type="checkbox"/>	5	<input type="checkbox"/>	5	<input type="checkbox"/>	5	<input type="checkbox"/>	5	<input type="checkbox"/>	5	<input type="checkbox"/>	5
<input type="checkbox"/>	6	<input type="checkbox"/>	6	<input type="checkbox"/>	6	<input type="checkbox"/>	6	<input type="checkbox"/>	6	<input type="checkbox"/>	6	<input type="checkbox"/>	6	<input type="checkbox"/>	6	<input type="checkbox"/>	6
<input type="checkbox"/>	7	<input type="checkbox"/>	7	<input type="checkbox"/>	7	<input type="checkbox"/>	7	<input type="checkbox"/>	7	<input type="checkbox"/>	7	<input type="checkbox"/>	7	<input type="checkbox"/>	7	<input type="checkbox"/>	7
<input type="checkbox"/>	8	<input type="checkbox"/>	8	<input type="checkbox"/>	8	<input type="checkbox"/>	8	<input type="checkbox"/>	8	<input type="checkbox"/>	8	<input type="checkbox"/>	8	<input type="checkbox"/>	8	<input type="checkbox"/>	8
<input type="checkbox"/>	9	<input type="checkbox"/>	9	<input type="checkbox"/>	9	<input type="checkbox"/>	9	<input type="checkbox"/>	9	<input type="checkbox"/>	9	<input type="checkbox"/>	9	<input type="checkbox"/>	9	<input type="checkbox"/>	9

QCM3L Suites de Fonctions Préing2

← codez votre numéro d'étudiant ci-contre, et inscrivez votre nom et prénom ci-dessous (le NOM d'abord!).

Nom et prénom :
.....
.....

Les cases doivent être complètement noircies avec un stylo NOIR.

Question 1 ♣

Soit $(f_n)_{n \geq 0}$ une suite de fonctions définies par $f_n(x) = x^n \ln(x)$ pour $x \in]0, 1]$ et $f_n(0) = 0$. Alors

- $(f_n)_{n \geq 0}$ converge uniformément sur $[0, a]$ ($a \in]0, 1[$)
- $(f_n)_{n \geq 0}$ converge uniformément sur $[a, 1]$ ($a \in]0, 1[$)
- $(f_n)_{n \geq 0}$ converge uniformément sur $[0, 1]$

Question 2 ♣

Soit $(f_n)_{n \geq 0}$ une suite de fonctions définies sur un intervalle $I \subset \mathbb{R}$ à valeur dans \mathbb{R} . Quelles les conditions nécessaires pour appliquer le théorème d'interversion limites-dérivations?

- La suite de fonctions (f'_n) converge uniformément sur I vers une fonction g .
- La suite de fonctions (f_n) converge uniformément sur I vers une fonction f continue.
- Pour tout $n \in \mathbb{N}$, les fonctions f_n sont de classe C^1 sur I.
- $\exists x_0 \in I$, tel que la suite numérique $(f_n(x_0))_{n \geq 0}$ converge.
- $\forall x_0 \in I$, la suite $(f_n(x_0))_{n \geq 0}$ converge.

Question 3 ♣

On définit la suite de fonctions $f_n(x) = \frac{e^{-nx}}{1+x}$. Alors, la suite $(f_n)_{n \geq 0}$

- converge uniformément sur $[1, +\infty[$ et la fonction limite est continue
- converge uniformément sur $[0, 1]$ et la fonction limite est continue
- converge uniformément sur $[0, +\infty[$

Question 4 ♣

Choisir les suites de fonctions $(f_n)_{n \geq 0}$ qui convergent uniformément vers leur limite simple:

- | | |
|---|--|
| <input type="checkbox"/> $f_n(x) = nxe^{-nx}$ sur $[0; +\infty[$ | <input type="checkbox"/> $f_n(x) = nxe^{-nx}$ sur $[1; 2]$ |
| <input type="checkbox"/> $f_n(x) = \frac{e^{-x}}{n}$ sur $]0; +\infty[$ | <input type="checkbox"/> $f_n(x) = nxe^{-nx}$ sur $[a; +\infty[$ avec $a \in]0; 1[$ |
| <input type="checkbox"/> $f_n(x) = \frac{e^{-x}}{n}$ sur $] - \infty, 0]$ | <input type="checkbox"/> $f_n(x) = nxe^{-nx}$ sur $[0; 1[$ |



<input type="checkbox"/>	0	<input type="checkbox"/>	0	<input type="checkbox"/>	0	<input type="checkbox"/>	0	<input type="checkbox"/>	0	<input type="checkbox"/>	0	<input type="checkbox"/>	0	<input type="checkbox"/>	0	<input type="checkbox"/>	0
<input type="checkbox"/>	1	<input type="checkbox"/>	1	<input type="checkbox"/>	1	<input type="checkbox"/>	1	<input type="checkbox"/>	1	<input type="checkbox"/>	1	<input type="checkbox"/>	1	<input type="checkbox"/>	1	<input type="checkbox"/>	1
<input type="checkbox"/>	2	<input type="checkbox"/>	2	<input type="checkbox"/>	2	<input type="checkbox"/>	2	<input type="checkbox"/>	2	<input type="checkbox"/>	2	<input type="checkbox"/>	2	<input type="checkbox"/>	2	<input type="checkbox"/>	2
<input type="checkbox"/>	3	<input type="checkbox"/>	3	<input type="checkbox"/>	3	<input type="checkbox"/>	3	<input type="checkbox"/>	3	<input type="checkbox"/>	3	<input type="checkbox"/>	3	<input type="checkbox"/>	3	<input type="checkbox"/>	3
<input type="checkbox"/>	4	<input type="checkbox"/>	4	<input type="checkbox"/>	4	<input type="checkbox"/>	4	<input type="checkbox"/>	4	<input type="checkbox"/>	4	<input type="checkbox"/>	4	<input type="checkbox"/>	4	<input type="checkbox"/>	4
<input type="checkbox"/>	5	<input type="checkbox"/>	5	<input type="checkbox"/>	5	<input type="checkbox"/>	5	<input type="checkbox"/>	5	<input type="checkbox"/>	5	<input type="checkbox"/>	5	<input type="checkbox"/>	5	<input type="checkbox"/>	5
<input type="checkbox"/>	6	<input type="checkbox"/>	6	<input type="checkbox"/>	6	<input type="checkbox"/>	6	<input type="checkbox"/>	6	<input type="checkbox"/>	6	<input type="checkbox"/>	6	<input type="checkbox"/>	6	<input type="checkbox"/>	6
<input type="checkbox"/>	7	<input type="checkbox"/>	7	<input type="checkbox"/>	7	<input type="checkbox"/>	7	<input type="checkbox"/>	7	<input type="checkbox"/>	7	<input type="checkbox"/>	7	<input type="checkbox"/>	7	<input type="checkbox"/>	7
<input type="checkbox"/>	8	<input type="checkbox"/>	8	<input type="checkbox"/>	8	<input type="checkbox"/>	8	<input type="checkbox"/>	8	<input type="checkbox"/>	8	<input type="checkbox"/>	8	<input type="checkbox"/>	8	<input type="checkbox"/>	8
<input type="checkbox"/>	9	<input type="checkbox"/>	9	<input type="checkbox"/>	9	<input type="checkbox"/>	9	<input type="checkbox"/>	9	<input type="checkbox"/>	9	<input type="checkbox"/>	9	<input type="checkbox"/>	9	<input type="checkbox"/>	9

QCM3L Suites de Fonctions Préing2

← codez votre numéro d'étudiant ci-contre, et inscrivez votre nom et prénom ci-dessous (le NOM d'abord!).

Nom et prénom :
.....
.....

Les cases doivent être complètement noircies avec un stylo NOIR.

Question 1 ♣

Choisir les suites de fonctions $(f_n)_{n \geq 0}$ qui convergent uniformément vers leur limite simple:

- | | |
|---|--|
| <input type="checkbox"/> $f_n(x) = nxe^{-nx}$ sur $[0; +\infty[$ | <input type="checkbox"/> $f_n(x) = nxe^{-nx}$ sur $[0; 1[$ |
| <input type="checkbox"/> $f_n(x) = nxe^{-nx}$ sur $[1; 2]$ | <input type="checkbox"/> $f_n(x) = \frac{e^{-x}}{n}$ sur $]0; +\infty[$ |
| <input type="checkbox"/> $f_n(x) = \frac{e^{-x}}{n}$ sur $] - \infty, 0]$ | <input type="checkbox"/> $f_n(x) = nxe^{-nx}$ sur $[a; +\infty[$ avec $a \in]0; 1[$ |

Question 2 ♣

On définit la suite de fonctions $f_n(x) = \frac{e^{-nx}}{1+x}$. Alors, la suite $(f_n)_{n \geq 0}$

- converge uniformément sur $[0, 1]$ et la fonction limite est continue
- converge uniformément sur $[0, +\infty[$
- converge uniformément sur $[1, +\infty[$ et la fonction limite est continue

Question 3 ♣

Soit $(f_n)_{n \geq 0}$ une suite de fonctions définies sur un intervalle $I \subset \mathbb{R}$ à valeur dans \mathbb{R} . Quelles les conditions nécessaires pour appliquer le théorème d'interversion limites-dérivations?

- Pour tout $n \in \mathbb{N}$, les fonctions f_n sont de classe C^1 sur I .
- La suite de fonctions (f'_n) converge uniformément sur I vers une fonction g .
- $\exists x_0 \in I$, tel que la suite numérique $(f_n(x_0))_{n \geq 0}$ converge.
- $\forall x_0 \in I$, la suite $(f_n(x_0))_{n \geq 0}$ converge.
- La suite de fonctions (f_n) converge uniformément sur I vers une fonction f continue.

Question 4 ♣

Soit $(f_n)_{n \geq 0}$ une suite de fonctions définies par $f_n(x) = x^n \ln(x)$ pour $x \in]0, 1]$ et $f_n(0) = 0$. Alors

- $(f_n)_{n \geq 0}$ converge uniformément sur $[0, a]$ ($a \in]0, 1[$)
- $(f_n)_{n \geq 0}$ converge uniformément sur $[0, 1]$
- $(f_n)_{n \geq 0}$ converge uniformément sur $[a, 1]$ ($a \in]0, 1[$)



<input type="checkbox"/> 0	<input type="checkbox"/> 0	<input type="checkbox"/> 0	<input type="checkbox"/> 0	<input type="checkbox"/> 0	<input type="checkbox"/> 0	<input type="checkbox"/> 0	<input type="checkbox"/> 0	<input type="checkbox"/> 0
<input type="checkbox"/> 1	<input type="checkbox"/> 1	<input type="checkbox"/> 1	<input type="checkbox"/> 1	<input type="checkbox"/> 1	<input type="checkbox"/> 1	<input type="checkbox"/> 1	<input type="checkbox"/> 1	<input type="checkbox"/> 1
<input type="checkbox"/> 2	<input type="checkbox"/> 2	<input type="checkbox"/> 2	<input type="checkbox"/> 2	<input type="checkbox"/> 2	<input type="checkbox"/> 2	<input type="checkbox"/> 2	<input type="checkbox"/> 2	<input type="checkbox"/> 2
<input type="checkbox"/> 3	<input type="checkbox"/> 3	<input type="checkbox"/> 3	<input type="checkbox"/> 3	<input type="checkbox"/> 3	<input type="checkbox"/> 3	<input type="checkbox"/> 3	<input type="checkbox"/> 3	<input type="checkbox"/> 3
<input type="checkbox"/> 4	<input type="checkbox"/> 4	<input type="checkbox"/> 4	<input type="checkbox"/> 4	<input type="checkbox"/> 4	<input type="checkbox"/> 4	<input type="checkbox"/> 4	<input type="checkbox"/> 4	<input type="checkbox"/> 4
<input type="checkbox"/> 5	<input type="checkbox"/> 5	<input type="checkbox"/> 5	<input type="checkbox"/> 5	<input type="checkbox"/> 5	<input type="checkbox"/> 5	<input type="checkbox"/> 5	<input type="checkbox"/> 5	<input type="checkbox"/> 5
<input type="checkbox"/> 6	<input type="checkbox"/> 6	<input type="checkbox"/> 6	<input type="checkbox"/> 6	<input type="checkbox"/> 6	<input type="checkbox"/> 6	<input type="checkbox"/> 6	<input type="checkbox"/> 6	<input type="checkbox"/> 6
<input type="checkbox"/> 7	<input type="checkbox"/> 7	<input type="checkbox"/> 7	<input type="checkbox"/> 7	<input type="checkbox"/> 7	<input type="checkbox"/> 7	<input type="checkbox"/> 7	<input type="checkbox"/> 7	<input type="checkbox"/> 7
<input type="checkbox"/> 8	<input type="checkbox"/> 8	<input type="checkbox"/> 8	<input type="checkbox"/> 8	<input type="checkbox"/> 8	<input type="checkbox"/> 8	<input type="checkbox"/> 8	<input type="checkbox"/> 8	<input type="checkbox"/> 8
<input type="checkbox"/> 9	<input type="checkbox"/> 9	<input type="checkbox"/> 9	<input type="checkbox"/> 9	<input type="checkbox"/> 9	<input type="checkbox"/> 9	<input type="checkbox"/> 9	<input type="checkbox"/> 9	<input type="checkbox"/> 9

QCM3L Suites de Fonctions Préing2

← codez votre numéro d'étudiant ci-contre, et inscrivez votre nom et prénom ci-dessous (le NOM d'abord!).

Nom et prénom :

.....

.....

Les cases doivent être complètement noircies avec un stylo NOIR.

Question 1 ♣

Choisir les suites de fonctions $(f_n)_{n \geq 0}$ qui convergent uniformément vers leur limite simple:

- | | |
|---|--|
| <input type="checkbox"/> $f_n(x) = \frac{e^{-x}}{n}$ sur $]0; +\infty[$ | <input type="checkbox"/> $f_n(x) = nxe^{-nx}$ sur $[a; +\infty[$ avec $a \in]0; 1[$ |
| <input type="checkbox"/> $f_n(x) = nxe^{-nx}$ sur $[1; 2]$ | <input type="checkbox"/> $f_n(x) = nxe^{-nx}$ sur $[0; +\infty[$ |
| <input type="checkbox"/> $f_n(x) = nxe^{-nx}$ sur $[0; 1[$ | <input type="checkbox"/> $f_n(x) = \frac{e^{-x}}{n}$ sur $] - \infty, 0]$ |

Question 2 ♣

Soit $(f_n)_{n \geq 0}$ une suite de fonctions définies par $f_n(x) = x^n \ln(x)$ pour $x \in]0, 1]$ et $f_n(0) = 0$. Alors

- $(f_n)_{n \geq 0}$ converge uniformément sur $[0, 1]$
- $(f_n)_{n \geq 0}$ converge uniformément sur $[a, 1]$ ($a \in]0, 1[$)
- $(f_n)_{n \geq 0}$ converge uniformément sur $[0, a]$ ($a \in]0, 1[$)

Question 3 ♣

On définit la suite de fonctions $f_n(x) = \frac{e^{-nx}}{1+x}$. Alors, la suite $(f_n)_{n \geq 0}$

- converge uniformément sur $[0, 1]$ et la fonction limite est continue
- converge uniformément sur $[1, +\infty[$ et la fonction limite est continue
- converge uniformément sur $[0, +\infty[$

Question 4 ♣

Soit $(f_n)_{n \geq 0}$ une suite de fonctions définies sur un intervalle $I \subset \mathbb{R}$ à valeur dans \mathbb{R} . Quelles les conditions nécessaires pour appliquer le théorème d'interversion limites-dérivations?

- $\forall x_0 \in I$, la suite $(f_n(x_0))_{n \geq 0}$ converge.
- Pour tout $n \in \mathbb{N}$, les fonctions f_n sont de classe C^1 sur I .
- $\exists x_0 \in I$, tel que la suite numérique $(f_n(x_0))_{n \geq 0}$ converge.
- La suite de fonctions (f'_n) converge uniformément sur I vers une fonction g .
- La suite de fonctions (f_n) converge uniformément sur I vers une fonction f continue.



<input type="checkbox"/>	0	<input type="checkbox"/>	0	<input type="checkbox"/>	0	<input type="checkbox"/>	0	<input type="checkbox"/>	0	<input type="checkbox"/>	0	<input type="checkbox"/>	0	<input type="checkbox"/>	0	<input type="checkbox"/>	0
<input type="checkbox"/>	1	<input type="checkbox"/>	1	<input type="checkbox"/>	1	<input type="checkbox"/>	1	<input type="checkbox"/>	1	<input type="checkbox"/>	1	<input type="checkbox"/>	1	<input type="checkbox"/>	1	<input type="checkbox"/>	1
<input type="checkbox"/>	2	<input type="checkbox"/>	2	<input type="checkbox"/>	2	<input type="checkbox"/>	2	<input type="checkbox"/>	2	<input type="checkbox"/>	2	<input type="checkbox"/>	2	<input type="checkbox"/>	2	<input type="checkbox"/>	2
<input type="checkbox"/>	3	<input type="checkbox"/>	3	<input type="checkbox"/>	3	<input type="checkbox"/>	3	<input type="checkbox"/>	3	<input type="checkbox"/>	3	<input type="checkbox"/>	3	<input type="checkbox"/>	3	<input type="checkbox"/>	3
<input type="checkbox"/>	4	<input type="checkbox"/>	4	<input type="checkbox"/>	4	<input type="checkbox"/>	4	<input type="checkbox"/>	4	<input type="checkbox"/>	4	<input type="checkbox"/>	4	<input type="checkbox"/>	4	<input type="checkbox"/>	4
<input type="checkbox"/>	5	<input type="checkbox"/>	5	<input type="checkbox"/>	5	<input type="checkbox"/>	5	<input type="checkbox"/>	5	<input type="checkbox"/>	5	<input type="checkbox"/>	5	<input type="checkbox"/>	5	<input type="checkbox"/>	5
<input type="checkbox"/>	6	<input type="checkbox"/>	6	<input type="checkbox"/>	6	<input type="checkbox"/>	6	<input type="checkbox"/>	6	<input type="checkbox"/>	6	<input type="checkbox"/>	6	<input type="checkbox"/>	6	<input type="checkbox"/>	6
<input type="checkbox"/>	7	<input type="checkbox"/>	7	<input type="checkbox"/>	7	<input type="checkbox"/>	7	<input type="checkbox"/>	7	<input type="checkbox"/>	7	<input type="checkbox"/>	7	<input type="checkbox"/>	7	<input type="checkbox"/>	7
<input type="checkbox"/>	8	<input type="checkbox"/>	8	<input type="checkbox"/>	8	<input type="checkbox"/>	8	<input type="checkbox"/>	8	<input type="checkbox"/>	8	<input type="checkbox"/>	8	<input type="checkbox"/>	8	<input type="checkbox"/>	8
<input type="checkbox"/>	9	<input type="checkbox"/>	9	<input type="checkbox"/>	9	<input type="checkbox"/>	9	<input type="checkbox"/>	9	<input type="checkbox"/>	9	<input type="checkbox"/>	9	<input type="checkbox"/>	9	<input type="checkbox"/>	9

QCM3L Suites de Fonctions Préing2

← codez votre numéro d'étudiant ci-contre, et inscrivez votre nom et prénom ci-dessous (le NOM d'abord!).

Nom et prénom :

.....

.....

Les cases doivent être complètement noircies avec un stylo NOIR.

Question 1 ♣

Choisir les suites de fonctions $(f_n)_{n \geq 0}$ qui convergent uniformément vers leur limite simple:

- | | |
|--|---|
| <input type="checkbox"/> $f_n(x) = nxe^{-nx}$ sur $[a; +\infty[$ avec $a \in]0; 1[$ | <input type="checkbox"/> $f_n(x) = \frac{e^{-x}}{n}$ sur $] - \infty, 0]$ |
| <input type="checkbox"/> $f_n(x) = nxe^{-nx}$ sur $[0; 1[$ | <input type="checkbox"/> $f_n(x) = \frac{e^{-x}}{n}$ sur $]0; +\infty[$ |
| <input type="checkbox"/> $f_n(x) = nxe^{-nx}$ sur $[1; 2]$ | <input type="checkbox"/> $f_n(x) = nxe^{-nx}$ sur $[0; +\infty[$ |

Question 2 ♣

Soit $(f_n)_{n \geq 0}$ une suite de fonctions définies sur un intervalle $I \subset \mathbb{R}$ à valeur dans \mathbb{R} . Quelles les conditions nécessaires pour appliquer le théorème d'interversion limites-dérivations?

- La suite de fonctions (f_n) converge uniformément sur I vers une fonction f continue.
- Pour tout $n \in \mathbb{N}$, les fonctions f_n sont de classe C^1 sur I.
- $\exists x_0 \in I$, tel que la suite numérique $(f_n(x_0))_{n \geq 0}$ converge.
- La suite de fonctions (f'_n) converge uniformément sur I vers une fonction g .
- $\forall x_0 \in I$, la suite $(f_n(x_0))_{n \geq 0}$ converge.

Question 3 ♣

Soit $(f_n)_{n \geq 0}$ une suite de fonctions définies par $f_n(x) = x^n \ln(x)$ pour $x \in]0, 1]$ et $f_n(0) = 0$. Alors

- $(f_n)_{n \geq 0}$ converge uniformément sur $[0, a]$ ($a \in]0, 1[$)
- $(f_n)_{n \geq 0}$ converge uniformément sur $[a, 1]$ ($a \in]0, 1[$)
- $(f_n)_{n \geq 0}$ converge uniformément sur $[0, 1]$

Question 4 ♣

On définit la suite de fonctions $f_n(x) = \frac{e^{-nx}}{1+x}$. Alors, la suite $(f_n)_{n \geq 0}$

- converge uniformément sur $[0, +\infty[$
- converge uniformément sur $[0, 1]$ et la fonction limite est continue
- converge uniformément sur $[1, +\infty[$ et la fonction limite est continue



<input type="checkbox"/>	0	<input type="checkbox"/>	0	<input type="checkbox"/>	0	<input type="checkbox"/>	0	<input type="checkbox"/>	0	<input type="checkbox"/>	0	<input type="checkbox"/>	0	<input type="checkbox"/>	0	<input type="checkbox"/>	0
<input type="checkbox"/>	1	<input type="checkbox"/>	1	<input type="checkbox"/>	1	<input type="checkbox"/>	1	<input type="checkbox"/>	1	<input type="checkbox"/>	1	<input type="checkbox"/>	1	<input type="checkbox"/>	1	<input type="checkbox"/>	1
<input type="checkbox"/>	2	<input type="checkbox"/>	2	<input type="checkbox"/>	2	<input type="checkbox"/>	2	<input type="checkbox"/>	2	<input type="checkbox"/>	2	<input type="checkbox"/>	2	<input type="checkbox"/>	2	<input type="checkbox"/>	2
<input type="checkbox"/>	3	<input type="checkbox"/>	3	<input type="checkbox"/>	3	<input type="checkbox"/>	3	<input type="checkbox"/>	3	<input type="checkbox"/>	3	<input type="checkbox"/>	3	<input type="checkbox"/>	3	<input type="checkbox"/>	3
<input type="checkbox"/>	4	<input type="checkbox"/>	4	<input type="checkbox"/>	4	<input type="checkbox"/>	4	<input type="checkbox"/>	4	<input type="checkbox"/>	4	<input type="checkbox"/>	4	<input type="checkbox"/>	4	<input type="checkbox"/>	4
<input type="checkbox"/>	5	<input type="checkbox"/>	5	<input type="checkbox"/>	5	<input type="checkbox"/>	5	<input type="checkbox"/>	5	<input type="checkbox"/>	5	<input type="checkbox"/>	5	<input type="checkbox"/>	5	<input type="checkbox"/>	5
<input type="checkbox"/>	6	<input type="checkbox"/>	6	<input type="checkbox"/>	6	<input type="checkbox"/>	6	<input type="checkbox"/>	6	<input type="checkbox"/>	6	<input type="checkbox"/>	6	<input type="checkbox"/>	6	<input type="checkbox"/>	6
<input type="checkbox"/>	7	<input type="checkbox"/>	7	<input type="checkbox"/>	7	<input type="checkbox"/>	7	<input type="checkbox"/>	7	<input type="checkbox"/>	7	<input type="checkbox"/>	7	<input type="checkbox"/>	7	<input type="checkbox"/>	7
<input type="checkbox"/>	8	<input type="checkbox"/>	8	<input type="checkbox"/>	8	<input type="checkbox"/>	8	<input type="checkbox"/>	8	<input type="checkbox"/>	8	<input type="checkbox"/>	8	<input type="checkbox"/>	8	<input type="checkbox"/>	8
<input type="checkbox"/>	9	<input type="checkbox"/>	9	<input type="checkbox"/>	9	<input type="checkbox"/>	9	<input type="checkbox"/>	9	<input type="checkbox"/>	9	<input type="checkbox"/>	9	<input type="checkbox"/>	9	<input type="checkbox"/>	9

QCM3L Suites de Fonctions Préing2

← codez votre numéro d'étudiant ci-contre, et inscrivez votre nom et prénom ci-dessous (le NOM d'abord!).

Nom et prénom :

.....

.....

Les cases doivent être complètement noircies avec un stylo NOIR.

Question 1 ♣

Soit $(f_n)_{n \geq 0}$ une suite de fonctions définies sur un intervalle $I \subset \mathbb{R}$ à valeur dans \mathbb{R} . Quelles les conditions nécessaires pour appliquer le théorème d'interversion limites-dérivations?

- La suite de fonctions (f'_n) converge uniformément sur I vers une fonction g .
- La suite de fonctions (f_n) converge uniformément sur I vers une fonction f continue.
- Pour tout $n \in \mathbb{N}$, les fonctions f_n sont de classe C^1 sur I.
- $\exists x_0 \in I$, tel que la suite numérique $(f_n(x_0))_{n \geq 0}$ converge.
- $\forall x_0 \in I$, la suite $(f_n(x_0))_{n \geq 0}$ converge.

Question 2 ♣

Choisir les suites de fonctions $(f_n)_{n \geq 0}$ qui convergent uniformément vers leur limite simple:

- $f_n(x) = nxe^{-nx}$ sur $[0; +\infty[$
- $f_n(x) = nxe^{-nx}$ sur $[1; 2]$
- $f_n(x) = nxe^{-nx}$ sur $[0; 1[$
- $f_n(x) = nxe^{-nx}$ sur $[a; +\infty[$ avec $a \in]0; 1[$
- $f_n(x) = \frac{e^{-x}}{n}$ sur $] - \infty, 0]$
- $f_n(x) = \frac{e^{-x}}{n}$ sur $]0; +\infty[$

Question 3 ♣

Soit $(f_n)_{n \geq 0}$ une suite de fonctions définies par $f_n(x) = x^n \ln(x)$ pour $x \in]0, 1]$ et $f_n(0) = 0$. Alors

- $(f_n)_{n \geq 0}$ converge uniformément sur $[0, a]$ ($a \in]0, 1[$)
- $(f_n)_{n \geq 0}$ converge uniformément sur $[0, 1]$
- $(f_n)_{n \geq 0}$ converge uniformément sur $[a, 1]$ ($a \in]0, 1[$)

Question 4 ♣

On définit la suite de fonctions $f_n(x) = \frac{e^{-nx}}{1+x}$. Alors, la suite $(f_n)_{n \geq 0}$

- converge uniformément sur $[1, +\infty[$ et la fonction limite est continue
- converge uniformément sur $[0, 1]$ et la fonction limite est continue
- converge uniformément sur $[0, +\infty[$



<input type="checkbox"/>	0	<input type="checkbox"/>	0	<input type="checkbox"/>	0	<input type="checkbox"/>	0	<input type="checkbox"/>	0	<input type="checkbox"/>	0	<input type="checkbox"/>	0	<input type="checkbox"/>	0	<input type="checkbox"/>	0
<input type="checkbox"/>	1	<input type="checkbox"/>	1	<input type="checkbox"/>	1	<input type="checkbox"/>	1	<input type="checkbox"/>	1	<input type="checkbox"/>	1	<input type="checkbox"/>	1	<input type="checkbox"/>	1	<input type="checkbox"/>	1
<input type="checkbox"/>	2	<input type="checkbox"/>	2	<input type="checkbox"/>	2	<input type="checkbox"/>	2	<input type="checkbox"/>	2	<input type="checkbox"/>	2	<input type="checkbox"/>	2	<input type="checkbox"/>	2	<input type="checkbox"/>	2
<input type="checkbox"/>	3	<input type="checkbox"/>	3	<input type="checkbox"/>	3	<input type="checkbox"/>	3	<input type="checkbox"/>	3	<input type="checkbox"/>	3	<input type="checkbox"/>	3	<input type="checkbox"/>	3	<input type="checkbox"/>	3
<input type="checkbox"/>	4	<input type="checkbox"/>	4	<input type="checkbox"/>	4	<input type="checkbox"/>	4	<input type="checkbox"/>	4	<input type="checkbox"/>	4	<input type="checkbox"/>	4	<input type="checkbox"/>	4	<input type="checkbox"/>	4
<input type="checkbox"/>	5	<input type="checkbox"/>	5	<input type="checkbox"/>	5	<input type="checkbox"/>	5	<input type="checkbox"/>	5	<input type="checkbox"/>	5	<input type="checkbox"/>	5	<input type="checkbox"/>	5	<input type="checkbox"/>	5
<input type="checkbox"/>	6	<input type="checkbox"/>	6	<input type="checkbox"/>	6	<input type="checkbox"/>	6	<input type="checkbox"/>	6	<input type="checkbox"/>	6	<input type="checkbox"/>	6	<input type="checkbox"/>	6	<input type="checkbox"/>	6
<input type="checkbox"/>	7	<input type="checkbox"/>	7	<input type="checkbox"/>	7	<input type="checkbox"/>	7	<input type="checkbox"/>	7	<input type="checkbox"/>	7	<input type="checkbox"/>	7	<input type="checkbox"/>	7	<input type="checkbox"/>	7
<input type="checkbox"/>	8	<input type="checkbox"/>	8	<input type="checkbox"/>	8	<input type="checkbox"/>	8	<input type="checkbox"/>	8	<input type="checkbox"/>	8	<input type="checkbox"/>	8	<input type="checkbox"/>	8	<input type="checkbox"/>	8
<input type="checkbox"/>	9	<input type="checkbox"/>	9	<input type="checkbox"/>	9	<input type="checkbox"/>	9	<input type="checkbox"/>	9	<input type="checkbox"/>	9	<input type="checkbox"/>	9	<input type="checkbox"/>	9	<input type="checkbox"/>	9

QCM3L Suites de Fonctions Préing2

← codez votre numéro d'étudiant ci-contre, et inscrivez votre nom et prénom ci-dessous (le NOM d'abord!).

Nom et prénom :

.....

.....

Les cases doivent être complètement noircies avec un stylo NOIR.

Question 1 ♣

On définit la suite de fonctions $f_n(x) = \frac{e^{-nx}}{1+x}$. Alors, la suite $(f_n)_{n \geq 0}$

- converge uniformément sur $[1, +\infty[$ et la fonction limite est continue
- converge uniformément sur $[0, +\infty[$
- converge uniformément sur $[0, 1]$ et la fonction limite est continue

Question 2 ♣

Choisir les suites de fonctions $(f_n)_{n \geq 0}$ qui convergent uniformément vers leur limite simple:

- | | |
|--|--|
| <input type="checkbox"/> $f_n(x) = \frac{e^{-x}}{n}$ sur $]0; +\infty[$ | <input type="checkbox"/> $f_n(x) = nxe^{-nx}$ sur $[0; +\infty[$ |
| <input type="checkbox"/> $f_n(x) = \frac{e^{-x}}{n}$ sur $] -\infty, 0]$ | <input type="checkbox"/> $f_n(x) = nxe^{-nx}$ sur $[1; 2]$ |
| <input type="checkbox"/> $f_n(x) = nxe^{-nx}$ sur $[0; 1[$ | <input type="checkbox"/> $f_n(x) = nxe^{-nx}$ sur $[a; +\infty[$ avec $a \in]0; 1[$ |

Question 3 ♣

Soit $(f_n)_{n \geq 0}$ une suite de fonctions définies par $f_n(x) = x^n \ln(x)$ pour $x \in]0, 1]$ et $f_n(0) = 0$. Alors

- $(f_n)_{n \geq 0}$ converge uniformément sur $[0, a]$ ($a \in]0, 1[$)
- $(f_n)_{n \geq 0}$ converge uniformément sur $[0, 1]$
- $(f_n)_{n \geq 0}$ converge uniformément sur $[a, 1]$ ($a \in]0, 1[$)

Question 4 ♣

Soit $(f_n)_{n \geq 0}$ une suite de fonctions définies sur un intervalle $I \subset \mathbb{R}$ à valeur dans \mathbb{R} . Quelles les conditions nécessaires pour appliquer le théorème d'interversion limites-dérivations?

- $\forall x_0 \in I$, la suite $(f_n(x_0))_{n \geq 0}$ converge.
- Pour tout $n \in \mathbb{N}$, les fonctions f_n sont de classe C^1 sur I .
- La suite de fonctions (f_n) converge uniformément sur I vers une fonction f continue.
- $\exists x_0 \in I$, tel que la suite numérique $(f_n(x_0))_{n \geq 0}$ converge.
- La suite de fonctions (f'_n) converge uniformément sur I vers une fonction g .



<input type="checkbox"/>	0	<input type="checkbox"/>	0	<input type="checkbox"/>	0	<input type="checkbox"/>	0	<input type="checkbox"/>	0	<input type="checkbox"/>	0	<input type="checkbox"/>	0	<input type="checkbox"/>	0	<input type="checkbox"/>	0
<input type="checkbox"/>	1	<input type="checkbox"/>	1	<input type="checkbox"/>	1	<input type="checkbox"/>	1	<input type="checkbox"/>	1	<input type="checkbox"/>	1	<input type="checkbox"/>	1	<input type="checkbox"/>	1	<input type="checkbox"/>	1
<input type="checkbox"/>	2	<input type="checkbox"/>	2	<input type="checkbox"/>	2	<input type="checkbox"/>	2	<input type="checkbox"/>	2	<input type="checkbox"/>	2	<input type="checkbox"/>	2	<input type="checkbox"/>	2	<input type="checkbox"/>	2
<input type="checkbox"/>	3	<input type="checkbox"/>	3	<input type="checkbox"/>	3	<input type="checkbox"/>	3	<input type="checkbox"/>	3	<input type="checkbox"/>	3	<input type="checkbox"/>	3	<input type="checkbox"/>	3	<input type="checkbox"/>	3
<input type="checkbox"/>	4	<input type="checkbox"/>	4	<input type="checkbox"/>	4	<input type="checkbox"/>	4	<input type="checkbox"/>	4	<input type="checkbox"/>	4	<input type="checkbox"/>	4	<input type="checkbox"/>	4	<input type="checkbox"/>	4
<input type="checkbox"/>	5	<input type="checkbox"/>	5	<input type="checkbox"/>	5	<input type="checkbox"/>	5	<input type="checkbox"/>	5	<input type="checkbox"/>	5	<input type="checkbox"/>	5	<input type="checkbox"/>	5	<input type="checkbox"/>	5
<input type="checkbox"/>	6	<input type="checkbox"/>	6	<input type="checkbox"/>	6	<input type="checkbox"/>	6	<input type="checkbox"/>	6	<input type="checkbox"/>	6	<input type="checkbox"/>	6	<input type="checkbox"/>	6	<input type="checkbox"/>	6
<input type="checkbox"/>	7	<input type="checkbox"/>	7	<input type="checkbox"/>	7	<input type="checkbox"/>	7	<input type="checkbox"/>	7	<input type="checkbox"/>	7	<input type="checkbox"/>	7	<input type="checkbox"/>	7	<input type="checkbox"/>	7
<input type="checkbox"/>	8	<input type="checkbox"/>	8	<input type="checkbox"/>	8	<input type="checkbox"/>	8	<input type="checkbox"/>	8	<input type="checkbox"/>	8	<input type="checkbox"/>	8	<input type="checkbox"/>	8	<input type="checkbox"/>	8
<input type="checkbox"/>	9	<input type="checkbox"/>	9	<input type="checkbox"/>	9	<input type="checkbox"/>	9	<input type="checkbox"/>	9	<input type="checkbox"/>	9	<input type="checkbox"/>	9	<input type="checkbox"/>	9	<input type="checkbox"/>	9

QCM3L Suites de Fonctions Préing2

← codez votre numéro d'étudiant ci-contre, et inscrivez votre nom et prénom ci-dessous (le NOM d'abord!).

Nom et prénom :

.....

.....

Les cases doivent être complètement noircies avec un stylo NOIR.

Question 1 ♣

Soit $(f_n)_{n \geq 0}$ une suite de fonctions définies sur un intervalle $I \subset \mathbb{R}$ à valeur dans \mathbb{R} . Quelles les conditions nécessaires pour appliquer le théorème d'inversion limites-dérivations?

- La suite de fonctions (f_n) converge uniformément sur I vers une fonction f continue.
- Pour tout $n \in \mathbb{N}$, les fonctions f_n sont de classe C^1 sur I.
- La suite de fonctions (f'_n) converge uniformément sur I vers une fonction g .
- $\exists x_0 \in I$, tel que la suite numérique $(f_n(x_0))_{n \geq 0}$ converge.
- $\forall x_0 \in I$, la suite $(f_n(x_0))_{n \geq 0}$ converge.

Question 2 ♣

Choisir les suites de fonctions $(f_n)_{n \geq 0}$ qui convergent uniformément vers leur limite simple:

- $f_n(x) = nxe^{-nx}$ sur $[0; +\infty[$
- $f_n(x) = nxe^{-nx}$ sur $[1; 2]$
- $f_n(x) = nxe^{-nx}$ sur $[0; 1[$
- $f_n(x) = nxe^{-nx}$ sur $[a; +\infty[$ avec $a \in]0; 1[$
- $f_n(x) = \frac{e^{-x}}{n}$ sur $] - \infty, 0]$
- $f_n(x) = \frac{e^{-x}}{n}$ sur $]0; +\infty[$

Question 3 ♣

Soit $(f_n)_{n \geq 0}$ une suite de fonctions définies par $f_n(x) = x^n \ln(x)$ pour $x \in]0, 1]$ et $f_n(0) = 0$. Alors

- $(f_n)_{n \geq 0}$ converge uniformément sur $[0, a]$ ($a \in]0, 1[$)
- $(f_n)_{n \geq 0}$ converge uniformément sur $[0, 1]$
- $(f_n)_{n \geq 0}$ converge uniformément sur $[a, 1]$ ($a \in]0, 1[$)

Question 4 ♣

On définit la suite de fonctions $f_n(x) = \frac{e^{-nx}}{1+x}$. Alors, la suite $(f_n)_{n \geq 0}$

- converge uniformément sur $[0, 1]$ et la fonction limite est continue
- converge uniformément sur $[0, +\infty[$
- converge uniformément sur $[1, +\infty[$ et la fonction limite est continue



<input type="checkbox"/>	0	<input type="checkbox"/>	0	<input type="checkbox"/>	0	<input type="checkbox"/>	0	<input type="checkbox"/>	0	<input type="checkbox"/>	0	<input type="checkbox"/>	0	<input type="checkbox"/>	0	<input type="checkbox"/>	0
<input type="checkbox"/>	1	<input type="checkbox"/>	1	<input type="checkbox"/>	1	<input type="checkbox"/>	1	<input type="checkbox"/>	1	<input type="checkbox"/>	1	<input type="checkbox"/>	1	<input type="checkbox"/>	1	<input type="checkbox"/>	1
<input type="checkbox"/>	2	<input type="checkbox"/>	2	<input type="checkbox"/>	2	<input type="checkbox"/>	2	<input type="checkbox"/>	2	<input type="checkbox"/>	2	<input type="checkbox"/>	2	<input type="checkbox"/>	2	<input type="checkbox"/>	2
<input type="checkbox"/>	3	<input type="checkbox"/>	3	<input type="checkbox"/>	3	<input type="checkbox"/>	3	<input type="checkbox"/>	3	<input type="checkbox"/>	3	<input type="checkbox"/>	3	<input type="checkbox"/>	3	<input type="checkbox"/>	3
<input type="checkbox"/>	4	<input type="checkbox"/>	4	<input type="checkbox"/>	4	<input type="checkbox"/>	4	<input type="checkbox"/>	4	<input type="checkbox"/>	4	<input type="checkbox"/>	4	<input type="checkbox"/>	4	<input type="checkbox"/>	4
<input type="checkbox"/>	5	<input type="checkbox"/>	5	<input type="checkbox"/>	5	<input type="checkbox"/>	5	<input type="checkbox"/>	5	<input type="checkbox"/>	5	<input type="checkbox"/>	5	<input type="checkbox"/>	5	<input type="checkbox"/>	5
<input type="checkbox"/>	6	<input type="checkbox"/>	6	<input type="checkbox"/>	6	<input type="checkbox"/>	6	<input type="checkbox"/>	6	<input type="checkbox"/>	6	<input type="checkbox"/>	6	<input type="checkbox"/>	6	<input type="checkbox"/>	6
<input type="checkbox"/>	7	<input type="checkbox"/>	7	<input type="checkbox"/>	7	<input type="checkbox"/>	7	<input type="checkbox"/>	7	<input type="checkbox"/>	7	<input type="checkbox"/>	7	<input type="checkbox"/>	7	<input type="checkbox"/>	7
<input type="checkbox"/>	8	<input type="checkbox"/>	8	<input type="checkbox"/>	8	<input type="checkbox"/>	8	<input type="checkbox"/>	8	<input type="checkbox"/>	8	<input type="checkbox"/>	8	<input type="checkbox"/>	8	<input type="checkbox"/>	8
<input type="checkbox"/>	9	<input type="checkbox"/>	9	<input type="checkbox"/>	9	<input type="checkbox"/>	9	<input type="checkbox"/>	9	<input type="checkbox"/>	9	<input type="checkbox"/>	9	<input type="checkbox"/>	9	<input type="checkbox"/>	9

QCM3L Suites de Fonctions Préing2

← codez votre numéro d'étudiant ci-contre, et inscrivez votre nom et prénom ci-dessous (le NOM d'abord!).

Nom et prénom :

.....

.....

Les cases doivent être complètement noircies avec un stylo NOIR.

Question 1 ♣

Choisir les suites de fonctions $(f_n)_{n \geq 0}$ qui convergent uniformément vers leur limite simple:

- | | |
|---|--|
| <input type="checkbox"/> $f_n(x) = nxe^{-nx}$ sur $[1; 2]$ | <input type="checkbox"/> $f_n(x) = nxe^{-nx}$ sur $[0; +\infty[$ |
| <input type="checkbox"/> $f_n(x) = nxe^{-nx}$ sur $[0; 1[$ | <input type="checkbox"/> $f_n(x) = nxe^{-nx}$ sur $[a; +\infty[$ avec $a \in]0; 1[$ |
| <input type="checkbox"/> $f_n(x) = \frac{e^{-x}}{n}$ sur $] - \infty, 0]$ | <input type="checkbox"/> $f_n(x) = \frac{e^{-x}}{n}$ sur $]0; +\infty[$ |

Question 2 ♣

On définit la suite de fonctions $f_n(x) = \frac{e^{-nx}}{1+x}$. Alors, la suite $(f_n)_{n \geq 0}$

- converge uniformément sur $[0, +\infty[$
- converge uniformément sur $[0, 1]$ et la fonction limite est continue
- converge uniformément sur $[1, +\infty[$ et la fonction limite est continue

Question 3 ♣

Soit $(f_n)_{n \geq 0}$ une suite de fonctions définies sur un intervalle $I \subset \mathbb{R}$ à valeur dans \mathbb{R} . Quelles les conditions nécessaires pour appliquer le théorème d'interversion limites-dérivations?

- $\forall x_0 \in I$, la suite $(f_n(x_0))_{n \geq 0}$ converge.
- La suite de fonctions (f'_n) converge uniformément sur I vers une fonction g .
- $\exists x_0 \in I$, tel que la suite numérique $(f_n(x_0))_{n \geq 0}$ converge.
- La suite de fonctions (f_n) converge uniformément sur I vers une fonction f continue.
- Pour tout $n \in \mathbb{N}$, les fonctions f_n sont de classe C^1 sur I.

Question 4 ♣

Soit $(f_n)_{n \geq 0}$ une suite de fonctions définies par $f_n(x) = x^n \ln(x)$ pour $x \in]0, 1]$ et $f_n(0) = 0$. Alors

- $(f_n)_{n \geq 0}$ converge uniformément sur $[0, 1]$
- $(f_n)_{n \geq 0}$ converge uniformément sur $[a, 1]$ ($a \in]0, 1[$)
- $(f_n)_{n \geq 0}$ converge uniformément sur $[0, a]$ ($a \in]0, 1[$)



<input type="checkbox"/>	<input type="checkbox"/>	<input type="checkbox"/>	<input type="checkbox"/>	<input type="checkbox"/>	<input type="checkbox"/>	<input type="checkbox"/>	<input type="checkbox"/>	<input type="checkbox"/>
<input type="checkbox"/>	<input type="checkbox"/>	<input type="checkbox"/>	<input type="checkbox"/>	<input type="checkbox"/>	<input type="checkbox"/>	<input type="checkbox"/>	<input type="checkbox"/>	<input type="checkbox"/>
<input type="checkbox"/>	<input type="checkbox"/>	<input type="checkbox"/>	<input type="checkbox"/>	<input type="checkbox"/>	<input type="checkbox"/>	<input type="checkbox"/>	<input type="checkbox"/>	<input type="checkbox"/>
<input type="checkbox"/>	<input type="checkbox"/>	<input type="checkbox"/>	<input type="checkbox"/>	<input type="checkbox"/>	<input type="checkbox"/>	<input type="checkbox"/>	<input type="checkbox"/>	<input type="checkbox"/>
<input type="checkbox"/>	<input type="checkbox"/>	<input type="checkbox"/>	<input type="checkbox"/>	<input type="checkbox"/>	<input type="checkbox"/>	<input type="checkbox"/>	<input type="checkbox"/>	<input type="checkbox"/>
<input type="checkbox"/>	<input type="checkbox"/>	<input type="checkbox"/>	<input type="checkbox"/>	<input type="checkbox"/>	<input type="checkbox"/>	<input type="checkbox"/>	<input type="checkbox"/>	<input type="checkbox"/>
<input type="checkbox"/>	<input type="checkbox"/>	<input type="checkbox"/>	<input type="checkbox"/>	<input type="checkbox"/>	<input type="checkbox"/>	<input type="checkbox"/>	<input type="checkbox"/>	<input type="checkbox"/>
<input type="checkbox"/>	<input type="checkbox"/>	<input type="checkbox"/>	<input type="checkbox"/>	<input type="checkbox"/>	<input type="checkbox"/>	<input type="checkbox"/>	<input type="checkbox"/>	<input type="checkbox"/>
<input type="checkbox"/>	<input type="checkbox"/>	<input type="checkbox"/>	<input type="checkbox"/>	<input type="checkbox"/>	<input type="checkbox"/>	<input type="checkbox"/>	<input type="checkbox"/>	<input type="checkbox"/>
<input type="checkbox"/>	<input type="checkbox"/>	<input type="checkbox"/>	<input type="checkbox"/>	<input type="checkbox"/>	<input type="checkbox"/>	<input type="checkbox"/>	<input type="checkbox"/>	<input type="checkbox"/>

QCM3L Suites de Fonctions Préing2

← codez votre numéro d'étudiant ci-contre, et inscrivez votre nom et prénom ci-dessous (le NOM d'abord!).

Nom et prénom :
.....
.....

Les cases doivent être complètement noircies avec un stylo NOIR.

Question 1 ♣

Soit $(f_n)_{n \geq 0}$ une suite de fonctions définies par $f_n(x) = x^n \ln(x)$ pour $x \in]0, 1]$ et $f_n(0) = 0$. Alors

- $(f_n)_{n \geq 0}$ converge uniformément sur $[0, a]$ ($a \in]0, 1[$)
- $(f_n)_{n \geq 0}$ converge uniformément sur $[a, 1]$ ($a \in]0, 1[$)
- $(f_n)_{n \geq 0}$ converge uniformément sur $[0, 1]$

Question 2 ♣

Soit $(f_n)_{n \geq 0}$ une suite de fonctions définies sur un intervalle $I \subset \mathbb{R}$ à valeur dans \mathbb{R} . Quelles les conditions nécessaires pour appliquer le théorème d'interversion limites-dérivations?

- $\exists x_0 \in I$, tel que la suite numérique $(f_n(x_0))_{n \geq 0}$ converge.
- Pour tout $n \in \mathbb{N}$, les fonctions f_n sont de classe C^1 sur I .
- La suite de fonctions (f'_n) converge uniformément sur I vers une fonction g .
- $\forall x_0 \in I$, la suite $(f_n(x_0))_{n \geq 0}$ converge.
- La suite de fonctions (f_n) converge uniformément sur I vers une fonction f continue.

Question 3 ♣

On définit la suite de fonctions $f_n(x) = \frac{e^{-nx}}{1+x}$. Alors, la suite $(f_n)_{n \geq 0}$

- converge uniformément sur $[1, +\infty[$ et la fonction limite est continue
- converge uniformément sur $[0, +\infty[$
- converge uniformément sur $[0, 1]$ et la fonction limite est continue

Question 4 ♣

Choisir les suites de fonctions $(f_n)_{n \geq 0}$ qui convergent uniformément vers leur limite simple:

- | | |
|--|---|
| <input type="checkbox"/> $f_n(x) = \frac{e^{-x}}{n}$ sur $] - \infty, 0]$ | <input type="checkbox"/> $f_n(x) = nxe^{-nx}$ sur $[0; +\infty[$ |
| <input type="checkbox"/> $f_n(x) = nxe^{-nx}$ sur $[a; +\infty[$ avec $a \in]0; 1[$ | <input type="checkbox"/> $f_n(x) = \frac{e^{-x}}{n}$ sur $]0; +\infty[$ |
| <input type="checkbox"/> $f_n(x) = nxe^{-nx}$ sur $[0; 1[$ | <input type="checkbox"/> $f_n(x) = nxe^{-nx}$ sur $[1; 2]$ |



<input type="checkbox"/> 0	<input type="checkbox"/> 0	<input type="checkbox"/> 0	<input type="checkbox"/> 0	<input type="checkbox"/> 0	<input type="checkbox"/> 0	<input type="checkbox"/> 0	<input type="checkbox"/> 0	<input type="checkbox"/> 0
<input type="checkbox"/> 1	<input type="checkbox"/> 1	<input type="checkbox"/> 1	<input type="checkbox"/> 1	<input type="checkbox"/> 1	<input type="checkbox"/> 1	<input type="checkbox"/> 1	<input type="checkbox"/> 1	<input type="checkbox"/> 1
<input type="checkbox"/> 2	<input type="checkbox"/> 2	<input type="checkbox"/> 2	<input type="checkbox"/> 2	<input type="checkbox"/> 2	<input type="checkbox"/> 2	<input type="checkbox"/> 2	<input type="checkbox"/> 2	<input type="checkbox"/> 2
<input type="checkbox"/> 3	<input type="checkbox"/> 3	<input type="checkbox"/> 3	<input type="checkbox"/> 3	<input type="checkbox"/> 3	<input type="checkbox"/> 3	<input type="checkbox"/> 3	<input type="checkbox"/> 3	<input type="checkbox"/> 3
<input type="checkbox"/> 4	<input type="checkbox"/> 4	<input type="checkbox"/> 4	<input type="checkbox"/> 4	<input type="checkbox"/> 4	<input type="checkbox"/> 4	<input type="checkbox"/> 4	<input type="checkbox"/> 4	<input type="checkbox"/> 4
<input type="checkbox"/> 5	<input type="checkbox"/> 5	<input type="checkbox"/> 5	<input type="checkbox"/> 5	<input type="checkbox"/> 5	<input type="checkbox"/> 5	<input type="checkbox"/> 5	<input type="checkbox"/> 5	<input type="checkbox"/> 5
<input type="checkbox"/> 6	<input type="checkbox"/> 6	<input type="checkbox"/> 6	<input type="checkbox"/> 6	<input type="checkbox"/> 6	<input type="checkbox"/> 6	<input type="checkbox"/> 6	<input type="checkbox"/> 6	<input type="checkbox"/> 6
<input type="checkbox"/> 7	<input type="checkbox"/> 7	<input type="checkbox"/> 7	<input type="checkbox"/> 7	<input type="checkbox"/> 7	<input type="checkbox"/> 7	<input type="checkbox"/> 7	<input type="checkbox"/> 7	<input type="checkbox"/> 7
<input type="checkbox"/> 8	<input type="checkbox"/> 8	<input type="checkbox"/> 8	<input type="checkbox"/> 8	<input type="checkbox"/> 8	<input type="checkbox"/> 8	<input type="checkbox"/> 8	<input type="checkbox"/> 8	<input type="checkbox"/> 8
<input type="checkbox"/> 9	<input type="checkbox"/> 9	<input type="checkbox"/> 9	<input type="checkbox"/> 9	<input type="checkbox"/> 9	<input type="checkbox"/> 9	<input type="checkbox"/> 9	<input type="checkbox"/> 9	<input type="checkbox"/> 9

QCM3L Suites de Fonctions Préing2

← codez votre numéro d'étudiant ci-contre, et inscrivez votre nom et prénom ci-dessous (le NOM d'abord!).

Nom et prénom :
.....
.....

Les cases doivent être complètement noircies avec un stylo NOIR.

Question 1 ♣

Choisir les suites de fonctions $(f_n)_{n \geq 0}$ qui convergent uniformément vers leur limite simple:

- | | |
|--|--|
| <input type="checkbox"/> $f_n(x) = nxe^{-nx}$ sur $[a; +\infty[$ avec $a \in]0; 1[$ | <input type="checkbox"/> $f_n(x) = \frac{e^{-x}}{n}$ sur $] -\infty, 0]$ |
| <input type="checkbox"/> $f_n(x) = nxe^{-nx}$ sur $[1; 2]$ | <input type="checkbox"/> $f_n(x) = nxe^{-nx}$ sur $[0; +\infty[$ |
| <input type="checkbox"/> $f_n(x) = nxe^{-nx}$ sur $[0; 1[$ | <input type="checkbox"/> $f_n(x) = \frac{e^{-x}}{n}$ sur $]0; +\infty[$ |

Question 2 ♣

Soit $(f_n)_{n \geq 0}$ une suite de fonctions définies sur un intervalle $I \subset \mathbb{R}$ à valeur dans \mathbb{R} . Quelles les conditions nécessaires pour appliquer le théorème d'interversion limites-dérivations?

- $\exists x_0 \in I$, tel que la suite numérique $(f_n(x_0))_{n \geq 0}$ converge.
- La suite de fonctions (f'_n) converge uniformément sur I vers une fonction g .
- La suite de fonctions (f_n) converge uniformément sur I vers une fonction f continue.
- Pour tout $n \in \mathbb{N}$, les fonctions f_n sont de classe C^1 sur I.
- $\forall x_0 \in I$, la suite $(f_n(x_0))_{n \geq 0}$ converge.

Question 3 ♣

Soit $(f_n)_{n \geq 0}$ une suite de fonctions définies par $f_n(x) = x^n \ln(x)$ pour $x \in]0, 1]$ et $f_n(0) = 0$. Alors

- $(f_n)_{n \geq 0}$ converge uniformément sur $[0, 1]$
- $(f_n)_{n \geq 0}$ converge uniformément sur $[0, a]$ ($a \in]0, 1[$)
- $(f_n)_{n \geq 0}$ converge uniformément sur $[a, 1]$ ($a \in]0, 1[$)

Question 4 ♣

On définit la suite de fonctions $f_n(x) = \frac{e^{-nx}}{1+x}$. Alors, la suite $(f_n)_{n \geq 0}$

- converge uniformément sur $[0, 1]$ et la fonction limite est continue
- converge uniformément sur $[0, +\infty[$
- converge uniformément sur $[1, +\infty[$ et la fonction limite est continue



<input type="checkbox"/>	0	<input type="checkbox"/>	0	<input type="checkbox"/>	0	<input type="checkbox"/>	0	<input type="checkbox"/>	0	<input type="checkbox"/>	0	<input type="checkbox"/>	0	<input type="checkbox"/>	0	<input type="checkbox"/>	0
<input type="checkbox"/>	1	<input type="checkbox"/>	1	<input type="checkbox"/>	1	<input type="checkbox"/>	1	<input type="checkbox"/>	1	<input type="checkbox"/>	1	<input type="checkbox"/>	1	<input type="checkbox"/>	1	<input type="checkbox"/>	1
<input type="checkbox"/>	2	<input type="checkbox"/>	2	<input type="checkbox"/>	2	<input type="checkbox"/>	2	<input type="checkbox"/>	2	<input type="checkbox"/>	2	<input type="checkbox"/>	2	<input type="checkbox"/>	2	<input type="checkbox"/>	2
<input type="checkbox"/>	3	<input type="checkbox"/>	3	<input type="checkbox"/>	3	<input type="checkbox"/>	3	<input type="checkbox"/>	3	<input type="checkbox"/>	3	<input type="checkbox"/>	3	<input type="checkbox"/>	3	<input type="checkbox"/>	3
<input type="checkbox"/>	4	<input type="checkbox"/>	4	<input type="checkbox"/>	4	<input type="checkbox"/>	4	<input type="checkbox"/>	4	<input type="checkbox"/>	4	<input type="checkbox"/>	4	<input type="checkbox"/>	4	<input type="checkbox"/>	4
<input type="checkbox"/>	5	<input type="checkbox"/>	5	<input type="checkbox"/>	5	<input type="checkbox"/>	5	<input type="checkbox"/>	5	<input type="checkbox"/>	5	<input type="checkbox"/>	5	<input type="checkbox"/>	5	<input type="checkbox"/>	5
<input type="checkbox"/>	6	<input type="checkbox"/>	6	<input type="checkbox"/>	6	<input type="checkbox"/>	6	<input type="checkbox"/>	6	<input type="checkbox"/>	6	<input type="checkbox"/>	6	<input type="checkbox"/>	6	<input type="checkbox"/>	6
<input type="checkbox"/>	7	<input type="checkbox"/>	7	<input type="checkbox"/>	7	<input type="checkbox"/>	7	<input type="checkbox"/>	7	<input type="checkbox"/>	7	<input type="checkbox"/>	7	<input type="checkbox"/>	7	<input type="checkbox"/>	7
<input type="checkbox"/>	8	<input type="checkbox"/>	8	<input type="checkbox"/>	8	<input type="checkbox"/>	8	<input type="checkbox"/>	8	<input type="checkbox"/>	8	<input type="checkbox"/>	8	<input type="checkbox"/>	8	<input type="checkbox"/>	8
<input type="checkbox"/>	9	<input type="checkbox"/>	9	<input type="checkbox"/>	9	<input type="checkbox"/>	9	<input type="checkbox"/>	9	<input type="checkbox"/>	9	<input type="checkbox"/>	9	<input type="checkbox"/>	9	<input type="checkbox"/>	9

QCM3L Suites de Fonctions Préing2

← codez votre numéro d'étudiant ci-contre, et inscrivez votre nom et prénom ci-dessous (le NOM d'abord!).

Nom et prénom :

.....

.....

Les cases doivent être complètement noircies avec un stylo NOIR.

Question 1 ♣

Choisir les suites de fonctions $(f_n)_{n \geq 0}$ qui convergent uniformément vers leur limite simple:

- | | |
|---|--|
| <input type="checkbox"/> $f_n(x) = nxe^{-nx}$ sur $[1; 2]$ | <input type="checkbox"/> $f_n(x) = \frac{e^{-x}}{n}$ sur $] - \infty, 0]$ |
| <input type="checkbox"/> $f_n(x) = nxe^{-nx}$ sur $[0; +\infty[$ | <input type="checkbox"/> $f_n(x) = nxe^{-nx}$ sur $[a; +\infty[$ avec $a \in]0; 1[$ |
| <input type="checkbox"/> $f_n(x) = \frac{e^{-x}}{n}$ sur $]0; +\infty[$ | <input type="checkbox"/> $f_n(x) = nxe^{-nx}$ sur $[0; 1[$ |

Question 2 ♣

Soit $(f_n)_{n \geq 0}$ une suite de fonctions définies par $f_n(x) = x^n \ln(x)$ pour $x \in]0, 1]$ et $f_n(0) = 0$. Alors

- $(f_n)_{n \geq 0}$ converge uniformément sur $[a, 1]$ ($a \in]0, 1[$)
- $(f_n)_{n \geq 0}$ converge uniformément sur $[0, 1]$
- $(f_n)_{n \geq 0}$ converge uniformément sur $[0, a]$ ($a \in]0, 1[$)

Question 3 ♣

Soit $(f_n)_{n \geq 0}$ une suite de fonctions définies sur un intervalle $I \subset \mathbb{R}$ à valeur dans \mathbb{R} . Quelles les conditions nécessaires pour appliquer le théorème d'interversion limites-dérivations?

- $\forall x_0 \in I$, la suite $(f_n(x_0))_{n \geq 0}$ converge.
- $\exists x_0 \in I$, tel que la suite numérique $(f_n(x_0))_{n \geq 0}$ converge.
- La suite de fonctions (f'_n) converge uniformément sur I vers une fonction g .
- Pour tout $n \in \mathbb{N}$, les fonctions f_n sont de classe C^1 sur I.
- La suite de fonctions (f_n) converge uniformément sur I vers une fonction f continue.

Question 4 ♣

On définit la suite de fonctions $f_n(x) = \frac{e^{-nx}}{1+x}$. Alors, la suite $(f_n)_{n \geq 0}$

- converge uniformément sur $[0, +\infty[$
- converge uniformément sur $[0, 1]$ et la fonction limite est continue
- converge uniformément sur $[1, +\infty[$ et la fonction limite est continue



<input type="checkbox"/>	0	<input type="checkbox"/>	0	<input type="checkbox"/>	0	<input type="checkbox"/>	0	<input type="checkbox"/>	0	<input type="checkbox"/>	0	<input type="checkbox"/>	0	<input type="checkbox"/>	0	<input type="checkbox"/>	0
<input type="checkbox"/>	1	<input type="checkbox"/>	1	<input type="checkbox"/>	1	<input type="checkbox"/>	1	<input type="checkbox"/>	1	<input type="checkbox"/>	1	<input type="checkbox"/>	1	<input type="checkbox"/>	1	<input type="checkbox"/>	1
<input type="checkbox"/>	2	<input type="checkbox"/>	2	<input type="checkbox"/>	2	<input type="checkbox"/>	2	<input type="checkbox"/>	2	<input type="checkbox"/>	2	<input type="checkbox"/>	2	<input type="checkbox"/>	2	<input type="checkbox"/>	2
<input type="checkbox"/>	3	<input type="checkbox"/>	3	<input type="checkbox"/>	3	<input type="checkbox"/>	3	<input type="checkbox"/>	3	<input type="checkbox"/>	3	<input type="checkbox"/>	3	<input type="checkbox"/>	3	<input type="checkbox"/>	3
<input type="checkbox"/>	4	<input type="checkbox"/>	4	<input type="checkbox"/>	4	<input type="checkbox"/>	4	<input type="checkbox"/>	4	<input type="checkbox"/>	4	<input type="checkbox"/>	4	<input type="checkbox"/>	4	<input type="checkbox"/>	4
<input type="checkbox"/>	5	<input type="checkbox"/>	5	<input type="checkbox"/>	5	<input type="checkbox"/>	5	<input type="checkbox"/>	5	<input type="checkbox"/>	5	<input type="checkbox"/>	5	<input type="checkbox"/>	5	<input type="checkbox"/>	5
<input type="checkbox"/>	6	<input type="checkbox"/>	6	<input type="checkbox"/>	6	<input type="checkbox"/>	6	<input type="checkbox"/>	6	<input type="checkbox"/>	6	<input type="checkbox"/>	6	<input type="checkbox"/>	6	<input type="checkbox"/>	6
<input type="checkbox"/>	7	<input type="checkbox"/>	7	<input type="checkbox"/>	7	<input type="checkbox"/>	7	<input type="checkbox"/>	7	<input type="checkbox"/>	7	<input type="checkbox"/>	7	<input type="checkbox"/>	7	<input type="checkbox"/>	7
<input type="checkbox"/>	8	<input type="checkbox"/>	8	<input type="checkbox"/>	8	<input type="checkbox"/>	8	<input type="checkbox"/>	8	<input type="checkbox"/>	8	<input type="checkbox"/>	8	<input type="checkbox"/>	8	<input type="checkbox"/>	8
<input type="checkbox"/>	9	<input type="checkbox"/>	9	<input type="checkbox"/>	9	<input type="checkbox"/>	9	<input type="checkbox"/>	9	<input type="checkbox"/>	9	<input type="checkbox"/>	9	<input type="checkbox"/>	9	<input type="checkbox"/>	9

QCM3L Suites de Fonctions Préing2

← codez votre numéro d'étudiant ci-contre, et inscrivez votre nom et prénom ci-dessous (le NOM d'abord!).

Nom et prénom :

.....

.....

Les cases doivent être complètement noircies avec un stylo NOIR.

Question 1 ♣

Choisir les suites de fonctions $(f_n)_{n \geq 0}$ qui convergent uniformément vers leur limite simple:

- | | |
|---|--|
| <input type="checkbox"/> $f_n(x) = nxe^{-nx}$ sur $[1; 2]$ | <input type="checkbox"/> $f_n(x) = \frac{e^{-x}}{n}$ sur $] - \infty, 0]$ |
| <input type="checkbox"/> $f_n(x) = nxe^{-nx}$ sur $[0; 1[$ | <input type="checkbox"/> $f_n(x) = nxe^{-nx}$ sur $[a; +\infty[$ avec $a \in]0; 1[$ |
| <input type="checkbox"/> $f_n(x) = \frac{e^{-x}}{n}$ sur $]0; +\infty[$ | <input type="checkbox"/> $f_n(x) = nxe^{-nx}$ sur $[0; +\infty[$ |

Question 2 ♣

On définit la suite de fonctions $f_n(x) = \frac{e^{-nx}}{1+x}$. Alors, la suite $(f_n)_{n \geq 0}$

- converge uniformément sur $[1, +\infty[$ et la fonction limite est continue
- converge uniformément sur $[0, +\infty[$
- converge uniformément sur $[0, 1]$ et la fonction limite est continue

Question 3 ♣

Soit $(f_n)_{n \geq 0}$ une suite de fonctions définies par $f_n(x) = x^n \ln(x)$ pour $x \in]0, 1]$ et $f_n(0) = 0$. Alors

- $(f_n)_{n \geq 0}$ converge uniformément sur $[0, 1]$
- $(f_n)_{n \geq 0}$ converge uniformément sur $[a, 1]$ ($a \in]0, 1[$)
- $(f_n)_{n \geq 0}$ converge uniformément sur $[0, a]$ ($a \in]0, 1[$)

Question 4 ♣

Soit $(f_n)_{n \geq 0}$ une suite de fonctions définies sur un intervalle $I \subset \mathbb{R}$ à valeur dans \mathbb{R} . Quelles les conditions nécessaires pour appliquer le théorème d'interversion limites-dérivations?

- $\exists x_0 \in I$, tel que la suite numérique $(f_n(x_0))_{n \geq 0}$ converge.
- La suite de fonctions (f'_n) converge uniformément sur I vers une fonction g .
- $\forall x_0 \in I$, la suite $(f_n(x_0))_{n \geq 0}$ converge.
- La suite de fonctions (f_n) converge uniformément sur I vers une fonction f continue.
- Pour tout $n \in \mathbb{N}$, les fonctions f_n sont de classe C^1 sur I.



<input type="checkbox"/>	0	<input type="checkbox"/>	0	<input type="checkbox"/>	0	<input type="checkbox"/>	0	<input type="checkbox"/>	0	<input type="checkbox"/>	0	<input type="checkbox"/>	0	<input type="checkbox"/>	0	<input type="checkbox"/>	0
<input type="checkbox"/>	1	<input type="checkbox"/>	1	<input type="checkbox"/>	1	<input type="checkbox"/>	1	<input type="checkbox"/>	1	<input type="checkbox"/>	1	<input type="checkbox"/>	1	<input type="checkbox"/>	1	<input type="checkbox"/>	1
<input type="checkbox"/>	2	<input type="checkbox"/>	2	<input type="checkbox"/>	2	<input type="checkbox"/>	2	<input type="checkbox"/>	2	<input type="checkbox"/>	2	<input type="checkbox"/>	2	<input type="checkbox"/>	2	<input type="checkbox"/>	2
<input type="checkbox"/>	3	<input type="checkbox"/>	3	<input type="checkbox"/>	3	<input type="checkbox"/>	3	<input type="checkbox"/>	3	<input type="checkbox"/>	3	<input type="checkbox"/>	3	<input type="checkbox"/>	3	<input type="checkbox"/>	3
<input type="checkbox"/>	4	<input type="checkbox"/>	4	<input type="checkbox"/>	4	<input type="checkbox"/>	4	<input type="checkbox"/>	4	<input type="checkbox"/>	4	<input type="checkbox"/>	4	<input type="checkbox"/>	4	<input type="checkbox"/>	4
<input type="checkbox"/>	5	<input type="checkbox"/>	5	<input type="checkbox"/>	5	<input type="checkbox"/>	5	<input type="checkbox"/>	5	<input type="checkbox"/>	5	<input type="checkbox"/>	5	<input type="checkbox"/>	5	<input type="checkbox"/>	5
<input type="checkbox"/>	6	<input type="checkbox"/>	6	<input type="checkbox"/>	6	<input type="checkbox"/>	6	<input type="checkbox"/>	6	<input type="checkbox"/>	6	<input type="checkbox"/>	6	<input type="checkbox"/>	6	<input type="checkbox"/>	6
<input type="checkbox"/>	7	<input type="checkbox"/>	7	<input type="checkbox"/>	7	<input type="checkbox"/>	7	<input type="checkbox"/>	7	<input type="checkbox"/>	7	<input type="checkbox"/>	7	<input type="checkbox"/>	7	<input type="checkbox"/>	7
<input type="checkbox"/>	8	<input type="checkbox"/>	8	<input type="checkbox"/>	8	<input type="checkbox"/>	8	<input type="checkbox"/>	8	<input type="checkbox"/>	8	<input type="checkbox"/>	8	<input type="checkbox"/>	8	<input type="checkbox"/>	8
<input type="checkbox"/>	9	<input type="checkbox"/>	9	<input type="checkbox"/>	9	<input type="checkbox"/>	9	<input type="checkbox"/>	9	<input type="checkbox"/>	9	<input type="checkbox"/>	9	<input type="checkbox"/>	9	<input type="checkbox"/>	9

QCM3L Suites de Fonctions Préing2

← codez votre numéro d'étudiant ci-contre, et inscrivez votre nom et prénom ci-dessous (le NOM d'abord!).

Nom et prénom :

.....

.....

Les cases doivent être complètement noircies avec un stylo NOIR.

Question 1 ♣

Soit $(f_n)_{n \geq 0}$ une suite de fonctions définies sur un intervalle $I \subset \mathbb{R}$ à valeur dans \mathbb{R} . Quelles les conditions nécessaires pour appliquer le théorème d'interversion limites-dérivations?

- La suite de fonctions (f'_n) converge uniformément sur I vers une fonction g .
- $\exists x_0 \in I$, tel que la suite numérique $(f_n(x_0))_{n \geq 0}$ converge.
- $\forall x_0 \in I$, la suite $(f_n(x_0))_{n \geq 0}$ converge.
- Pour tout $n \in \mathbb{N}$, les fonctions f_n sont de classe C^1 sur I.
- La suite de fonctions (f_n) converge uniformément sur I vers une fonction f continue.

Question 2 ♣

Choisir les suites de fonctions $(f_n)_{n \geq 0}$ qui convergent uniformément vers leur limite simple:

- | | |
|---|--|
| <input type="checkbox"/> $f_n(x) = nxe^{-nx}$ sur $[0; +\infty[$ | <input type="checkbox"/> $f_n(x) = nxe^{-nx}$ sur $[1; 2]$ |
| <input type="checkbox"/> $f_n(x) = \frac{e^{-x}}{n}$ sur $] - \infty, 0]$ | <input type="checkbox"/> $f_n(x) = nxe^{-nx}$ sur $[0; 1[$ |
| <input type="checkbox"/> $f_n(x) = \frac{e^{-x}}{n}$ sur $]0; +\infty[$ | <input type="checkbox"/> $f_n(x) = nxe^{-nx}$ sur $[a; +\infty[$ avec $a \in]0; 1[$ |

Question 3 ♣

On définit la suite de fonctions $f_n(x) = \frac{e^{-nx}}{1+x}$. Alors, la suite $(f_n)_{n \geq 0}$

- converge uniformément sur $[0, +\infty[$
- converge uniformément sur $[1, +\infty[$ et la fonction limite est continue
- converge uniformément sur $[0, 1]$ et la fonction limite est continue

Question 4 ♣

Soit $(f_n)_{n \geq 0}$ une suite de fonctions définies par $f_n(x) = x^n \ln(x)$ pour $x \in]0, 1]$ et $f_n(0) = 0$. Alors

- $(f_n)_{n \geq 0}$ converge uniformément sur $[a, 1]$ ($a \in]0, 1[$)
- $(f_n)_{n \geq 0}$ converge uniformément sur $[0, 1]$
- $(f_n)_{n \geq 0}$ converge uniformément sur $[0, a]$ ($a \in]0, 1[$)



<input type="checkbox"/>	0	<input type="checkbox"/>	0	<input type="checkbox"/>	0	<input type="checkbox"/>	0	<input type="checkbox"/>	0	<input type="checkbox"/>	0	<input type="checkbox"/>	0	<input type="checkbox"/>	0	<input type="checkbox"/>	0
<input type="checkbox"/>	1	<input type="checkbox"/>	1	<input type="checkbox"/>	1	<input type="checkbox"/>	1	<input type="checkbox"/>	1	<input type="checkbox"/>	1	<input type="checkbox"/>	1	<input type="checkbox"/>	1	<input type="checkbox"/>	1
<input type="checkbox"/>	2	<input type="checkbox"/>	2	<input type="checkbox"/>	2	<input type="checkbox"/>	2	<input type="checkbox"/>	2	<input type="checkbox"/>	2	<input type="checkbox"/>	2	<input type="checkbox"/>	2	<input type="checkbox"/>	2
<input type="checkbox"/>	3	<input type="checkbox"/>	3	<input type="checkbox"/>	3	<input type="checkbox"/>	3	<input type="checkbox"/>	3	<input type="checkbox"/>	3	<input type="checkbox"/>	3	<input type="checkbox"/>	3	<input type="checkbox"/>	3
<input type="checkbox"/>	4	<input type="checkbox"/>	4	<input type="checkbox"/>	4	<input type="checkbox"/>	4	<input type="checkbox"/>	4	<input type="checkbox"/>	4	<input type="checkbox"/>	4	<input type="checkbox"/>	4	<input type="checkbox"/>	4
<input type="checkbox"/>	5	<input type="checkbox"/>	5	<input type="checkbox"/>	5	<input type="checkbox"/>	5	<input type="checkbox"/>	5	<input type="checkbox"/>	5	<input type="checkbox"/>	5	<input type="checkbox"/>	5	<input type="checkbox"/>	5
<input type="checkbox"/>	6	<input type="checkbox"/>	6	<input type="checkbox"/>	6	<input type="checkbox"/>	6	<input type="checkbox"/>	6	<input type="checkbox"/>	6	<input type="checkbox"/>	6	<input type="checkbox"/>	6	<input type="checkbox"/>	6
<input type="checkbox"/>	7	<input type="checkbox"/>	7	<input type="checkbox"/>	7	<input type="checkbox"/>	7	<input type="checkbox"/>	7	<input type="checkbox"/>	7	<input type="checkbox"/>	7	<input type="checkbox"/>	7	<input type="checkbox"/>	7
<input type="checkbox"/>	8	<input type="checkbox"/>	8	<input type="checkbox"/>	8	<input type="checkbox"/>	8	<input type="checkbox"/>	8	<input type="checkbox"/>	8	<input type="checkbox"/>	8	<input type="checkbox"/>	8	<input type="checkbox"/>	8
<input type="checkbox"/>	9	<input type="checkbox"/>	9	<input type="checkbox"/>	9	<input type="checkbox"/>	9	<input type="checkbox"/>	9	<input type="checkbox"/>	9	<input type="checkbox"/>	9	<input type="checkbox"/>	9	<input type="checkbox"/>	9

QCM3L Suites de Fonctions Préing2

← codez votre numéro d'étudiant ci-contre, et inscrivez votre nom et prénom ci-dessous (le NOM d'abord!).

Nom et prénom :

.....

.....

Les cases doivent être complètement noircies avec un stylo NOIR.

Question 1 ♣

Soit $(f_n)_{n \geq 0}$ une suite de fonctions définies sur un intervalle $I \subset \mathbb{R}$ à valeur dans \mathbb{R} . Quelles les conditions nécessaires pour appliquer le théorème d'inversion limites-dérivations?

- Pour tout $n \in \mathbb{N}$, les fonctions f_n sont de classe C^1 sur I .
- La suite de fonctions (f_n) converge uniformément sur I vers une fonction f continue.
- $\exists x_0 \in I$, tel que la suite numérique $(f_n(x_0))_{n \geq 0}$ converge.
- La suite de fonctions (f'_n) converge uniformément sur I vers une fonction g .
- $\forall x_0 \in I$, la suite $(f_n(x_0))_{n \geq 0}$ converge.

Question 2 ♣

Choisir les suites de fonctions $(f_n)_{n \geq 0}$ qui convergent uniformément vers leur limite simple:

- | | |
|--|--|
| <input type="checkbox"/> $f_n(x) = \frac{e^{-x}}{n}$ sur $] -\infty, 0]$ | <input type="checkbox"/> $f_n(x) = nxe^{-nx}$ sur $[1; 2]$ |
| <input type="checkbox"/> $f_n(x) = nxe^{-nx}$ sur $[a; +\infty[$ avec $a \in]0; 1[$ | <input type="checkbox"/> $f_n(x) = nxe^{-nx}$ sur $[0; 1[$ |
| <input type="checkbox"/> $f_n(x) = \frac{e^{-x}}{n}$ sur $]0; +\infty[$ | <input type="checkbox"/> $f_n(x) = nxe^{-nx}$ sur $[0; +\infty[$ |

Question 3 ♣

Soit $(f_n)_{n \geq 0}$ une suite de fonctions définies par $f_n(x) = x^n \ln(x)$ pour $x \in]0, 1]$ et $f_n(0) = 0$. Alors

- $(f_n)_{n \geq 0}$ converge uniformément sur $[0, 1]$
- $(f_n)_{n \geq 0}$ converge uniformément sur $[0, a]$ ($a \in]0, 1[$)
- $(f_n)_{n \geq 0}$ converge uniformément sur $[a, 1]$ ($a \in]0, 1[$)

Question 4 ♣

On définit la suite de fonctions $f_n(x) = \frac{e^{-nx}}{1+x}$. Alors, la suite $(f_n)_{n \geq 0}$

- converge uniformément sur $[0, +\infty[$
- converge uniformément sur $[0, 1]$ et la fonction limite est continue
- converge uniformément sur $[1, +\infty[$ et la fonction limite est continue



<input type="checkbox"/> 0	<input type="checkbox"/> 0	<input type="checkbox"/> 0	<input type="checkbox"/> 0	<input type="checkbox"/> 0	<input type="checkbox"/> 0	<input type="checkbox"/> 0	<input type="checkbox"/> 0
<input type="checkbox"/> 1	<input type="checkbox"/> 1	<input type="checkbox"/> 1	<input type="checkbox"/> 1	<input type="checkbox"/> 1	<input type="checkbox"/> 1	<input type="checkbox"/> 1	<input type="checkbox"/> 1
<input type="checkbox"/> 2	<input type="checkbox"/> 2	<input type="checkbox"/> 2	<input type="checkbox"/> 2	<input type="checkbox"/> 2	<input type="checkbox"/> 2	<input type="checkbox"/> 2	<input type="checkbox"/> 2
<input type="checkbox"/> 3	<input type="checkbox"/> 3	<input type="checkbox"/> 3	<input type="checkbox"/> 3	<input type="checkbox"/> 3	<input type="checkbox"/> 3	<input type="checkbox"/> 3	<input type="checkbox"/> 3
<input type="checkbox"/> 4	<input type="checkbox"/> 4	<input type="checkbox"/> 4	<input type="checkbox"/> 4	<input type="checkbox"/> 4	<input type="checkbox"/> 4	<input type="checkbox"/> 4	<input type="checkbox"/> 4
<input type="checkbox"/> 5	<input type="checkbox"/> 5	<input type="checkbox"/> 5	<input type="checkbox"/> 5	<input type="checkbox"/> 5	<input type="checkbox"/> 5	<input type="checkbox"/> 5	<input type="checkbox"/> 5
<input type="checkbox"/> 6	<input type="checkbox"/> 6	<input type="checkbox"/> 6	<input type="checkbox"/> 6	<input type="checkbox"/> 6	<input type="checkbox"/> 6	<input type="checkbox"/> 6	<input type="checkbox"/> 6
<input type="checkbox"/> 7	<input type="checkbox"/> 7	<input type="checkbox"/> 7	<input type="checkbox"/> 7	<input type="checkbox"/> 7	<input type="checkbox"/> 7	<input type="checkbox"/> 7	<input type="checkbox"/> 7
<input type="checkbox"/> 8	<input type="checkbox"/> 8	<input type="checkbox"/> 8	<input type="checkbox"/> 8	<input type="checkbox"/> 8	<input type="checkbox"/> 8	<input type="checkbox"/> 8	<input type="checkbox"/> 8
<input type="checkbox"/> 9	<input type="checkbox"/> 9	<input type="checkbox"/> 9	<input type="checkbox"/> 9	<input type="checkbox"/> 9	<input type="checkbox"/> 9	<input type="checkbox"/> 9	<input type="checkbox"/> 9

QCM3L Suites de Fonctions Préing2

← codez votre numéro d'étudiant ci-contre, et inscrivez votre nom et prénom ci-dessous (le NOM d'abord!).

Nom et prénom :

.....

.....

Les cases doivent être complètement noircies avec un stylo NOIR.

Question 1 ♣

Choisir les suites de fonctions $(f_n)_{n \geq 0}$ qui convergent uniformément vers leur limite simple:

- | | |
|---|--|
| <input type="checkbox"/> $f_n(x) = nxe^{-nx}$ sur $[1; 2]$ | <input type="checkbox"/> $f_n(x) = nxe^{-nx}$ sur $[a; +\infty[$ avec $a \in]0; 1[$ |
| <input type="checkbox"/> $f_n(x) = \frac{e^{-x}}{n}$ sur $] - \infty, 0]$ | <input type="checkbox"/> $f_n(x) = nxe^{-nx}$ sur $[0; +\infty[$ |
| <input type="checkbox"/> $f_n(x) = nxe^{-nx}$ sur $[0; 1[$ | <input type="checkbox"/> $f_n(x) = \frac{e^{-x}}{n}$ sur $]0; +\infty[$ |

Question 2 ♣

Soit $(f_n)_{n \geq 0}$ une suite de fonctions définies par $f_n(x) = x^n \ln(x)$ pour $x \in]0, 1]$ et $f_n(0) = 0$. Alors

- $(f_n)_{n \geq 0}$ converge uniformément sur $[0, a]$ ($a \in]0, 1[$)
- $(f_n)_{n \geq 0}$ converge uniformément sur $[a, 1]$ ($a \in]0, 1[$)
- $(f_n)_{n \geq 0}$ converge uniformément sur $[0, 1]$

Question 3 ♣

On définit la suite de fonctions $f_n(x) = \frac{e^{-nx}}{1+x}$. Alors, la suite $(f_n)_{n \geq 0}$

- converge uniformément sur $[0, 1]$ et la fonction limite est continue
- converge uniformément sur $[1, +\infty[$ et la fonction limite est continue
- converge uniformément sur $[0, +\infty[$

Question 4 ♣

Soit $(f_n)_{n \geq 0}$ une suite de fonctions définies sur un intervalle $I \subset \mathbb{R}$ à valeur dans \mathbb{R} . Quelles les conditions nécessaires pour appliquer le théorème d'interversion limites-dérivations?

- $\exists x_0 \in I$, tel que la suite numérique $(f_n(x_0))_{n \geq 0}$ converge.
- $\forall x_0 \in I$, la suite $(f_n(x_0))_{n \geq 0}$ converge.
- Pour tout $n \in \mathbb{N}$, les fonctions f_n sont de classe C^1 sur I .
- La suite de fonctions (f_n) converge uniformément sur I vers une fonction f continue.
- La suite de fonctions (f'_n) converge uniformément sur I vers une fonction g .



<input type="checkbox"/>	0	<input type="checkbox"/>	0	<input type="checkbox"/>	0	<input type="checkbox"/>	0	<input type="checkbox"/>	0	<input type="checkbox"/>	0	<input type="checkbox"/>	0	<input type="checkbox"/>	0	<input type="checkbox"/>	0
<input type="checkbox"/>	1	<input type="checkbox"/>	1	<input type="checkbox"/>	1	<input type="checkbox"/>	1	<input type="checkbox"/>	1	<input type="checkbox"/>	1	<input type="checkbox"/>	1	<input type="checkbox"/>	1	<input type="checkbox"/>	1
<input type="checkbox"/>	2	<input type="checkbox"/>	2	<input type="checkbox"/>	2	<input type="checkbox"/>	2	<input type="checkbox"/>	2	<input type="checkbox"/>	2	<input type="checkbox"/>	2	<input type="checkbox"/>	2	<input type="checkbox"/>	2
<input type="checkbox"/>	3	<input type="checkbox"/>	3	<input type="checkbox"/>	3	<input type="checkbox"/>	3	<input type="checkbox"/>	3	<input type="checkbox"/>	3	<input type="checkbox"/>	3	<input type="checkbox"/>	3	<input type="checkbox"/>	3
<input type="checkbox"/>	4	<input type="checkbox"/>	4	<input type="checkbox"/>	4	<input type="checkbox"/>	4	<input type="checkbox"/>	4	<input type="checkbox"/>	4	<input type="checkbox"/>	4	<input type="checkbox"/>	4	<input type="checkbox"/>	4
<input type="checkbox"/>	5	<input type="checkbox"/>	5	<input type="checkbox"/>	5	<input type="checkbox"/>	5	<input type="checkbox"/>	5	<input type="checkbox"/>	5	<input type="checkbox"/>	5	<input type="checkbox"/>	5	<input type="checkbox"/>	5
<input type="checkbox"/>	6	<input type="checkbox"/>	6	<input type="checkbox"/>	6	<input type="checkbox"/>	6	<input type="checkbox"/>	6	<input type="checkbox"/>	6	<input type="checkbox"/>	6	<input type="checkbox"/>	6	<input type="checkbox"/>	6
<input type="checkbox"/>	7	<input type="checkbox"/>	7	<input type="checkbox"/>	7	<input type="checkbox"/>	7	<input type="checkbox"/>	7	<input type="checkbox"/>	7	<input type="checkbox"/>	7	<input type="checkbox"/>	7	<input type="checkbox"/>	7
<input type="checkbox"/>	8	<input type="checkbox"/>	8	<input type="checkbox"/>	8	<input type="checkbox"/>	8	<input type="checkbox"/>	8	<input type="checkbox"/>	8	<input type="checkbox"/>	8	<input type="checkbox"/>	8	<input type="checkbox"/>	8
<input type="checkbox"/>	9	<input type="checkbox"/>	9	<input type="checkbox"/>	9	<input type="checkbox"/>	9	<input type="checkbox"/>	9	<input type="checkbox"/>	9	<input type="checkbox"/>	9	<input type="checkbox"/>	9	<input type="checkbox"/>	9

QCM3L Suites de Fonctions Préing2

← codez votre numéro d'étudiant ci-contre, et inscrivez votre nom et prénom ci-dessous (le NOM d'abord!).

Nom et prénom :

.....

.....

Les cases doivent être complètement noircies avec un stylo NOIR.

Question 1 ♣

Soit $(f_n)_{n \geq 0}$ une suite de fonctions définies par $f_n(x) = x^n \ln(x)$ pour $x \in]0, 1]$ et $f_n(0) = 0$. Alors

- $(f_n)_{n \geq 0}$ converge uniformément sur $[0, a]$ ($a \in]0, 1[$)
- $(f_n)_{n \geq 0}$ converge uniformément sur $[a, 1]$ ($a \in]0, 1[$)
- $(f_n)_{n \geq 0}$ converge uniformément sur $[0, 1]$

Question 2 ♣

On définit la suite de fonctions $f_n(x) = \frac{e^{-nx}}{1+x}$. Alors, la suite $(f_n)_{n \geq 0}$

- converge uniformément sur $[0, 1]$ et la fonction limite est continue
- converge uniformément sur $[1, +\infty[$ et la fonction limite est continue
- converge uniformément sur $[0, +\infty[$

Question 3 ♣

Choisir les suites de fonctions $(f_n)_{n \geq 0}$ qui convergent uniformément vers leur limite simple:

- | | |
|--|---|
| <input type="checkbox"/> $f_n(x) = nxe^{-nx}$ sur $[a; +\infty[$ avec $a \in]0; 1[$ | <input type="checkbox"/> $f_n(x) = nxe^{-nx}$ sur $[1; 2]$ |
| <input type="checkbox"/> $f_n(x) = \frac{e^{-x}}{n}$ sur $] - \infty, 0]$ | <input type="checkbox"/> $f_n(x) = nxe^{-nx}$ sur $[0; +\infty[$ |
| <input type="checkbox"/> $f_n(x) = nxe^{-nx}$ sur $[0; 1[$ | <input type="checkbox"/> $f_n(x) = \frac{e^{-x}}{n}$ sur $]0; +\infty[$ |

Question 4 ♣

Soit $(f_n)_{n \geq 0}$ une suite de fonctions définies sur un intervalle $I \subset \mathbb{R}$ à valeur dans \mathbb{R} . Quelles les conditions nécessaires pour appliquer le théorème d'interversion limites-dérivations?

- La suite de fonctions (f'_n) converge uniformément sur I vers une fonction g .
- $\exists x_0 \in I$, tel que la suite numérique $(f_n(x_0))_{n \geq 0}$ converge.
- $\forall x_0 \in I$, la suite $(f_n(x_0))_{n \geq 0}$ converge.
- La suite de fonctions (f_n) converge uniformément sur I vers une fonction f continue.
- Pour tout $n \in \mathbb{N}$, les fonctions f_n sont de classe C^1 sur I.



<input type="checkbox"/> 0	<input type="checkbox"/> 0	<input type="checkbox"/> 0	<input type="checkbox"/> 0	<input type="checkbox"/> 0	<input type="checkbox"/> 0	<input type="checkbox"/> 0	<input type="checkbox"/> 0
<input type="checkbox"/> 1	<input type="checkbox"/> 1	<input type="checkbox"/> 1	<input type="checkbox"/> 1	<input type="checkbox"/> 1	<input type="checkbox"/> 1	<input type="checkbox"/> 1	<input type="checkbox"/> 1
<input type="checkbox"/> 2	<input type="checkbox"/> 2	<input type="checkbox"/> 2	<input type="checkbox"/> 2	<input type="checkbox"/> 2	<input type="checkbox"/> 2	<input type="checkbox"/> 2	<input type="checkbox"/> 2
<input type="checkbox"/> 3	<input type="checkbox"/> 3	<input type="checkbox"/> 3	<input type="checkbox"/> 3	<input type="checkbox"/> 3	<input type="checkbox"/> 3	<input type="checkbox"/> 3	<input type="checkbox"/> 3
<input type="checkbox"/> 4	<input type="checkbox"/> 4	<input type="checkbox"/> 4	<input type="checkbox"/> 4	<input type="checkbox"/> 4	<input type="checkbox"/> 4	<input type="checkbox"/> 4	<input type="checkbox"/> 4
<input type="checkbox"/> 5	<input type="checkbox"/> 5	<input type="checkbox"/> 5	<input type="checkbox"/> 5	<input type="checkbox"/> 5	<input type="checkbox"/> 5	<input type="checkbox"/> 5	<input type="checkbox"/> 5
<input type="checkbox"/> 6	<input type="checkbox"/> 6	<input type="checkbox"/> 6	<input type="checkbox"/> 6	<input type="checkbox"/> 6	<input type="checkbox"/> 6	<input type="checkbox"/> 6	<input type="checkbox"/> 6
<input type="checkbox"/> 7	<input type="checkbox"/> 7	<input type="checkbox"/> 7	<input type="checkbox"/> 7	<input type="checkbox"/> 7	<input type="checkbox"/> 7	<input type="checkbox"/> 7	<input type="checkbox"/> 7
<input type="checkbox"/> 8	<input type="checkbox"/> 8	<input type="checkbox"/> 8	<input type="checkbox"/> 8	<input type="checkbox"/> 8	<input type="checkbox"/> 8	<input type="checkbox"/> 8	<input type="checkbox"/> 8
<input type="checkbox"/> 9	<input type="checkbox"/> 9	<input type="checkbox"/> 9	<input type="checkbox"/> 9	<input type="checkbox"/> 9	<input type="checkbox"/> 9	<input type="checkbox"/> 9	<input type="checkbox"/> 9

QCM3L Suites de Fonctions Préing2

← codez votre numéro d'étudiant ci-contre, et inscrivez votre nom et prénom ci-dessous (le NOM d'abord!).

Nom et prénom :

.....

.....

Les cases doivent être complètement noircies avec un stylo NOIR.

Question 1 ♣

On définit la suite de fonctions $f_n(x) = \frac{e^{-nx}}{1+x}$. Alors, la suite $(f_n)_{n \geq 0}$

- converge uniformément sur $[0, 1]$ et la fonction limite est continue
- converge uniformément sur $[1, +\infty[$ et la fonction limite est continue
- converge uniformément sur $[0, +\infty[$

Question 2 ♣

Soit $(f_n)_{n \geq 0}$ une suite de fonctions définies par $f_n(x) = x^n \ln(x)$ pour $x \in]0, 1]$ et $f_n(0) = 0$. Alors

- $(f_n)_{n \geq 0}$ converge uniformément sur $[a, 1]$ ($a \in]0, 1[$)
- $(f_n)_{n \geq 0}$ converge uniformément sur $[0, 1]$
- $(f_n)_{n \geq 0}$ converge uniformément sur $[0, a]$ ($a \in]0, 1[$)

Question 3 ♣

Soit $(f_n)_{n \geq 0}$ une suite de fonctions définies sur un intervalle $I \subset \mathbb{R}$ à valeur dans \mathbb{R} . Quelles les conditions nécessaires pour appliquer le théorème d'interversion limites-dérivations?

- La suite de fonctions (f_n) converge uniformément sur I vers une fonction f continue.
- La suite de fonctions (f'_n) converge uniformément sur I vers une fonction g .
- $\forall x_0 \in I$, la suite $(f_n(x_0))_{n \geq 0}$ converge.
- Pour tout $n \in \mathbb{N}$, les fonctions f_n sont de classe C^1 sur I.
- $\exists x_0 \in I$, tel que la suite numérique $(f_n(x_0))_{n \geq 0}$ converge.

Question 4 ♣

Choisir les suites de fonctions $(f_n)_{n \geq 0}$ qui convergent uniformément vers leur limite simple:

- | | |
|--|---|
| <input type="checkbox"/> $f_n(x) = \frac{e^{-x}}{n}$ sur $]0; +\infty[$ | <input type="checkbox"/> $f_n(x) = nxe^{-nx}$ sur $[0; +\infty[$ |
| <input type="checkbox"/> $f_n(x) = nxe^{-nx}$ sur $[a; +\infty[$ avec $a \in]0; 1[$ | <input type="checkbox"/> $f_n(x) = \frac{e^{-x}}{n}$ sur $] - \infty, 0]$ |
| <input type="checkbox"/> $f_n(x) = nxe^{-nx}$ sur $[1; 2]$ | <input type="checkbox"/> $f_n(x) = nxe^{-nx}$ sur $[0; 1[$ |



<input type="checkbox"/>	0	<input type="checkbox"/>	0	<input type="checkbox"/>	0	<input type="checkbox"/>	0	<input type="checkbox"/>	0	<input type="checkbox"/>	0	<input type="checkbox"/>	0	<input type="checkbox"/>	0	<input type="checkbox"/>	0
<input type="checkbox"/>	1	<input type="checkbox"/>	1	<input type="checkbox"/>	1	<input type="checkbox"/>	1	<input type="checkbox"/>	1	<input type="checkbox"/>	1	<input type="checkbox"/>	1	<input type="checkbox"/>	1	<input type="checkbox"/>	1
<input type="checkbox"/>	2	<input type="checkbox"/>	2	<input type="checkbox"/>	2	<input type="checkbox"/>	2	<input type="checkbox"/>	2	<input type="checkbox"/>	2	<input type="checkbox"/>	2	<input type="checkbox"/>	2	<input type="checkbox"/>	2
<input type="checkbox"/>	3	<input type="checkbox"/>	3	<input type="checkbox"/>	3	<input type="checkbox"/>	3	<input type="checkbox"/>	3	<input type="checkbox"/>	3	<input type="checkbox"/>	3	<input type="checkbox"/>	3	<input type="checkbox"/>	3
<input type="checkbox"/>	4	<input type="checkbox"/>	4	<input type="checkbox"/>	4	<input type="checkbox"/>	4	<input type="checkbox"/>	4	<input type="checkbox"/>	4	<input type="checkbox"/>	4	<input type="checkbox"/>	4	<input type="checkbox"/>	4
<input type="checkbox"/>	5	<input type="checkbox"/>	5	<input type="checkbox"/>	5	<input type="checkbox"/>	5	<input type="checkbox"/>	5	<input type="checkbox"/>	5	<input type="checkbox"/>	5	<input type="checkbox"/>	5	<input type="checkbox"/>	5
<input type="checkbox"/>	6	<input type="checkbox"/>	6	<input type="checkbox"/>	6	<input type="checkbox"/>	6	<input type="checkbox"/>	6	<input type="checkbox"/>	6	<input type="checkbox"/>	6	<input type="checkbox"/>	6	<input type="checkbox"/>	6
<input type="checkbox"/>	7	<input type="checkbox"/>	7	<input type="checkbox"/>	7	<input type="checkbox"/>	7	<input type="checkbox"/>	7	<input type="checkbox"/>	7	<input type="checkbox"/>	7	<input type="checkbox"/>	7	<input type="checkbox"/>	7
<input type="checkbox"/>	8	<input type="checkbox"/>	8	<input type="checkbox"/>	8	<input type="checkbox"/>	8	<input type="checkbox"/>	8	<input type="checkbox"/>	8	<input type="checkbox"/>	8	<input type="checkbox"/>	8	<input type="checkbox"/>	8
<input type="checkbox"/>	9	<input type="checkbox"/>	9	<input type="checkbox"/>	9	<input type="checkbox"/>	9	<input type="checkbox"/>	9	<input type="checkbox"/>	9	<input type="checkbox"/>	9	<input type="checkbox"/>	9	<input type="checkbox"/>	9

QCM3L Suites de Fonctions Préing2

← codez votre numéro d'étudiant ci-contre, et inscrivez votre nom et prénom ci-dessous (le NOM d'abord!).

Nom et prénom :

.....

.....

Les cases doivent être complètement noircies avec un stylo NOIR.

Question 1 ♣

On définit la suite de fonctions $f_n(x) = \frac{e^{-nx}}{1+x}$. Alors, la suite $(f_n)_{n \geq 0}$

- converge uniformément sur $[1, +\infty[$ et la fonction limite est continue
- converge uniformément sur $[0, +\infty[$
- converge uniformément sur $[0, 1]$ et la fonction limite est continue

Question 2 ♣

Soit $(f_n)_{n \geq 0}$ une suite de fonctions définies par $f_n(x) = x^n \ln(x)$ pour $x \in]0, 1]$ et $f_n(0) = 0$. Alors

- $(f_n)_{n \geq 0}$ converge uniformément sur $[a, 1]$ ($a \in]0, 1[$)
- $(f_n)_{n \geq 0}$ converge uniformément sur $[0, 1]$
- $(f_n)_{n \geq 0}$ converge uniformément sur $[0, a]$ ($a \in]0, 1[$)

Question 3 ♣

Choisir les suites de fonctions $(f_n)_{n \geq 0}$ qui convergent uniformément vers leur limite simple:

- | | |
|--|--|
| <input type="checkbox"/> $f_n(x) = \frac{e^{-x}}{n}$ sur $]0; +\infty[$ | <input type="checkbox"/> $f_n(x) = nxe^{-nx}$ sur $[0; 1[$ |
| <input type="checkbox"/> $f_n(x) = nxe^{-nx}$ sur $[a; +\infty[$ avec $a \in]0; 1[$ | <input type="checkbox"/> $f_n(x) = nxe^{-nx}$ sur $[0; +\infty[$ |
| <input type="checkbox"/> $f_n(x) = \frac{e^{-x}}{n}$ sur $] -\infty, 0]$ | <input type="checkbox"/> $f_n(x) = nxe^{-nx}$ sur $[1; 2]$ |

Question 4 ♣

Soit $(f_n)_{n \geq 0}$ une suite de fonctions définies sur un intervalle $I \subset \mathbb{R}$ à valeur dans \mathbb{R} . Quelles les conditions nécessaires pour appliquer le théorème d'interversion limites-dérivations?

- $\exists x_0 \in I$, tel que la suite numérique $(f_n(x_0))_{n \geq 0}$ converge.
- Pour tout $n \in \mathbb{N}$, les fonctions f_n sont de classe C^1 sur I .
- $\forall x_0 \in I$, la suite $(f_n(x_0))_{n \geq 0}$ converge.
- La suite de fonctions (f_n) converge uniformément sur I vers une fonction f continue.
- La suite de fonctions (f'_n) converge uniformément sur I vers une fonction g .



<input type="checkbox"/>	0	<input type="checkbox"/>	0	<input type="checkbox"/>	0	<input type="checkbox"/>	0	<input type="checkbox"/>	0	<input type="checkbox"/>	0	<input type="checkbox"/>	0	<input type="checkbox"/>	0	<input type="checkbox"/>	0
<input type="checkbox"/>	1	<input type="checkbox"/>	1	<input type="checkbox"/>	1	<input type="checkbox"/>	1	<input type="checkbox"/>	1	<input type="checkbox"/>	1	<input type="checkbox"/>	1	<input type="checkbox"/>	1	<input type="checkbox"/>	1
<input type="checkbox"/>	2	<input type="checkbox"/>	2	<input type="checkbox"/>	2	<input type="checkbox"/>	2	<input type="checkbox"/>	2	<input type="checkbox"/>	2	<input type="checkbox"/>	2	<input type="checkbox"/>	2	<input type="checkbox"/>	2
<input type="checkbox"/>	3	<input type="checkbox"/>	3	<input type="checkbox"/>	3	<input type="checkbox"/>	3	<input type="checkbox"/>	3	<input type="checkbox"/>	3	<input type="checkbox"/>	3	<input type="checkbox"/>	3	<input type="checkbox"/>	3
<input type="checkbox"/>	4	<input type="checkbox"/>	4	<input type="checkbox"/>	4	<input type="checkbox"/>	4	<input type="checkbox"/>	4	<input type="checkbox"/>	4	<input type="checkbox"/>	4	<input type="checkbox"/>	4	<input type="checkbox"/>	4
<input type="checkbox"/>	5	<input type="checkbox"/>	5	<input type="checkbox"/>	5	<input type="checkbox"/>	5	<input type="checkbox"/>	5	<input type="checkbox"/>	5	<input type="checkbox"/>	5	<input type="checkbox"/>	5	<input type="checkbox"/>	5
<input type="checkbox"/>	6	<input type="checkbox"/>	6	<input type="checkbox"/>	6	<input type="checkbox"/>	6	<input type="checkbox"/>	6	<input type="checkbox"/>	6	<input type="checkbox"/>	6	<input type="checkbox"/>	6	<input type="checkbox"/>	6
<input type="checkbox"/>	7	<input type="checkbox"/>	7	<input type="checkbox"/>	7	<input type="checkbox"/>	7	<input type="checkbox"/>	7	<input type="checkbox"/>	7	<input type="checkbox"/>	7	<input type="checkbox"/>	7	<input type="checkbox"/>	7
<input type="checkbox"/>	8	<input type="checkbox"/>	8	<input type="checkbox"/>	8	<input type="checkbox"/>	8	<input type="checkbox"/>	8	<input type="checkbox"/>	8	<input type="checkbox"/>	8	<input type="checkbox"/>	8	<input type="checkbox"/>	8
<input type="checkbox"/>	9	<input type="checkbox"/>	9	<input type="checkbox"/>	9	<input type="checkbox"/>	9	<input type="checkbox"/>	9	<input type="checkbox"/>	9	<input type="checkbox"/>	9	<input type="checkbox"/>	9	<input type="checkbox"/>	9

QCM3L Suites de Fonctions Préing2

← codez votre numéro d'étudiant ci-contre, et inscrivez votre nom et prénom ci-dessous (le NOM d'abord!).

Nom et prénom :

.....

.....

Les cases doivent être complètement noircies avec un stylo NOIR.

Question 1 ♣

Soit $(f_n)_{n \geq 0}$ une suite de fonctions définies sur un intervalle $I \subset \mathbb{R}$ à valeur dans \mathbb{R} . Quelles les conditions nécessaires pour appliquer le théorème d'inversion limites-dérivations?

- $\exists x_0 \in I$, tel que la suite numérique $(f_n(x_0))_{n \geq 0}$ converge.
- La suite de fonctions (f_n) converge uniformément sur I vers une fonction f continue.
- $\forall x_0 \in I$, la suite $(f_n(x_0))_{n \geq 0}$ converge.
- La suite de fonctions (f'_n) converge uniformément sur I vers une fonction g .
- Pour tout $n \in \mathbb{N}$, les fonctions f_n sont de classe C^1 sur I.

Question 2 ♣

Choisir les suites de fonctions $(f_n)_{n \geq 0}$ qui convergent uniformément vers leur limite simple:

- | | |
|---|--|
| <input type="checkbox"/> $f_n(x) = \frac{e^{-x}}{n}$ sur $]0; +\infty[$ | <input type="checkbox"/> $f_n(x) = nxe^{-nx}$ sur $[a; +\infty[$ avec $a \in]0; 1[$ |
| <input type="checkbox"/> $f_n(x) = nxe^{-nx}$ sur $[1; 2]$ | <input type="checkbox"/> $f_n(x) = \frac{e^{-x}}{n}$ sur $] - \infty, 0]$ |
| <input type="checkbox"/> $f_n(x) = nxe^{-nx}$ sur $[0; +\infty[$ | <input type="checkbox"/> $f_n(x) = nxe^{-nx}$ sur $[0; 1[$ |

Question 3 ♣

Soit $(f_n)_{n \geq 0}$ une suite de fonctions définies par $f_n(x) = x^n \ln(x)$ pour $x \in]0, 1]$ et $f_n(0) = 0$. Alors

- $(f_n)_{n \geq 0}$ converge uniformément sur $[a, 1]$ ($a \in]0, 1[$)
- $(f_n)_{n \geq 0}$ converge uniformément sur $[0, a]$ ($a \in]0, 1[$)
- $(f_n)_{n \geq 0}$ converge uniformément sur $[0, 1]$

Question 4 ♣

On définit la suite de fonctions $f_n(x) = \frac{e^{-nx}}{1+x}$. Alors, la suite $(f_n)_{n \geq 0}$

- converge uniformément sur $[0, +\infty[$
- converge uniformément sur $[1, +\infty[$ et la fonction limite est continue
- converge uniformément sur $[0, 1]$ et la fonction limite est continue



<input type="checkbox"/>	0	<input type="checkbox"/>	0	<input type="checkbox"/>	0	<input type="checkbox"/>	0	<input type="checkbox"/>	0	<input type="checkbox"/>	0	<input type="checkbox"/>	0
<input type="checkbox"/>	1	<input type="checkbox"/>	1	<input type="checkbox"/>	1	<input type="checkbox"/>	1	<input type="checkbox"/>	1	<input type="checkbox"/>	1	<input type="checkbox"/>	1
<input type="checkbox"/>	2	<input type="checkbox"/>	2	<input type="checkbox"/>	2	<input type="checkbox"/>	2	<input type="checkbox"/>	2	<input type="checkbox"/>	2	<input type="checkbox"/>	2
<input type="checkbox"/>	3	<input type="checkbox"/>	3	<input type="checkbox"/>	3	<input type="checkbox"/>	3	<input type="checkbox"/>	3	<input type="checkbox"/>	3	<input type="checkbox"/>	3
<input type="checkbox"/>	4	<input type="checkbox"/>	4	<input type="checkbox"/>	4	<input type="checkbox"/>	4	<input type="checkbox"/>	4	<input type="checkbox"/>	4	<input type="checkbox"/>	4
<input type="checkbox"/>	5	<input type="checkbox"/>	5	<input type="checkbox"/>	5	<input type="checkbox"/>	5	<input type="checkbox"/>	5	<input type="checkbox"/>	5	<input type="checkbox"/>	5
<input type="checkbox"/>	6	<input type="checkbox"/>	6	<input type="checkbox"/>	6	<input type="checkbox"/>	6	<input type="checkbox"/>	6	<input type="checkbox"/>	6	<input type="checkbox"/>	6
<input type="checkbox"/>	7	<input type="checkbox"/>	7	<input type="checkbox"/>	7	<input type="checkbox"/>	7	<input type="checkbox"/>	7	<input type="checkbox"/>	7	<input type="checkbox"/>	7
<input type="checkbox"/>	8	<input type="checkbox"/>	8	<input type="checkbox"/>	8	<input type="checkbox"/>	8	<input type="checkbox"/>	8	<input type="checkbox"/>	8	<input type="checkbox"/>	8
<input type="checkbox"/>	9	<input type="checkbox"/>	9	<input type="checkbox"/>	9	<input type="checkbox"/>	9	<input type="checkbox"/>	9	<input type="checkbox"/>	9	<input type="checkbox"/>	9

QCM3L Suites de Fonctions Préing2

← codez votre numéro d'étudiant ci-contre, et inscrivez votre nom et prénom ci-dessous (le NOM d'abord!).

Nom et prénom :

.....

.....

Les cases doivent être complètement noircies avec un stylo NOIR.

Question 1 ♣

On définit la suite de fonctions $f_n(x) = \frac{e^{-nx}}{1+x}$. Alors, la suite $(f_n)_{n \geq 0}$

- converge uniformément sur $[0, +\infty[$
- converge uniformément sur $[0, 1]$ et la fonction limite est continue
- converge uniformément sur $[1, +\infty[$ et la fonction limite est continue

Question 2 ♣

Choisir les suites de fonctions $(f_n)_{n \geq 0}$ qui convergent uniformément vers leur limite simple:

- | | |
|---|--|
| <input type="checkbox"/> $f_n(x) = nxe^{-nx}$ sur $[0; 1[$ | <input type="checkbox"/> $f_n(x) = \frac{e^{-x}}{n}$ sur $]0; +\infty[$ |
| <input type="checkbox"/> $f_n(x) = nxe^{-nx}$ sur $[1; 2]$ | <input type="checkbox"/> $f_n(x) = nxe^{-nx}$ sur $[0; +\infty[$ |
| <input type="checkbox"/> $f_n(x) = \frac{e^{-x}}{n}$ sur $] - \infty, 0]$ | <input type="checkbox"/> $f_n(x) = nxe^{-nx}$ sur $[a; +\infty[$ avec $a \in]0; 1[$ |

Question 3 ♣

Soit $(f_n)_{n \geq 0}$ une suite de fonctions définies sur un intervalle $I \subset \mathbb{R}$ à valeur dans \mathbb{R} . Quelles les conditions nécessaires pour appliquer le théorème d'interversion limites-dérivations?

- La suite de fonctions (f_n) converge uniformément sur I vers une fonction f continue.
- $\forall x_0 \in I$, la suite $(f_n(x_0))_{n \geq 0}$ converge.
- $\exists x_0 \in I$, tel que la suite numérique $(f_n(x_0))_{n \geq 0}$ converge.
- La suite de fonctions (f'_n) converge uniformément sur I vers une fonction g .
- Pour tout $n \in \mathbb{N}$, les fonctions f_n sont de classe C^1 sur I.

Question 4 ♣

Soit $(f_n)_{n \geq 0}$ une suite de fonctions définies par $f_n(x) = x^n \ln(x)$ pour $x \in]0, 1]$ et $f_n(0) = 0$. Alors

- $(f_n)_{n \geq 0}$ converge uniformément sur $[0, 1]$
- $(f_n)_{n \geq 0}$ converge uniformément sur $[a, 1]$ ($a \in]0, 1[$)
- $(f_n)_{n \geq 0}$ converge uniformément sur $[0, a]$ ($a \in]0, 1[$)



<input type="checkbox"/>	0	<input type="checkbox"/>	0	<input type="checkbox"/>	0	<input type="checkbox"/>	0	<input type="checkbox"/>	0	<input type="checkbox"/>	0	<input type="checkbox"/>	0	<input type="checkbox"/>	0	<input type="checkbox"/>	0
<input type="checkbox"/>	1	<input type="checkbox"/>	1	<input type="checkbox"/>	1	<input type="checkbox"/>	1	<input type="checkbox"/>	1	<input type="checkbox"/>	1	<input type="checkbox"/>	1	<input type="checkbox"/>	1	<input type="checkbox"/>	1
<input type="checkbox"/>	2	<input type="checkbox"/>	2	<input type="checkbox"/>	2	<input type="checkbox"/>	2	<input type="checkbox"/>	2	<input type="checkbox"/>	2	<input type="checkbox"/>	2	<input type="checkbox"/>	2	<input type="checkbox"/>	2
<input type="checkbox"/>	3	<input type="checkbox"/>	3	<input type="checkbox"/>	3	<input type="checkbox"/>	3	<input type="checkbox"/>	3	<input type="checkbox"/>	3	<input type="checkbox"/>	3	<input type="checkbox"/>	3	<input type="checkbox"/>	3
<input type="checkbox"/>	4	<input type="checkbox"/>	4	<input type="checkbox"/>	4	<input type="checkbox"/>	4	<input type="checkbox"/>	4	<input type="checkbox"/>	4	<input type="checkbox"/>	4	<input type="checkbox"/>	4	<input type="checkbox"/>	4
<input type="checkbox"/>	5	<input type="checkbox"/>	5	<input type="checkbox"/>	5	<input type="checkbox"/>	5	<input type="checkbox"/>	5	<input type="checkbox"/>	5	<input type="checkbox"/>	5	<input type="checkbox"/>	5	<input type="checkbox"/>	5
<input type="checkbox"/>	6	<input type="checkbox"/>	6	<input type="checkbox"/>	6	<input type="checkbox"/>	6	<input type="checkbox"/>	6	<input type="checkbox"/>	6	<input type="checkbox"/>	6	<input type="checkbox"/>	6	<input type="checkbox"/>	6
<input type="checkbox"/>	7	<input type="checkbox"/>	7	<input type="checkbox"/>	7	<input type="checkbox"/>	7	<input type="checkbox"/>	7	<input type="checkbox"/>	7	<input type="checkbox"/>	7	<input type="checkbox"/>	7	<input type="checkbox"/>	7
<input type="checkbox"/>	8	<input type="checkbox"/>	8	<input type="checkbox"/>	8	<input type="checkbox"/>	8	<input type="checkbox"/>	8	<input type="checkbox"/>	8	<input type="checkbox"/>	8	<input type="checkbox"/>	8	<input type="checkbox"/>	8
<input type="checkbox"/>	9	<input type="checkbox"/>	9	<input type="checkbox"/>	9	<input type="checkbox"/>	9	<input type="checkbox"/>	9	<input type="checkbox"/>	9	<input type="checkbox"/>	9	<input type="checkbox"/>	9	<input type="checkbox"/>	9

QCM3L Suites de Fonctions Préing2

← codez votre numéro d'étudiant ci-contre, et inscrivez votre nom et prénom ci-dessous (le NOM d'abord!).

Nom et prénom :

.....

.....

Les cases doivent être complètement noircies avec un stylo NOIR.

Question 1 ♣

Soit $(f_n)_{n \geq 0}$ une suite de fonctions définies par $f_n(x) = x^n \ln(x)$ pour $x \in]0, 1]$ et $f_n(0) = 0$. Alors

- $(f_n)_{n \geq 0}$ converge uniformément sur $[a, 1]$ ($a \in]0, 1[$)
- $(f_n)_{n \geq 0}$ converge uniformément sur $[0, 1]$
- $(f_n)_{n \geq 0}$ converge uniformément sur $[0, a]$ ($a \in]0, 1[$)

Question 2 ♣

On définit la suite de fonctions $f_n(x) = \frac{e^{-nx}}{1+x}$. Alors, la suite $(f_n)_{n \geq 0}$

- converge uniformément sur $[0, 1]$ et la fonction limite est continue
- converge uniformément sur $[0, +\infty[$
- converge uniformément sur $[1, +\infty[$ et la fonction limite est continue

Question 3 ♣

Soit $(f_n)_{n \geq 0}$ une suite de fonctions définies sur un intervalle $I \subset \mathbb{R}$ à valeur dans \mathbb{R} . Quelles les conditions nécessaires pour appliquer le théorème d'interversion limites-dérivations?

- La suite de fonctions (f_n) converge uniformément sur I vers une fonction f continue.
- La suite de fonctions (f'_n) converge uniformément sur I vers une fonction g .
- $\forall x_0 \in I$, la suite $(f_n(x_0))_{n \geq 0}$ converge.
- $\exists x_0 \in I$, tel que la suite numérique $(f_n(x_0))_{n \geq 0}$ converge.
- Pour tout $n \in \mathbb{N}$, les fonctions f_n sont de classe C^1 sur I.

Question 4 ♣

Choisir les suites de fonctions $(f_n)_{n \geq 0}$ qui convergent uniformément vers leur limite simple:

- | | |
|---|--|
| <input type="checkbox"/> $f_n(x) = nxe^{-nx}$ sur $[1; 2]$ | <input type="checkbox"/> $f_n(x) = nxe^{-nx}$ sur $[0; +\infty[$ |
| <input type="checkbox"/> $f_n(x) = nxe^{-nx}$ sur $[0; 1[$ | <input type="checkbox"/> $f_n(x) = \frac{e^{-x}}{n}$ sur $] -\infty, 0]$ |
| <input type="checkbox"/> $f_n(x) = \frac{e^{-x}}{n}$ sur $]0; +\infty[$ | <input type="checkbox"/> $f_n(x) = nxe^{-nx}$ sur $[a; +\infty[$ avec $a \in]0; 1[$ |



<input type="checkbox"/>	0	<input type="checkbox"/>	0	<input type="checkbox"/>	0	<input type="checkbox"/>	0	<input type="checkbox"/>	0	<input type="checkbox"/>	0	<input type="checkbox"/>	0	<input type="checkbox"/>	0	<input type="checkbox"/>	0
<input type="checkbox"/>	1	<input type="checkbox"/>	1	<input type="checkbox"/>	1	<input type="checkbox"/>	1	<input type="checkbox"/>	1	<input type="checkbox"/>	1	<input type="checkbox"/>	1	<input type="checkbox"/>	1	<input type="checkbox"/>	1
<input type="checkbox"/>	2	<input type="checkbox"/>	2	<input type="checkbox"/>	2	<input type="checkbox"/>	2	<input type="checkbox"/>	2	<input type="checkbox"/>	2	<input type="checkbox"/>	2	<input type="checkbox"/>	2	<input type="checkbox"/>	2
<input type="checkbox"/>	3	<input type="checkbox"/>	3	<input type="checkbox"/>	3	<input type="checkbox"/>	3	<input type="checkbox"/>	3	<input type="checkbox"/>	3	<input type="checkbox"/>	3	<input type="checkbox"/>	3	<input type="checkbox"/>	3
<input type="checkbox"/>	4	<input type="checkbox"/>	4	<input type="checkbox"/>	4	<input type="checkbox"/>	4	<input type="checkbox"/>	4	<input type="checkbox"/>	4	<input type="checkbox"/>	4	<input type="checkbox"/>	4	<input type="checkbox"/>	4
<input type="checkbox"/>	5	<input type="checkbox"/>	5	<input type="checkbox"/>	5	<input type="checkbox"/>	5	<input type="checkbox"/>	5	<input type="checkbox"/>	5	<input type="checkbox"/>	5	<input type="checkbox"/>	5	<input type="checkbox"/>	5
<input type="checkbox"/>	6	<input type="checkbox"/>	6	<input type="checkbox"/>	6	<input type="checkbox"/>	6	<input type="checkbox"/>	6	<input type="checkbox"/>	6	<input type="checkbox"/>	6	<input type="checkbox"/>	6	<input type="checkbox"/>	6
<input type="checkbox"/>	7	<input type="checkbox"/>	7	<input type="checkbox"/>	7	<input type="checkbox"/>	7	<input type="checkbox"/>	7	<input type="checkbox"/>	7	<input type="checkbox"/>	7	<input type="checkbox"/>	7	<input type="checkbox"/>	7
<input type="checkbox"/>	8	<input type="checkbox"/>	8	<input type="checkbox"/>	8	<input type="checkbox"/>	8	<input type="checkbox"/>	8	<input type="checkbox"/>	8	<input type="checkbox"/>	8	<input type="checkbox"/>	8	<input type="checkbox"/>	8
<input type="checkbox"/>	9	<input type="checkbox"/>	9	<input type="checkbox"/>	9	<input type="checkbox"/>	9	<input type="checkbox"/>	9	<input type="checkbox"/>	9	<input type="checkbox"/>	9	<input type="checkbox"/>	9	<input type="checkbox"/>	9

QCM3L Suites de Fonctions Préing2

← codez votre numéro d'étudiant ci-contre, et inscrivez votre nom et prénom ci-dessous (le NOM d'abord!).

Nom et prénom :

.....

.....

Les cases doivent être complètement noircies avec un stylo NOIR.

Question 1 ♣

Soit $(f_n)_{n \geq 0}$ une suite de fonctions définies sur un intervalle $I \subset \mathbb{R}$ à valeur dans \mathbb{R} . Quelles les conditions nécessaires pour appliquer le théorème d'interversion limites-dérivations?

- $\forall x_0 \in I$, la suite $(f_n(x_0))_{n \geq 0}$ converge.
- La suite de fonctions (f_n) converge uniformément sur I vers une fonction f continue.
- La suite de fonctions (f'_n) converge uniformément sur I vers une fonction g .
- $\exists x_0 \in I$, tel que la suite numérique $(f_n(x_0))_{n \geq 0}$ converge.
- Pour tout $n \in \mathbb{N}$, les fonctions f_n sont de classe C^1 sur I.

Question 2 ♣

Choisir les suites de fonctions $(f_n)_{n \geq 0}$ qui convergent uniformément vers leur limite simple:

- | | |
|---|--|
| <input type="checkbox"/> $f_n(x) = nxe^{-nx}$ sur $]0; 1[$ | <input type="checkbox"/> $f_n(x) = nxe^{-nx}$ sur $[a; +\infty[$ avec $a \in]0; 1[$ |
| <input type="checkbox"/> $f_n(x) = \frac{e^{-x}}{n}$ sur $]0; +\infty[$ | <input type="checkbox"/> $f_n(x) = nxe^{-nx}$ sur $[1; 2]$ |
| <input type="checkbox"/> $f_n(x) = nxe^{-nx}$ sur $[0; +\infty[$ | <input type="checkbox"/> $f_n(x) = \frac{e^{-x}}{n}$ sur $] - \infty, 0]$ |

Question 3 ♣

On définit la suite de fonctions $f_n(x) = \frac{e^{-nx}}{1+x}$. Alors, la suite $(f_n)_{n \geq 0}$

- converge uniformément sur $[1, +\infty[$ et la fonction limite est continue
- converge uniformément sur $[0, 1]$ et la fonction limite est continue
- converge uniformément sur $[0, +\infty[$

Question 4 ♣

Soit $(f_n)_{n \geq 0}$ une suite de fonctions définies par $f_n(x) = x^n \ln(x)$ pour $x \in]0, 1]$ et $f_n(0) = 0$. Alors

- $(f_n)_{n \geq 0}$ converge uniformément sur $[a, 1]$ ($a \in]0, 1[$)
- $(f_n)_{n \geq 0}$ converge uniformément sur $[0, 1]$
- $(f_n)_{n \geq 0}$ converge uniformément sur $[0, a]$ ($a \in]0, 1[$)



<input type="checkbox"/>	0	<input type="checkbox"/>	0	<input type="checkbox"/>	0	<input type="checkbox"/>	0	<input type="checkbox"/>	0	<input type="checkbox"/>	0	<input type="checkbox"/>	0	<input type="checkbox"/>	0	<input type="checkbox"/>	0
<input type="checkbox"/>	1	<input type="checkbox"/>	1	<input type="checkbox"/>	1	<input type="checkbox"/>	1	<input type="checkbox"/>	1	<input type="checkbox"/>	1	<input type="checkbox"/>	1	<input type="checkbox"/>	1	<input type="checkbox"/>	1
<input type="checkbox"/>	2	<input type="checkbox"/>	2	<input type="checkbox"/>	2	<input type="checkbox"/>	2	<input type="checkbox"/>	2	<input type="checkbox"/>	2	<input type="checkbox"/>	2	<input type="checkbox"/>	2	<input type="checkbox"/>	2
<input type="checkbox"/>	3	<input type="checkbox"/>	3	<input type="checkbox"/>	3	<input type="checkbox"/>	3	<input type="checkbox"/>	3	<input type="checkbox"/>	3	<input type="checkbox"/>	3	<input type="checkbox"/>	3	<input type="checkbox"/>	3
<input type="checkbox"/>	4	<input type="checkbox"/>	4	<input type="checkbox"/>	4	<input type="checkbox"/>	4	<input type="checkbox"/>	4	<input type="checkbox"/>	4	<input type="checkbox"/>	4	<input type="checkbox"/>	4	<input type="checkbox"/>	4
<input type="checkbox"/>	5	<input type="checkbox"/>	5	<input type="checkbox"/>	5	<input type="checkbox"/>	5	<input type="checkbox"/>	5	<input type="checkbox"/>	5	<input type="checkbox"/>	5	<input type="checkbox"/>	5	<input type="checkbox"/>	5
<input type="checkbox"/>	6	<input type="checkbox"/>	6	<input type="checkbox"/>	6	<input type="checkbox"/>	6	<input type="checkbox"/>	6	<input type="checkbox"/>	6	<input type="checkbox"/>	6	<input type="checkbox"/>	6	<input type="checkbox"/>	6
<input type="checkbox"/>	7	<input type="checkbox"/>	7	<input type="checkbox"/>	7	<input type="checkbox"/>	7	<input type="checkbox"/>	7	<input type="checkbox"/>	7	<input type="checkbox"/>	7	<input type="checkbox"/>	7	<input type="checkbox"/>	7
<input type="checkbox"/>	8	<input type="checkbox"/>	8	<input type="checkbox"/>	8	<input type="checkbox"/>	8	<input type="checkbox"/>	8	<input type="checkbox"/>	8	<input type="checkbox"/>	8	<input type="checkbox"/>	8	<input type="checkbox"/>	8
<input type="checkbox"/>	9	<input type="checkbox"/>	9	<input type="checkbox"/>	9	<input type="checkbox"/>	9	<input type="checkbox"/>	9	<input type="checkbox"/>	9	<input type="checkbox"/>	9	<input type="checkbox"/>	9	<input type="checkbox"/>	9

QCM3L Suites de Fonctions Préing2

← codez votre numéro d'étudiant ci-contre, et inscrivez votre nom et prénom ci-dessous (le NOM d'abord!).

Nom et prénom :

.....

.....

Les cases doivent être complètement noircies avec un stylo NOIR.

Question 1 ♣

Choisir les suites de fonctions $(f_n)_{n \geq 0}$ qui convergent uniformément vers leur limite simple:

- | | |
|--|---|
| <input type="checkbox"/> $f_n(x) = \frac{e^{-x}}{n}$ sur $]0; +\infty[$ | <input type="checkbox"/> $f_n(x) = nxe^{-nx}$ sur $[1; 2]$ |
| <input type="checkbox"/> $f_n(x) = nxe^{-nx}$ sur $[0; +\infty[$ | <input type="checkbox"/> $f_n(x) = nxe^{-nx}$ sur $[0; 1[$ |
| <input type="checkbox"/> $f_n(x) = nxe^{-nx}$ sur $[a; +\infty[$ avec $a \in]0; 1[$ | <input type="checkbox"/> $f_n(x) = \frac{e^{-x}}{n}$ sur $] - \infty, 0]$ |

Question 2 ♣

On définit la suite de fonctions $f_n(x) = \frac{e^{-nx}}{1+x}$. Alors, la suite $(f_n)_{n \geq 0}$

- converge uniformément sur $[1, +\infty[$ et la fonction limite est continue
- converge uniformément sur $[0, +\infty[$
- converge uniformément sur $[0, 1]$ et la fonction limite est continue

Question 3 ♣

Soit $(f_n)_{n \geq 0}$ une suite de fonctions définies par $f_n(x) = x^n \ln(x)$ pour $x \in]0, 1]$ et $f_n(0) = 0$. Alors

- $(f_n)_{n \geq 0}$ converge uniformément sur $[0, a]$ ($a \in]0, 1[$)
- $(f_n)_{n \geq 0}$ converge uniformément sur $[a, 1]$ ($a \in]0, 1[$)
- $(f_n)_{n \geq 0}$ converge uniformément sur $[0, 1]$

Question 4 ♣

Soit $(f_n)_{n \geq 0}$ une suite de fonctions définies sur un intervalle $I \subset \mathbb{R}$ à valeur dans \mathbb{R} . Quelles les conditions nécessaires pour appliquer le théorème d'interversion limites-dérivations?

- $\exists x_0 \in I$, tel que la suite numérique $(f_n(x_0))_{n \geq 0}$ converge.
- Pour tout $n \in \mathbb{N}$, les fonctions f_n sont de classe C^1 sur I .
- $\forall x_0 \in I$, la suite $(f_n(x_0))_{n \geq 0}$ converge.
- La suite de fonctions (f'_n) converge uniformément sur I vers une fonction g .
- La suite de fonctions (f_n) converge uniformément sur I vers une fonction f continue.



<input type="checkbox"/>	0	<input type="checkbox"/>	0	<input type="checkbox"/>	0	<input type="checkbox"/>	0	<input type="checkbox"/>	0	<input type="checkbox"/>	0	<input type="checkbox"/>	0	<input type="checkbox"/>	0	<input type="checkbox"/>	0
<input type="checkbox"/>	1	<input type="checkbox"/>	1	<input type="checkbox"/>	1	<input type="checkbox"/>	1	<input type="checkbox"/>	1	<input type="checkbox"/>	1	<input type="checkbox"/>	1	<input type="checkbox"/>	1	<input type="checkbox"/>	1
<input type="checkbox"/>	2	<input type="checkbox"/>	2	<input type="checkbox"/>	2	<input type="checkbox"/>	2	<input type="checkbox"/>	2	<input type="checkbox"/>	2	<input type="checkbox"/>	2	<input type="checkbox"/>	2	<input type="checkbox"/>	2
<input type="checkbox"/>	3	<input type="checkbox"/>	3	<input type="checkbox"/>	3	<input type="checkbox"/>	3	<input type="checkbox"/>	3	<input type="checkbox"/>	3	<input type="checkbox"/>	3	<input type="checkbox"/>	3	<input type="checkbox"/>	3
<input type="checkbox"/>	4	<input type="checkbox"/>	4	<input type="checkbox"/>	4	<input type="checkbox"/>	4	<input type="checkbox"/>	4	<input type="checkbox"/>	4	<input type="checkbox"/>	4	<input type="checkbox"/>	4	<input type="checkbox"/>	4
<input type="checkbox"/>	5	<input type="checkbox"/>	5	<input type="checkbox"/>	5	<input type="checkbox"/>	5	<input type="checkbox"/>	5	<input type="checkbox"/>	5	<input type="checkbox"/>	5	<input type="checkbox"/>	5	<input type="checkbox"/>	5
<input type="checkbox"/>	6	<input type="checkbox"/>	6	<input type="checkbox"/>	6	<input type="checkbox"/>	6	<input type="checkbox"/>	6	<input type="checkbox"/>	6	<input type="checkbox"/>	6	<input type="checkbox"/>	6	<input type="checkbox"/>	6
<input type="checkbox"/>	7	<input type="checkbox"/>	7	<input type="checkbox"/>	7	<input type="checkbox"/>	7	<input type="checkbox"/>	7	<input type="checkbox"/>	7	<input type="checkbox"/>	7	<input type="checkbox"/>	7	<input type="checkbox"/>	7
<input type="checkbox"/>	8	<input type="checkbox"/>	8	<input type="checkbox"/>	8	<input type="checkbox"/>	8	<input type="checkbox"/>	8	<input type="checkbox"/>	8	<input type="checkbox"/>	8	<input type="checkbox"/>	8	<input type="checkbox"/>	8
<input type="checkbox"/>	9	<input type="checkbox"/>	9	<input type="checkbox"/>	9	<input type="checkbox"/>	9	<input type="checkbox"/>	9	<input type="checkbox"/>	9	<input type="checkbox"/>	9	<input type="checkbox"/>	9	<input type="checkbox"/>	9

QCM3L Suites de Fonctions Préing2

← codez votre numéro d'étudiant ci-contre, et inscrivez votre nom et prénom ci-dessous (le NOM d'abord!).

Nom et prénom :

.....

.....

Les cases doivent être complètement noircies avec un stylo NOIR.

Question 1 ♣

Soit $(f_n)_{n \geq 0}$ une suite de fonctions définies par $f_n(x) = x^n \ln(x)$ pour $x \in]0, 1]$ et $f_n(0) = 0$. Alors

- $(f_n)_{n \geq 0}$ converge uniformément sur $[a, 1]$ ($a \in]0, 1[$)
- $(f_n)_{n \geq 0}$ converge uniformément sur $[0, a]$ ($a \in]0, 1[$)
- $(f_n)_{n \geq 0}$ converge uniformément sur $[0, 1]$

Question 2 ♣

On définit la suite de fonctions $f_n(x) = \frac{e^{-nx}}{1+x}$. Alors, la suite $(f_n)_{n \geq 0}$

- converge uniformément sur $[0, +\infty[$
- converge uniformément sur $[1, +\infty[$ et la fonction limite est continue
- converge uniformément sur $[0, 1]$ et la fonction limite est continue

Question 3 ♣

Choisir les suites de fonctions $(f_n)_{n \geq 0}$ qui convergent uniformément vers leur limite simple:

- | | |
|--|--|
| <input type="checkbox"/> $f_n(x) = nxe^{-nx}$ sur $[0; +\infty[$ | <input type="checkbox"/> $f_n(x) = \frac{e^{-x}}{n}$ sur $] -\infty, 0]$ |
| <input type="checkbox"/> $f_n(x) = nxe^{-nx}$ sur $[1; 2]$ | <input type="checkbox"/> $f_n(x) = nxe^{-nx}$ sur $[0; 1[$ |
| <input type="checkbox"/> $f_n(x) = nxe^{-nx}$ sur $[a; +\infty[$ avec $a \in]0; 1[$ | <input type="checkbox"/> $f_n(x) = \frac{e^{-x}}{n}$ sur $]0; +\infty[$ |

Question 4 ♣

Soit $(f_n)_{n \geq 0}$ une suite de fonctions définies sur un intervalle $I \subset \mathbb{R}$ à valeur dans \mathbb{R} . Quelles les conditions nécessaires pour appliquer le théorème d'interversion limites-dérivations?

- La suite de fonctions (f'_n) converge uniformément sur I vers une fonction g .
- $\forall x_0 \in I$, la suite $(f_n(x_0))_{n \geq 0}$ converge.
- La suite de fonctions (f_n) converge uniformément sur I vers une fonction f continue.
- Pour tout $n \in \mathbb{N}$, les fonctions f_n sont de classe C^1 sur I .
- $\exists x_0 \in I$, tel que la suite numérique $(f_n(x_0))_{n \geq 0}$ converge.



<input type="checkbox"/>	0	<input type="checkbox"/>	0	<input type="checkbox"/>	0	<input type="checkbox"/>	0	<input type="checkbox"/>	0	<input type="checkbox"/>	0	<input type="checkbox"/>	0	<input type="checkbox"/>	0	<input type="checkbox"/>	0
<input type="checkbox"/>	1	<input type="checkbox"/>	1	<input type="checkbox"/>	1	<input type="checkbox"/>	1	<input type="checkbox"/>	1	<input type="checkbox"/>	1	<input type="checkbox"/>	1	<input type="checkbox"/>	1	<input type="checkbox"/>	1
<input type="checkbox"/>	2	<input type="checkbox"/>	2	<input type="checkbox"/>	2	<input type="checkbox"/>	2	<input type="checkbox"/>	2	<input type="checkbox"/>	2	<input type="checkbox"/>	2	<input type="checkbox"/>	2	<input type="checkbox"/>	2
<input type="checkbox"/>	3	<input type="checkbox"/>	3	<input type="checkbox"/>	3	<input type="checkbox"/>	3	<input type="checkbox"/>	3	<input type="checkbox"/>	3	<input type="checkbox"/>	3	<input type="checkbox"/>	3	<input type="checkbox"/>	3
<input type="checkbox"/>	4	<input type="checkbox"/>	4	<input type="checkbox"/>	4	<input type="checkbox"/>	4	<input type="checkbox"/>	4	<input type="checkbox"/>	4	<input type="checkbox"/>	4	<input type="checkbox"/>	4	<input type="checkbox"/>	4
<input type="checkbox"/>	5	<input type="checkbox"/>	5	<input type="checkbox"/>	5	<input type="checkbox"/>	5	<input type="checkbox"/>	5	<input type="checkbox"/>	5	<input type="checkbox"/>	5	<input type="checkbox"/>	5	<input type="checkbox"/>	5
<input type="checkbox"/>	6	<input type="checkbox"/>	6	<input type="checkbox"/>	6	<input type="checkbox"/>	6	<input type="checkbox"/>	6	<input type="checkbox"/>	6	<input type="checkbox"/>	6	<input type="checkbox"/>	6	<input type="checkbox"/>	6
<input type="checkbox"/>	7	<input type="checkbox"/>	7	<input type="checkbox"/>	7	<input type="checkbox"/>	7	<input type="checkbox"/>	7	<input type="checkbox"/>	7	<input type="checkbox"/>	7	<input type="checkbox"/>	7	<input type="checkbox"/>	7
<input type="checkbox"/>	8	<input type="checkbox"/>	8	<input type="checkbox"/>	8	<input type="checkbox"/>	8	<input type="checkbox"/>	8	<input type="checkbox"/>	8	<input type="checkbox"/>	8	<input type="checkbox"/>	8	<input type="checkbox"/>	8
<input type="checkbox"/>	9	<input type="checkbox"/>	9	<input type="checkbox"/>	9	<input type="checkbox"/>	9	<input type="checkbox"/>	9	<input type="checkbox"/>	9	<input type="checkbox"/>	9	<input type="checkbox"/>	9	<input type="checkbox"/>	9

QCM3L Suites de Fonctions Préing2

← codez votre numéro d'étudiant ci-contre, et inscrivez votre nom et prénom ci-dessous (le NOM d'abord!).

Nom et prénom :

.....

.....

Les cases doivent être complètement noircies avec un stylo NOIR.

Question 1 ♣

On définit la suite de fonctions $f_n(x) = \frac{e^{-nx}}{1+x}$. Alors, la suite $(f_n)_{n \geq 0}$

- converge uniformément sur $[0, +\infty[$
- converge uniformément sur $[1, +\infty[$ et la fonction limite est continue
- converge uniformément sur $[0, 1]$ et la fonction limite est continue

Question 2 ♣

Soit $(f_n)_{n \geq 0}$ une suite de fonctions définies par $f_n(x) = x^n \ln(x)$ pour $x \in]0, 1]$ et $f_n(0) = 0$. Alors

- $(f_n)_{n \geq 0}$ converge uniformément sur $[0, 1]$
- $(f_n)_{n \geq 0}$ converge uniformément sur $[a, 1]$ ($a \in]0, 1[$)
- $(f_n)_{n \geq 0}$ converge uniformément sur $[0, a]$ ($a \in]0, 1[$)

Question 3 ♣

Choisir les suites de fonctions $(f_n)_{n \geq 0}$ qui convergent uniformément vers leur limite simple:

- | | |
|--|--|
| <input type="checkbox"/> $f_n(x) = nxe^{-nx}$ sur $[0; +\infty[$ | <input type="checkbox"/> $f_n(x) = \frac{e^{-x}}{n}$ sur $] -\infty, 0]$ |
| <input type="checkbox"/> $f_n(x) = nxe^{-nx}$ sur $[1; 2]$ | |
| <input type="checkbox"/> $f_n(x) = nxe^{-nx}$ sur $[a; +\infty[$ avec $a \in]0; 1[$ | |
| <input type="checkbox"/> $f_n(x) = nxe^{-nx}$ sur $[0; 1[$ | <input type="checkbox"/> $f_n(x) = \frac{e^{-x}}{n}$ sur $]0; +\infty[$ |

Question 4 ♣

Soit $(f_n)_{n \geq 0}$ une suite de fonctions définies sur un intervalle $I \subset \mathbb{R}$ à valeur dans \mathbb{R} . Quelles les conditions nécessaires pour appliquer le théorème d'interversion limites-dérivations?

- $\forall x_0 \in I$, la suite $(f_n(x_0))_{n \geq 0}$ converge.
- Pour tout $n \in \mathbb{N}$, les fonctions f_n sont de classe C^1 sur I .
- La suite de fonctions (f'_n) converge uniformément sur I vers une fonction g .
- $\exists x_0 \in I$, tel que la suite numérique $(f_n(x_0))_{n \geq 0}$ converge.
- La suite de fonctions (f_n) converge uniformément sur I vers une fonction f continue.



<input type="checkbox"/>	0	<input type="checkbox"/>	0	<input type="checkbox"/>	0	<input type="checkbox"/>	0	<input type="checkbox"/>	0	<input type="checkbox"/>	0	<input type="checkbox"/>	0	<input type="checkbox"/>	0	<input type="checkbox"/>	0
<input type="checkbox"/>	1	<input type="checkbox"/>	1	<input type="checkbox"/>	1	<input type="checkbox"/>	1	<input type="checkbox"/>	1	<input type="checkbox"/>	1	<input type="checkbox"/>	1	<input type="checkbox"/>	1	<input type="checkbox"/>	1
<input type="checkbox"/>	2	<input type="checkbox"/>	2	<input type="checkbox"/>	2	<input type="checkbox"/>	2	<input type="checkbox"/>	2	<input type="checkbox"/>	2	<input type="checkbox"/>	2	<input type="checkbox"/>	2	<input type="checkbox"/>	2
<input type="checkbox"/>	3	<input type="checkbox"/>	3	<input type="checkbox"/>	3	<input type="checkbox"/>	3	<input type="checkbox"/>	3	<input type="checkbox"/>	3	<input type="checkbox"/>	3	<input type="checkbox"/>	3	<input type="checkbox"/>	3
<input type="checkbox"/>	4	<input type="checkbox"/>	4	<input type="checkbox"/>	4	<input type="checkbox"/>	4	<input type="checkbox"/>	4	<input type="checkbox"/>	4	<input type="checkbox"/>	4	<input type="checkbox"/>	4	<input type="checkbox"/>	4
<input type="checkbox"/>	5	<input type="checkbox"/>	5	<input type="checkbox"/>	5	<input type="checkbox"/>	5	<input type="checkbox"/>	5	<input type="checkbox"/>	5	<input type="checkbox"/>	5	<input type="checkbox"/>	5	<input type="checkbox"/>	5
<input type="checkbox"/>	6	<input type="checkbox"/>	6	<input type="checkbox"/>	6	<input type="checkbox"/>	6	<input type="checkbox"/>	6	<input type="checkbox"/>	6	<input type="checkbox"/>	6	<input type="checkbox"/>	6	<input type="checkbox"/>	6
<input type="checkbox"/>	7	<input type="checkbox"/>	7	<input type="checkbox"/>	7	<input type="checkbox"/>	7	<input type="checkbox"/>	7	<input type="checkbox"/>	7	<input type="checkbox"/>	7	<input type="checkbox"/>	7	<input type="checkbox"/>	7
<input type="checkbox"/>	8	<input type="checkbox"/>	8	<input type="checkbox"/>	8	<input type="checkbox"/>	8	<input type="checkbox"/>	8	<input type="checkbox"/>	8	<input type="checkbox"/>	8	<input type="checkbox"/>	8	<input type="checkbox"/>	8
<input type="checkbox"/>	9	<input type="checkbox"/>	9	<input type="checkbox"/>	9	<input type="checkbox"/>	9	<input type="checkbox"/>	9	<input type="checkbox"/>	9	<input type="checkbox"/>	9	<input type="checkbox"/>	9	<input type="checkbox"/>	9

QCM3L Suites de Fonctions Préing2

← codez votre numéro d'étudiant ci-contre, et inscrivez votre nom et prénom ci-dessous (le NOM d'abord!).

Nom et prénom :

.....

.....

Les cases doivent être complètement noircies avec un stylo NOIR.

Question 1 ♣

Choisir les suites de fonctions $(f_n)_{n \geq 0}$ qui convergent uniformément vers leur limite simple:

- | | |
|--|---|
| <input type="checkbox"/> $f_n(x) = nxe^{-nx}$ sur $[a; +\infty[$ avec $a \in]0; 1[$ | <input type="checkbox"/> $f_n(x) = nxe^{-nx}$ sur $[1; 2]$ |
| <input type="checkbox"/> $f_n(x) = nxe^{-nx}$ sur $[0; +\infty[$ | <input type="checkbox"/> $f_n(x) = \frac{e^{-x}}{n}$ sur $] - \infty, 0]$ |
| <input type="checkbox"/> $f_n(x) = \frac{e^{-x}}{n}$ sur $]0; +\infty[$ | <input type="checkbox"/> $f_n(x) = nxe^{-nx}$ sur $[0; 1[$ |

Question 2 ♣

On définit la suite de fonctions $f_n(x) = \frac{e^{-nx}}{1+x}$. Alors, la suite $(f_n)_{n \geq 0}$

- converge uniformément sur $[1, +\infty[$ et la fonction limite est continue
- converge uniformément sur $[0, 1]$ et la fonction limite est continue
- converge uniformément sur $[0, +\infty[$

Question 3 ♣

Soit $(f_n)_{n \geq 0}$ une suite de fonctions définies sur un intervalle $I \subset \mathbb{R}$ à valeur dans \mathbb{R} . Quelles les conditions nécessaires pour appliquer le théorème d'interversion limites-dérivations?

- $\forall x_0 \in I$, la suite $(f_n(x_0))_{n \geq 0}$ converge.
- Pour tout $n \in \mathbb{N}$, les fonctions f_n sont de classe C^1 sur I .
- La suite de fonctions (f_n) converge uniformément sur I vers une fonction f continue.
- $\exists x_0 \in I$, tel que la suite numérique $(f_n(x_0))_{n \geq 0}$ converge.
- La suite de fonctions (f'_n) converge uniformément sur I vers une fonction g .

Question 4 ♣

Soit $(f_n)_{n \geq 0}$ une suite de fonctions définies par $f_n(x) = x^n \ln(x)$ pour $x \in]0, 1]$ et $f_n(0) = 0$. Alors

- $(f_n)_{n \geq 0}$ converge uniformément sur $[a, 1]$ ($a \in]0, 1[$)
- $(f_n)_{n \geq 0}$ converge uniformément sur $[0, 1]$
- $(f_n)_{n \geq 0}$ converge uniformément sur $[0, a]$ ($a \in]0, 1[$)



<input type="checkbox"/>	0	<input type="checkbox"/>	0	<input type="checkbox"/>	0	<input type="checkbox"/>	0	<input type="checkbox"/>	0	<input type="checkbox"/>	0	<input type="checkbox"/>	0	<input type="checkbox"/>	0	<input type="checkbox"/>	0
<input type="checkbox"/>	1	<input type="checkbox"/>	1	<input type="checkbox"/>	1	<input type="checkbox"/>	1	<input type="checkbox"/>	1	<input type="checkbox"/>	1	<input type="checkbox"/>	1	<input type="checkbox"/>	1	<input type="checkbox"/>	1
<input type="checkbox"/>	2	<input type="checkbox"/>	2	<input type="checkbox"/>	2	<input type="checkbox"/>	2	<input type="checkbox"/>	2	<input type="checkbox"/>	2	<input type="checkbox"/>	2	<input type="checkbox"/>	2	<input type="checkbox"/>	2
<input type="checkbox"/>	3	<input type="checkbox"/>	3	<input type="checkbox"/>	3	<input type="checkbox"/>	3	<input type="checkbox"/>	3	<input type="checkbox"/>	3	<input type="checkbox"/>	3	<input type="checkbox"/>	3	<input type="checkbox"/>	3
<input type="checkbox"/>	4	<input type="checkbox"/>	4	<input type="checkbox"/>	4	<input type="checkbox"/>	4	<input type="checkbox"/>	4	<input type="checkbox"/>	4	<input type="checkbox"/>	4	<input type="checkbox"/>	4	<input type="checkbox"/>	4
<input type="checkbox"/>	5	<input type="checkbox"/>	5	<input type="checkbox"/>	5	<input type="checkbox"/>	5	<input type="checkbox"/>	5	<input type="checkbox"/>	5	<input type="checkbox"/>	5	<input type="checkbox"/>	5	<input type="checkbox"/>	5
<input type="checkbox"/>	6	<input type="checkbox"/>	6	<input type="checkbox"/>	6	<input type="checkbox"/>	6	<input type="checkbox"/>	6	<input type="checkbox"/>	6	<input type="checkbox"/>	6	<input type="checkbox"/>	6	<input type="checkbox"/>	6
<input type="checkbox"/>	7	<input type="checkbox"/>	7	<input type="checkbox"/>	7	<input type="checkbox"/>	7	<input type="checkbox"/>	7	<input type="checkbox"/>	7	<input type="checkbox"/>	7	<input type="checkbox"/>	7	<input type="checkbox"/>	7
<input type="checkbox"/>	8	<input type="checkbox"/>	8	<input type="checkbox"/>	8	<input type="checkbox"/>	8	<input type="checkbox"/>	8	<input type="checkbox"/>	8	<input type="checkbox"/>	8	<input type="checkbox"/>	8	<input type="checkbox"/>	8
<input type="checkbox"/>	9	<input type="checkbox"/>	9	<input type="checkbox"/>	9	<input type="checkbox"/>	9	<input type="checkbox"/>	9	<input type="checkbox"/>	9	<input type="checkbox"/>	9	<input type="checkbox"/>	9	<input type="checkbox"/>	9

QCM3L Suites de Fonctions Préing2

← codez votre numéro d'étudiant ci-contre, et inscrivez votre nom et prénom ci-dessous (le NOM d'abord!).

Nom et prénom :

.....

.....

Les cases doivent être complètement noircies avec un stylo NOIR.

Question 1 ♣

On définit la suite de fonctions $f_n(x) = \frac{e^{-nx}}{1+x}$. Alors, la suite $(f_n)_{n \geq 0}$

- converge uniformément sur $[0, +\infty[$
- converge uniformément sur $[0, 1]$ et la fonction limite est continue
- converge uniformément sur $[1, +\infty[$ et la fonction limite est continue

Question 2 ♣

Choisir les suites de fonctions $(f_n)_{n \geq 0}$ qui convergent uniformément vers leur limite simple:

- | | |
|---|--|
| <input type="checkbox"/> $f_n(x) = \frac{e^{-x}}{n}$ sur $]0; +\infty[$ | <input type="checkbox"/> $f_n(x) = nxe^{-nx}$ sur $[0; +\infty[$ |
| <input type="checkbox"/> $f_n(x) = \frac{e^{-x}}{n}$ sur $] - \infty, 0]$ | <input type="checkbox"/> $f_n(x) = nxe^{-nx}$ sur $[1; 2]$ |
| <input type="checkbox"/> $f_n(x) = nxe^{-nx}$ sur $[0; 1[$ | <input type="checkbox"/> $f_n(x) = nxe^{-nx}$ sur $[a; +\infty[$ avec $a \in]0; 1[$ |

Question 3 ♣

Soit $(f_n)_{n \geq 0}$ une suite de fonctions définies sur un intervalle $I \subset \mathbb{R}$ à valeur dans \mathbb{R} . Quelles les conditions nécessaires pour appliquer le théorème d'interversion limites-dérivations?

- $\exists x_0 \in I$, tel que la suite numérique $(f_n(x_0))_{n \geq 0}$ converge.
- Pour tout $n \in \mathbb{N}$, les fonctions f_n sont de classe C^1 sur I .
- $\forall x_0 \in I$, la suite $(f_n(x_0))_{n \geq 0}$ converge.
- La suite de fonctions (f_n) converge uniformément sur I vers une fonction f continue.
- La suite de fonctions (f'_n) converge uniformément sur I vers une fonction g .

Question 4 ♣

Soit $(f_n)_{n \geq 0}$ une suite de fonctions définies par $f_n(x) = x^n \ln(x)$ pour $x \in]0, 1]$ et $f_n(0) = 0$. Alors

- $(f_n)_{n \geq 0}$ converge uniformément sur $[a, 1]$ ($a \in]0, 1[$)
- $(f_n)_{n \geq 0}$ converge uniformément sur $[0, 1]$
- $(f_n)_{n \geq 0}$ converge uniformément sur $[0, a]$ ($a \in]0, 1[$)



<input type="checkbox"/>	0	<input type="checkbox"/>	0	<input type="checkbox"/>	0	<input type="checkbox"/>	0	<input type="checkbox"/>	0	<input type="checkbox"/>	0	<input type="checkbox"/>	0	<input type="checkbox"/>	0	<input type="checkbox"/>	0
<input type="checkbox"/>	1	<input type="checkbox"/>	1	<input type="checkbox"/>	1	<input type="checkbox"/>	1	<input type="checkbox"/>	1	<input type="checkbox"/>	1	<input type="checkbox"/>	1	<input type="checkbox"/>	1	<input type="checkbox"/>	1
<input type="checkbox"/>	2	<input type="checkbox"/>	2	<input type="checkbox"/>	2	<input type="checkbox"/>	2	<input type="checkbox"/>	2	<input type="checkbox"/>	2	<input type="checkbox"/>	2	<input type="checkbox"/>	2	<input type="checkbox"/>	2
<input type="checkbox"/>	3	<input type="checkbox"/>	3	<input type="checkbox"/>	3	<input type="checkbox"/>	3	<input type="checkbox"/>	3	<input type="checkbox"/>	3	<input type="checkbox"/>	3	<input type="checkbox"/>	3	<input type="checkbox"/>	3
<input type="checkbox"/>	4	<input type="checkbox"/>	4	<input type="checkbox"/>	4	<input type="checkbox"/>	4	<input type="checkbox"/>	4	<input type="checkbox"/>	4	<input type="checkbox"/>	4	<input type="checkbox"/>	4	<input type="checkbox"/>	4
<input type="checkbox"/>	5	<input type="checkbox"/>	5	<input type="checkbox"/>	5	<input type="checkbox"/>	5	<input type="checkbox"/>	5	<input type="checkbox"/>	5	<input type="checkbox"/>	5	<input type="checkbox"/>	5	<input type="checkbox"/>	5
<input type="checkbox"/>	6	<input type="checkbox"/>	6	<input type="checkbox"/>	6	<input type="checkbox"/>	6	<input type="checkbox"/>	6	<input type="checkbox"/>	6	<input type="checkbox"/>	6	<input type="checkbox"/>	6	<input type="checkbox"/>	6
<input type="checkbox"/>	7	<input type="checkbox"/>	7	<input type="checkbox"/>	7	<input type="checkbox"/>	7	<input type="checkbox"/>	7	<input type="checkbox"/>	7	<input type="checkbox"/>	7	<input type="checkbox"/>	7	<input type="checkbox"/>	7
<input type="checkbox"/>	8	<input type="checkbox"/>	8	<input type="checkbox"/>	8	<input type="checkbox"/>	8	<input type="checkbox"/>	8	<input type="checkbox"/>	8	<input type="checkbox"/>	8	<input type="checkbox"/>	8	<input type="checkbox"/>	8
<input type="checkbox"/>	9	<input type="checkbox"/>	9	<input type="checkbox"/>	9	<input type="checkbox"/>	9	<input type="checkbox"/>	9	<input type="checkbox"/>	9	<input type="checkbox"/>	9	<input type="checkbox"/>	9	<input type="checkbox"/>	9

QCM3L Suites de Fonctions Préing2

← codez votre numéro d'étudiant ci-contre, et inscrivez votre nom et prénom ci-dessous (le NOM d'abord!).

Nom et prénom :

.....

.....

Les cases doivent être complètement noircies avec un stylo NOIR.

Question 1 ♣

Soit $(f_n)_{n \geq 0}$ une suite de fonctions définies sur un intervalle $I \subset \mathbb{R}$ à valeur dans \mathbb{R} . Quelles les conditions nécessaires pour appliquer le théorème d'inversion limites-dérivations?

- Pour tout $n \in \mathbb{N}$, les fonctions f_n sont de classe C^1 sur I .
- $\forall x_0 \in I$, la suite $(f_n(x_0))_{n \geq 0}$ converge.
- La suite de fonctions (f_n) converge uniformément sur I vers une fonction f continue.
- $\exists x_0 \in I$, tel que la suite numérique $(f_n(x_0))_{n \geq 0}$ converge.
- La suite de fonctions (f'_n) converge uniformément sur I vers une fonction g .

Question 2 ♣

Choisir les suites de fonctions $(f_n)_{n \geq 0}$ qui convergent uniformément vers leur limite simple:

- | | |
|---|--|
| <input type="checkbox"/> $f_n(x) = \frac{e^{-x}}{n}$ sur $]0; +\infty[$ | <input type="checkbox"/> $f_n(x) = \frac{e^{-x}}{n}$ sur $] - \infty, 0]$ |
| <input type="checkbox"/> $f_n(x) = nxe^{-nx}$ sur $[0; 1[$ | <input type="checkbox"/> $f_n(x) = nxe^{-nx}$ sur $[0; +\infty[$ |
| <input type="checkbox"/> $f_n(x) = nxe^{-nx}$ sur $[1; 2]$ | <input type="checkbox"/> $f_n(x) = nxe^{-nx}$ sur $[a; +\infty[$ avec $a \in]0; 1[$ |

Question 3 ♣

Soit $(f_n)_{n \geq 0}$ une suite de fonctions définies par $f_n(x) = x^n \ln(x)$ pour $x \in]0, 1]$ et $f_n(0) = 0$. Alors

- $(f_n)_{n \geq 0}$ converge uniformément sur $[a, 1]$ ($a \in]0, 1[$)
- $(f_n)_{n \geq 0}$ converge uniformément sur $[0, 1]$
- $(f_n)_{n \geq 0}$ converge uniformément sur $[0, a]$ ($a \in]0, 1[$)

Question 4 ♣

On définit la suite de fonctions $f_n(x) = \frac{e^{-nx}}{1+x}$. Alors, la suite $(f_n)_{n \geq 0}$

- converge uniformément sur $[0, +\infty[$
- converge uniformément sur $[1, +\infty[$ et la fonction limite est continue
- converge uniformément sur $[0, 1]$ et la fonction limite est continue



<input type="checkbox"/>	0	<input type="checkbox"/>	0	<input type="checkbox"/>	0	<input type="checkbox"/>	0	<input type="checkbox"/>	0	<input type="checkbox"/>	0	<input type="checkbox"/>	0	<input type="checkbox"/>	0	<input type="checkbox"/>	0
<input type="checkbox"/>	1	<input type="checkbox"/>	1	<input type="checkbox"/>	1	<input type="checkbox"/>	1	<input type="checkbox"/>	1	<input type="checkbox"/>	1	<input type="checkbox"/>	1	<input type="checkbox"/>	1	<input type="checkbox"/>	1
<input type="checkbox"/>	2	<input type="checkbox"/>	2	<input type="checkbox"/>	2	<input type="checkbox"/>	2	<input type="checkbox"/>	2	<input type="checkbox"/>	2	<input type="checkbox"/>	2	<input type="checkbox"/>	2	<input type="checkbox"/>	2
<input type="checkbox"/>	3	<input type="checkbox"/>	3	<input type="checkbox"/>	3	<input type="checkbox"/>	3	<input type="checkbox"/>	3	<input type="checkbox"/>	3	<input type="checkbox"/>	3	<input type="checkbox"/>	3	<input type="checkbox"/>	3
<input type="checkbox"/>	4	<input type="checkbox"/>	4	<input type="checkbox"/>	4	<input type="checkbox"/>	4	<input type="checkbox"/>	4	<input type="checkbox"/>	4	<input type="checkbox"/>	4	<input type="checkbox"/>	4	<input type="checkbox"/>	4
<input type="checkbox"/>	5	<input type="checkbox"/>	5	<input type="checkbox"/>	5	<input type="checkbox"/>	5	<input type="checkbox"/>	5	<input type="checkbox"/>	5	<input type="checkbox"/>	5	<input type="checkbox"/>	5	<input type="checkbox"/>	5
<input type="checkbox"/>	6	<input type="checkbox"/>	6	<input type="checkbox"/>	6	<input type="checkbox"/>	6	<input type="checkbox"/>	6	<input type="checkbox"/>	6	<input type="checkbox"/>	6	<input type="checkbox"/>	6	<input type="checkbox"/>	6
<input type="checkbox"/>	7	<input type="checkbox"/>	7	<input type="checkbox"/>	7	<input type="checkbox"/>	7	<input type="checkbox"/>	7	<input type="checkbox"/>	7	<input type="checkbox"/>	7	<input type="checkbox"/>	7	<input type="checkbox"/>	7
<input type="checkbox"/>	8	<input type="checkbox"/>	8	<input type="checkbox"/>	8	<input type="checkbox"/>	8	<input type="checkbox"/>	8	<input type="checkbox"/>	8	<input type="checkbox"/>	8	<input type="checkbox"/>	8	<input type="checkbox"/>	8
<input type="checkbox"/>	9	<input type="checkbox"/>	9	<input type="checkbox"/>	9	<input type="checkbox"/>	9	<input type="checkbox"/>	9	<input type="checkbox"/>	9	<input type="checkbox"/>	9	<input type="checkbox"/>	9	<input type="checkbox"/>	9

QCM3L Suites de Fonctions Préing2

← codez votre numéro d'étudiant ci-contre, et inscrivez votre nom et prénom ci-dessous (le NOM d'abord!).

Nom et prénom :

.....

.....

Les cases doivent être complètement noircies avec un stylo NOIR.

Question 1 ♣

Soit $(f_n)_{n \geq 0}$ une suite de fonctions définies sur un intervalle $I \subset \mathbb{R}$ à valeur dans \mathbb{R} . Quelles les conditions nécessaires pour appliquer le théorème d'interversion limites-dérivations?

- La suite de fonctions (f'_n) converge uniformément sur I vers une fonction g .
- $\exists x_0 \in I$, tel que la suite numérique $(f_n(x_0))_{n \geq 0}$ converge.
- $\forall x_0 \in I$, la suite $(f_n(x_0))_{n \geq 0}$ converge.
- Pour tout $n \in \mathbb{N}$, les fonctions f_n sont de classe C^1 sur I.
- La suite de fonctions (f_n) converge uniformément sur I vers une fonction f continue.

Question 2 ♣

Choisir les suites de fonctions $(f_n)_{n \geq 0}$ qui convergent uniformément vers leur limite simple:

- $f_n(x) = nxe^{-nx}$ sur $[a; +\infty[$ avec $a \in]0; 1[$
- $f_n(x) = nxe^{-nx}$ sur $[1; 2]$
- $f_n(x) = nxe^{-nx}$ sur $[0; +\infty[$
- $f_n(x) = \frac{e^{-x}}{n}$ sur $]0; +\infty[$
- $f_n(x) = \frac{e^{-x}}{n}$ sur $] - \infty, 0]$
- $f_n(x) = nxe^{-nx}$ sur $[0; 1[$

Question 3 ♣

On définit la suite de fonctions $f_n(x) = \frac{e^{-nx}}{1+x}$. Alors, la suite $(f_n)_{n \geq 0}$

- converge uniformément sur $[1, +\infty[$ et la fonction limite est continue
- converge uniformément sur $[0, 1]$ et la fonction limite est continue
- converge uniformément sur $[0, +\infty[$

Question 4 ♣

Soit $(f_n)_{n \geq 0}$ une suite de fonctions définies par $f_n(x) = x^n \ln(x)$ pour $x \in]0, 1]$ et $f_n(0) = 0$. Alors

- $(f_n)_{n \geq 0}$ converge uniformément sur $[0, a]$ ($a \in]0, 1[$)
- $(f_n)_{n \geq 0}$ converge uniformément sur $[0, 1]$
- $(f_n)_{n \geq 0}$ converge uniformément sur $[a, 1]$ ($a \in]0, 1[$)



<input type="checkbox"/>	0	<input type="checkbox"/>	0	<input type="checkbox"/>	0	<input type="checkbox"/>	0	<input type="checkbox"/>	0	<input type="checkbox"/>	0	<input type="checkbox"/>	0	<input type="checkbox"/>	0	<input type="checkbox"/>	0
<input type="checkbox"/>	1	<input type="checkbox"/>	1	<input type="checkbox"/>	1	<input type="checkbox"/>	1	<input type="checkbox"/>	1	<input type="checkbox"/>	1	<input type="checkbox"/>	1	<input type="checkbox"/>	1	<input type="checkbox"/>	1
<input type="checkbox"/>	2	<input type="checkbox"/>	2	<input type="checkbox"/>	2	<input type="checkbox"/>	2	<input type="checkbox"/>	2	<input type="checkbox"/>	2	<input type="checkbox"/>	2	<input type="checkbox"/>	2	<input type="checkbox"/>	2
<input type="checkbox"/>	3	<input type="checkbox"/>	3	<input type="checkbox"/>	3	<input type="checkbox"/>	3	<input type="checkbox"/>	3	<input type="checkbox"/>	3	<input type="checkbox"/>	3	<input type="checkbox"/>	3	<input type="checkbox"/>	3
<input type="checkbox"/>	4	<input type="checkbox"/>	4	<input type="checkbox"/>	4	<input type="checkbox"/>	4	<input type="checkbox"/>	4	<input type="checkbox"/>	4	<input type="checkbox"/>	4	<input type="checkbox"/>	4	<input type="checkbox"/>	4
<input type="checkbox"/>	5	<input type="checkbox"/>	5	<input type="checkbox"/>	5	<input type="checkbox"/>	5	<input type="checkbox"/>	5	<input type="checkbox"/>	5	<input type="checkbox"/>	5	<input type="checkbox"/>	5	<input type="checkbox"/>	5
<input type="checkbox"/>	6	<input type="checkbox"/>	6	<input type="checkbox"/>	6	<input type="checkbox"/>	6	<input type="checkbox"/>	6	<input type="checkbox"/>	6	<input type="checkbox"/>	6	<input type="checkbox"/>	6	<input type="checkbox"/>	6
<input type="checkbox"/>	7	<input type="checkbox"/>	7	<input type="checkbox"/>	7	<input type="checkbox"/>	7	<input type="checkbox"/>	7	<input type="checkbox"/>	7	<input type="checkbox"/>	7	<input type="checkbox"/>	7	<input type="checkbox"/>	7
<input type="checkbox"/>	8	<input type="checkbox"/>	8	<input type="checkbox"/>	8	<input type="checkbox"/>	8	<input type="checkbox"/>	8	<input type="checkbox"/>	8	<input type="checkbox"/>	8	<input type="checkbox"/>	8	<input type="checkbox"/>	8
<input type="checkbox"/>	9	<input type="checkbox"/>	9	<input type="checkbox"/>	9	<input type="checkbox"/>	9	<input type="checkbox"/>	9	<input type="checkbox"/>	9	<input type="checkbox"/>	9	<input type="checkbox"/>	9	<input type="checkbox"/>	9

QCM3L Suites de Fonctions Préing2

← codez votre numéro d'étudiant ci-contre, et inscrivez votre nom et prénom ci-dessous (le NOM d'abord!).

Nom et prénom :

.....

.....

Les cases doivent être complètement noircies avec un stylo NOIR.

Question 1 ♣

Soit $(f_n)_{n \geq 0}$ une suite de fonctions définies par $f_n(x) = x^n \ln(x)$ pour $x \in]0, 1]$ et $f_n(0) = 0$. Alors

- $(f_n)_{n \geq 0}$ converge uniformément sur $[0, 1]$
- $(f_n)_{n \geq 0}$ converge uniformément sur $[0, a]$ ($a \in]0, 1[$)
- $(f_n)_{n \geq 0}$ converge uniformément sur $[a, 1]$ ($a \in]0, 1[$)

Question 2 ♣

Soit $(f_n)_{n \geq 0}$ une suite de fonctions définies sur un intervalle $I \subset \mathbb{R}$ à valeur dans \mathbb{R} . Quelles les conditions nécessaires pour appliquer le théorème d'interversion limites-dérivations?

- Pour tout $n \in \mathbb{N}$, les fonctions f_n sont de classe C^1 sur I .
- $\forall x_0 \in I$, la suite $(f_n(x_0))_{n \geq 0}$ converge.
- La suite de fonctions (f_n) converge uniformément sur I vers une fonction f continue.
- La suite de fonctions (f'_n) converge uniformément sur I vers une fonction g .
- $\exists x_0 \in I$, tel que la suite numérique $(f_n(x_0))_{n \geq 0}$ converge.

Question 3 ♣

On définit la suite de fonctions $f_n(x) = \frac{e^{-nx}}{1+x}$. Alors, la suite $(f_n)_{n \geq 0}$

- converge uniformément sur $[0, +\infty[$
- converge uniformément sur $[0, 1]$ et la fonction limite est continue
- converge uniformément sur $[1, +\infty[$ et la fonction limite est continue

Question 4 ♣

Choisir les suites de fonctions $(f_n)_{n \geq 0}$ qui convergent uniformément vers leur limite simple:

- | | |
|---|--|
| <input type="checkbox"/> $f_n(x) = nxe^{-nx}$ sur $[0; +\infty[$ | <input type="checkbox"/> $f_n(x) = nxe^{-nx}$ sur $[a; +\infty[$ avec $a \in]0; 1[$ |
| <input type="checkbox"/> $f_n(x) = \frac{e^{-x}}{n}$ sur $]0; +\infty[$ | <input type="checkbox"/> $f_n(x) = nxe^{-nx}$ sur $[0; 1[$ |
| <input type="checkbox"/> $f_n(x) = \frac{e^{-x}}{n}$ sur $] - \infty, 0]$ | <input type="checkbox"/> $f_n(x) = nxe^{-nx}$ sur $[1; 2]$ |



<input type="checkbox"/>	0	<input type="checkbox"/>	0	<input type="checkbox"/>	0	<input type="checkbox"/>	0	<input type="checkbox"/>	0	<input type="checkbox"/>	0	<input type="checkbox"/>	0	<input type="checkbox"/>	0	<input type="checkbox"/>	0
<input type="checkbox"/>	1	<input type="checkbox"/>	1	<input type="checkbox"/>	1	<input type="checkbox"/>	1	<input type="checkbox"/>	1	<input type="checkbox"/>	1	<input type="checkbox"/>	1	<input type="checkbox"/>	1	<input type="checkbox"/>	1
<input type="checkbox"/>	2	<input type="checkbox"/>	2	<input type="checkbox"/>	2	<input type="checkbox"/>	2	<input type="checkbox"/>	2	<input type="checkbox"/>	2	<input type="checkbox"/>	2	<input type="checkbox"/>	2	<input type="checkbox"/>	2
<input type="checkbox"/>	3	<input type="checkbox"/>	3	<input type="checkbox"/>	3	<input type="checkbox"/>	3	<input type="checkbox"/>	3	<input type="checkbox"/>	3	<input type="checkbox"/>	3	<input type="checkbox"/>	3	<input type="checkbox"/>	3
<input type="checkbox"/>	4	<input type="checkbox"/>	4	<input type="checkbox"/>	4	<input type="checkbox"/>	4	<input type="checkbox"/>	4	<input type="checkbox"/>	4	<input type="checkbox"/>	4	<input type="checkbox"/>	4	<input type="checkbox"/>	4
<input type="checkbox"/>	5	<input type="checkbox"/>	5	<input type="checkbox"/>	5	<input type="checkbox"/>	5	<input type="checkbox"/>	5	<input type="checkbox"/>	5	<input type="checkbox"/>	5	<input type="checkbox"/>	5	<input type="checkbox"/>	5
<input type="checkbox"/>	6	<input type="checkbox"/>	6	<input type="checkbox"/>	6	<input type="checkbox"/>	6	<input type="checkbox"/>	6	<input type="checkbox"/>	6	<input type="checkbox"/>	6	<input type="checkbox"/>	6	<input type="checkbox"/>	6
<input type="checkbox"/>	7	<input type="checkbox"/>	7	<input type="checkbox"/>	7	<input type="checkbox"/>	7	<input type="checkbox"/>	7	<input type="checkbox"/>	7	<input type="checkbox"/>	7	<input type="checkbox"/>	7	<input type="checkbox"/>	7
<input type="checkbox"/>	8	<input type="checkbox"/>	8	<input type="checkbox"/>	8	<input type="checkbox"/>	8	<input type="checkbox"/>	8	<input type="checkbox"/>	8	<input type="checkbox"/>	8	<input type="checkbox"/>	8	<input type="checkbox"/>	8
<input type="checkbox"/>	9	<input type="checkbox"/>	9	<input type="checkbox"/>	9	<input type="checkbox"/>	9	<input type="checkbox"/>	9	<input type="checkbox"/>	9	<input type="checkbox"/>	9	<input type="checkbox"/>	9	<input type="checkbox"/>	9

QCM3L Suites de Fonctions Préing2

← codez votre numéro d'étudiant ci-contre, et inscrivez votre nom et prénom ci-dessous (le NOM d'abord!).

Nom et prénom :

.....

.....

Les cases doivent être complètement noircies avec un stylo NOIR.

Question 1 ♣

Soit $(f_n)_{n \geq 0}$ une suite de fonctions définies sur un intervalle $I \subset \mathbb{R}$ à valeur dans \mathbb{R} . Quelles les conditions nécessaires pour appliquer le théorème d'inversion limites-dérivations?

- Pour tout $n \in \mathbb{N}$, les fonctions f_n sont de classe C^1 sur I .
- $\forall x_0 \in I$, la suite $(f_n(x_0))_{n \geq 0}$ converge.
- La suite de fonctions (f_n) converge uniformément sur I vers une fonction f continue.
- $\exists x_0 \in I$, tel que la suite numérique $(f_n(x_0))_{n \geq 0}$ converge.
- La suite de fonctions (f'_n) converge uniformément sur I vers une fonction g .

Question 2 ♣

On définit la suite de fonctions $f_n(x) = \frac{e^{-nx}}{1+x}$. Alors, la suite $(f_n)_{n \geq 0}$

- converge uniformément sur $[0, +\infty[$
- converge uniformément sur $[0, 1]$ et la fonction limite est continue
- converge uniformément sur $[1, +\infty[$ et la fonction limite est continue

Question 3 ♣

Soit $(f_n)_{n \geq 0}$ une suite de fonctions définies par $f_n(x) = x^n \ln(x)$ pour $x \in]0, 1]$ et $f_n(0) = 0$. Alors

- $(f_n)_{n \geq 0}$ converge uniformément sur $[a, 1]$ ($a \in]0, 1[$)
- $(f_n)_{n \geq 0}$ converge uniformément sur $[0, a]$ ($a \in]0, 1[$)
- $(f_n)_{n \geq 0}$ converge uniformément sur $[0, 1]$

Question 4 ♣

Choisir les suites de fonctions $(f_n)_{n \geq 0}$ qui convergent uniformément vers leur limite simple:

- | | |
|--|---|
| <input type="checkbox"/> $f_n(x) = nxe^{-nx}$ sur $]0; +\infty[$ | <input type="checkbox"/> $f_n(x) = \frac{e^{-x}}{n}$ sur $]0; +\infty[$ |
| <input type="checkbox"/> $f_n(x) = nxe^{-nx}$ sur $]0; 1[$ | <input type="checkbox"/> $f_n(x) = \frac{e^{-x}}{n}$ sur $] - \infty, 0]$ |
| <input type="checkbox"/> $f_n(x) = nxe^{-nx}$ sur $[a; +\infty[$ avec $a \in]0; 1[$ | <input type="checkbox"/> $f_n(x) = nxe^{-nx}$ sur $[1; 2]$ |



<input type="checkbox"/>	0	<input type="checkbox"/>	0	<input type="checkbox"/>	0	<input type="checkbox"/>	0	<input type="checkbox"/>	0	<input type="checkbox"/>	0	<input type="checkbox"/>	0	<input type="checkbox"/>	0	<input type="checkbox"/>	0
<input type="checkbox"/>	1	<input type="checkbox"/>	1	<input type="checkbox"/>	1	<input type="checkbox"/>	1	<input type="checkbox"/>	1	<input type="checkbox"/>	1	<input type="checkbox"/>	1	<input type="checkbox"/>	1	<input type="checkbox"/>	1
<input type="checkbox"/>	2	<input type="checkbox"/>	2	<input type="checkbox"/>	2	<input type="checkbox"/>	2	<input type="checkbox"/>	2	<input type="checkbox"/>	2	<input type="checkbox"/>	2	<input type="checkbox"/>	2	<input type="checkbox"/>	2
<input type="checkbox"/>	3	<input type="checkbox"/>	3	<input type="checkbox"/>	3	<input type="checkbox"/>	3	<input type="checkbox"/>	3	<input type="checkbox"/>	3	<input type="checkbox"/>	3	<input type="checkbox"/>	3	<input type="checkbox"/>	3
<input type="checkbox"/>	4	<input type="checkbox"/>	4	<input type="checkbox"/>	4	<input type="checkbox"/>	4	<input type="checkbox"/>	4	<input type="checkbox"/>	4	<input type="checkbox"/>	4	<input type="checkbox"/>	4	<input type="checkbox"/>	4
<input type="checkbox"/>	5	<input type="checkbox"/>	5	<input type="checkbox"/>	5	<input type="checkbox"/>	5	<input type="checkbox"/>	5	<input type="checkbox"/>	5	<input type="checkbox"/>	5	<input type="checkbox"/>	5	<input type="checkbox"/>	5
<input type="checkbox"/>	6	<input type="checkbox"/>	6	<input type="checkbox"/>	6	<input type="checkbox"/>	6	<input type="checkbox"/>	6	<input type="checkbox"/>	6	<input type="checkbox"/>	6	<input type="checkbox"/>	6	<input type="checkbox"/>	6
<input type="checkbox"/>	7	<input type="checkbox"/>	7	<input type="checkbox"/>	7	<input type="checkbox"/>	7	<input type="checkbox"/>	7	<input type="checkbox"/>	7	<input type="checkbox"/>	7	<input type="checkbox"/>	7	<input type="checkbox"/>	7
<input type="checkbox"/>	8	<input type="checkbox"/>	8	<input type="checkbox"/>	8	<input type="checkbox"/>	8	<input type="checkbox"/>	8	<input type="checkbox"/>	8	<input type="checkbox"/>	8	<input type="checkbox"/>	8	<input type="checkbox"/>	8
<input type="checkbox"/>	9	<input type="checkbox"/>	9	<input type="checkbox"/>	9	<input type="checkbox"/>	9	<input type="checkbox"/>	9	<input type="checkbox"/>	9	<input type="checkbox"/>	9	<input type="checkbox"/>	9	<input type="checkbox"/>	9

QCM3L Suites de Fonctions Préing2

← codez votre numéro d'étudiant ci-contre, et inscrivez votre nom et prénom ci-dessous (le NOM d'abord!).

Nom et prénom :

.....

.....

Les cases doivent être complètement noircies avec un stylo NOIR.

Question 1 ♣

Soit $(f_n)_{n \geq 0}$ une suite de fonctions définies par $f_n(x) = x^n \ln(x)$ pour $x \in]0, 1]$ et $f_n(0) = 0$. Alors

- $(f_n)_{n \geq 0}$ converge uniformément sur $[0, a]$ ($a \in]0, 1[$)
- $(f_n)_{n \geq 0}$ converge uniformément sur $[0, 1]$
- $(f_n)_{n \geq 0}$ converge uniformément sur $[a, 1]$ ($a \in]0, 1[$)

Question 2 ♣

Soit $(f_n)_{n \geq 0}$ une suite de fonctions définies sur un intervalle $I \subset \mathbb{R}$ à valeur dans \mathbb{R} . Quelles les conditions nécessaires pour appliquer le théorème d'interversion limites-dérivations?

- $\exists x_0 \in I$, tel que la suite numérique $(f_n(x_0))_{n \geq 0}$ converge.
- La suite de fonctions (f_n) converge uniformément sur I vers une fonction f continue.
- $\forall x_0 \in I$, la suite $(f_n(x_0))_{n \geq 0}$ converge.
- Pour tout $n \in \mathbb{N}$, les fonctions f_n sont de classe C^1 sur I.
- La suite de fonctions (f'_n) converge uniformément sur I vers une fonction g .

Question 3 ♣

Choisir les suites de fonctions $(f_n)_{n \geq 0}$ qui convergent uniformément vers leur limite simple:

- | | |
|--|---|
| <input type="checkbox"/> $f_n(x) = nxe^{-nx}$ sur $[0; 1[$ | <input type="checkbox"/> $f_n(x) = \frac{e^{-x}}{n}$ sur $] - \infty, 0]$ |
| <input type="checkbox"/> $f_n(x) = nxe^{-nx}$ sur $[a; +\infty[$ avec $a \in]0; 1[$ | <input type="checkbox"/> $f_n(x) = nxe^{-nx}$ sur $[1; 2]$ |
| <input type="checkbox"/> $f_n(x) = nxe^{-nx}$ sur $[0; +\infty[$ | <input type="checkbox"/> $f_n(x) = \frac{e^{-x}}{n}$ sur $]0; +\infty[$ |

Question 4 ♣

On définit la suite de fonctions $f_n(x) = \frac{e^{-nx}}{1+x}$. Alors, la suite $(f_n)_{n \geq 0}$

- converge uniformément sur $[0, 1]$ et la fonction limite est continue
- converge uniformément sur $[0, +\infty[$
- converge uniformément sur $[1, +\infty[$ et la fonction limite est continue



<input type="checkbox"/>	0	<input type="checkbox"/>	0	<input type="checkbox"/>	0	<input type="checkbox"/>	0	<input type="checkbox"/>	0	<input type="checkbox"/>	0	<input type="checkbox"/>	0
<input type="checkbox"/>	1	<input type="checkbox"/>	1	<input type="checkbox"/>	1	<input type="checkbox"/>	1	<input type="checkbox"/>	1	<input type="checkbox"/>	1	<input type="checkbox"/>	1
<input type="checkbox"/>	2	<input type="checkbox"/>	2	<input type="checkbox"/>	2	<input type="checkbox"/>	2	<input type="checkbox"/>	2	<input type="checkbox"/>	2	<input type="checkbox"/>	2
<input type="checkbox"/>	3	<input type="checkbox"/>	3	<input type="checkbox"/>	3	<input type="checkbox"/>	3	<input type="checkbox"/>	3	<input type="checkbox"/>	3	<input type="checkbox"/>	3
<input type="checkbox"/>	4	<input type="checkbox"/>	4	<input type="checkbox"/>	4	<input type="checkbox"/>	4	<input type="checkbox"/>	4	<input type="checkbox"/>	4	<input type="checkbox"/>	4
<input type="checkbox"/>	5	<input type="checkbox"/>	5	<input type="checkbox"/>	5	<input type="checkbox"/>	5	<input type="checkbox"/>	5	<input type="checkbox"/>	5	<input type="checkbox"/>	5
<input type="checkbox"/>	6	<input type="checkbox"/>	6	<input type="checkbox"/>	6	<input type="checkbox"/>	6	<input type="checkbox"/>	6	<input type="checkbox"/>	6	<input type="checkbox"/>	6
<input type="checkbox"/>	7	<input type="checkbox"/>	7	<input type="checkbox"/>	7	<input type="checkbox"/>	7	<input type="checkbox"/>	7	<input type="checkbox"/>	7	<input type="checkbox"/>	7
<input type="checkbox"/>	8	<input type="checkbox"/>	8	<input type="checkbox"/>	8	<input type="checkbox"/>	8	<input type="checkbox"/>	8	<input type="checkbox"/>	8	<input type="checkbox"/>	8
<input type="checkbox"/>	9	<input type="checkbox"/>	9	<input type="checkbox"/>	9	<input type="checkbox"/>	9	<input type="checkbox"/>	9	<input type="checkbox"/>	9	<input type="checkbox"/>	9

QCM3L Suites de Fonctions Préing2

← codez votre numéro d'étudiant ci-contre, et inscrivez votre nom et prénom ci-dessous (le NOM d'abord!).

Nom et prénom :

.....

.....

Les cases doivent être complètement noircies avec un stylo NOIR.

Question 1 ♣

On définit la suite de fonctions $f_n(x) = \frac{e^{-nx}}{1+x}$. Alors, la suite $(f_n)_{n \geq 0}$

- converge uniformément sur $[0, 1]$ et la fonction limite est continue
- converge uniformément sur $[1, +\infty[$ et la fonction limite est continue
- converge uniformément sur $[0, +\infty[$

Question 2 ♣

Soit $(f_n)_{n \geq 0}$ une suite de fonctions définies par $f_n(x) = x^n \ln(x)$ pour $x \in]0, 1]$ et $f_n(0) = 0$. Alors

- $(f_n)_{n \geq 0}$ converge uniformément sur $[a, 1]$ ($a \in]0, 1[$)
- $(f_n)_{n \geq 0}$ converge uniformément sur $[0, a]$ ($a \in]0, 1[$)
- $(f_n)_{n \geq 0}$ converge uniformément sur $[0, 1]$

Question 3 ♣

Soit $(f_n)_{n \geq 0}$ une suite de fonctions définies sur un intervalle $I \subset \mathbb{R}$ à valeur dans \mathbb{R} . Quelles les conditions nécessaires pour appliquer le théorème d'interversion limites-dérivations?

- La suite de fonctions (f_n) converge uniformément sur I vers une fonction f continue.
- Pour tout $n \in \mathbb{N}$, les fonctions f_n sont de classe C^1 sur I.
- $\exists x_0 \in I$, tel que la suite numérique $(f_n(x_0))_{n \geq 0}$ converge.
- La suite de fonctions (f'_n) converge uniformément sur I vers une fonction g .
- $\forall x_0 \in I$, la suite $(f_n(x_0))_{n \geq 0}$ converge.

Question 4 ♣

Choisir les suites de fonctions $(f_n)_{n \geq 0}$ qui convergent uniformément vers leur limite simple:

- | | |
|--|--|
| <input type="checkbox"/> $f_n(x) = nxe^{-nx}$ sur $[0; +\infty[$ | <input type="checkbox"/> $f_n(x) = nxe^{-nx}$ sur $[a; +\infty[$ avec $a \in]0; 1[$ |
| <input type="checkbox"/> $f_n(x) = \frac{e^{-x}}{n}$ sur $] -\infty, 0]$ | <input type="checkbox"/> $f_n(x) = nxe^{-nx}$ sur $[0; 1[$ |
| <input type="checkbox"/> $f_n(x) = nxe^{-nx}$ sur $[1; 2]$ | <input type="checkbox"/> $f_n(x) = \frac{e^{-x}}{n}$ sur $]0; +\infty[$ |



<input type="checkbox"/>	0	<input type="checkbox"/>	0	<input type="checkbox"/>	0	<input type="checkbox"/>	0	<input type="checkbox"/>	0	<input type="checkbox"/>	0	<input type="checkbox"/>	0	<input type="checkbox"/>	0	<input type="checkbox"/>	0
<input type="checkbox"/>	1	<input type="checkbox"/>	1	<input type="checkbox"/>	1	<input type="checkbox"/>	1	<input type="checkbox"/>	1	<input type="checkbox"/>	1	<input type="checkbox"/>	1	<input type="checkbox"/>	1	<input type="checkbox"/>	1
<input type="checkbox"/>	2	<input type="checkbox"/>	2	<input type="checkbox"/>	2	<input type="checkbox"/>	2	<input type="checkbox"/>	2	<input type="checkbox"/>	2	<input type="checkbox"/>	2	<input type="checkbox"/>	2	<input type="checkbox"/>	2
<input type="checkbox"/>	3	<input type="checkbox"/>	3	<input type="checkbox"/>	3	<input type="checkbox"/>	3	<input type="checkbox"/>	3	<input type="checkbox"/>	3	<input type="checkbox"/>	3	<input type="checkbox"/>	3	<input type="checkbox"/>	3
<input type="checkbox"/>	4	<input type="checkbox"/>	4	<input type="checkbox"/>	4	<input type="checkbox"/>	4	<input type="checkbox"/>	4	<input type="checkbox"/>	4	<input type="checkbox"/>	4	<input type="checkbox"/>	4	<input type="checkbox"/>	4
<input type="checkbox"/>	5	<input type="checkbox"/>	5	<input type="checkbox"/>	5	<input type="checkbox"/>	5	<input type="checkbox"/>	5	<input type="checkbox"/>	5	<input type="checkbox"/>	5	<input type="checkbox"/>	5	<input type="checkbox"/>	5
<input type="checkbox"/>	6	<input type="checkbox"/>	6	<input type="checkbox"/>	6	<input type="checkbox"/>	6	<input type="checkbox"/>	6	<input type="checkbox"/>	6	<input type="checkbox"/>	6	<input type="checkbox"/>	6	<input type="checkbox"/>	6
<input type="checkbox"/>	7	<input type="checkbox"/>	7	<input type="checkbox"/>	7	<input type="checkbox"/>	7	<input type="checkbox"/>	7	<input type="checkbox"/>	7	<input type="checkbox"/>	7	<input type="checkbox"/>	7	<input type="checkbox"/>	7
<input type="checkbox"/>	8	<input type="checkbox"/>	8	<input type="checkbox"/>	8	<input type="checkbox"/>	8	<input type="checkbox"/>	8	<input type="checkbox"/>	8	<input type="checkbox"/>	8	<input type="checkbox"/>	8	<input type="checkbox"/>	8
<input type="checkbox"/>	9	<input type="checkbox"/>	9	<input type="checkbox"/>	9	<input type="checkbox"/>	9	<input type="checkbox"/>	9	<input type="checkbox"/>	9	<input type="checkbox"/>	9	<input type="checkbox"/>	9	<input type="checkbox"/>	9

QCM3L Suites de Fonctions Préing2

← codez votre numéro d'étudiant ci-contre, et inscrivez votre nom et prénom ci-dessous (le NOM d'abord!).

Nom et prénom :
.....
.....

Les cases doivent être complètement noircies avec un stylo NOIR.

Question 1 ♣

On définit la suite de fonctions $f_n(x) = \frac{e^{-nx}}{1+x}$. Alors, la suite $(f_n)_{n \geq 0}$

- converge uniformément sur $[0, +\infty[$
- converge uniformément sur $[1, +\infty[$ et la fonction limite est continue
- converge uniformément sur $[0, 1]$ et la fonction limite est continue

Question 2 ♣

Soit $(f_n)_{n \geq 0}$ une suite de fonctions définies par $f_n(x) = x^n \ln(x)$ pour $x \in]0, 1]$ et $f_n(0) = 0$. Alors

- $(f_n)_{n \geq 0}$ converge uniformément sur $[0, a]$ ($a \in]0, 1[$)
- $(f_n)_{n \geq 0}$ converge uniformément sur $[a, 1]$ ($a \in]0, 1[$)
- $(f_n)_{n \geq 0}$ converge uniformément sur $[0, 1]$

Question 3 ♣

Choisir les suites de fonctions $(f_n)_{n \geq 0}$ qui convergent uniformément vers leur limite simple:

- | | |
|--|--|
| <input type="checkbox"/> $f_n(x) = \frac{e^{-x}}{n}$ sur $] -\infty, 0]$ | <input type="checkbox"/> $f_n(x) = nxe^{-nx}$ sur $[0; 1[$ |
| <input type="checkbox"/> $f_n(x) = nxe^{-nx}$ sur $[0; +\infty[$ | <input type="checkbox"/> $f_n(x) = \frac{e^{-x}}{n}$ sur $]0; +\infty[$ |
| <input type="checkbox"/> $f_n(x) = nxe^{-nx}$ sur $[1; 2]$ | <input type="checkbox"/> $f_n(x) = nxe^{-nx}$ sur $[a; +\infty[$ avec $a \in]0; 1[$ |

Question 4 ♣

Soit $(f_n)_{n \geq 0}$ une suite de fonctions définies sur un intervalle $I \subset \mathbb{R}$ à valeur dans \mathbb{R} . Quelles les conditions nécessaires pour appliquer le théorème d'interversion limites-dérivations?

- La suite de fonctions (f_n) converge uniformément sur I vers une fonction f continue.
- $\exists x_0 \in I$, tel que la suite numérique $(f_n(x_0))_{n \geq 0}$ converge.
- $\forall x_0 \in I$, la suite $(f_n(x_0))_{n \geq 0}$ converge.
- Pour tout $n \in \mathbb{N}$, les fonctions f_n sont de classe C^1 sur I.
- La suite de fonctions (f'_n) converge uniformément sur I vers une fonction g .



<input type="checkbox"/>	0	<input type="checkbox"/>	0	<input type="checkbox"/>	0	<input type="checkbox"/>	0	<input type="checkbox"/>	0	<input type="checkbox"/>	0	<input type="checkbox"/>	0	<input type="checkbox"/>	0	<input type="checkbox"/>	0
<input type="checkbox"/>	1	<input type="checkbox"/>	1	<input type="checkbox"/>	1	<input type="checkbox"/>	1	<input type="checkbox"/>	1	<input type="checkbox"/>	1	<input type="checkbox"/>	1	<input type="checkbox"/>	1	<input type="checkbox"/>	1
<input type="checkbox"/>	2	<input type="checkbox"/>	2	<input type="checkbox"/>	2	<input type="checkbox"/>	2	<input type="checkbox"/>	2	<input type="checkbox"/>	2	<input type="checkbox"/>	2	<input type="checkbox"/>	2	<input type="checkbox"/>	2
<input type="checkbox"/>	3	<input type="checkbox"/>	3	<input type="checkbox"/>	3	<input type="checkbox"/>	3	<input type="checkbox"/>	3	<input type="checkbox"/>	3	<input type="checkbox"/>	3	<input type="checkbox"/>	3	<input type="checkbox"/>	3
<input type="checkbox"/>	4	<input type="checkbox"/>	4	<input type="checkbox"/>	4	<input type="checkbox"/>	4	<input type="checkbox"/>	4	<input type="checkbox"/>	4	<input type="checkbox"/>	4	<input type="checkbox"/>	4	<input type="checkbox"/>	4
<input type="checkbox"/>	5	<input type="checkbox"/>	5	<input type="checkbox"/>	5	<input type="checkbox"/>	5	<input type="checkbox"/>	5	<input type="checkbox"/>	5	<input type="checkbox"/>	5	<input type="checkbox"/>	5	<input type="checkbox"/>	5
<input type="checkbox"/>	6	<input type="checkbox"/>	6	<input type="checkbox"/>	6	<input type="checkbox"/>	6	<input type="checkbox"/>	6	<input type="checkbox"/>	6	<input type="checkbox"/>	6	<input type="checkbox"/>	6	<input type="checkbox"/>	6
<input type="checkbox"/>	7	<input type="checkbox"/>	7	<input type="checkbox"/>	7	<input type="checkbox"/>	7	<input type="checkbox"/>	7	<input type="checkbox"/>	7	<input type="checkbox"/>	7	<input type="checkbox"/>	7	<input type="checkbox"/>	7
<input type="checkbox"/>	8	<input type="checkbox"/>	8	<input type="checkbox"/>	8	<input type="checkbox"/>	8	<input type="checkbox"/>	8	<input type="checkbox"/>	8	<input type="checkbox"/>	8	<input type="checkbox"/>	8	<input type="checkbox"/>	8
<input type="checkbox"/>	9	<input type="checkbox"/>	9	<input type="checkbox"/>	9	<input type="checkbox"/>	9	<input type="checkbox"/>	9	<input type="checkbox"/>	9	<input type="checkbox"/>	9	<input type="checkbox"/>	9	<input type="checkbox"/>	9

QCM3L Suites de Fonctions Préing2

← codez votre numéro d'étudiant ci-contre, et inscrivez votre nom et prénom ci-dessous (le NOM d'abord!).

Nom et prénom :

.....

.....

Les cases doivent être complètement noircies avec un stylo NOIR.

Question 1 ♣

Choisir les suites de fonctions $(f_n)_{n \geq 0}$ qui convergent uniformément vers leur limite simple:

- | | |
|--|---|
| <input type="checkbox"/> $f_n(x) = nxe^{-nx}$ sur $[0; +\infty[$ | <input type="checkbox"/> $f_n(x) = nxe^{-nx}$ sur $[0; 1[$ |
| <input type="checkbox"/> $f_n(x) = \frac{e^{-x}}{n}$ sur $] - \infty, 0]$ | <input type="checkbox"/> $f_n(x) = \frac{e^{-x}}{n}$ sur $]0; +\infty[$ |
| <input type="checkbox"/> $f_n(x) = nxe^{-nx}$ sur $[a; +\infty[$ avec $a \in]0; 1[$ | <input type="checkbox"/> $f_n(x) = nxe^{-nx}$ sur $[1; 2]$ |

Question 2 ♣

On définit la suite de fonctions $f_n(x) = \frac{e^{-nx}}{1+x}$. Alors, la suite $(f_n)_{n \geq 0}$

- converge uniformément sur $[0, +\infty[$
- converge uniformément sur $[1, +\infty[$ et la fonction limite est continue
- converge uniformément sur $[0, 1]$ et la fonction limite est continue

Question 3 ♣

Soit $(f_n)_{n \geq 0}$ une suite de fonctions définies par $f_n(x) = x^n \ln(x)$ pour $x \in]0, 1]$ et $f_n(0) = 0$. Alors

- $(f_n)_{n \geq 0}$ converge uniformément sur $[a, 1]$ ($a \in]0, 1[$)
- $(f_n)_{n \geq 0}$ converge uniformément sur $[0, a]$ ($a \in]0, 1[$)
- $(f_n)_{n \geq 0}$ converge uniformément sur $[0, 1]$

Question 4 ♣

Soit $(f_n)_{n \geq 0}$ une suite de fonctions définies sur un intervalle $I \subset \mathbb{R}$ à valeur dans \mathbb{R} . Quelles les conditions nécessaires pour appliquer le théorème d'interversion limites-dérivations?

- Pour tout $n \in \mathbb{N}$, les fonctions f_n sont de classe C^1 sur I .
- $\forall x_0 \in I$, la suite $(f_n(x_0))_{n \geq 0}$ converge.
- La suite de fonctions (f_n) converge uniformément sur I vers une fonction f continue.
- La suite de fonctions (f'_n) converge uniformément sur I vers une fonction g .
- $\exists x_0 \in I$, tel que la suite numérique $(f_n(x_0))_{n \geq 0}$ converge.



<input type="checkbox"/> 0	<input type="checkbox"/> 0	<input type="checkbox"/> 0	<input type="checkbox"/> 0	<input type="checkbox"/> 0	<input type="checkbox"/> 0	<input type="checkbox"/> 0	<input type="checkbox"/> 0
<input type="checkbox"/> 1	<input type="checkbox"/> 1	<input type="checkbox"/> 1	<input type="checkbox"/> 1	<input type="checkbox"/> 1	<input type="checkbox"/> 1	<input type="checkbox"/> 1	<input type="checkbox"/> 1
<input type="checkbox"/> 2	<input type="checkbox"/> 2	<input type="checkbox"/> 2	<input type="checkbox"/> 2	<input type="checkbox"/> 2	<input type="checkbox"/> 2	<input type="checkbox"/> 2	<input type="checkbox"/> 2
<input type="checkbox"/> 3	<input type="checkbox"/> 3	<input type="checkbox"/> 3	<input type="checkbox"/> 3	<input type="checkbox"/> 3	<input type="checkbox"/> 3	<input type="checkbox"/> 3	<input type="checkbox"/> 3
<input type="checkbox"/> 4	<input type="checkbox"/> 4	<input type="checkbox"/> 4	<input type="checkbox"/> 4	<input type="checkbox"/> 4	<input type="checkbox"/> 4	<input type="checkbox"/> 4	<input type="checkbox"/> 4
<input type="checkbox"/> 5	<input type="checkbox"/> 5	<input type="checkbox"/> 5	<input type="checkbox"/> 5	<input type="checkbox"/> 5	<input type="checkbox"/> 5	<input type="checkbox"/> 5	<input type="checkbox"/> 5
<input type="checkbox"/> 6	<input type="checkbox"/> 6	<input type="checkbox"/> 6	<input type="checkbox"/> 6	<input type="checkbox"/> 6	<input type="checkbox"/> 6	<input type="checkbox"/> 6	<input type="checkbox"/> 6
<input type="checkbox"/> 7	<input type="checkbox"/> 7	<input type="checkbox"/> 7	<input type="checkbox"/> 7	<input type="checkbox"/> 7	<input type="checkbox"/> 7	<input type="checkbox"/> 7	<input type="checkbox"/> 7
<input type="checkbox"/> 8	<input type="checkbox"/> 8	<input type="checkbox"/> 8	<input type="checkbox"/> 8	<input type="checkbox"/> 8	<input type="checkbox"/> 8	<input type="checkbox"/> 8	<input type="checkbox"/> 8
<input type="checkbox"/> 9	<input type="checkbox"/> 9	<input type="checkbox"/> 9	<input type="checkbox"/> 9	<input type="checkbox"/> 9	<input type="checkbox"/> 9	<input type="checkbox"/> 9	<input type="checkbox"/> 9

QCM3L Suites de Fonctions Préing2

← codez votre numéro d'étudiant ci-contre, et inscrivez votre nom et prénom ci-dessous (le NOM d'abord!).

Nom et prénom :

.....

.....

Les cases doivent être complètement noircies avec un stylo NOIR.

Question 1 ♣

On définit la suite de fonctions $f_n(x) = \frac{e^{-nx}}{1+x}$. Alors, la suite $(f_n)_{n \geq 0}$

- converge uniformément sur $[0, 1]$ et la fonction limite est continue
- converge uniformément sur $[0, +\infty[$
- converge uniformément sur $[1, +\infty[$ et la fonction limite est continue

Question 2 ♣

Soit $(f_n)_{n \geq 0}$ une suite de fonctions définies sur un intervalle $I \subset \mathbb{R}$ à valeur dans \mathbb{R} . Quelles les conditions nécessaires pour appliquer le théorème d'interversion limites-dérivations?

- $\exists x_0 \in I$, tel que la suite numérique $(f_n(x_0))_{n \geq 0}$ converge.
- La suite de fonctions (f_n) converge uniformément sur I vers une fonction f continue.
- Pour tout $n \in \mathbb{N}$, les fonctions f_n sont de classe C^1 sur I.
- $\forall x_0 \in I$, la suite $(f_n(x_0))_{n \geq 0}$ converge.
- La suite de fonctions (f'_n) converge uniformément sur I vers une fonction g .

Question 3 ♣

Choisir les suites de fonctions $(f_n)_{n \geq 0}$ qui convergent uniformément vers leur limite simple:

- | | |
|--|--|
| <input type="checkbox"/> $f_n(x) = \frac{e^{-x}}{n}$ sur $]0; +\infty[$ | <input type="checkbox"/> $f_n(x) = nxe^{-nx}$ sur $[1; 2]$ |
| <input type="checkbox"/> $f_n(x) = nxe^{-nx}$ sur $[a; +\infty[$ avec $a \in]0; 1[$ | <input type="checkbox"/> $f_n(x) = \frac{e^{-x}}{n}$ sur $] -\infty, 0]$ |
| <input type="checkbox"/> $f_n(x) = nxe^{-nx}$ sur $[0; 1[$ | <input type="checkbox"/> $f_n(x) = nxe^{-nx}$ sur $[0; +\infty[$ |

Question 4 ♣

Soit $(f_n)_{n \geq 0}$ une suite de fonctions définies par $f_n(x) = x^n \ln(x)$ pour $x \in]0, 1]$ et $f_n(0) = 0$. Alors

- $(f_n)_{n \geq 0}$ converge uniformément sur $[0, a]$ ($a \in]0, 1[$)
- $(f_n)_{n \geq 0}$ converge uniformément sur $[a, 1]$ ($a \in]0, 1[$)
- $(f_n)_{n \geq 0}$ converge uniformément sur $[0, 1]$



<input type="checkbox"/>	0	<input type="checkbox"/>	0	<input type="checkbox"/>	0	<input type="checkbox"/>	0	<input type="checkbox"/>	0	<input type="checkbox"/>	0	<input type="checkbox"/>	0	<input type="checkbox"/>	0	<input type="checkbox"/>	0
<input type="checkbox"/>	1	<input type="checkbox"/>	1	<input type="checkbox"/>	1	<input type="checkbox"/>	1	<input type="checkbox"/>	1	<input type="checkbox"/>	1	<input type="checkbox"/>	1	<input type="checkbox"/>	1	<input type="checkbox"/>	1
<input type="checkbox"/>	2	<input type="checkbox"/>	2	<input type="checkbox"/>	2	<input type="checkbox"/>	2	<input type="checkbox"/>	2	<input type="checkbox"/>	2	<input type="checkbox"/>	2	<input type="checkbox"/>	2	<input type="checkbox"/>	2
<input type="checkbox"/>	3	<input type="checkbox"/>	3	<input type="checkbox"/>	3	<input type="checkbox"/>	3	<input type="checkbox"/>	3	<input type="checkbox"/>	3	<input type="checkbox"/>	3	<input type="checkbox"/>	3	<input type="checkbox"/>	3
<input type="checkbox"/>	4	<input type="checkbox"/>	4	<input type="checkbox"/>	4	<input type="checkbox"/>	4	<input type="checkbox"/>	4	<input type="checkbox"/>	4	<input type="checkbox"/>	4	<input type="checkbox"/>	4	<input type="checkbox"/>	4
<input type="checkbox"/>	5	<input type="checkbox"/>	5	<input type="checkbox"/>	5	<input type="checkbox"/>	5	<input type="checkbox"/>	5	<input type="checkbox"/>	5	<input type="checkbox"/>	5	<input type="checkbox"/>	5	<input type="checkbox"/>	5
<input type="checkbox"/>	6	<input type="checkbox"/>	6	<input type="checkbox"/>	6	<input type="checkbox"/>	6	<input type="checkbox"/>	6	<input type="checkbox"/>	6	<input type="checkbox"/>	6	<input type="checkbox"/>	6	<input type="checkbox"/>	6
<input type="checkbox"/>	7	<input type="checkbox"/>	7	<input type="checkbox"/>	7	<input type="checkbox"/>	7	<input type="checkbox"/>	7	<input type="checkbox"/>	7	<input type="checkbox"/>	7	<input type="checkbox"/>	7	<input type="checkbox"/>	7
<input type="checkbox"/>	8	<input type="checkbox"/>	8	<input type="checkbox"/>	8	<input type="checkbox"/>	8	<input type="checkbox"/>	8	<input type="checkbox"/>	8	<input type="checkbox"/>	8	<input type="checkbox"/>	8	<input type="checkbox"/>	8
<input type="checkbox"/>	9	<input type="checkbox"/>	9	<input type="checkbox"/>	9	<input type="checkbox"/>	9	<input type="checkbox"/>	9	<input type="checkbox"/>	9	<input type="checkbox"/>	9	<input type="checkbox"/>	9	<input type="checkbox"/>	9

QCM3L Suites de Fonctions Préing2

← codez votre numéro d'étudiant ci-contre, et inscrivez votre nom et prénom ci-dessous (le NOM d'abord!).

Nom et prénom :

.....

.....

Les cases doivent être complètement noircies avec un stylo NOIR.

Question 1 ♣

Soit $(f_n)_{n \geq 0}$ une suite de fonctions définies sur un intervalle $I \subset \mathbb{R}$ à valeur dans \mathbb{R} . Quelles les conditions nécessaires pour appliquer le théorème d'inversion limites-dérivations?

- La suite de fonctions (f_n) converge uniformément sur I vers une fonction f continue.
- $\exists x_0 \in I$, tel que la suite numérique $(f_n(x_0))_{n \geq 0}$ converge.
- La suite de fonctions (f'_n) converge uniformément sur I vers une fonction g .
- Pour tout $n \in \mathbb{N}$, les fonctions f_n sont de classe C^1 sur I .
- $\forall x_0 \in I$, la suite $(f_n(x_0))_{n \geq 0}$ converge.

Question 2 ♣

Soit $(f_n)_{n \geq 0}$ une suite de fonctions définies par $f_n(x) = x^n \ln(x)$ pour $x \in]0, 1]$ et $f_n(0) = 0$. Alors

- $(f_n)_{n \geq 0}$ converge uniformément sur $[a, 1]$ ($a \in]0, 1[$)
- $(f_n)_{n \geq 0}$ converge uniformément sur $[0, a]$ ($a \in]0, 1[$)
- $(f_n)_{n \geq 0}$ converge uniformément sur $[0, 1]$

Question 3 ♣

Choisir les suites de fonctions $(f_n)_{n \geq 0}$ qui convergent uniformément vers leur limite simple:

- | | |
|--|---|
| <input type="checkbox"/> $f_n(x) = nxe^{-nx}$ sur $[1; 2]$ | <input type="checkbox"/> $f_n(x) = \frac{e^{-x}}{n}$ sur $] - \infty, 0]$ |
| <input type="checkbox"/> $f_n(x) = \frac{e^{-x}}{n}$ sur $]0; +\infty[$ | <input type="checkbox"/> $f_n(x) = nxe^{-nx}$ sur $[0; +\infty[$ |
| <input type="checkbox"/> $f_n(x) = nxe^{-nx}$ sur $[a; +\infty[$ avec $a \in]0; 1[$ | <input type="checkbox"/> $f_n(x) = nxe^{-nx}$ sur $[0; 1[$ |

Question 4 ♣

On définit la suite de fonctions $f_n(x) = \frac{e^{-nx}}{1+x}$. Alors, la suite $(f_n)_{n \geq 0}$

- converge uniformément sur $[1, +\infty[$ et la fonction limite est continue
- converge uniformément sur $[0, +\infty[$
- converge uniformément sur $[0, 1]$ et la fonction limite est continue



<input type="checkbox"/>	0	<input type="checkbox"/>	0	<input type="checkbox"/>	0	<input type="checkbox"/>	0	<input type="checkbox"/>	0	<input type="checkbox"/>	0	<input type="checkbox"/>	0	<input type="checkbox"/>	0	<input type="checkbox"/>	0
<input type="checkbox"/>	1	<input type="checkbox"/>	1	<input type="checkbox"/>	1	<input type="checkbox"/>	1	<input type="checkbox"/>	1	<input type="checkbox"/>	1	<input type="checkbox"/>	1	<input type="checkbox"/>	1	<input type="checkbox"/>	1
<input type="checkbox"/>	2	<input type="checkbox"/>	2	<input type="checkbox"/>	2	<input type="checkbox"/>	2	<input type="checkbox"/>	2	<input type="checkbox"/>	2	<input type="checkbox"/>	2	<input type="checkbox"/>	2	<input type="checkbox"/>	2
<input type="checkbox"/>	3	<input type="checkbox"/>	3	<input type="checkbox"/>	3	<input type="checkbox"/>	3	<input type="checkbox"/>	3	<input type="checkbox"/>	3	<input type="checkbox"/>	3	<input type="checkbox"/>	3	<input type="checkbox"/>	3
<input type="checkbox"/>	4	<input type="checkbox"/>	4	<input type="checkbox"/>	4	<input type="checkbox"/>	4	<input type="checkbox"/>	4	<input type="checkbox"/>	4	<input type="checkbox"/>	4	<input type="checkbox"/>	4	<input type="checkbox"/>	4
<input type="checkbox"/>	5	<input type="checkbox"/>	5	<input type="checkbox"/>	5	<input type="checkbox"/>	5	<input type="checkbox"/>	5	<input type="checkbox"/>	5	<input type="checkbox"/>	5	<input type="checkbox"/>	5	<input type="checkbox"/>	5
<input type="checkbox"/>	6	<input type="checkbox"/>	6	<input type="checkbox"/>	6	<input type="checkbox"/>	6	<input type="checkbox"/>	6	<input type="checkbox"/>	6	<input type="checkbox"/>	6	<input type="checkbox"/>	6	<input type="checkbox"/>	6
<input type="checkbox"/>	7	<input type="checkbox"/>	7	<input type="checkbox"/>	7	<input type="checkbox"/>	7	<input type="checkbox"/>	7	<input type="checkbox"/>	7	<input type="checkbox"/>	7	<input type="checkbox"/>	7	<input type="checkbox"/>	7
<input type="checkbox"/>	8	<input type="checkbox"/>	8	<input type="checkbox"/>	8	<input type="checkbox"/>	8	<input type="checkbox"/>	8	<input type="checkbox"/>	8	<input type="checkbox"/>	8	<input type="checkbox"/>	8	<input type="checkbox"/>	8
<input type="checkbox"/>	9	<input type="checkbox"/>	9	<input type="checkbox"/>	9	<input type="checkbox"/>	9	<input type="checkbox"/>	9	<input type="checkbox"/>	9	<input type="checkbox"/>	9	<input type="checkbox"/>	9	<input type="checkbox"/>	9

QCM3L Suites de Fonctions Préing2

← codez votre numéro d'étudiant ci-contre, et inscrivez votre nom et prénom ci-dessous (le NOM d'abord!).

Nom et prénom :

.....

.....

Les cases doivent être complètement noircies avec un stylo NOIR.

Question 1 ♣

Soit $(f_n)_{n \geq 0}$ une suite de fonctions définies par $f_n(x) = x^n \ln(x)$ pour $x \in]0, 1]$ et $f_n(0) = 0$. Alors

- $(f_n)_{n \geq 0}$ converge uniformément sur $[a, 1]$ ($a \in]0, 1[$)
- $(f_n)_{n \geq 0}$ converge uniformément sur $[0, a]$ ($a \in]0, 1[$)
- $(f_n)_{n \geq 0}$ converge uniformément sur $[0, 1]$

Question 2 ♣

Choisir les suites de fonctions $(f_n)_{n \geq 0}$ qui convergent uniformément vers leur limite simple:

- | | |
|---|--|
| <input type="checkbox"/> $f_n(x) = \frac{e^{-x}}{n}$ sur $] - \infty, 0]$ | <input type="checkbox"/> $f_n(x) = nxe^{-nx}$ sur $[0; +\infty[$ |
| <input type="checkbox"/> $f_n(x) = \frac{e^{-x}}{n}$ sur $]0; +\infty[$ | <input type="checkbox"/> $f_n(x) = nxe^{-nx}$ sur $[1; 2]$ |
| <input type="checkbox"/> $f_n(x) = nxe^{-nx}$ sur $[0; 1[$ | <input type="checkbox"/> $f_n(x) = nxe^{-nx}$ sur $[a; +\infty[$ avec $a \in]0; 1[$ |

Question 3 ♣

On définit la suite de fonctions $f_n(x) = \frac{e^{-nx}}{1+x}$. Alors, la suite $(f_n)_{n \geq 0}$

- converge uniformément sur $[0, +\infty[$
- converge uniformément sur $[0, 1]$ et la fonction limite est continue
- converge uniformément sur $[1, +\infty[$ et la fonction limite est continue

Question 4 ♣

Soit $(f_n)_{n \geq 0}$ une suite de fonctions définies sur un intervalle $I \subset \mathbb{R}$ à valeur dans \mathbb{R} . Quelles les conditions nécessaires pour appliquer le théorème d'interversion limites-dérivations?

- Pour tout $n \in \mathbb{N}$, les fonctions f_n sont de classe C^1 sur I .
- La suite de fonctions (f'_n) converge uniformément sur I vers une fonction g .
- $\forall x_0 \in I$, la suite $(f_n(x_0))_{n \geq 0}$ converge.
- La suite de fonctions (f_n) converge uniformément sur I vers une fonction f continue.
- $\exists x_0 \in I$, tel que la suite numérique $(f_n(x_0))_{n \geq 0}$ converge.



<input type="checkbox"/>	0	<input type="checkbox"/>	0	<input type="checkbox"/>	0	<input type="checkbox"/>	0	<input type="checkbox"/>	0	<input type="checkbox"/>	0	<input type="checkbox"/>	0	<input type="checkbox"/>	0	<input type="checkbox"/>	0
<input type="checkbox"/>	1	<input type="checkbox"/>	1	<input type="checkbox"/>	1	<input type="checkbox"/>	1	<input type="checkbox"/>	1	<input type="checkbox"/>	1	<input type="checkbox"/>	1	<input type="checkbox"/>	1	<input type="checkbox"/>	1
<input type="checkbox"/>	2	<input type="checkbox"/>	2	<input type="checkbox"/>	2	<input type="checkbox"/>	2	<input type="checkbox"/>	2	<input type="checkbox"/>	2	<input type="checkbox"/>	2	<input type="checkbox"/>	2	<input type="checkbox"/>	2
<input type="checkbox"/>	3	<input type="checkbox"/>	3	<input type="checkbox"/>	3	<input type="checkbox"/>	3	<input type="checkbox"/>	3	<input type="checkbox"/>	3	<input type="checkbox"/>	3	<input type="checkbox"/>	3	<input type="checkbox"/>	3
<input type="checkbox"/>	4	<input type="checkbox"/>	4	<input type="checkbox"/>	4	<input type="checkbox"/>	4	<input type="checkbox"/>	4	<input type="checkbox"/>	4	<input type="checkbox"/>	4	<input type="checkbox"/>	4	<input type="checkbox"/>	4
<input type="checkbox"/>	5	<input type="checkbox"/>	5	<input type="checkbox"/>	5	<input type="checkbox"/>	5	<input type="checkbox"/>	5	<input type="checkbox"/>	5	<input type="checkbox"/>	5	<input type="checkbox"/>	5	<input type="checkbox"/>	5
<input type="checkbox"/>	6	<input type="checkbox"/>	6	<input type="checkbox"/>	6	<input type="checkbox"/>	6	<input type="checkbox"/>	6	<input type="checkbox"/>	6	<input type="checkbox"/>	6	<input type="checkbox"/>	6	<input type="checkbox"/>	6
<input type="checkbox"/>	7	<input type="checkbox"/>	7	<input type="checkbox"/>	7	<input type="checkbox"/>	7	<input type="checkbox"/>	7	<input type="checkbox"/>	7	<input type="checkbox"/>	7	<input type="checkbox"/>	7	<input type="checkbox"/>	7
<input type="checkbox"/>	8	<input type="checkbox"/>	8	<input type="checkbox"/>	8	<input type="checkbox"/>	8	<input type="checkbox"/>	8	<input type="checkbox"/>	8	<input type="checkbox"/>	8	<input type="checkbox"/>	8	<input type="checkbox"/>	8
<input type="checkbox"/>	9	<input type="checkbox"/>	9	<input type="checkbox"/>	9	<input type="checkbox"/>	9	<input type="checkbox"/>	9	<input type="checkbox"/>	9	<input type="checkbox"/>	9	<input type="checkbox"/>	9	<input type="checkbox"/>	9

QCM3L Suites de Fonctions Préing2

← codez votre numéro d'étudiant ci-contre, et inscrivez votre nom et prénom ci-dessous (le NOM d'abord!).

Nom et prénom :

.....

.....

Les cases doivent être complètement noircies avec un stylo NOIR.

Question 1 ♣

Choisir les suites de fonctions $(f_n)_{n \geq 0}$ qui convergent uniformément vers leur limite simple:

- | | |
|--|--|
| <input type="checkbox"/> $f_n(x) = \frac{e^{-x}}{n}$ sur $] -\infty, 0]$ | <input type="checkbox"/> $f_n(x) = \frac{e^{-x}}{n}$ sur $]0; +\infty[$ |
| <input type="checkbox"/> $f_n(x) = nxe^{-nx}$ sur $[1; 2]$ | <input type="checkbox"/> $f_n(x) = nxe^{-nx}$ sur $[0; 1[$ |
| <input type="checkbox"/> $f_n(x) = nxe^{-nx}$ sur $[0; +\infty[$ | <input type="checkbox"/> $f_n(x) = nxe^{-nx}$ sur $[a; +\infty[$ avec $a \in]0; 1[$ |

Question 2 ♣

Soit $(f_n)_{n \geq 0}$ une suite de fonctions définies sur un intervalle $I \subset \mathbb{R}$ à valeur dans \mathbb{R} . Quelles les conditions nécessaires pour appliquer le théorème d'interversion limites-dérivations?

- $\forall x_0 \in I$, la suite $(f_n(x_0))_{n \geq 0}$ converge.
- $\exists x_0 \in I$, tel que la suite numérique $(f_n(x_0))_{n \geq 0}$ converge.
- La suite de fonctions (f_n) converge uniformément sur I vers une fonction f continue.
- Pour tout $n \in \mathbb{N}$, les fonctions f_n sont de classe C^1 sur I.
- La suite de fonctions (f'_n) converge uniformément sur I vers une fonction g .

Question 3 ♣

Soit $(f_n)_{n \geq 0}$ une suite de fonctions définies par $f_n(x) = x^n \ln(x)$ pour $x \in]0, 1]$ et $f_n(0) = 0$. Alors

- $(f_n)_{n \geq 0}$ converge uniformément sur $[0, a]$ ($a \in]0, 1[$)
- $(f_n)_{n \geq 0}$ converge uniformément sur $[0, 1]$
- $(f_n)_{n \geq 0}$ converge uniformément sur $[a, 1]$ ($a \in]0, 1[$)

Question 4 ♣

On définit la suite de fonctions $f_n(x) = \frac{e^{-nx}}{1+x}$. Alors, la suite $(f_n)_{n \geq 0}$

- converge uniformément sur $[0, 1]$ et la fonction limite est continue
- converge uniformément sur $[1, +\infty[$ et la fonction limite est continue
- converge uniformément sur $[0, +\infty[$



<input type="checkbox"/>	0	<input type="checkbox"/>	0	<input type="checkbox"/>	0	<input type="checkbox"/>	0	<input type="checkbox"/>	0	<input type="checkbox"/>	0	<input type="checkbox"/>	0	<input type="checkbox"/>	0	<input type="checkbox"/>	0
<input type="checkbox"/>	1	<input type="checkbox"/>	1	<input type="checkbox"/>	1	<input type="checkbox"/>	1	<input type="checkbox"/>	1	<input type="checkbox"/>	1	<input type="checkbox"/>	1	<input type="checkbox"/>	1	<input type="checkbox"/>	1
<input type="checkbox"/>	2	<input type="checkbox"/>	2	<input type="checkbox"/>	2	<input type="checkbox"/>	2	<input type="checkbox"/>	2	<input type="checkbox"/>	2	<input type="checkbox"/>	2	<input type="checkbox"/>	2	<input type="checkbox"/>	2
<input type="checkbox"/>	3	<input type="checkbox"/>	3	<input type="checkbox"/>	3	<input type="checkbox"/>	3	<input type="checkbox"/>	3	<input type="checkbox"/>	3	<input type="checkbox"/>	3	<input type="checkbox"/>	3	<input type="checkbox"/>	3
<input type="checkbox"/>	4	<input type="checkbox"/>	4	<input type="checkbox"/>	4	<input type="checkbox"/>	4	<input type="checkbox"/>	4	<input type="checkbox"/>	4	<input type="checkbox"/>	4	<input type="checkbox"/>	4	<input type="checkbox"/>	4
<input type="checkbox"/>	5	<input type="checkbox"/>	5	<input type="checkbox"/>	5	<input type="checkbox"/>	5	<input type="checkbox"/>	5	<input type="checkbox"/>	5	<input type="checkbox"/>	5	<input type="checkbox"/>	5	<input type="checkbox"/>	5
<input type="checkbox"/>	6	<input type="checkbox"/>	6	<input type="checkbox"/>	6	<input type="checkbox"/>	6	<input type="checkbox"/>	6	<input type="checkbox"/>	6	<input type="checkbox"/>	6	<input type="checkbox"/>	6	<input type="checkbox"/>	6
<input type="checkbox"/>	7	<input type="checkbox"/>	7	<input type="checkbox"/>	7	<input type="checkbox"/>	7	<input type="checkbox"/>	7	<input type="checkbox"/>	7	<input type="checkbox"/>	7	<input type="checkbox"/>	7	<input type="checkbox"/>	7
<input type="checkbox"/>	8	<input type="checkbox"/>	8	<input type="checkbox"/>	8	<input type="checkbox"/>	8	<input type="checkbox"/>	8	<input type="checkbox"/>	8	<input type="checkbox"/>	8	<input type="checkbox"/>	8	<input type="checkbox"/>	8
<input type="checkbox"/>	9	<input type="checkbox"/>	9	<input type="checkbox"/>	9	<input type="checkbox"/>	9	<input type="checkbox"/>	9	<input type="checkbox"/>	9	<input type="checkbox"/>	9	<input type="checkbox"/>	9	<input type="checkbox"/>	9

QCM3L Suites de Fonctions Préing2

← codez votre numéro d'étudiant ci-contre, et inscrivez votre nom et prénom ci-dessous (le NOM d'abord!).

Nom et prénom :

.....

.....

Les cases doivent être complètement noircies avec un stylo NOIR.

Question 1 ♣

Soit $(f_n)_{n \geq 0}$ une suite de fonctions définies sur un intervalle $I \subset \mathbb{R}$ à valeur dans \mathbb{R} . Quelles les conditions nécessaires pour appliquer le théorème d'interversion limites-dérivations?

- Pour tout $n \in \mathbb{N}$, les fonctions f_n sont de classe C^1 sur I .
- La suite de fonctions (f_n) converge uniformément sur I vers une fonction f continue.
- $\exists x_0 \in I$, tel que la suite numérique $(f_n(x_0))_{n \geq 0}$ converge.
- $\forall x_0 \in I$, la suite $(f_n(x_0))_{n \geq 0}$ converge.
- La suite de fonctions (f'_n) converge uniformément sur I vers une fonction g .

Question 2 ♣

Choisir les suites de fonctions $(f_n)_{n \geq 0}$ qui convergent uniformément vers leur limite simple:

- $f_n(x) = nxe^{-nx}$ sur $[1; 2]$
- $f_n(x) = nxe^{-nx}$ sur $]0; 1[$
- $f_n(x) = \frac{e^{-x}}{n}$ sur $] - \infty, 0]$
- $f_n(x) = nxe^{-nx}$ sur $]0; +\infty[$
- $f_n(x) = nxe^{-nx}$ sur $[a; +\infty[$ avec $a \in]0; 1[$
- $f_n(x) = \frac{e^{-x}}{n}$ sur $]0; +\infty[$

Question 3 ♣

Soit $(f_n)_{n \geq 0}$ une suite de fonctions définies par $f_n(x) = x^n \ln(x)$ pour $x \in]0, 1]$ et $f_n(0) = 0$. Alors

- $(f_n)_{n \geq 0}$ converge uniformément sur $[0, 1]$
- $(f_n)_{n \geq 0}$ converge uniformément sur $[0, a]$ ($a \in]0, 1[$)
- $(f_n)_{n \geq 0}$ converge uniformément sur $[a, 1]$ ($a \in]0, 1[$)

Question 4 ♣

On définit la suite de fonctions $f_n(x) = \frac{e^{-nx}}{1+x}$. Alors, la suite $(f_n)_{n \geq 0}$

- converge uniformément sur $[0, 1]$ et la fonction limite est continue
- converge uniformément sur $[1, +\infty[$ et la fonction limite est continue
- converge uniformément sur $[0, +\infty[$



<input type="checkbox"/>	0	<input type="checkbox"/>	0	<input type="checkbox"/>	0	<input type="checkbox"/>	0	<input type="checkbox"/>	0	<input type="checkbox"/>	0	<input type="checkbox"/>	0	<input type="checkbox"/>	0	<input type="checkbox"/>	0
<input type="checkbox"/>	1	<input type="checkbox"/>	1	<input type="checkbox"/>	1	<input type="checkbox"/>	1	<input type="checkbox"/>	1	<input type="checkbox"/>	1	<input type="checkbox"/>	1	<input type="checkbox"/>	1	<input type="checkbox"/>	1
<input type="checkbox"/>	2	<input type="checkbox"/>	2	<input type="checkbox"/>	2	<input type="checkbox"/>	2	<input type="checkbox"/>	2	<input type="checkbox"/>	2	<input type="checkbox"/>	2	<input type="checkbox"/>	2	<input type="checkbox"/>	2
<input type="checkbox"/>	3	<input type="checkbox"/>	3	<input type="checkbox"/>	3	<input type="checkbox"/>	3	<input type="checkbox"/>	3	<input type="checkbox"/>	3	<input type="checkbox"/>	3	<input type="checkbox"/>	3	<input type="checkbox"/>	3
<input type="checkbox"/>	4	<input type="checkbox"/>	4	<input type="checkbox"/>	4	<input type="checkbox"/>	4	<input type="checkbox"/>	4	<input type="checkbox"/>	4	<input type="checkbox"/>	4	<input type="checkbox"/>	4	<input type="checkbox"/>	4
<input type="checkbox"/>	5	<input type="checkbox"/>	5	<input type="checkbox"/>	5	<input type="checkbox"/>	5	<input type="checkbox"/>	5	<input type="checkbox"/>	5	<input type="checkbox"/>	5	<input type="checkbox"/>	5	<input type="checkbox"/>	5
<input type="checkbox"/>	6	<input type="checkbox"/>	6	<input type="checkbox"/>	6	<input type="checkbox"/>	6	<input type="checkbox"/>	6	<input type="checkbox"/>	6	<input type="checkbox"/>	6	<input type="checkbox"/>	6	<input type="checkbox"/>	6
<input type="checkbox"/>	7	<input type="checkbox"/>	7	<input type="checkbox"/>	7	<input type="checkbox"/>	7	<input type="checkbox"/>	7	<input type="checkbox"/>	7	<input type="checkbox"/>	7	<input type="checkbox"/>	7	<input type="checkbox"/>	7
<input type="checkbox"/>	8	<input type="checkbox"/>	8	<input type="checkbox"/>	8	<input type="checkbox"/>	8	<input type="checkbox"/>	8	<input type="checkbox"/>	8	<input type="checkbox"/>	8	<input type="checkbox"/>	8	<input type="checkbox"/>	8
<input type="checkbox"/>	9	<input type="checkbox"/>	9	<input type="checkbox"/>	9	<input type="checkbox"/>	9	<input type="checkbox"/>	9	<input type="checkbox"/>	9	<input type="checkbox"/>	9	<input type="checkbox"/>	9	<input type="checkbox"/>	9

QCM3L Suites de Fonctions Préing2

← codez votre numéro d'étudiant ci-contre, et inscrivez votre nom et prénom ci-dessous (le NOM d'abord!).

Nom et prénom :

.....

.....

Les cases doivent être complètement noircies avec un stylo NOIR.

Question 1 ♣

Soit $(f_n)_{n \geq 0}$ une suite de fonctions définies par $f_n(x) = x^n \ln(x)$ pour $x \in]0, 1]$ et $f_n(0) = 0$. Alors

- $(f_n)_{n \geq 0}$ converge uniformément sur $[0, 1]$
- $(f_n)_{n \geq 0}$ converge uniformément sur $[a, 1]$ ($a \in]0, 1[$)
- $(f_n)_{n \geq 0}$ converge uniformément sur $[0, a]$ ($a \in]0, 1[$)

Question 2 ♣

Soit $(f_n)_{n \geq 0}$ une suite de fonctions définies sur un intervalle $I \subset \mathbb{R}$ à valeur dans \mathbb{R} . Quelles les conditions nécessaires pour appliquer le théorème d'interversion limites-dérivations?

- Pour tout $n \in \mathbb{N}$, les fonctions f_n sont de classe C^1 sur I .
- La suite de fonctions (f_n) converge uniformément sur I vers une fonction f continue.
- $\forall x_0 \in I$, la suite $(f_n(x_0))_{n \geq 0}$ converge.
- La suite de fonctions (f'_n) converge uniformément sur I vers une fonction g .
- $\exists x_0 \in I$, tel que la suite numérique $(f_n(x_0))_{n \geq 0}$ converge.

Question 3 ♣

Choisir les suites de fonctions $(f_n)_{n \geq 0}$ qui convergent uniformément vers leur limite simple:

- | | |
|---|--|
| <input type="checkbox"/> $f_n(x) = \frac{e^{-x}}{n}$ sur $]0; +\infty[$ | <input type="checkbox"/> $f_n(x) = nxe^{-nx}$ sur $[a; +\infty[$ avec $a \in]0; 1[$ |
| <input type="checkbox"/> $f_n(x) = nxe^{-nx}$ sur $[1; 2]$ | <input type="checkbox"/> $f_n(x) = nxe^{-nx}$ sur $[0; 1[$ |
| <input type="checkbox"/> $f_n(x) = \frac{e^{-x}}{n}$ sur $] - \infty, 0]$ | <input type="checkbox"/> $f_n(x) = nxe^{-nx}$ sur $[0; +\infty[$ |

Question 4 ♣

On définit la suite de fonctions $f_n(x) = \frac{e^{-nx}}{1+x}$. Alors, la suite $(f_n)_{n \geq 0}$

- converge uniformément sur $[0, 1]$ et la fonction limite est continue
- converge uniformément sur $[1, +\infty[$ et la fonction limite est continue
- converge uniformément sur $[0, +\infty[$



<input type="checkbox"/>	0	<input type="checkbox"/>	0	<input type="checkbox"/>	0	<input type="checkbox"/>	0	<input type="checkbox"/>	0	<input type="checkbox"/>	0	<input type="checkbox"/>	0	<input type="checkbox"/>	0	<input type="checkbox"/>	0
<input type="checkbox"/>	1	<input type="checkbox"/>	1	<input type="checkbox"/>	1	<input type="checkbox"/>	1	<input type="checkbox"/>	1	<input type="checkbox"/>	1	<input type="checkbox"/>	1	<input type="checkbox"/>	1	<input type="checkbox"/>	1
<input type="checkbox"/>	2	<input type="checkbox"/>	2	<input type="checkbox"/>	2	<input type="checkbox"/>	2	<input type="checkbox"/>	2	<input type="checkbox"/>	2	<input type="checkbox"/>	2	<input type="checkbox"/>	2	<input type="checkbox"/>	2
<input type="checkbox"/>	3	<input type="checkbox"/>	3	<input type="checkbox"/>	3	<input type="checkbox"/>	3	<input type="checkbox"/>	3	<input type="checkbox"/>	3	<input type="checkbox"/>	3	<input type="checkbox"/>	3	<input type="checkbox"/>	3
<input type="checkbox"/>	4	<input type="checkbox"/>	4	<input type="checkbox"/>	4	<input type="checkbox"/>	4	<input type="checkbox"/>	4	<input type="checkbox"/>	4	<input type="checkbox"/>	4	<input type="checkbox"/>	4	<input type="checkbox"/>	4
<input type="checkbox"/>	5	<input type="checkbox"/>	5	<input type="checkbox"/>	5	<input type="checkbox"/>	5	<input type="checkbox"/>	5	<input type="checkbox"/>	5	<input type="checkbox"/>	5	<input type="checkbox"/>	5	<input type="checkbox"/>	5
<input type="checkbox"/>	6	<input type="checkbox"/>	6	<input type="checkbox"/>	6	<input type="checkbox"/>	6	<input type="checkbox"/>	6	<input type="checkbox"/>	6	<input type="checkbox"/>	6	<input type="checkbox"/>	6	<input type="checkbox"/>	6
<input type="checkbox"/>	7	<input type="checkbox"/>	7	<input type="checkbox"/>	7	<input type="checkbox"/>	7	<input type="checkbox"/>	7	<input type="checkbox"/>	7	<input type="checkbox"/>	7	<input type="checkbox"/>	7	<input type="checkbox"/>	7
<input type="checkbox"/>	8	<input type="checkbox"/>	8	<input type="checkbox"/>	8	<input type="checkbox"/>	8	<input type="checkbox"/>	8	<input type="checkbox"/>	8	<input type="checkbox"/>	8	<input type="checkbox"/>	8	<input type="checkbox"/>	8
<input type="checkbox"/>	9	<input type="checkbox"/>	9	<input type="checkbox"/>	9	<input type="checkbox"/>	9	<input type="checkbox"/>	9	<input type="checkbox"/>	9	<input type="checkbox"/>	9	<input type="checkbox"/>	9	<input type="checkbox"/>	9

QCM3L Suites de Fonctions Préing2

← codez votre numéro d'étudiant ci-contre, et inscrivez votre nom et prénom ci-dessous (le NOM d'abord!).

Nom et prénom :

.....

.....

Les cases doivent être complètement noircies avec un stylo NOIR.

Question 1 ♣

Choisir les suites de fonctions $(f_n)_{n \geq 0}$ qui convergent uniformément vers leur limite simple:

- | | |
|---|--|
| <input type="checkbox"/> $f_n(x) = nxe^{-nx}$ sur $[1; 2]$ | <input type="checkbox"/> $f_n(x) = nxe^{-nx}$ sur $[a; +\infty[$ avec $a \in]0; 1[$ |
| <input type="checkbox"/> $f_n(x) = \frac{e^{-x}}{n}$ sur $] - \infty, 0]$ | <input type="checkbox"/> $f_n(x) = nxe^{-nx}$ sur $[0; +\infty[$ |
| <input type="checkbox"/> $f_n(x) = nxe^{-nx}$ sur $[0; 1[$ | <input type="checkbox"/> $f_n(x) = \frac{e^{-x}}{n}$ sur $]0; +\infty[$ |

Question 2 ♣

On définit la suite de fonctions $f_n(x) = \frac{e^{-nx}}{1+x}$. Alors, la suite $(f_n)_{n \geq 0}$

- converge uniformément sur $[0, +\infty[$
- converge uniformément sur $[0, 1]$ et la fonction limite est continue
- converge uniformément sur $[1, +\infty[$ et la fonction limite est continue

Question 3 ♣

Soit $(f_n)_{n \geq 0}$ une suite de fonctions définies sur un intervalle $I \subset \mathbb{R}$ à valeur dans \mathbb{R} . Quelles les conditions nécessaires pour appliquer le théorème d'interversion limites-dérivations?

- $\forall x_0 \in I$, la suite $(f_n(x_0))_{n \geq 0}$ converge.
- Pour tout $n \in \mathbb{N}$, les fonctions f_n sont de classe C^1 sur I .
- La suite de fonctions (f_n) converge uniformément sur I vers une fonction f continue.
- $\exists x_0 \in I$, tel que la suite numérique $(f_n(x_0))_{n \geq 0}$ converge.
- La suite de fonctions (f'_n) converge uniformément sur I vers une fonction g .

Question 4 ♣

Soit $(f_n)_{n \geq 0}$ une suite de fonctions définies par $f_n(x) = x^n \ln(x)$ pour $x \in]0, 1]$ et $f_n(0) = 0$. Alors

- $(f_n)_{n \geq 0}$ converge uniformément sur $[a, 1]$ ($a \in]0, 1[$)
- $(f_n)_{n \geq 0}$ converge uniformément sur $[0, a]$ ($a \in]0, 1[$)
- $(f_n)_{n \geq 0}$ converge uniformément sur $[0, 1]$



<input type="checkbox"/>	0	<input type="checkbox"/>	0	<input type="checkbox"/>	0	<input type="checkbox"/>	0	<input type="checkbox"/>	0	<input type="checkbox"/>	0	<input type="checkbox"/>	0	<input type="checkbox"/>	0	<input type="checkbox"/>	0
<input type="checkbox"/>	1	<input type="checkbox"/>	1	<input type="checkbox"/>	1	<input type="checkbox"/>	1	<input type="checkbox"/>	1	<input type="checkbox"/>	1	<input type="checkbox"/>	1	<input type="checkbox"/>	1	<input type="checkbox"/>	1
<input type="checkbox"/>	2	<input type="checkbox"/>	2	<input type="checkbox"/>	2	<input type="checkbox"/>	2	<input type="checkbox"/>	2	<input type="checkbox"/>	2	<input type="checkbox"/>	2	<input type="checkbox"/>	2	<input type="checkbox"/>	2
<input type="checkbox"/>	3	<input type="checkbox"/>	3	<input type="checkbox"/>	3	<input type="checkbox"/>	3	<input type="checkbox"/>	3	<input type="checkbox"/>	3	<input type="checkbox"/>	3	<input type="checkbox"/>	3	<input type="checkbox"/>	3
<input type="checkbox"/>	4	<input type="checkbox"/>	4	<input type="checkbox"/>	4	<input type="checkbox"/>	4	<input type="checkbox"/>	4	<input type="checkbox"/>	4	<input type="checkbox"/>	4	<input type="checkbox"/>	4	<input type="checkbox"/>	4
<input type="checkbox"/>	5	<input type="checkbox"/>	5	<input type="checkbox"/>	5	<input type="checkbox"/>	5	<input type="checkbox"/>	5	<input type="checkbox"/>	5	<input type="checkbox"/>	5	<input type="checkbox"/>	5	<input type="checkbox"/>	5
<input type="checkbox"/>	6	<input type="checkbox"/>	6	<input type="checkbox"/>	6	<input type="checkbox"/>	6	<input type="checkbox"/>	6	<input type="checkbox"/>	6	<input type="checkbox"/>	6	<input type="checkbox"/>	6	<input type="checkbox"/>	6
<input type="checkbox"/>	7	<input type="checkbox"/>	7	<input type="checkbox"/>	7	<input type="checkbox"/>	7	<input type="checkbox"/>	7	<input type="checkbox"/>	7	<input type="checkbox"/>	7	<input type="checkbox"/>	7	<input type="checkbox"/>	7
<input type="checkbox"/>	8	<input type="checkbox"/>	8	<input type="checkbox"/>	8	<input type="checkbox"/>	8	<input type="checkbox"/>	8	<input type="checkbox"/>	8	<input type="checkbox"/>	8	<input type="checkbox"/>	8	<input type="checkbox"/>	8
<input type="checkbox"/>	9	<input type="checkbox"/>	9	<input type="checkbox"/>	9	<input type="checkbox"/>	9	<input type="checkbox"/>	9	<input type="checkbox"/>	9	<input type="checkbox"/>	9	<input type="checkbox"/>	9	<input type="checkbox"/>	9

QCM3L Suites de Fonctions Préing2

← codez votre numéro d'étudiant ci-contre, et inscrivez votre nom et prénom ci-dessous (le NOM d'abord!).

Nom et prénom :

.....

.....

Les cases doivent être complètement noircies avec un stylo NOIR.

Question 1 ♣

On définit la suite de fonctions $f_n(x) = \frac{e^{-nx}}{1+x}$. Alors, la suite $(f_n)_{n \geq 0}$

- converge uniformément sur $[0, +\infty[$
- converge uniformément sur $[0, 1]$ et la fonction limite est continue
- converge uniformément sur $[1, +\infty[$ et la fonction limite est continue

Question 2 ♣

Soit $(f_n)_{n \geq 0}$ une suite de fonctions définies sur un intervalle $I \subset \mathbb{R}$ à valeur dans \mathbb{R} . Quelles les conditions nécessaires pour appliquer le théorème d'interversion limites-dérivations?

- $\forall x_0 \in I$, la suite $(f_n(x_0))_{n \geq 0}$ converge.
- Pour tout $n \in \mathbb{N}$, les fonctions f_n sont de classe C^1 sur I .
- $\exists x_0 \in I$, tel que la suite numérique $(f_n(x_0))_{n \geq 0}$ converge.
- La suite de fonctions (f_n) converge uniformément sur I vers une fonction f continue.
- La suite de fonctions (f'_n) converge uniformément sur I vers une fonction g .

Question 3 ♣

Soit $(f_n)_{n \geq 0}$ une suite de fonctions définies par $f_n(x) = x^n \ln(x)$ pour $x \in]0, 1]$ et $f_n(0) = 0$. Alors

- $(f_n)_{n \geq 0}$ converge uniformément sur $[0, a]$ ($a \in]0, 1[$)
- $(f_n)_{n \geq 0}$ converge uniformément sur $[0, 1]$
- $(f_n)_{n \geq 0}$ converge uniformément sur $[a, 1]$ ($a \in]0, 1[$)

Question 4 ♣

Choisir les suites de fonctions $(f_n)_{n \geq 0}$ qui convergent uniformément vers leur limite simple:

- $f_n(x) = nxe^{-nx}$ sur $[a; +\infty[$ avec $a \in]0; 1[$
- $f_n(x) = nxe^{-nx}$ sur $[0; +\infty[$
- $f_n(x) = \frac{e^{-x}}{n}$ sur $] - \infty, 0]$
- $f_n(x) = nxe^{-nx}$ sur $[0; 1[$
- $f_n(x) = nxe^{-nx}$ sur $[1; 2]$
- $f_n(x) = \frac{e^{-x}}{n}$ sur $]0; +\infty[$



<input type="checkbox"/>	0	<input type="checkbox"/>	0	<input type="checkbox"/>	0	<input type="checkbox"/>	0	<input type="checkbox"/>	0	<input type="checkbox"/>	0	<input type="checkbox"/>	0	<input type="checkbox"/>	0	<input type="checkbox"/>	0
<input type="checkbox"/>	1	<input type="checkbox"/>	1	<input type="checkbox"/>	1	<input type="checkbox"/>	1	<input type="checkbox"/>	1	<input type="checkbox"/>	1	<input type="checkbox"/>	1	<input type="checkbox"/>	1	<input type="checkbox"/>	1
<input type="checkbox"/>	2	<input type="checkbox"/>	2	<input type="checkbox"/>	2	<input type="checkbox"/>	2	<input type="checkbox"/>	2	<input type="checkbox"/>	2	<input type="checkbox"/>	2	<input type="checkbox"/>	2	<input type="checkbox"/>	2
<input type="checkbox"/>	3	<input type="checkbox"/>	3	<input type="checkbox"/>	3	<input type="checkbox"/>	3	<input type="checkbox"/>	3	<input type="checkbox"/>	3	<input type="checkbox"/>	3	<input type="checkbox"/>	3	<input type="checkbox"/>	3
<input type="checkbox"/>	4	<input type="checkbox"/>	4	<input type="checkbox"/>	4	<input type="checkbox"/>	4	<input type="checkbox"/>	4	<input type="checkbox"/>	4	<input type="checkbox"/>	4	<input type="checkbox"/>	4	<input type="checkbox"/>	4
<input type="checkbox"/>	5	<input type="checkbox"/>	5	<input type="checkbox"/>	5	<input type="checkbox"/>	5	<input type="checkbox"/>	5	<input type="checkbox"/>	5	<input type="checkbox"/>	5	<input type="checkbox"/>	5	<input type="checkbox"/>	5
<input type="checkbox"/>	6	<input type="checkbox"/>	6	<input type="checkbox"/>	6	<input type="checkbox"/>	6	<input type="checkbox"/>	6	<input type="checkbox"/>	6	<input type="checkbox"/>	6	<input type="checkbox"/>	6	<input type="checkbox"/>	6
<input type="checkbox"/>	7	<input type="checkbox"/>	7	<input type="checkbox"/>	7	<input type="checkbox"/>	7	<input type="checkbox"/>	7	<input type="checkbox"/>	7	<input type="checkbox"/>	7	<input type="checkbox"/>	7	<input type="checkbox"/>	7
<input type="checkbox"/>	8	<input type="checkbox"/>	8	<input type="checkbox"/>	8	<input type="checkbox"/>	8	<input type="checkbox"/>	8	<input type="checkbox"/>	8	<input type="checkbox"/>	8	<input type="checkbox"/>	8	<input type="checkbox"/>	8
<input type="checkbox"/>	9	<input type="checkbox"/>	9	<input type="checkbox"/>	9	<input type="checkbox"/>	9	<input type="checkbox"/>	9	<input type="checkbox"/>	9	<input type="checkbox"/>	9	<input type="checkbox"/>	9	<input type="checkbox"/>	9

QCM3L Suites de Fonctions Préing2

← codez votre numéro d'étudiant ci-contre, et inscrivez votre nom et prénom ci-dessous (le NOM d'abord!).

Nom et prénom :

.....

.....

Les cases doivent être complètement noircies avec un stylo NOIR.

Question 1 ♣

On définit la suite de fonctions $f_n(x) = \frac{e^{-nx}}{1+x}$. Alors, la suite $(f_n)_{n \geq 0}$

- converge uniformément sur $[1, +\infty[$ et la fonction limite est continue
- converge uniformément sur $[0, 1]$ et la fonction limite est continue
- converge uniformément sur $[0, +\infty[$

Question 2 ♣

Choisir les suites de fonctions $(f_n)_{n \geq 0}$ qui convergent uniformément vers leur limite simple:

- | | |
|--|--|
| <input type="checkbox"/> $f_n(x) = \frac{e^{-x}}{n}$ sur $]0; +\infty[$ | <input type="checkbox"/> $f_n(x) = \frac{e^{-x}}{n}$ sur $] -\infty, 0]$ |
| <input type="checkbox"/> $f_n(x) = nxe^{-nx}$ sur $[1; 2]$ | <input type="checkbox"/> $f_n(x) = nxe^{-nx}$ sur $[0; 1[$ |
| <input type="checkbox"/> $f_n(x) = nxe^{-nx}$ sur $[a; +\infty[$ avec $a \in]0; 1[$ | <input type="checkbox"/> $f_n(x) = nxe^{-nx}$ sur $[0; +\infty[$ |

Question 3 ♣

Soit $(f_n)_{n \geq 0}$ une suite de fonctions définies sur un intervalle $I \subset \mathbb{R}$ à valeur dans \mathbb{R} . Quelles les conditions nécessaires pour appliquer le théorème d'interversion limites-dérivations?

- $\forall x_0 \in I$, la suite $(f_n(x_0))_{n \geq 0}$ converge.
- La suite de fonctions (f'_n) converge uniformément sur I vers une fonction g .
- La suite de fonctions (f_n) converge uniformément sur I vers une fonction f continue.
- Pour tout $n \in \mathbb{N}$, les fonctions f_n sont de classe C^1 sur I .
- $\exists x_0 \in I$, tel que la suite numérique $(f_n(x_0))_{n \geq 0}$ converge.

Question 4 ♣

Soit $(f_n)_{n \geq 0}$ une suite de fonctions définies par $f_n(x) = x^n \ln(x)$ pour $x \in]0, 1]$ et $f_n(0) = 0$. Alors

- $(f_n)_{n \geq 0}$ converge uniformément sur $[a, 1]$ ($a \in]0, 1[$)
- $(f_n)_{n \geq 0}$ converge uniformément sur $[0, a]$ ($a \in]0, 1[$)
- $(f_n)_{n \geq 0}$ converge uniformément sur $[0, 1]$



<input type="checkbox"/>	0	<input type="checkbox"/>	0	<input type="checkbox"/>	0	<input type="checkbox"/>	0	<input type="checkbox"/>	0	<input type="checkbox"/>	0	<input type="checkbox"/>	0	<input type="checkbox"/>	0	<input type="checkbox"/>	0
<input type="checkbox"/>	1	<input type="checkbox"/>	1	<input type="checkbox"/>	1	<input type="checkbox"/>	1	<input type="checkbox"/>	1	<input type="checkbox"/>	1	<input type="checkbox"/>	1	<input type="checkbox"/>	1	<input type="checkbox"/>	1
<input type="checkbox"/>	2	<input type="checkbox"/>	2	<input type="checkbox"/>	2	<input type="checkbox"/>	2	<input type="checkbox"/>	2	<input type="checkbox"/>	2	<input type="checkbox"/>	2	<input type="checkbox"/>	2	<input type="checkbox"/>	2
<input type="checkbox"/>	3	<input type="checkbox"/>	3	<input type="checkbox"/>	3	<input type="checkbox"/>	3	<input type="checkbox"/>	3	<input type="checkbox"/>	3	<input type="checkbox"/>	3	<input type="checkbox"/>	3	<input type="checkbox"/>	3
<input type="checkbox"/>	4	<input type="checkbox"/>	4	<input type="checkbox"/>	4	<input type="checkbox"/>	4	<input type="checkbox"/>	4	<input type="checkbox"/>	4	<input type="checkbox"/>	4	<input type="checkbox"/>	4	<input type="checkbox"/>	4
<input type="checkbox"/>	5	<input type="checkbox"/>	5	<input type="checkbox"/>	5	<input type="checkbox"/>	5	<input type="checkbox"/>	5	<input type="checkbox"/>	5	<input type="checkbox"/>	5	<input type="checkbox"/>	5	<input type="checkbox"/>	5
<input type="checkbox"/>	6	<input type="checkbox"/>	6	<input type="checkbox"/>	6	<input type="checkbox"/>	6	<input type="checkbox"/>	6	<input type="checkbox"/>	6	<input type="checkbox"/>	6	<input type="checkbox"/>	6	<input type="checkbox"/>	6
<input type="checkbox"/>	7	<input type="checkbox"/>	7	<input type="checkbox"/>	7	<input type="checkbox"/>	7	<input type="checkbox"/>	7	<input type="checkbox"/>	7	<input type="checkbox"/>	7	<input type="checkbox"/>	7	<input type="checkbox"/>	7
<input type="checkbox"/>	8	<input type="checkbox"/>	8	<input type="checkbox"/>	8	<input type="checkbox"/>	8	<input type="checkbox"/>	8	<input type="checkbox"/>	8	<input type="checkbox"/>	8	<input type="checkbox"/>	8	<input type="checkbox"/>	8
<input type="checkbox"/>	9	<input type="checkbox"/>	9	<input type="checkbox"/>	9	<input type="checkbox"/>	9	<input type="checkbox"/>	9	<input type="checkbox"/>	9	<input type="checkbox"/>	9	<input type="checkbox"/>	9	<input type="checkbox"/>	9

QCM3L Suites de Fonctions Préing2

← codez votre numéro d'étudiant ci-contre, et inscrivez votre nom et prénom ci-dessous (le NOM d'abord!).

Nom et prénom :

.....

.....

Les cases doivent être complètement noircies avec un stylo NOIR.

Question 1 ♣

Choisir les suites de fonctions $(f_n)_{n \geq 0}$ qui convergent uniformément vers leur limite simple:

- | | |
|--|---|
| <input type="checkbox"/> $f_n(x) = nxe^{-nx}$ sur $]0; 1[$ | <input type="checkbox"/> $f_n(x) = \frac{e^{-x}}{n}$ sur $] - \infty, 0]$ |
| <input type="checkbox"/> $f_n(x) = nxe^{-nx}$ sur $[1; 2]$ | |
| <input type="checkbox"/> $f_n(x) = nxe^{-nx}$ sur $]0; +\infty[$ | <input type="checkbox"/> $f_n(x) = \frac{e^{-x}}{n}$ sur $]0; +\infty[$ |
| <input type="checkbox"/> $f_n(x) = nxe^{-nx}$ sur $[a; +\infty[$ avec $a \in]0; 1[$ | |

Question 2 ♣

Soit $(f_n)_{n \geq 0}$ une suite de fonctions définies par $f_n(x) = x^n \ln(x)$ pour $x \in]0, 1]$ et $f_n(0) = 0$. Alors

- $(f_n)_{n \geq 0}$ converge uniformément sur $[a, 1]$ ($a \in]0, 1[$)
- $(f_n)_{n \geq 0}$ converge uniformément sur $[0, a]$ ($a \in]0, 1[$)
- $(f_n)_{n \geq 0}$ converge uniformément sur $[0, 1]$

Question 3 ♣

Soit $(f_n)_{n \geq 0}$ une suite de fonctions définies sur un intervalle $I \subset \mathbb{R}$ à valeur dans \mathbb{R} . Quelles les conditions nécessaires pour appliquer le théorème d'interversion limites-dérivations?

- $\forall x_0 \in I$, la suite $(f_n(x_0))_{n \geq 0}$ converge.
- Pour tout $n \in \mathbb{N}$, les fonctions f_n sont de classe C^1 sur I .
- La suite de fonctions (f'_n) converge uniformément sur I vers une fonction g .
- La suite de fonctions (f_n) converge uniformément sur I vers une fonction f continue.
- $\exists x_0 \in I$, tel que la suite numérique $(f_n(x_0))_{n \geq 0}$ converge.

Question 4 ♣

On définit la suite de fonctions $f_n(x) = \frac{e^{-nx}}{1+x}$. Alors, la suite $(f_n)_{n \geq 0}$

- converge uniformément sur $[0, +\infty[$
- converge uniformément sur $[0, 1]$ et la fonction limite est continue
- converge uniformément sur $[1, +\infty[$ et la fonction limite est continue



<input type="checkbox"/>	0	<input type="checkbox"/>	0	<input type="checkbox"/>	0	<input type="checkbox"/>	0	<input type="checkbox"/>	0	<input type="checkbox"/>	0	<input type="checkbox"/>	0	<input type="checkbox"/>	0	<input type="checkbox"/>	0
<input type="checkbox"/>	1	<input type="checkbox"/>	1	<input type="checkbox"/>	1	<input type="checkbox"/>	1	<input type="checkbox"/>	1	<input type="checkbox"/>	1	<input type="checkbox"/>	1	<input type="checkbox"/>	1	<input type="checkbox"/>	1
<input type="checkbox"/>	2	<input type="checkbox"/>	2	<input type="checkbox"/>	2	<input type="checkbox"/>	2	<input type="checkbox"/>	2	<input type="checkbox"/>	2	<input type="checkbox"/>	2	<input type="checkbox"/>	2	<input type="checkbox"/>	2
<input type="checkbox"/>	3	<input type="checkbox"/>	3	<input type="checkbox"/>	3	<input type="checkbox"/>	3	<input type="checkbox"/>	3	<input type="checkbox"/>	3	<input type="checkbox"/>	3	<input type="checkbox"/>	3	<input type="checkbox"/>	3
<input type="checkbox"/>	4	<input type="checkbox"/>	4	<input type="checkbox"/>	4	<input type="checkbox"/>	4	<input type="checkbox"/>	4	<input type="checkbox"/>	4	<input type="checkbox"/>	4	<input type="checkbox"/>	4	<input type="checkbox"/>	4
<input type="checkbox"/>	5	<input type="checkbox"/>	5	<input type="checkbox"/>	5	<input type="checkbox"/>	5	<input type="checkbox"/>	5	<input type="checkbox"/>	5	<input type="checkbox"/>	5	<input type="checkbox"/>	5	<input type="checkbox"/>	5
<input type="checkbox"/>	6	<input type="checkbox"/>	6	<input type="checkbox"/>	6	<input type="checkbox"/>	6	<input type="checkbox"/>	6	<input type="checkbox"/>	6	<input type="checkbox"/>	6	<input type="checkbox"/>	6	<input type="checkbox"/>	6
<input type="checkbox"/>	7	<input type="checkbox"/>	7	<input type="checkbox"/>	7	<input type="checkbox"/>	7	<input type="checkbox"/>	7	<input type="checkbox"/>	7	<input type="checkbox"/>	7	<input type="checkbox"/>	7	<input type="checkbox"/>	7
<input type="checkbox"/>	8	<input type="checkbox"/>	8	<input type="checkbox"/>	8	<input type="checkbox"/>	8	<input type="checkbox"/>	8	<input type="checkbox"/>	8	<input type="checkbox"/>	8	<input type="checkbox"/>	8	<input type="checkbox"/>	8
<input type="checkbox"/>	9	<input type="checkbox"/>	9	<input type="checkbox"/>	9	<input type="checkbox"/>	9	<input type="checkbox"/>	9	<input type="checkbox"/>	9	<input type="checkbox"/>	9	<input type="checkbox"/>	9	<input type="checkbox"/>	9

QCM3L Suites de Fonctions Préing2

← codez votre numéro d'étudiant ci-contre, et inscrivez votre nom et prénom ci-dessous (le NOM d'abord!).

Nom et prénom :

.....

.....

Les cases doivent être complètement noircies avec un stylo NOIR.

Question 1 ♣

Soit $(f_n)_{n \geq 0}$ une suite de fonctions définies par $f_n(x) = x^n \ln(x)$ pour $x \in]0, 1]$ et $f_n(0) = 0$. Alors

- $(f_n)_{n \geq 0}$ converge uniformément sur $[0, a]$ ($a \in]0, 1[$)
- $(f_n)_{n \geq 0}$ converge uniformément sur $[0, 1]$
- $(f_n)_{n \geq 0}$ converge uniformément sur $[a, 1]$ ($a \in]0, 1[$)

Question 2 ♣

Soit $(f_n)_{n \geq 0}$ une suite de fonctions définies sur un intervalle $I \subset \mathbb{R}$ à valeur dans \mathbb{R} . Quelles les conditions nécessaires pour appliquer le théorème d'interversion limites-dérivations?

- $\forall x_0 \in I$, la suite $(f_n(x_0))_{n \geq 0}$ converge.
- La suite de fonctions (f_n) converge uniformément sur I vers une fonction f continue.
- La suite de fonctions (f'_n) converge uniformément sur I vers une fonction g .
- $\exists x_0 \in I$, tel que la suite numérique $(f_n(x_0))_{n \geq 0}$ converge.
- Pour tout $n \in \mathbb{N}$, les fonctions f_n sont de classe C^1 sur I.

Question 3 ♣

Choisir les suites de fonctions $(f_n)_{n \geq 0}$ qui convergent uniformément vers leur limite simple:

- | | |
|--|---|
| <input type="checkbox"/> $f_n(x) = nxe^{-nx}$ sur $[0; +\infty[$ | <input type="checkbox"/> $f_n(x) = \frac{e^{-x}}{n}$ sur $]0; +\infty[$ |
| <input type="checkbox"/> $f_n(x) = nxe^{-nx}$ sur $[a; +\infty[$ avec $a \in]0; 1[$ | <input type="checkbox"/> $f_n(x) = nxe^{-nx}$ sur $[0; 1[$ |
| <input type="checkbox"/> $f_n(x) = nxe^{-nx}$ sur $[1; 2]$ | <input type="checkbox"/> $f_n(x) = \frac{e^{-x}}{n}$ sur $] - \infty, 0]$ |

Question 4 ♣

On définit la suite de fonctions $f_n(x) = \frac{e^{-nx}}{1+x}$. Alors, la suite $(f_n)_{n \geq 0}$

- converge uniformément sur $[0, +\infty[$
- converge uniformément sur $[0, 1]$ et la fonction limite est continue
- converge uniformément sur $[1, +\infty[$ et la fonction limite est continue



<input type="checkbox"/> 0	<input type="checkbox"/> 0	<input type="checkbox"/> 0	<input type="checkbox"/> 0	<input type="checkbox"/> 0	<input type="checkbox"/> 0	<input type="checkbox"/> 0	<input type="checkbox"/> 0
<input type="checkbox"/> 1	<input type="checkbox"/> 1	<input type="checkbox"/> 1	<input type="checkbox"/> 1	<input type="checkbox"/> 1	<input type="checkbox"/> 1	<input type="checkbox"/> 1	<input type="checkbox"/> 1
<input type="checkbox"/> 2	<input type="checkbox"/> 2	<input type="checkbox"/> 2	<input type="checkbox"/> 2	<input type="checkbox"/> 2	<input type="checkbox"/> 2	<input type="checkbox"/> 2	<input type="checkbox"/> 2
<input type="checkbox"/> 3	<input type="checkbox"/> 3	<input type="checkbox"/> 3	<input type="checkbox"/> 3	<input type="checkbox"/> 3	<input type="checkbox"/> 3	<input type="checkbox"/> 3	<input type="checkbox"/> 3
<input type="checkbox"/> 4	<input type="checkbox"/> 4	<input type="checkbox"/> 4	<input type="checkbox"/> 4	<input type="checkbox"/> 4	<input type="checkbox"/> 4	<input type="checkbox"/> 4	<input type="checkbox"/> 4
<input type="checkbox"/> 5	<input type="checkbox"/> 5	<input type="checkbox"/> 5	<input type="checkbox"/> 5	<input type="checkbox"/> 5	<input type="checkbox"/> 5	<input type="checkbox"/> 5	<input type="checkbox"/> 5
<input type="checkbox"/> 6	<input type="checkbox"/> 6	<input type="checkbox"/> 6	<input type="checkbox"/> 6	<input type="checkbox"/> 6	<input type="checkbox"/> 6	<input type="checkbox"/> 6	<input type="checkbox"/> 6
<input type="checkbox"/> 7	<input type="checkbox"/> 7	<input type="checkbox"/> 7	<input type="checkbox"/> 7	<input type="checkbox"/> 7	<input type="checkbox"/> 7	<input type="checkbox"/> 7	<input type="checkbox"/> 7
<input type="checkbox"/> 8	<input type="checkbox"/> 8	<input type="checkbox"/> 8	<input type="checkbox"/> 8	<input type="checkbox"/> 8	<input type="checkbox"/> 8	<input type="checkbox"/> 8	<input type="checkbox"/> 8
<input type="checkbox"/> 9	<input type="checkbox"/> 9	<input type="checkbox"/> 9	<input type="checkbox"/> 9	<input type="checkbox"/> 9	<input type="checkbox"/> 9	<input type="checkbox"/> 9	<input type="checkbox"/> 9

QCM3L Suites de Fonctions Préing2

← codez votre numéro d'étudiant ci-contre, et inscrivez votre nom et prénom ci-dessous (le NOM d'abord!).

Nom et prénom :

.....

.....

Les cases doivent être complètement noircies avec un stylo NOIR.

Question 1 ♣

Soit $(f_n)_{n \geq 0}$ une suite de fonctions définies par $f_n(x) = x^n \ln(x)$ pour $x \in]0, 1]$ et $f_n(0) = 0$. Alors

- $(f_n)_{n \geq 0}$ converge uniformément sur $[a, 1]$ ($a \in]0, 1[$)
- $(f_n)_{n \geq 0}$ converge uniformément sur $[0, a]$ ($a \in]0, 1[$)
- $(f_n)_{n \geq 0}$ converge uniformément sur $[0, 1]$

Question 2 ♣

Soit $(f_n)_{n \geq 0}$ une suite de fonctions définies sur un intervalle $I \subset \mathbb{R}$ à valeur dans \mathbb{R} . Quelles les conditions nécessaires pour appliquer le théorème d'interversion limites-dérivations?

- La suite de fonctions (f'_n) converge uniformément sur I vers une fonction g .
- La suite de fonctions (f_n) converge uniformément sur I vers une fonction f continue.
- Pour tout $n \in \mathbb{N}$, les fonctions f_n sont de classe C^1 sur I.
- $\exists x_0 \in I$, tel que la suite numérique $(f_n(x_0))_{n \geq 0}$ converge.
- $\forall x_0 \in I$, la suite $(f_n(x_0))_{n \geq 0}$ converge.

Question 3 ♣

Choisir les suites de fonctions $(f_n)_{n \geq 0}$ qui convergent uniformément vers leur limite simple:

- | | |
|--|---|
| <input type="checkbox"/> $f_n(x) = nxe^{-nx}$ sur $[0; +\infty[$ | <input type="checkbox"/> $f_n(x) = \frac{e^{-x}}{n}$ sur $]0; +\infty[$ |
| <input type="checkbox"/> $f_n(x) = nxe^{-nx}$ sur $[a; +\infty[$ avec $a \in]0; 1[$ | <input type="checkbox"/> $f_n(x) = nxe^{-nx}$ sur $[1; 2]$ |
| <input type="checkbox"/> $f_n(x) = \frac{e^{-x}}{n}$ sur $] - \infty, 0]$ | <input type="checkbox"/> $f_n(x) = nxe^{-nx}$ sur $[0; 1[$ |

Question 4 ♣

On définit la suite de fonctions $f_n(x) = \frac{e^{-nx}}{1+x}$. Alors, la suite $(f_n)_{n \geq 0}$

- converge uniformément sur $[1, +\infty[$ et la fonction limite est continue
- converge uniformément sur $[0, 1]$ et la fonction limite est continue
- converge uniformément sur $[0, +\infty[$



<input type="checkbox"/>	0	<input type="checkbox"/>	0	<input type="checkbox"/>	0	<input type="checkbox"/>	0	<input type="checkbox"/>	0	<input type="checkbox"/>	0	<input type="checkbox"/>	0	<input type="checkbox"/>	0	<input type="checkbox"/>	0
<input type="checkbox"/>	1	<input type="checkbox"/>	1	<input type="checkbox"/>	1	<input type="checkbox"/>	1	<input type="checkbox"/>	1	<input type="checkbox"/>	1	<input type="checkbox"/>	1	<input type="checkbox"/>	1	<input type="checkbox"/>	1
<input type="checkbox"/>	2	<input type="checkbox"/>	2	<input type="checkbox"/>	2	<input type="checkbox"/>	2	<input type="checkbox"/>	2	<input type="checkbox"/>	2	<input type="checkbox"/>	2	<input type="checkbox"/>	2	<input type="checkbox"/>	2
<input type="checkbox"/>	3	<input type="checkbox"/>	3	<input type="checkbox"/>	3	<input type="checkbox"/>	3	<input type="checkbox"/>	3	<input type="checkbox"/>	3	<input type="checkbox"/>	3	<input type="checkbox"/>	3	<input type="checkbox"/>	3
<input type="checkbox"/>	4	<input type="checkbox"/>	4	<input type="checkbox"/>	4	<input type="checkbox"/>	4	<input type="checkbox"/>	4	<input type="checkbox"/>	4	<input type="checkbox"/>	4	<input type="checkbox"/>	4	<input type="checkbox"/>	4
<input type="checkbox"/>	5	<input type="checkbox"/>	5	<input type="checkbox"/>	5	<input type="checkbox"/>	5	<input type="checkbox"/>	5	<input type="checkbox"/>	5	<input type="checkbox"/>	5	<input type="checkbox"/>	5	<input type="checkbox"/>	5
<input type="checkbox"/>	6	<input type="checkbox"/>	6	<input type="checkbox"/>	6	<input type="checkbox"/>	6	<input type="checkbox"/>	6	<input type="checkbox"/>	6	<input type="checkbox"/>	6	<input type="checkbox"/>	6	<input type="checkbox"/>	6
<input type="checkbox"/>	7	<input type="checkbox"/>	7	<input type="checkbox"/>	7	<input type="checkbox"/>	7	<input type="checkbox"/>	7	<input type="checkbox"/>	7	<input type="checkbox"/>	7	<input type="checkbox"/>	7	<input type="checkbox"/>	7
<input type="checkbox"/>	8	<input type="checkbox"/>	8	<input type="checkbox"/>	8	<input type="checkbox"/>	8	<input type="checkbox"/>	8	<input type="checkbox"/>	8	<input type="checkbox"/>	8	<input type="checkbox"/>	8	<input type="checkbox"/>	8
<input type="checkbox"/>	9	<input type="checkbox"/>	9	<input type="checkbox"/>	9	<input type="checkbox"/>	9	<input type="checkbox"/>	9	<input type="checkbox"/>	9	<input type="checkbox"/>	9	<input type="checkbox"/>	9	<input type="checkbox"/>	9

QCM3L Suites de Fonctions Préing2

← codez votre numéro d'étudiant ci-contre, et inscrivez votre nom et prénom ci-dessous (le NOM d'abord!).

Nom et prénom :

.....

.....

Les cases doivent être complètement noircies avec un stylo NOIR.

Question 1 ♣

Soit $(f_n)_{n \geq 0}$ une suite de fonctions définies sur un intervalle $I \subset \mathbb{R}$ à valeur dans \mathbb{R} . Quelles les conditions nécessaires pour appliquer le théorème d'interversion limites-dérivations?

- La suite de fonctions (f'_n) converge uniformément sur I vers une fonction g .
- La suite de fonctions (f_n) converge uniformément sur I vers une fonction f continue.
- $\exists x_0 \in I$, tel que la suite numérique $(f_n(x_0))_{n \geq 0}$ converge.
- Pour tout $n \in \mathbb{N}$, les fonctions f_n sont de classe C^1 sur I.
- $\forall x_0 \in I$, la suite $(f_n(x_0))_{n \geq 0}$ converge.

Question 2 ♣

Soit $(f_n)_{n \geq 0}$ une suite de fonctions définies par $f_n(x) = x^n \ln(x)$ pour $x \in]0, 1]$ et $f_n(0) = 0$. Alors

- $(f_n)_{n \geq 0}$ converge uniformément sur $[0, 1]$
- $(f_n)_{n \geq 0}$ converge uniformément sur $[0, a]$ ($a \in]0, 1[$)
- $(f_n)_{n \geq 0}$ converge uniformément sur $[a, 1]$ ($a \in]0, 1[$)

Question 3 ♣

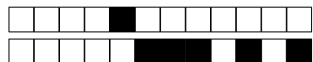
Choisir les suites de fonctions $(f_n)_{n \geq 0}$ qui convergent uniformément vers leur limite simple:

- | | |
|---|--|
| <input type="checkbox"/> $f_n(x) = \frac{e^{-x}}{n}$ sur $] - \infty, 0]$ | <input type="checkbox"/> $f_n(x) = nxe^{-nx}$ sur $[0; 1[$ |
| <input type="checkbox"/> $f_n(x) = nxe^{-nx}$ sur $[0; +\infty[$ | <input type="checkbox"/> $f_n(x) = nxe^{-nx}$ sur $[1; 2]$ |
| <input type="checkbox"/> $f_n(x) = \frac{e^{-x}}{n}$ sur $]0; +\infty[$ | <input type="checkbox"/> $f_n(x) = nxe^{-nx}$ sur $[a; +\infty[$ avec $a \in]0; 1[$ |

Question 4 ♣

On définit la suite de fonctions $f_n(x) = \frac{e^{-nx}}{1+x}$. Alors, la suite $(f_n)_{n \geq 0}$

- converge uniformément sur $[1, +\infty[$ et la fonction limite est continue
- converge uniformément sur $[0, 1]$ et la fonction limite est continue
- converge uniformément sur $[0, +\infty[$



<input type="checkbox"/> 0	<input type="checkbox"/> 0	<input type="checkbox"/> 0	<input type="checkbox"/> 0	<input type="checkbox"/> 0	<input type="checkbox"/> 0	<input type="checkbox"/> 0	<input type="checkbox"/> 0
<input type="checkbox"/> 1	<input type="checkbox"/> 1	<input type="checkbox"/> 1	<input type="checkbox"/> 1	<input type="checkbox"/> 1	<input type="checkbox"/> 1	<input type="checkbox"/> 1	<input type="checkbox"/> 1
<input type="checkbox"/> 2	<input type="checkbox"/> 2	<input type="checkbox"/> 2	<input type="checkbox"/> 2	<input type="checkbox"/> 2	<input type="checkbox"/> 2	<input type="checkbox"/> 2	<input type="checkbox"/> 2
<input type="checkbox"/> 3	<input type="checkbox"/> 3	<input type="checkbox"/> 3	<input type="checkbox"/> 3	<input type="checkbox"/> 3	<input type="checkbox"/> 3	<input type="checkbox"/> 3	<input type="checkbox"/> 3
<input type="checkbox"/> 4	<input type="checkbox"/> 4	<input type="checkbox"/> 4	<input type="checkbox"/> 4	<input type="checkbox"/> 4	<input type="checkbox"/> 4	<input type="checkbox"/> 4	<input type="checkbox"/> 4
<input type="checkbox"/> 5	<input type="checkbox"/> 5	<input type="checkbox"/> 5	<input type="checkbox"/> 5	<input type="checkbox"/> 5	<input type="checkbox"/> 5	<input type="checkbox"/> 5	<input type="checkbox"/> 5
<input type="checkbox"/> 6	<input type="checkbox"/> 6	<input type="checkbox"/> 6	<input type="checkbox"/> 6	<input type="checkbox"/> 6	<input type="checkbox"/> 6	<input type="checkbox"/> 6	<input type="checkbox"/> 6
<input type="checkbox"/> 7	<input type="checkbox"/> 7	<input type="checkbox"/> 7	<input type="checkbox"/> 7	<input type="checkbox"/> 7	<input type="checkbox"/> 7	<input type="checkbox"/> 7	<input type="checkbox"/> 7
<input type="checkbox"/> 8	<input type="checkbox"/> 8	<input type="checkbox"/> 8	<input type="checkbox"/> 8	<input type="checkbox"/> 8	<input type="checkbox"/> 8	<input type="checkbox"/> 8	<input type="checkbox"/> 8
<input type="checkbox"/> 9	<input type="checkbox"/> 9	<input type="checkbox"/> 9	<input type="checkbox"/> 9	<input type="checkbox"/> 9	<input type="checkbox"/> 9	<input type="checkbox"/> 9	<input type="checkbox"/> 9

QCM3L Suites de Fonctions Préing2

← codez votre numéro d'étudiant ci-contre, et inscrivez votre nom et prénom ci-dessous (le NOM d'abord!).

Nom et prénom :

.....

.....

Les cases doivent être complètement noircies avec un stylo NOIR.

Question 1 ♣

On définit la suite de fonctions $f_n(x) = \frac{e^{-nx}}{1+x}$. Alors, la suite $(f_n)_{n \geq 0}$

- converge uniformément sur $[1, +\infty[$ et la fonction limite est continue
- converge uniformément sur $[0, 1]$ et la fonction limite est continue
- converge uniformément sur $[0, +\infty[$

Question 2 ♣

Soit $(f_n)_{n \geq 0}$ une suite de fonctions définies sur un intervalle $I \subset \mathbb{R}$ à valeur dans \mathbb{R} . Quelles les conditions nécessaires pour appliquer le théorème d'interversion limites-dérivations?

- La suite de fonctions (f'_n) converge uniformément sur I vers une fonction g .
- Pour tout $n \in \mathbb{N}$, les fonctions f_n sont de classe C^1 sur I.
- $\forall x_0 \in I$, la suite $(f_n(x_0))_{n \geq 0}$ converge.
- La suite de fonctions (f_n) converge uniformément sur I vers une fonction f continue.
- $\exists x_0 \in I$, tel que la suite numérique $(f_n(x_0))_{n \geq 0}$ converge.

Question 3 ♣

Soit $(f_n)_{n \geq 0}$ une suite de fonctions définies par $f_n(x) = x^n \ln(x)$ pour $x \in]0, 1]$ et $f_n(0) = 0$. Alors

- $(f_n)_{n \geq 0}$ converge uniformément sur $[a, 1]$ ($a \in]0, 1[$)
- $(f_n)_{n \geq 0}$ converge uniformément sur $[0, 1]$
- $(f_n)_{n \geq 0}$ converge uniformément sur $[0, a]$ ($a \in]0, 1[$)

Question 4 ♣

Choisir les suites de fonctions $(f_n)_{n \geq 0}$ qui convergent uniformément vers leur limite simple:

- | | |
|---|--|
| <input type="checkbox"/> $f_n(x) = nxe^{-nx}$ sur $[1; 2]$ | <input type="checkbox"/> $f_n(x) = \frac{e^{-x}}{n}$ sur $]0; +\infty[$ |
| <input type="checkbox"/> $f_n(x) = \frac{e^{-x}}{n}$ sur $] - \infty, 0]$ | <input type="checkbox"/> $f_n(x) = nxe^{-nx}$ sur $[a; +\infty[$ avec $a \in]0; 1[$ |
| <input type="checkbox"/> $f_n(x) = nxe^{-nx}$ sur $[0; 1[$ | <input type="checkbox"/> $f_n(x) = nxe^{-nx}$ sur $[0; +\infty[$ |



<input type="checkbox"/>	0	<input type="checkbox"/>	0	<input type="checkbox"/>	0	<input type="checkbox"/>	0	<input type="checkbox"/>	0	<input type="checkbox"/>	0	<input type="checkbox"/>	0	<input type="checkbox"/>	0	<input type="checkbox"/>	0
<input type="checkbox"/>	1	<input type="checkbox"/>	1	<input type="checkbox"/>	1	<input type="checkbox"/>	1	<input type="checkbox"/>	1	<input type="checkbox"/>	1	<input type="checkbox"/>	1	<input type="checkbox"/>	1	<input type="checkbox"/>	1
<input type="checkbox"/>	2	<input type="checkbox"/>	2	<input type="checkbox"/>	2	<input type="checkbox"/>	2	<input type="checkbox"/>	2	<input type="checkbox"/>	2	<input type="checkbox"/>	2	<input type="checkbox"/>	2	<input type="checkbox"/>	2
<input type="checkbox"/>	3	<input type="checkbox"/>	3	<input type="checkbox"/>	3	<input type="checkbox"/>	3	<input type="checkbox"/>	3	<input type="checkbox"/>	3	<input type="checkbox"/>	3	<input type="checkbox"/>	3	<input type="checkbox"/>	3
<input type="checkbox"/>	4	<input type="checkbox"/>	4	<input type="checkbox"/>	4	<input type="checkbox"/>	4	<input type="checkbox"/>	4	<input type="checkbox"/>	4	<input type="checkbox"/>	4	<input type="checkbox"/>	4	<input type="checkbox"/>	4
<input type="checkbox"/>	5	<input type="checkbox"/>	5	<input type="checkbox"/>	5	<input type="checkbox"/>	5	<input type="checkbox"/>	5	<input type="checkbox"/>	5	<input type="checkbox"/>	5	<input type="checkbox"/>	5	<input type="checkbox"/>	5
<input type="checkbox"/>	6	<input type="checkbox"/>	6	<input type="checkbox"/>	6	<input type="checkbox"/>	6	<input type="checkbox"/>	6	<input type="checkbox"/>	6	<input type="checkbox"/>	6	<input type="checkbox"/>	6	<input type="checkbox"/>	6
<input type="checkbox"/>	7	<input type="checkbox"/>	7	<input type="checkbox"/>	7	<input type="checkbox"/>	7	<input type="checkbox"/>	7	<input type="checkbox"/>	7	<input type="checkbox"/>	7	<input type="checkbox"/>	7	<input type="checkbox"/>	7
<input type="checkbox"/>	8	<input type="checkbox"/>	8	<input type="checkbox"/>	8	<input type="checkbox"/>	8	<input type="checkbox"/>	8	<input type="checkbox"/>	8	<input type="checkbox"/>	8	<input type="checkbox"/>	8	<input type="checkbox"/>	8
<input type="checkbox"/>	9	<input type="checkbox"/>	9	<input type="checkbox"/>	9	<input type="checkbox"/>	9	<input type="checkbox"/>	9	<input type="checkbox"/>	9	<input type="checkbox"/>	9	<input type="checkbox"/>	9	<input type="checkbox"/>	9

QCM3L Suites de Fonctions Préing2

← codez votre numéro d'étudiant ci-contre, et inscrivez votre nom et prénom ci-dessous (le NOM d'abord!).

Nom et prénom :

.....

.....

Les cases doivent être complètement noircies avec un stylo NOIR.

Question 1 ♣

Choisir les suites de fonctions $(f_n)_{n \geq 0}$ qui convergent uniformément vers leur limite simple:

- | | |
|--|--|
| <input type="checkbox"/> $f_n(x) = nxe^{-nx}$ sur $[0; +\infty[$ | <input type="checkbox"/> $f_n(x) = \frac{e^{-x}}{n}$ sur $] -\infty, 0]$ |
| <input type="checkbox"/> $f_n(x) = nxe^{-nx}$ sur $[1; 2]$ | |
| <input type="checkbox"/> $f_n(x) = nxe^{-nx}$ sur $[a; +\infty[$ avec $a \in]0; 1[$ | |
| <input type="checkbox"/> $f_n(x) = nxe^{-nx}$ sur $[0; 1[$ | <input type="checkbox"/> $f_n(x) = \frac{e^{-x}}{n}$ sur $]0; +\infty[$ |

Question 2 ♣

On définit la suite de fonctions $f_n(x) = \frac{e^{-nx}}{1+x}$. Alors, la suite $(f_n)_{n \geq 0}$

- converge uniformément sur $[1, +\infty[$ et la fonction limite est continue
- converge uniformément sur $[0, 1]$ et la fonction limite est continue
- converge uniformément sur $[0, +\infty[$

Question 3 ♣

Soit $(f_n)_{n \geq 0}$ une suite de fonctions définies sur un intervalle $I \subset \mathbb{R}$ à valeur dans \mathbb{R} . Quelles les conditions nécessaires pour appliquer le théorème d'interversion limites-dérivations?

- $\exists x_0 \in I$, tel que la suite numérique $(f_n(x_0))_{n \geq 0}$ converge.
- Pour tout $n \in \mathbb{N}$, les fonctions f_n sont de classe C^1 sur I .
- La suite de fonctions (f_n) converge uniformément sur I vers une fonction f continue.
- La suite de fonctions (f'_n) converge uniformément sur I vers une fonction g .
- $\forall x_0 \in I$, la suite $(f_n(x_0))_{n \geq 0}$ converge.

Question 4 ♣

Soit $(f_n)_{n \geq 0}$ une suite de fonctions définies par $f_n(x) = x^n \ln(x)$ pour $x \in]0, 1]$ et $f_n(0) = 0$. Alors

- $(f_n)_{n \geq 0}$ converge uniformément sur $[0, a]$ ($a \in]0, 1[$)
- $(f_n)_{n \geq 0}$ converge uniformément sur $[a, 1]$ ($a \in]0, 1[$)
- $(f_n)_{n \geq 0}$ converge uniformément sur $[0, 1]$



<input type="checkbox"/>	0	<input type="checkbox"/>	0	<input type="checkbox"/>	0	<input type="checkbox"/>	0	<input type="checkbox"/>	0	<input type="checkbox"/>	0	<input type="checkbox"/>	0
<input type="checkbox"/>	1	<input type="checkbox"/>	1	<input type="checkbox"/>	1	<input type="checkbox"/>	1	<input type="checkbox"/>	1	<input type="checkbox"/>	1	<input type="checkbox"/>	1
<input type="checkbox"/>	2	<input type="checkbox"/>	2	<input type="checkbox"/>	2	<input type="checkbox"/>	2	<input type="checkbox"/>	2	<input type="checkbox"/>	2	<input type="checkbox"/>	2
<input type="checkbox"/>	3	<input type="checkbox"/>	3	<input type="checkbox"/>	3	<input type="checkbox"/>	3	<input type="checkbox"/>	3	<input type="checkbox"/>	3	<input type="checkbox"/>	3
<input type="checkbox"/>	4	<input type="checkbox"/>	4	<input type="checkbox"/>	4	<input type="checkbox"/>	4	<input type="checkbox"/>	4	<input type="checkbox"/>	4	<input type="checkbox"/>	4
<input type="checkbox"/>	5	<input type="checkbox"/>	5	<input type="checkbox"/>	5	<input type="checkbox"/>	5	<input type="checkbox"/>	5	<input type="checkbox"/>	5	<input type="checkbox"/>	5
<input type="checkbox"/>	6	<input type="checkbox"/>	6	<input type="checkbox"/>	6	<input type="checkbox"/>	6	<input type="checkbox"/>	6	<input type="checkbox"/>	6	<input type="checkbox"/>	6
<input type="checkbox"/>	7	<input type="checkbox"/>	7	<input type="checkbox"/>	7	<input type="checkbox"/>	7	<input type="checkbox"/>	7	<input type="checkbox"/>	7	<input type="checkbox"/>	7
<input type="checkbox"/>	8	<input type="checkbox"/>	8	<input type="checkbox"/>	8	<input type="checkbox"/>	8	<input type="checkbox"/>	8	<input type="checkbox"/>	8	<input type="checkbox"/>	8
<input type="checkbox"/>	9	<input type="checkbox"/>	9	<input type="checkbox"/>	9	<input type="checkbox"/>	9	<input type="checkbox"/>	9	<input type="checkbox"/>	9	<input type="checkbox"/>	9

QCM3L Suites de Fonctions Préing2

← codez votre numéro d'étudiant ci-contre, et inscrivez votre nom et prénom ci-dessous (le NOM d'abord!).

Nom et prénom :

.....

.....

Les cases doivent être complètement noircies avec un stylo NOIR.

Question 1 ♣

On définit la suite de fonctions $f_n(x) = \frac{e^{-nx}}{1+x}$. Alors, la suite $(f_n)_{n \geq 0}$

- converge uniformément sur $[0, +\infty[$
- converge uniformément sur $[1, +\infty[$ et la fonction limite est continue
- converge uniformément sur $[0, 1]$ et la fonction limite est continue

Question 2 ♣

Soit $(f_n)_{n \geq 0}$ une suite de fonctions définies sur un intervalle $I \subset \mathbb{R}$ à valeur dans \mathbb{R} . Quelles les conditions nécessaires pour appliquer le théorème d'interversion limites-dérivations?

- $\exists x_0 \in I$, tel que la suite numérique $(f_n(x_0))_{n \geq 0}$ converge.
- La suite de fonctions (f_n) converge uniformément sur I vers une fonction f continue.
- Pour tout $n \in \mathbb{N}$, les fonctions f_n sont de classe C^1 sur I.
- $\forall x_0 \in I$, la suite $(f_n(x_0))_{n \geq 0}$ converge.
- La suite de fonctions (f'_n) converge uniformément sur I vers une fonction g .

Question 3 ♣

Soit $(f_n)_{n \geq 0}$ une suite de fonctions définies par $f_n(x) = x^n \ln(x)$ pour $x \in]0, 1]$ et $f_n(0) = 0$. Alors

- $(f_n)_{n \geq 0}$ converge uniformément sur $[a, 1]$ ($a \in]0, 1[$)
- $(f_n)_{n \geq 0}$ converge uniformément sur $[0, a]$ ($a \in]0, 1[$)
- $(f_n)_{n \geq 0}$ converge uniformément sur $[0, 1]$

Question 4 ♣

Choisir les suites de fonctions $(f_n)_{n \geq 0}$ qui convergent uniformément vers leur limite simple:

- | | |
|--|--|
| <input type="checkbox"/> $f_n(x) = \frac{e^{-x}}{n}$ sur $] -\infty, 0]$ | <input type="checkbox"/> $f_n(x) = nxe^{-nx}$ sur $[0; +\infty[$ |
| <input type="checkbox"/> $f_n(x) = \frac{e^{-x}}{n}$ sur $]0; +\infty[$ | <input type="checkbox"/> $f_n(x) = nxe^{-nx}$ sur $[0; 1[$ |
| <input type="checkbox"/> $f_n(x) = nxe^{-nx}$ sur $[1; 2]$ | <input type="checkbox"/> $f_n(x) = nxe^{-nx}$ sur $[a; +\infty[$ avec $a \in]0; 1[$ |



<input type="checkbox"/>	0	<input type="checkbox"/>	0	<input type="checkbox"/>	0	<input type="checkbox"/>	0	<input type="checkbox"/>	0	<input type="checkbox"/>	0	<input type="checkbox"/>	0	<input type="checkbox"/>	0	<input type="checkbox"/>	0
<input type="checkbox"/>	1	<input type="checkbox"/>	1	<input type="checkbox"/>	1	<input type="checkbox"/>	1	<input type="checkbox"/>	1	<input type="checkbox"/>	1	<input type="checkbox"/>	1	<input type="checkbox"/>	1	<input type="checkbox"/>	1
<input type="checkbox"/>	2	<input type="checkbox"/>	2	<input type="checkbox"/>	2	<input type="checkbox"/>	2	<input type="checkbox"/>	2	<input type="checkbox"/>	2	<input type="checkbox"/>	2	<input type="checkbox"/>	2	<input type="checkbox"/>	2
<input type="checkbox"/>	3	<input type="checkbox"/>	3	<input type="checkbox"/>	3	<input type="checkbox"/>	3	<input type="checkbox"/>	3	<input type="checkbox"/>	3	<input type="checkbox"/>	3	<input type="checkbox"/>	3	<input type="checkbox"/>	3
<input type="checkbox"/>	4	<input type="checkbox"/>	4	<input type="checkbox"/>	4	<input type="checkbox"/>	4	<input type="checkbox"/>	4	<input type="checkbox"/>	4	<input type="checkbox"/>	4	<input type="checkbox"/>	4	<input type="checkbox"/>	4
<input type="checkbox"/>	5	<input type="checkbox"/>	5	<input type="checkbox"/>	5	<input type="checkbox"/>	5	<input type="checkbox"/>	5	<input type="checkbox"/>	5	<input type="checkbox"/>	5	<input type="checkbox"/>	5	<input type="checkbox"/>	5
<input type="checkbox"/>	6	<input type="checkbox"/>	6	<input type="checkbox"/>	6	<input type="checkbox"/>	6	<input type="checkbox"/>	6	<input type="checkbox"/>	6	<input type="checkbox"/>	6	<input type="checkbox"/>	6	<input type="checkbox"/>	6
<input type="checkbox"/>	7	<input type="checkbox"/>	7	<input type="checkbox"/>	7	<input type="checkbox"/>	7	<input type="checkbox"/>	7	<input type="checkbox"/>	7	<input type="checkbox"/>	7	<input type="checkbox"/>	7	<input type="checkbox"/>	7
<input type="checkbox"/>	8	<input type="checkbox"/>	8	<input type="checkbox"/>	8	<input type="checkbox"/>	8	<input type="checkbox"/>	8	<input type="checkbox"/>	8	<input type="checkbox"/>	8	<input type="checkbox"/>	8	<input type="checkbox"/>	8
<input type="checkbox"/>	9	<input type="checkbox"/>	9	<input type="checkbox"/>	9	<input type="checkbox"/>	9	<input type="checkbox"/>	9	<input type="checkbox"/>	9	<input type="checkbox"/>	9	<input type="checkbox"/>	9	<input type="checkbox"/>	9

QCM3L Suites de Fonctions Préing2

← codez votre numéro d'étudiant ci-contre, et inscrivez votre nom et prénom ci-dessous (le NOM d'abord!).

Nom et prénom :
.....
.....

Les cases doivent être complètement noircies avec un stylo NOIR.

Question 1 ♣

Choisir les suites de fonctions $(f_n)_{n \geq 0}$ qui convergent uniformément vers leur limite simple:

- | | |
|--|--|
| <input type="checkbox"/> $f_n(x) = \frac{e^{-x}}{n}$ sur $] -\infty, 0]$ | <input type="checkbox"/> $f_n(x) = nxe^{-nx}$ sur $[0; 1[$ |
| <input type="checkbox"/> $f_n(x) = nxe^{-nx}$ sur $[1; 2]$ | <input type="checkbox"/> $f_n(x) = nxe^{-nx}$ sur $[0; +\infty[$ |
| <input type="checkbox"/> $f_n(x) = \frac{e^{-x}}{n}$ sur $]0; +\infty[$ | <input type="checkbox"/> $f_n(x) = nxe^{-nx}$ sur $[a; +\infty[$ avec $a \in]0; 1[$ |

Question 2 ♣

Soit $(f_n)_{n \geq 0}$ une suite de fonctions définies par $f_n(x) = x^n \ln(x)$ pour $x \in]0, 1]$ et $f_n(0) = 0$. Alors

- $(f_n)_{n \geq 0}$ converge uniformément sur $[0, 1]$
- $(f_n)_{n \geq 0}$ converge uniformément sur $[0, a]$ ($a \in]0, 1[$)
- $(f_n)_{n \geq 0}$ converge uniformément sur $[a, 1]$ ($a \in]0, 1[$)

Question 3 ♣

On définit la suite de fonctions $f_n(x) = \frac{e^{-nx}}{1+x}$. Alors, la suite $(f_n)_{n \geq 0}$

- converge uniformément sur $[1, +\infty[$ et la fonction limite est continue
- converge uniformément sur $[0, 1]$ et la fonction limite est continue
- converge uniformément sur $[0, +\infty[$

Question 4 ♣

Soit $(f_n)_{n \geq 0}$ une suite de fonctions définies sur un intervalle $I \subset \mathbb{R}$ à valeur dans \mathbb{R} . Quelles les conditions nécessaires pour appliquer le théorème d'interversion limites-dérivations?

- $\exists x_0 \in I$, tel que la suite numérique $(f_n(x_0))_{n \geq 0}$ converge.
- Pour tout $n \in \mathbb{N}$, les fonctions f_n sont de classe C^1 sur I .
- $\forall x_0 \in I$, la suite $(f_n(x_0))_{n \geq 0}$ converge.
- La suite de fonctions (f_n) converge uniformément sur I vers une fonction f continue.
- La suite de fonctions (f'_n) converge uniformément sur I vers une fonction g .



<input type="checkbox"/>	0	<input type="checkbox"/>	0	<input type="checkbox"/>	0	<input type="checkbox"/>	0	<input type="checkbox"/>	0	<input type="checkbox"/>	0	<input type="checkbox"/>	0	<input type="checkbox"/>	0	<input type="checkbox"/>	0
<input type="checkbox"/>	1	<input type="checkbox"/>	1	<input type="checkbox"/>	1	<input type="checkbox"/>	1	<input type="checkbox"/>	1	<input type="checkbox"/>	1	<input type="checkbox"/>	1	<input type="checkbox"/>	1	<input type="checkbox"/>	1
<input type="checkbox"/>	2	<input type="checkbox"/>	2	<input type="checkbox"/>	2	<input type="checkbox"/>	2	<input type="checkbox"/>	2	<input type="checkbox"/>	2	<input type="checkbox"/>	2	<input type="checkbox"/>	2	<input type="checkbox"/>	2
<input type="checkbox"/>	3	<input type="checkbox"/>	3	<input type="checkbox"/>	3	<input type="checkbox"/>	3	<input type="checkbox"/>	3	<input type="checkbox"/>	3	<input type="checkbox"/>	3	<input type="checkbox"/>	3	<input type="checkbox"/>	3
<input type="checkbox"/>	4	<input type="checkbox"/>	4	<input type="checkbox"/>	4	<input type="checkbox"/>	4	<input type="checkbox"/>	4	<input type="checkbox"/>	4	<input type="checkbox"/>	4	<input type="checkbox"/>	4	<input type="checkbox"/>	4
<input type="checkbox"/>	5	<input type="checkbox"/>	5	<input type="checkbox"/>	5	<input type="checkbox"/>	5	<input type="checkbox"/>	5	<input type="checkbox"/>	5	<input type="checkbox"/>	5	<input type="checkbox"/>	5	<input type="checkbox"/>	5
<input type="checkbox"/>	6	<input type="checkbox"/>	6	<input type="checkbox"/>	6	<input type="checkbox"/>	6	<input type="checkbox"/>	6	<input type="checkbox"/>	6	<input type="checkbox"/>	6	<input type="checkbox"/>	6	<input type="checkbox"/>	6
<input type="checkbox"/>	7	<input type="checkbox"/>	7	<input type="checkbox"/>	7	<input type="checkbox"/>	7	<input type="checkbox"/>	7	<input type="checkbox"/>	7	<input type="checkbox"/>	7	<input type="checkbox"/>	7	<input type="checkbox"/>	7
<input type="checkbox"/>	8	<input type="checkbox"/>	8	<input type="checkbox"/>	8	<input type="checkbox"/>	8	<input type="checkbox"/>	8	<input type="checkbox"/>	8	<input type="checkbox"/>	8	<input type="checkbox"/>	8	<input type="checkbox"/>	8
<input type="checkbox"/>	9	<input type="checkbox"/>	9	<input type="checkbox"/>	9	<input type="checkbox"/>	9	<input type="checkbox"/>	9	<input type="checkbox"/>	9	<input type="checkbox"/>	9	<input type="checkbox"/>	9	<input type="checkbox"/>	9

QCM3L Suites de Fonctions Préing2

← codez votre numéro d'étudiant ci-contre, et inscrivez votre nom et prénom ci-dessous (le NOM d'abord!).

Nom et prénom :
.....
.....

Les cases doivent être complètement noircies avec un stylo NOIR.

Question 1 ♣

On définit la suite de fonctions $f_n(x) = \frac{e^{-nx}}{1+x}$. Alors, la suite $(f_n)_{n \geq 0}$

- converge uniformément sur $[1, +\infty[$ et la fonction limite est continue
- converge uniformément sur $[0, 1]$ et la fonction limite est continue
- converge uniformément sur $[0, +\infty[$

Question 2 ♣

Soit $(f_n)_{n \geq 0}$ une suite de fonctions définies sur un intervalle $I \subset \mathbb{R}$ à valeur dans \mathbb{R} . Quelles les conditions nécessaires pour appliquer le théorème d'interversion limites-dérivations?

- $\forall x_0 \in I$, la suite $(f_n(x_0))_{n \geq 0}$ converge.
- La suite de fonctions (f'_n) converge uniformément sur I vers une fonction g .
- Pour tout $n \in \mathbb{N}$, les fonctions f_n sont de classe C^1 sur I.
- La suite de fonctions (f_n) converge uniformément sur I vers une fonction f continue.
- $\exists x_0 \in I$, tel que la suite numérique $(f_n(x_0))_{n \geq 0}$ converge.

Question 3 ♣

Soit $(f_n)_{n \geq 0}$ une suite de fonctions définies par $f_n(x) = x^n \ln(x)$ pour $x \in]0, 1]$ et $f_n(0) = 0$. Alors

- $(f_n)_{n \geq 0}$ converge uniformément sur $[a, 1]$ ($a \in]0, 1[$)
- $(f_n)_{n \geq 0}$ converge uniformément sur $[0, a]$ ($a \in]0, 1[$)
- $(f_n)_{n \geq 0}$ converge uniformément sur $[0, 1]$

Question 4 ♣

Choisir les suites de fonctions $(f_n)_{n \geq 0}$ qui convergent uniformément vers leur limite simple:

- | | |
|---|--|
| <input type="checkbox"/> $f_n(x) = \frac{e^{-x}}{n}$ sur $] - \infty, 0]$ | <input type="checkbox"/> $f_n(x) = nxe^{-nx}$ sur $[0; 1[$ |
| <input type="checkbox"/> $f_n(x) = nxe^{-nx}$ sur $[0; +\infty[$ | <input type="checkbox"/> $f_n(x) = \frac{e^{-x}}{n}$ sur $]0; +\infty[$ |
| <input type="checkbox"/> $f_n(x) = nxe^{-nx}$ sur $[1; 2]$ | <input type="checkbox"/> $f_n(x) = nxe^{-nx}$ sur $[a; +\infty[$ avec $a \in]0; 1[$ |



<input type="checkbox"/> 0	<input type="checkbox"/> 0	<input type="checkbox"/> 0	<input type="checkbox"/> 0	<input type="checkbox"/> 0	<input type="checkbox"/> 0	<input type="checkbox"/> 0	<input type="checkbox"/> 0
<input type="checkbox"/> 1	<input type="checkbox"/> 1	<input type="checkbox"/> 1	<input type="checkbox"/> 1	<input type="checkbox"/> 1	<input type="checkbox"/> 1	<input type="checkbox"/> 1	<input type="checkbox"/> 1
<input type="checkbox"/> 2	<input type="checkbox"/> 2	<input type="checkbox"/> 2	<input type="checkbox"/> 2	<input type="checkbox"/> 2	<input type="checkbox"/> 2	<input type="checkbox"/> 2	<input type="checkbox"/> 2
<input type="checkbox"/> 3	<input type="checkbox"/> 3	<input type="checkbox"/> 3	<input type="checkbox"/> 3	<input type="checkbox"/> 3	<input type="checkbox"/> 3	<input type="checkbox"/> 3	<input type="checkbox"/> 3
<input type="checkbox"/> 4	<input type="checkbox"/> 4	<input type="checkbox"/> 4	<input type="checkbox"/> 4	<input type="checkbox"/> 4	<input type="checkbox"/> 4	<input type="checkbox"/> 4	<input type="checkbox"/> 4
<input type="checkbox"/> 5	<input type="checkbox"/> 5	<input type="checkbox"/> 5	<input type="checkbox"/> 5	<input type="checkbox"/> 5	<input type="checkbox"/> 5	<input type="checkbox"/> 5	<input type="checkbox"/> 5
<input type="checkbox"/> 6	<input type="checkbox"/> 6	<input type="checkbox"/> 6	<input type="checkbox"/> 6	<input type="checkbox"/> 6	<input type="checkbox"/> 6	<input type="checkbox"/> 6	<input type="checkbox"/> 6
<input type="checkbox"/> 7	<input type="checkbox"/> 7	<input type="checkbox"/> 7	<input type="checkbox"/> 7	<input type="checkbox"/> 7	<input type="checkbox"/> 7	<input type="checkbox"/> 7	<input type="checkbox"/> 7
<input type="checkbox"/> 8	<input type="checkbox"/> 8	<input type="checkbox"/> 8	<input type="checkbox"/> 8	<input type="checkbox"/> 8	<input type="checkbox"/> 8	<input type="checkbox"/> 8	<input type="checkbox"/> 8
<input type="checkbox"/> 9	<input type="checkbox"/> 9	<input type="checkbox"/> 9	<input type="checkbox"/> 9	<input type="checkbox"/> 9	<input type="checkbox"/> 9	<input type="checkbox"/> 9	<input type="checkbox"/> 9

QCM3L Suites de Fonctions Préing2

← codez votre numéro d'étudiant ci-contre, et inscrivez votre nom et prénom ci-dessous (le NOM d'abord!).

Nom et prénom :

.....

.....

Les cases doivent être complètement noircies avec un stylo NOIR.

Question 1 ♣

Choisir les suites de fonctions $(f_n)_{n \geq 0}$ qui convergent uniformément vers leur limite simple:

- | | |
|--|---|
| <input type="checkbox"/> $f_n(x) = \frac{e^{-x}}{n}$ sur $]0; +\infty[$ | <input type="checkbox"/> $f_n(x) = nxe^{-nx}$ sur $[0; +\infty[$ |
| <input type="checkbox"/> $f_n(x) = nxe^{-nx}$ sur $[0; 1[$ | <input type="checkbox"/> $f_n(x) = nxe^{-nx}$ sur $[1; 2]$ |
| <input type="checkbox"/> $f_n(x) = nxe^{-nx}$ sur $[a; +\infty[$ avec $a \in]0; 1[$ | <input type="checkbox"/> $f_n(x) = \frac{e^{-x}}{n}$ sur $] - \infty, 0]$ |

Question 2 ♣

Soit $(f_n)_{n \geq 0}$ une suite de fonctions définies par $f_n(x) = x^n \ln(x)$ pour $x \in]0, 1]$ et $f_n(0) = 0$. Alors

- $(f_n)_{n \geq 0}$ converge uniformément sur $[0, a]$ ($a \in]0, 1[$)
- $(f_n)_{n \geq 0}$ converge uniformément sur $[0, 1]$
- $(f_n)_{n \geq 0}$ converge uniformément sur $[a, 1]$ ($a \in]0, 1[$)

Question 3 ♣

Soit $(f_n)_{n \geq 0}$ une suite de fonctions définies sur un intervalle $I \subset \mathbb{R}$ à valeur dans \mathbb{R} . Quelles les conditions nécessaires pour appliquer le théorème d'interversion limites-dérivations?

- La suite de fonctions (f_n) converge uniformément sur I vers une fonction f continue.
- $\forall x_0 \in I$, la suite $(f_n(x_0))_{n \geq 0}$ converge.
- La suite de fonctions (f'_n) converge uniformément sur I vers une fonction g .
- $\exists x_0 \in I$, tel que la suite numérique $(f_n(x_0))_{n \geq 0}$ converge.
- Pour tout $n \in \mathbb{N}$, les fonctions f_n sont de classe C^1 sur I.

Question 4 ♣

On définit la suite de fonctions $f_n(x) = \frac{e^{-nx}}{1+x}$. Alors, la suite $(f_n)_{n \geq 0}$

- converge uniformément sur $[0, 1]$ et la fonction limite est continue
- converge uniformément sur $[1, +\infty[$ et la fonction limite est continue
- converge uniformément sur $[0, +\infty[$



<input type="checkbox"/>	0	<input type="checkbox"/>	0	<input type="checkbox"/>	0	<input type="checkbox"/>	0	<input type="checkbox"/>	0	<input type="checkbox"/>	0	<input type="checkbox"/>	0	<input type="checkbox"/>	0	<input type="checkbox"/>	0
<input type="checkbox"/>	1	<input type="checkbox"/>	1	<input type="checkbox"/>	1	<input type="checkbox"/>	1	<input type="checkbox"/>	1	<input type="checkbox"/>	1	<input type="checkbox"/>	1	<input type="checkbox"/>	1	<input type="checkbox"/>	1
<input type="checkbox"/>	2	<input type="checkbox"/>	2	<input type="checkbox"/>	2	<input type="checkbox"/>	2	<input type="checkbox"/>	2	<input type="checkbox"/>	2	<input type="checkbox"/>	2	<input type="checkbox"/>	2	<input type="checkbox"/>	2
<input type="checkbox"/>	3	<input type="checkbox"/>	3	<input type="checkbox"/>	3	<input type="checkbox"/>	3	<input type="checkbox"/>	3	<input type="checkbox"/>	3	<input type="checkbox"/>	3	<input type="checkbox"/>	3	<input type="checkbox"/>	3
<input type="checkbox"/>	4	<input type="checkbox"/>	4	<input type="checkbox"/>	4	<input type="checkbox"/>	4	<input type="checkbox"/>	4	<input type="checkbox"/>	4	<input type="checkbox"/>	4	<input type="checkbox"/>	4	<input type="checkbox"/>	4
<input type="checkbox"/>	5	<input type="checkbox"/>	5	<input type="checkbox"/>	5	<input type="checkbox"/>	5	<input type="checkbox"/>	5	<input type="checkbox"/>	5	<input type="checkbox"/>	5	<input type="checkbox"/>	5	<input type="checkbox"/>	5
<input type="checkbox"/>	6	<input type="checkbox"/>	6	<input type="checkbox"/>	6	<input type="checkbox"/>	6	<input type="checkbox"/>	6	<input type="checkbox"/>	6	<input type="checkbox"/>	6	<input type="checkbox"/>	6	<input type="checkbox"/>	6
<input type="checkbox"/>	7	<input type="checkbox"/>	7	<input type="checkbox"/>	7	<input type="checkbox"/>	7	<input type="checkbox"/>	7	<input type="checkbox"/>	7	<input type="checkbox"/>	7	<input type="checkbox"/>	7	<input type="checkbox"/>	7
<input type="checkbox"/>	8	<input type="checkbox"/>	8	<input type="checkbox"/>	8	<input type="checkbox"/>	8	<input type="checkbox"/>	8	<input type="checkbox"/>	8	<input type="checkbox"/>	8	<input type="checkbox"/>	8	<input type="checkbox"/>	8
<input type="checkbox"/>	9	<input type="checkbox"/>	9	<input type="checkbox"/>	9	<input type="checkbox"/>	9	<input type="checkbox"/>	9	<input type="checkbox"/>	9	<input type="checkbox"/>	9	<input type="checkbox"/>	9	<input type="checkbox"/>	9

QCM3L Suites de Fonctions Préing2

← codez votre numéro d'étudiant ci-contre, et inscrivez votre nom et prénom ci-dessous (le NOM d'abord!).

Nom et prénom :

.....

.....

Les cases doivent être complètement noircies avec un stylo NOIR.

Question 1 ♣

Soit $(f_n)_{n \geq 0}$ une suite de fonctions définies par $f_n(x) = x^n \ln(x)$ pour $x \in]0, 1]$ et $f_n(0) = 0$. Alors

- $(f_n)_{n \geq 0}$ converge uniformément sur $[0, 1]$
- $(f_n)_{n \geq 0}$ converge uniformément sur $[0, a]$ ($a \in]0, 1[$)
- $(f_n)_{n \geq 0}$ converge uniformément sur $[a, 1]$ ($a \in]0, 1[$)

Question 2 ♣

On définit la suite de fonctions $f_n(x) = \frac{e^{-nx}}{1+x}$. Alors, la suite $(f_n)_{n \geq 0}$

- converge uniformément sur $[1, +\infty[$ et la fonction limite est continue
- converge uniformément sur $[0, 1]$ et la fonction limite est continue
- converge uniformément sur $[0, +\infty[$

Question 3 ♣

Soit $(f_n)_{n \geq 0}$ une suite de fonctions définies sur un intervalle $I \subset \mathbb{R}$ à valeur dans \mathbb{R} . Quelles les conditions nécessaires pour appliquer le théorème d'interversion limites-dérivations?

- $\exists x_0 \in I$, tel que la suite numérique $(f_n(x_0))_{n \geq 0}$ converge.
- La suite de fonctions (f'_n) converge uniformément sur I vers une fonction g .
- La suite de fonctions (f_n) converge uniformément sur I vers une fonction f continue.
- Pour tout $n \in \mathbb{N}$, les fonctions f_n sont de classe C^1 sur I.
- $\forall x_0 \in I$, la suite $(f_n(x_0))_{n \geq 0}$ converge.

Question 4 ♣

Choisir les suites de fonctions $(f_n)_{n \geq 0}$ qui convergent uniformément vers leur limite simple:

- | | |
|---|--|
| <input type="checkbox"/> $f_n(x) = \frac{e^{-x}}{n}$ sur $]0; +\infty[$ | <input type="checkbox"/> $f_n(x) = nxe^{-nx}$ sur $[1; 2]$ |
| <input type="checkbox"/> $f_n(x) = \frac{e^{-x}}{n}$ sur $] - \infty, 0]$ | <input type="checkbox"/> $f_n(x) = nxe^{-nx}$ sur $[a; +\infty[$ avec $a \in]0; 1[$ |
| <input type="checkbox"/> $f_n(x) = nxe^{-nx}$ sur $[0; +\infty[$ | <input type="checkbox"/> $f_n(x) = nxe^{-nx}$ sur $[0; 1[$ |



<input type="checkbox"/>	0	<input type="checkbox"/>	0	<input type="checkbox"/>	0	<input type="checkbox"/>	0	<input type="checkbox"/>	0	<input type="checkbox"/>	0	<input type="checkbox"/>	0	<input type="checkbox"/>	0	<input type="checkbox"/>	0
<input type="checkbox"/>	1	<input type="checkbox"/>	1	<input type="checkbox"/>	1	<input type="checkbox"/>	1	<input type="checkbox"/>	1	<input type="checkbox"/>	1	<input type="checkbox"/>	1	<input type="checkbox"/>	1	<input type="checkbox"/>	1
<input type="checkbox"/>	2	<input type="checkbox"/>	2	<input type="checkbox"/>	2	<input type="checkbox"/>	2	<input type="checkbox"/>	2	<input type="checkbox"/>	2	<input type="checkbox"/>	2	<input type="checkbox"/>	2	<input type="checkbox"/>	2
<input type="checkbox"/>	3	<input type="checkbox"/>	3	<input type="checkbox"/>	3	<input type="checkbox"/>	3	<input type="checkbox"/>	3	<input type="checkbox"/>	3	<input type="checkbox"/>	3	<input type="checkbox"/>	3	<input type="checkbox"/>	3
<input type="checkbox"/>	4	<input type="checkbox"/>	4	<input type="checkbox"/>	4	<input type="checkbox"/>	4	<input type="checkbox"/>	4	<input type="checkbox"/>	4	<input type="checkbox"/>	4	<input type="checkbox"/>	4	<input type="checkbox"/>	4
<input type="checkbox"/>	5	<input type="checkbox"/>	5	<input type="checkbox"/>	5	<input type="checkbox"/>	5	<input type="checkbox"/>	5	<input type="checkbox"/>	5	<input type="checkbox"/>	5	<input type="checkbox"/>	5	<input type="checkbox"/>	5
<input type="checkbox"/>	6	<input type="checkbox"/>	6	<input type="checkbox"/>	6	<input type="checkbox"/>	6	<input type="checkbox"/>	6	<input type="checkbox"/>	6	<input type="checkbox"/>	6	<input type="checkbox"/>	6	<input type="checkbox"/>	6
<input type="checkbox"/>	7	<input type="checkbox"/>	7	<input type="checkbox"/>	7	<input type="checkbox"/>	7	<input type="checkbox"/>	7	<input type="checkbox"/>	7	<input type="checkbox"/>	7	<input type="checkbox"/>	7	<input type="checkbox"/>	7
<input type="checkbox"/>	8	<input type="checkbox"/>	8	<input type="checkbox"/>	8	<input type="checkbox"/>	8	<input type="checkbox"/>	8	<input type="checkbox"/>	8	<input type="checkbox"/>	8	<input type="checkbox"/>	8	<input type="checkbox"/>	8
<input type="checkbox"/>	9	<input type="checkbox"/>	9	<input type="checkbox"/>	9	<input type="checkbox"/>	9	<input type="checkbox"/>	9	<input type="checkbox"/>	9	<input type="checkbox"/>	9	<input type="checkbox"/>	9	<input type="checkbox"/>	9

QCM3L Suites de Fonctions Préing2

← codez votre numéro d'étudiant ci-contre, et inscrivez votre nom et prénom ci-dessous (le NOM d'abord!).

Nom et prénom :

.....

.....

Les cases doivent être complètement noircies avec un stylo NOIR.

Question 1 ♣

Soit $(f_n)_{n \geq 0}$ une suite de fonctions définies par $f_n(x) = x^n \ln(x)$ pour $x \in]0, 1]$ et $f_n(0) = 0$. Alors

- $(f_n)_{n \geq 0}$ converge uniformément sur $[0, 1]$
- $(f_n)_{n \geq 0}$ converge uniformément sur $[0, a]$ ($a \in]0, 1[$)
- $(f_n)_{n \geq 0}$ converge uniformément sur $[a, 1]$ ($a \in]0, 1[$)

Question 2 ♣

Choisir les suites de fonctions $(f_n)_{n \geq 0}$ qui convergent uniformément vers leur limite simple:

- | | |
|---|--|
| <input type="checkbox"/> $f_n(x) = nxe^{-nx}$ sur $[1; 2]$ | <input type="checkbox"/> $f_n(x) = nxe^{-nx}$ sur $[a; +\infty[$ avec $a \in]0; 1[$ |
| <input type="checkbox"/> $f_n(x) = nxe^{-nx}$ sur $[0; 1[$ | <input type="checkbox"/> $f_n(x) = \frac{e^{-x}}{n}$ sur $]0; +\infty[$ |
| <input type="checkbox"/> $f_n(x) = \frac{e^{-x}}{n}$ sur $] - \infty, 0]$ | <input type="checkbox"/> $f_n(x) = nxe^{-nx}$ sur $[0; +\infty[$ |

Question 3 ♣

On définit la suite de fonctions $f_n(x) = \frac{e^{-nx}}{1+x}$. Alors, la suite $(f_n)_{n \geq 0}$

- converge uniformément sur $[0, +\infty[$
- converge uniformément sur $[0, 1]$ et la fonction limite est continue
- converge uniformément sur $[1, +\infty[$ et la fonction limite est continue

Question 4 ♣

Soit $(f_n)_{n \geq 0}$ une suite de fonctions définies sur un intervalle $I \subset \mathbb{R}$ à valeur dans \mathbb{R} . Quelles les conditions nécessaires pour appliquer le théorème d'interversion limites-dérivations?

- $\forall x_0 \in I$, la suite $(f_n(x_0))_{n \geq 0}$ converge.
- La suite de fonctions (f'_n) converge uniformément sur I vers une fonction g .
- $\exists x_0 \in I$, tel que la suite numérique $(f_n(x_0))_{n \geq 0}$ converge.
- Pour tout $n \in \mathbb{N}$, les fonctions f_n sont de classe C^1 sur I.
- La suite de fonctions (f_n) converge uniformément sur I vers une fonction f continue.



<input type="checkbox"/>	0	<input type="checkbox"/>	0	<input type="checkbox"/>	0	<input type="checkbox"/>	0	<input type="checkbox"/>	0	<input type="checkbox"/>	0	<input type="checkbox"/>	0	<input type="checkbox"/>	0	<input type="checkbox"/>	0
<input type="checkbox"/>	1	<input type="checkbox"/>	1	<input type="checkbox"/>	1	<input type="checkbox"/>	1	<input type="checkbox"/>	1	<input type="checkbox"/>	1	<input type="checkbox"/>	1	<input type="checkbox"/>	1	<input type="checkbox"/>	1
<input type="checkbox"/>	2	<input type="checkbox"/>	2	<input type="checkbox"/>	2	<input type="checkbox"/>	2	<input type="checkbox"/>	2	<input type="checkbox"/>	2	<input type="checkbox"/>	2	<input type="checkbox"/>	2	<input type="checkbox"/>	2
<input type="checkbox"/>	3	<input type="checkbox"/>	3	<input type="checkbox"/>	3	<input type="checkbox"/>	3	<input type="checkbox"/>	3	<input type="checkbox"/>	3	<input type="checkbox"/>	3	<input type="checkbox"/>	3	<input type="checkbox"/>	3
<input type="checkbox"/>	4	<input type="checkbox"/>	4	<input type="checkbox"/>	4	<input type="checkbox"/>	4	<input type="checkbox"/>	4	<input type="checkbox"/>	4	<input type="checkbox"/>	4	<input type="checkbox"/>	4	<input type="checkbox"/>	4
<input type="checkbox"/>	5	<input type="checkbox"/>	5	<input type="checkbox"/>	5	<input type="checkbox"/>	5	<input type="checkbox"/>	5	<input type="checkbox"/>	5	<input type="checkbox"/>	5	<input type="checkbox"/>	5	<input type="checkbox"/>	5
<input type="checkbox"/>	6	<input type="checkbox"/>	6	<input type="checkbox"/>	6	<input type="checkbox"/>	6	<input type="checkbox"/>	6	<input type="checkbox"/>	6	<input type="checkbox"/>	6	<input type="checkbox"/>	6	<input type="checkbox"/>	6
<input type="checkbox"/>	7	<input type="checkbox"/>	7	<input type="checkbox"/>	7	<input type="checkbox"/>	7	<input type="checkbox"/>	7	<input type="checkbox"/>	7	<input type="checkbox"/>	7	<input type="checkbox"/>	7	<input type="checkbox"/>	7
<input type="checkbox"/>	8	<input type="checkbox"/>	8	<input type="checkbox"/>	8	<input type="checkbox"/>	8	<input type="checkbox"/>	8	<input type="checkbox"/>	8	<input type="checkbox"/>	8	<input type="checkbox"/>	8	<input type="checkbox"/>	8
<input type="checkbox"/>	9	<input type="checkbox"/>	9	<input type="checkbox"/>	9	<input type="checkbox"/>	9	<input type="checkbox"/>	9	<input type="checkbox"/>	9	<input type="checkbox"/>	9	<input type="checkbox"/>	9	<input type="checkbox"/>	9

QCM3L Suites de Fonctions Préing2

← codez votre numéro d'étudiant ci-contre, et inscrivez votre nom et prénom ci-dessous (le NOM d'abord!).

Nom et prénom :
.....
.....

Les cases doivent être complètement noircies avec un stylo NOIR.

Question 1 ♣

Choisir les suites de fonctions $(f_n)_{n \geq 0}$ qui convergent uniformément vers leur limite simple:

- | | |
|--|--|
| <input type="checkbox"/> $f_n(x) = \frac{e^{-x}}{n}$ sur $] -\infty, 0]$ | <input type="checkbox"/> $f_n(x) = nxe^{-nx}$ sur $[0; 1[$ |
| <input type="checkbox"/> $f_n(x) = nxe^{-nx}$ sur $[1; 2]$ | <input type="checkbox"/> $f_n(x) = nxe^{-nx}$ sur $[a; +\infty[$ avec $a \in]0; 1[$ |
| <input type="checkbox"/> $f_n(x) = \frac{e^{-x}}{n}$ sur $]0; +\infty[$ | <input type="checkbox"/> $f_n(x) = nxe^{-nx}$ sur $[0; +\infty[$ |

Question 2 ♣

Soit $(f_n)_{n \geq 0}$ une suite de fonctions définies sur un intervalle $I \subset \mathbb{R}$ à valeur dans \mathbb{R} . Quelles les conditions nécessaires pour appliquer le théorème d'interversion limites-dérivations?

- La suite de fonctions (f'_n) converge uniformément sur I vers une fonction g .
- Pour tout $n \in \mathbb{N}$, les fonctions f_n sont de classe C^1 sur I.
- $\forall x_0 \in I$, la suite $(f_n(x_0))_{n \geq 0}$ converge.
- La suite de fonctions (f_n) converge uniformément sur I vers une fonction f continue.
- $\exists x_0 \in I$, tel que la suite numérique $(f_n(x_0))_{n \geq 0}$ converge.

Question 3 ♣

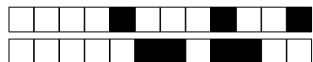
On définit la suite de fonctions $f_n(x) = \frac{e^{-nx}}{1+x}$. Alors, la suite $(f_n)_{n \geq 0}$

- converge uniformément sur $[1, +\infty[$ et la fonction limite est continue
- converge uniformément sur $[0, +\infty[$
- converge uniformément sur $[0, 1]$ et la fonction limite est continue

Question 4 ♣

Soit $(f_n)_{n \geq 0}$ une suite de fonctions définies par $f_n(x) = x^n \ln(x)$ pour $x \in]0, 1]$ et $f_n(0) = 0$. Alors

- $(f_n)_{n \geq 0}$ converge uniformément sur $[0, a]$ ($a \in]0, 1[$)
- $(f_n)_{n \geq 0}$ converge uniformément sur $[a, 1]$ ($a \in]0, 1[$)
- $(f_n)_{n \geq 0}$ converge uniformément sur $[0, 1]$



<input type="checkbox"/>	0	<input type="checkbox"/>	0	<input type="checkbox"/>	0	<input type="checkbox"/>	0	<input type="checkbox"/>	0	<input type="checkbox"/>	0	<input type="checkbox"/>	0	<input type="checkbox"/>	0	<input type="checkbox"/>	0
<input type="checkbox"/>	1	<input type="checkbox"/>	1	<input type="checkbox"/>	1	<input type="checkbox"/>	1	<input type="checkbox"/>	1	<input type="checkbox"/>	1	<input type="checkbox"/>	1	<input type="checkbox"/>	1	<input type="checkbox"/>	1
<input type="checkbox"/>	2	<input type="checkbox"/>	2	<input type="checkbox"/>	2	<input type="checkbox"/>	2	<input type="checkbox"/>	2	<input type="checkbox"/>	2	<input type="checkbox"/>	2	<input type="checkbox"/>	2	<input type="checkbox"/>	2
<input type="checkbox"/>	3	<input type="checkbox"/>	3	<input type="checkbox"/>	3	<input type="checkbox"/>	3	<input type="checkbox"/>	3	<input type="checkbox"/>	3	<input type="checkbox"/>	3	<input type="checkbox"/>	3	<input type="checkbox"/>	3
<input type="checkbox"/>	4	<input type="checkbox"/>	4	<input type="checkbox"/>	4	<input type="checkbox"/>	4	<input type="checkbox"/>	4	<input type="checkbox"/>	4	<input type="checkbox"/>	4	<input type="checkbox"/>	4	<input type="checkbox"/>	4
<input type="checkbox"/>	5	<input type="checkbox"/>	5	<input type="checkbox"/>	5	<input type="checkbox"/>	5	<input type="checkbox"/>	5	<input type="checkbox"/>	5	<input type="checkbox"/>	5	<input type="checkbox"/>	5	<input type="checkbox"/>	5
<input type="checkbox"/>	6	<input type="checkbox"/>	6	<input type="checkbox"/>	6	<input type="checkbox"/>	6	<input type="checkbox"/>	6	<input type="checkbox"/>	6	<input type="checkbox"/>	6	<input type="checkbox"/>	6	<input type="checkbox"/>	6
<input type="checkbox"/>	7	<input type="checkbox"/>	7	<input type="checkbox"/>	7	<input type="checkbox"/>	7	<input type="checkbox"/>	7	<input type="checkbox"/>	7	<input type="checkbox"/>	7	<input type="checkbox"/>	7	<input type="checkbox"/>	7
<input type="checkbox"/>	8	<input type="checkbox"/>	8	<input type="checkbox"/>	8	<input type="checkbox"/>	8	<input type="checkbox"/>	8	<input type="checkbox"/>	8	<input type="checkbox"/>	8	<input type="checkbox"/>	8	<input type="checkbox"/>	8
<input type="checkbox"/>	9	<input type="checkbox"/>	9	<input type="checkbox"/>	9	<input type="checkbox"/>	9	<input type="checkbox"/>	9	<input type="checkbox"/>	9	<input type="checkbox"/>	9	<input type="checkbox"/>	9	<input type="checkbox"/>	9

QCM3L Suites de Fonctions Préing2

← codez votre numéro d'étudiant ci-contre, et inscrivez votre nom et prénom ci-dessous (le NOM d'abord!).

Nom et prénom :

.....

.....

Les cases doivent être complètement noircies avec un stylo NOIR.

Question 1 ♣

Choisir les suites de fonctions $(f_n)_{n \geq 0}$ qui convergent uniformément vers leur limite simple:

- | | |
|---|--|
| <input type="checkbox"/> $f_n(x) = nxe^{-nx}$ sur $[0; 1[$ | <input type="checkbox"/> $f_n(x) = nxe^{-nx}$ sur $[1; 2]$ |
| <input type="checkbox"/> $f_n(x) = \frac{e^{-x}}{n}$ sur $] - \infty, 0]$ | <input type="checkbox"/> $f_n(x) = \frac{e^{-x}}{n}$ sur $]0; +\infty[$ |
| <input type="checkbox"/> $f_n(x) = nxe^{-nx}$ sur $[0; +\infty[$ | <input type="checkbox"/> $f_n(x) = nxe^{-nx}$ sur $[a; +\infty[$ avec $a \in]0; 1[$ |

Question 2 ♣

On définit la suite de fonctions $f_n(x) = \frac{e^{-nx}}{1+x}$. Alors, la suite $(f_n)_{n \geq 0}$

- converge uniformément sur $[0, +\infty[$
- converge uniformément sur $[0, 1]$ et la fonction limite est continue
- converge uniformément sur $[1, +\infty[$ et la fonction limite est continue

Question 3 ♣

Soit $(f_n)_{n \geq 0}$ une suite de fonctions définies sur un intervalle $I \subset \mathbb{R}$ à valeur dans \mathbb{R} . Quelles les conditions nécessaires pour appliquer le théorème d'interversion limites-dérivations?

- Pour tout $n \in \mathbb{N}$, les fonctions f_n sont de classe C^1 sur I .
- La suite de fonctions (f_n) converge uniformément sur I vers une fonction f continue.
- La suite de fonctions (f'_n) converge uniformément sur I vers une fonction g .
- $\forall x_0 \in I$, la suite $(f_n(x_0))_{n \geq 0}$ converge.
- $\exists x_0 \in I$, tel que la suite numérique $(f_n(x_0))_{n \geq 0}$ converge.

Question 4 ♣

Soit $(f_n)_{n \geq 0}$ une suite de fonctions définies par $f_n(x) = x^n \ln(x)$ pour $x \in]0, 1]$ et $f_n(0) = 0$. Alors

- $(f_n)_{n \geq 0}$ converge uniformément sur $[a, 1]$ ($a \in]0, 1[$)
- $(f_n)_{n \geq 0}$ converge uniformément sur $[0, 1]$
- $(f_n)_{n \geq 0}$ converge uniformément sur $[0, a]$ ($a \in]0, 1[$)



<input type="checkbox"/>	0	<input type="checkbox"/>	0	<input type="checkbox"/>	0	<input type="checkbox"/>	0	<input type="checkbox"/>	0	<input type="checkbox"/>	0	<input type="checkbox"/>	0	<input type="checkbox"/>	0	<input type="checkbox"/>	0
<input type="checkbox"/>	1	<input type="checkbox"/>	1	<input type="checkbox"/>	1	<input type="checkbox"/>	1	<input type="checkbox"/>	1	<input type="checkbox"/>	1	<input type="checkbox"/>	1	<input type="checkbox"/>	1	<input type="checkbox"/>	1
<input type="checkbox"/>	2	<input type="checkbox"/>	2	<input type="checkbox"/>	2	<input type="checkbox"/>	2	<input type="checkbox"/>	2	<input type="checkbox"/>	2	<input type="checkbox"/>	2	<input type="checkbox"/>	2	<input type="checkbox"/>	2
<input type="checkbox"/>	3	<input type="checkbox"/>	3	<input type="checkbox"/>	3	<input type="checkbox"/>	3	<input type="checkbox"/>	3	<input type="checkbox"/>	3	<input type="checkbox"/>	3	<input type="checkbox"/>	3	<input type="checkbox"/>	3
<input type="checkbox"/>	4	<input type="checkbox"/>	4	<input type="checkbox"/>	4	<input type="checkbox"/>	4	<input type="checkbox"/>	4	<input type="checkbox"/>	4	<input type="checkbox"/>	4	<input type="checkbox"/>	4	<input type="checkbox"/>	4
<input type="checkbox"/>	5	<input type="checkbox"/>	5	<input type="checkbox"/>	5	<input type="checkbox"/>	5	<input type="checkbox"/>	5	<input type="checkbox"/>	5	<input type="checkbox"/>	5	<input type="checkbox"/>	5	<input type="checkbox"/>	5
<input type="checkbox"/>	6	<input type="checkbox"/>	6	<input type="checkbox"/>	6	<input type="checkbox"/>	6	<input type="checkbox"/>	6	<input type="checkbox"/>	6	<input type="checkbox"/>	6	<input type="checkbox"/>	6	<input type="checkbox"/>	6
<input type="checkbox"/>	7	<input type="checkbox"/>	7	<input type="checkbox"/>	7	<input type="checkbox"/>	7	<input type="checkbox"/>	7	<input type="checkbox"/>	7	<input type="checkbox"/>	7	<input type="checkbox"/>	7	<input type="checkbox"/>	7
<input type="checkbox"/>	8	<input type="checkbox"/>	8	<input type="checkbox"/>	8	<input type="checkbox"/>	8	<input type="checkbox"/>	8	<input type="checkbox"/>	8	<input type="checkbox"/>	8	<input type="checkbox"/>	8	<input type="checkbox"/>	8
<input type="checkbox"/>	9	<input type="checkbox"/>	9	<input type="checkbox"/>	9	<input type="checkbox"/>	9	<input type="checkbox"/>	9	<input type="checkbox"/>	9	<input type="checkbox"/>	9	<input type="checkbox"/>	9	<input type="checkbox"/>	9

QCM3L Suites de Fonctions Préing2

← codez votre numéro d'étudiant ci-contre, et inscrivez votre nom et prénom ci-dessous (le NOM d'abord!).

Nom et prénom :

.....

.....

Les cases doivent être complètement noircies avec un stylo NOIR.

Question 1 ♣

Choisir les suites de fonctions $(f_n)_{n \geq 0}$ qui convergent uniformément vers leur limite simple:

- | | |
|--|--|
| <input type="checkbox"/> $f_n(x) = nxe^{-nx}$ sur $[0; +\infty[$ | <input type="checkbox"/> $f_n(x) = \frac{e^{-x}}{n}$ sur $] -\infty, 0]$ |
| <input type="checkbox"/> $f_n(x) = nxe^{-nx}$ sur $[0; 1[$ | <input type="checkbox"/> $f_n(x) = \frac{e^{-x}}{n}$ sur $]0; +\infty[$ |
| <input type="checkbox"/> $f_n(x) = nxe^{-nx}$ sur $[a; +\infty[$ avec $a \in]0; 1[$ | <input type="checkbox"/> $f_n(x) = nxe^{-nx}$ sur $[1; 2]$ |

Question 2 ♣

On définit la suite de fonctions $f_n(x) = \frac{e^{-nx}}{1+x}$. Alors, la suite $(f_n)_{n \geq 0}$

- converge uniformément sur $[0, +\infty[$
- converge uniformément sur $[1, +\infty[$ et la fonction limite est continue
- converge uniformément sur $[0, 1]$ et la fonction limite est continue

Question 3 ♣

Soit $(f_n)_{n \geq 0}$ une suite de fonctions définies par $f_n(x) = x^n \ln(x)$ pour $x \in]0, 1]$ et $f_n(0) = 0$. Alors

- $(f_n)_{n \geq 0}$ converge uniformément sur $[0, 1]$
- $(f_n)_{n \geq 0}$ converge uniformément sur $[0, a]$ ($a \in]0, 1[$)
- $(f_n)_{n \geq 0}$ converge uniformément sur $[a, 1]$ ($a \in]0, 1[$)

Question 4 ♣

Soit $(f_n)_{n \geq 0}$ une suite de fonctions définies sur un intervalle $I \subset \mathbb{R}$ à valeur dans \mathbb{R} . Quelles les conditions nécessaires pour appliquer le théorème d'interversion limites-dérivations?

- Pour tout $n \in \mathbb{N}$, les fonctions f_n sont de classe C^1 sur I .
- $\exists x_0 \in I$, tel que la suite numérique $(f_n(x_0))_{n \geq 0}$ converge.
- La suite de fonctions (f'_n) converge uniformément sur I vers une fonction g .
- La suite de fonctions (f_n) converge uniformément sur I vers une fonction f continue.
- $\forall x_0 \in I$, la suite $(f_n(x_0))_{n \geq 0}$ converge.



<input type="checkbox"/> 0	<input type="checkbox"/> 0	<input type="checkbox"/> 0	<input type="checkbox"/> 0	<input type="checkbox"/> 0	<input type="checkbox"/> 0	<input type="checkbox"/> 0	<input type="checkbox"/> 0
<input type="checkbox"/> 1	<input type="checkbox"/> 1	<input type="checkbox"/> 1	<input type="checkbox"/> 1	<input type="checkbox"/> 1	<input type="checkbox"/> 1	<input type="checkbox"/> 1	<input type="checkbox"/> 1
<input type="checkbox"/> 2	<input type="checkbox"/> 2	<input type="checkbox"/> 2	<input type="checkbox"/> 2	<input type="checkbox"/> 2	<input type="checkbox"/> 2	<input type="checkbox"/> 2	<input type="checkbox"/> 2
<input type="checkbox"/> 3	<input type="checkbox"/> 3	<input type="checkbox"/> 3	<input type="checkbox"/> 3	<input type="checkbox"/> 3	<input type="checkbox"/> 3	<input type="checkbox"/> 3	<input type="checkbox"/> 3
<input type="checkbox"/> 4	<input type="checkbox"/> 4	<input type="checkbox"/> 4	<input type="checkbox"/> 4	<input type="checkbox"/> 4	<input type="checkbox"/> 4	<input type="checkbox"/> 4	<input type="checkbox"/> 4
<input type="checkbox"/> 5	<input type="checkbox"/> 5	<input type="checkbox"/> 5	<input type="checkbox"/> 5	<input type="checkbox"/> 5	<input type="checkbox"/> 5	<input type="checkbox"/> 5	<input type="checkbox"/> 5
<input type="checkbox"/> 6	<input type="checkbox"/> 6	<input type="checkbox"/> 6	<input type="checkbox"/> 6	<input type="checkbox"/> 6	<input type="checkbox"/> 6	<input type="checkbox"/> 6	<input type="checkbox"/> 6
<input type="checkbox"/> 7	<input type="checkbox"/> 7	<input type="checkbox"/> 7	<input type="checkbox"/> 7	<input type="checkbox"/> 7	<input type="checkbox"/> 7	<input type="checkbox"/> 7	<input type="checkbox"/> 7
<input type="checkbox"/> 8	<input type="checkbox"/> 8	<input type="checkbox"/> 8	<input type="checkbox"/> 8	<input type="checkbox"/> 8	<input type="checkbox"/> 8	<input type="checkbox"/> 8	<input type="checkbox"/> 8
<input type="checkbox"/> 9	<input type="checkbox"/> 9	<input type="checkbox"/> 9	<input type="checkbox"/> 9	<input type="checkbox"/> 9	<input type="checkbox"/> 9	<input type="checkbox"/> 9	<input type="checkbox"/> 9

QCM3L Suites de Fonctions Préing2

← codez votre numéro d'étudiant ci-contre, et inscrivez votre nom et prénom ci-dessous (le NOM d'abord!).

Nom et prénom :

.....

.....

Les cases doivent être complètement noircies avec un stylo NOIR.

Question 1 ♣

Soit $(f_n)_{n \geq 0}$ une suite de fonctions définies sur un intervalle $I \subset \mathbb{R}$ à valeur dans \mathbb{R} . Quelles les conditions nécessaires pour appliquer le théorème d'inversion limites-dérivations?

- La suite de fonctions (f_n) converge uniformément sur I vers une fonction f continue.
- La suite de fonctions (f'_n) converge uniformément sur I vers une fonction g .
- $\forall x_0 \in I$, la suite $(f_n(x_0))_{n \geq 0}$ converge.
- Pour tout $n \in \mathbb{N}$, les fonctions f_n sont de classe C^1 sur I.
- $\exists x_0 \in I$, tel que la suite numérique $(f_n(x_0))_{n \geq 0}$ converge.

Question 2 ♣

Choisir les suites de fonctions $(f_n)_{n \geq 0}$ qui convergent uniformément vers leur limite simple:

- | | |
|--|---|
| <input type="checkbox"/> $f_n(x) = nxe^{-nx}$ sur $]0; +\infty[$ | <input type="checkbox"/> $f_n(x) = \frac{e^{-x}}{n}$ sur $]0; +\infty[$ |
| <input type="checkbox"/> $f_n(x) = nxe^{-nx}$ sur $]0; 1[$ | <input type="checkbox"/> $f_n(x) = nxe^{-nx}$ sur $]1; 2[$ |
| <input type="checkbox"/> $f_n(x) = nxe^{-nx}$ sur $[a; +\infty[$ avec $a \in]0; 1[$ | <input type="checkbox"/> $f_n(x) = \frac{e^{-x}}{n}$ sur $] - \infty, 0]$ |

Question 3 ♣

Soit $(f_n)_{n \geq 0}$ une suite de fonctions définies par $f_n(x) = x^n \ln(x)$ pour $x \in]0, 1]$ et $f_n(0) = 0$. Alors

- $(f_n)_{n \geq 0}$ converge uniformément sur $[0, 1]$
- $(f_n)_{n \geq 0}$ converge uniformément sur $[a, 1]$ ($a \in]0, 1[$)
- $(f_n)_{n \geq 0}$ converge uniformément sur $[0, a]$ ($a \in]0, 1[$)

Question 4 ♣

On définit la suite de fonctions $f_n(x) = \frac{e^{-nx}}{1+x}$. Alors, la suite $(f_n)_{n \geq 0}$

- converge uniformément sur $[0, +\infty[$
- converge uniformément sur $[1, +\infty[$ et la fonction limite est continue
- converge uniformément sur $[0, 1]$ et la fonction limite est continue



<input type="checkbox"/> 0	<input type="checkbox"/> 0	<input type="checkbox"/> 0	<input type="checkbox"/> 0	<input type="checkbox"/> 0	<input type="checkbox"/> 0	<input type="checkbox"/> 0	<input type="checkbox"/> 0
<input type="checkbox"/> 1	<input type="checkbox"/> 1	<input type="checkbox"/> 1	<input type="checkbox"/> 1	<input type="checkbox"/> 1	<input type="checkbox"/> 1	<input type="checkbox"/> 1	<input type="checkbox"/> 1
<input type="checkbox"/> 2	<input type="checkbox"/> 2	<input type="checkbox"/> 2	<input type="checkbox"/> 2	<input type="checkbox"/> 2	<input type="checkbox"/> 2	<input type="checkbox"/> 2	<input type="checkbox"/> 2
<input type="checkbox"/> 3	<input type="checkbox"/> 3	<input type="checkbox"/> 3	<input type="checkbox"/> 3	<input type="checkbox"/> 3	<input type="checkbox"/> 3	<input type="checkbox"/> 3	<input type="checkbox"/> 3
<input type="checkbox"/> 4	<input type="checkbox"/> 4	<input type="checkbox"/> 4	<input type="checkbox"/> 4	<input type="checkbox"/> 4	<input type="checkbox"/> 4	<input type="checkbox"/> 4	<input type="checkbox"/> 4
<input type="checkbox"/> 5	<input type="checkbox"/> 5	<input type="checkbox"/> 5	<input type="checkbox"/> 5	<input type="checkbox"/> 5	<input type="checkbox"/> 5	<input type="checkbox"/> 5	<input type="checkbox"/> 5
<input type="checkbox"/> 6	<input type="checkbox"/> 6	<input type="checkbox"/> 6	<input type="checkbox"/> 6	<input type="checkbox"/> 6	<input type="checkbox"/> 6	<input type="checkbox"/> 6	<input type="checkbox"/> 6
<input type="checkbox"/> 7	<input type="checkbox"/> 7	<input type="checkbox"/> 7	<input type="checkbox"/> 7	<input type="checkbox"/> 7	<input type="checkbox"/> 7	<input type="checkbox"/> 7	<input type="checkbox"/> 7
<input type="checkbox"/> 8	<input type="checkbox"/> 8	<input type="checkbox"/> 8	<input type="checkbox"/> 8	<input type="checkbox"/> 8	<input type="checkbox"/> 8	<input type="checkbox"/> 8	<input type="checkbox"/> 8
<input type="checkbox"/> 9	<input type="checkbox"/> 9	<input type="checkbox"/> 9	<input type="checkbox"/> 9	<input type="checkbox"/> 9	<input type="checkbox"/> 9	<input type="checkbox"/> 9	<input type="checkbox"/> 9

QCM3L Suites de Fonctions Préing2

← codez votre numéro d'étudiant ci-contre, et inscrivez votre nom et prénom ci-dessous (le NOM d'abord!).

Nom et prénom :

.....

.....

Les cases doivent être complètement noircies avec un stylo NOIR.

Question 1 ♣

Choisir les suites de fonctions $(f_n)_{n \geq 0}$ qui convergent uniformément vers leur limite simple:

- | | |
|--|---|
| <input type="checkbox"/> $f_n(x) = \frac{e^{-x}}{n}$ sur $]0; +\infty[$ | <input type="checkbox"/> $f_n(x) = nxe^{-nx}$ sur $[0; +\infty[$ |
| <input type="checkbox"/> $f_n(x) = nxe^{-nx}$ sur $[a; +\infty[$ avec $a \in]0; 1[$ | <input type="checkbox"/> $f_n(x) = nxe^{-nx}$ sur $[0; 1[$ |
| <input type="checkbox"/> $f_n(x) = nxe^{-nx}$ sur $[1; 2]$ | <input type="checkbox"/> $f_n(x) = \frac{e^{-x}}{n}$ sur $] - \infty, 0]$ |

Question 2 ♣

Soit $(f_n)_{n \geq 0}$ une suite de fonctions définies par $f_n(x) = x^n \ln(x)$ pour $x \in]0, 1]$ et $f_n(0) = 0$. Alors

- $(f_n)_{n \geq 0}$ converge uniformément sur $[0, a]$ ($a \in]0, 1[$)
- $(f_n)_{n \geq 0}$ converge uniformément sur $[0, 1]$
- $(f_n)_{n \geq 0}$ converge uniformément sur $[a, 1]$ ($a \in]0, 1[$)

Question 3 ♣

Soit $(f_n)_{n \geq 0}$ une suite de fonctions définies sur un intervalle $I \subset \mathbb{R}$ à valeur dans \mathbb{R} . Quelles les conditions nécessaires pour appliquer le théorème d'interversion limites-dérivations?

- La suite de fonctions (f_n) converge uniformément sur I vers une fonction f continue.
- Pour tout $n \in \mathbb{N}$, les fonctions f_n sont de classe C^1 sur I.
- $\forall x_0 \in I$, la suite $(f_n(x_0))_{n \geq 0}$ converge.
- La suite de fonctions (f'_n) converge uniformément sur I vers une fonction g .
- $\exists x_0 \in I$, tel que la suite numérique $(f_n(x_0))_{n \geq 0}$ converge.

Question 4 ♣

On définit la suite de fonctions $f_n(x) = \frac{e^{-nx}}{1+x}$. Alors, la suite $(f_n)_{n \geq 0}$

- converge uniformément sur $[0, +\infty[$
- converge uniformément sur $[1, +\infty[$ et la fonction limite est continue
- converge uniformément sur $[0, 1]$ et la fonction limite est continue



<input type="checkbox"/>	<input type="checkbox"/>	<input type="checkbox"/>	<input type="checkbox"/>	<input type="checkbox"/>	<input type="checkbox"/>	<input type="checkbox"/>	<input type="checkbox"/>	<input type="checkbox"/>
<input type="checkbox"/>	<input type="checkbox"/>	<input type="checkbox"/>	<input type="checkbox"/>	<input type="checkbox"/>	<input type="checkbox"/>	<input type="checkbox"/>	<input type="checkbox"/>	<input type="checkbox"/>
<input type="checkbox"/>	<input type="checkbox"/>	<input type="checkbox"/>	<input type="checkbox"/>	<input type="checkbox"/>	<input type="checkbox"/>	<input type="checkbox"/>	<input type="checkbox"/>	<input type="checkbox"/>
<input type="checkbox"/>	<input type="checkbox"/>	<input type="checkbox"/>	<input type="checkbox"/>	<input type="checkbox"/>	<input type="checkbox"/>	<input type="checkbox"/>	<input type="checkbox"/>	<input type="checkbox"/>
<input type="checkbox"/>	<input type="checkbox"/>	<input type="checkbox"/>	<input type="checkbox"/>	<input type="checkbox"/>	<input type="checkbox"/>	<input type="checkbox"/>	<input type="checkbox"/>	<input type="checkbox"/>
<input type="checkbox"/>	<input type="checkbox"/>	<input type="checkbox"/>	<input type="checkbox"/>	<input type="checkbox"/>	<input type="checkbox"/>	<input type="checkbox"/>	<input type="checkbox"/>	<input type="checkbox"/>
<input type="checkbox"/>	<input type="checkbox"/>	<input type="checkbox"/>	<input type="checkbox"/>	<input type="checkbox"/>	<input type="checkbox"/>	<input type="checkbox"/>	<input type="checkbox"/>	<input type="checkbox"/>
<input type="checkbox"/>	<input type="checkbox"/>	<input type="checkbox"/>	<input type="checkbox"/>	<input type="checkbox"/>	<input type="checkbox"/>	<input type="checkbox"/>	<input type="checkbox"/>	<input type="checkbox"/>
<input type="checkbox"/>	<input type="checkbox"/>	<input type="checkbox"/>	<input type="checkbox"/>	<input type="checkbox"/>	<input type="checkbox"/>	<input type="checkbox"/>	<input type="checkbox"/>	<input type="checkbox"/>
<input type="checkbox"/>	<input type="checkbox"/>	<input type="checkbox"/>	<input type="checkbox"/>	<input type="checkbox"/>	<input type="checkbox"/>	<input type="checkbox"/>	<input type="checkbox"/>	<input type="checkbox"/>

QCM3L Suites de Fonctions Préing2

← codez votre numéro d'étudiant ci-contre, et inscrivez votre nom et prénom ci-dessous (le NOM d'abord!).

Nom et prénom :
.....
.....

Les cases doivent être complètement noircies avec un stylo NOIR.

Question 1 ♣

Choisir les suites de fonctions $(f_n)_{n \geq 0}$ qui convergent uniformément vers leur limite simple:

- | | |
|---|--|
| <input type="checkbox"/> $f_n(x) = nxe^{-nx}$ sur $[1; 2]$ | <input type="checkbox"/> $f_n(x) = nxe^{-nx}$ sur $[0; +\infty[$ |
| <input type="checkbox"/> $f_n(x) = nxe^{-nx}$ sur $[0; 1[$ | <input type="checkbox"/> $f_n(x) = \frac{e^{-x}}{n}$ sur $] - \infty, 0]$ |
| <input type="checkbox"/> $f_n(x) = \frac{e^{-x}}{n}$ sur $]0; +\infty[$ | <input type="checkbox"/> $f_n(x) = nxe^{-nx}$ sur $[a; +\infty[$ avec $a \in]0; 1[$ |

Question 2 ♣

Soit $(f_n)_{n \geq 0}$ une suite de fonctions définies sur un intervalle $I \subset \mathbb{R}$ à valeur dans \mathbb{R} . Quelles les conditions nécessaires pour appliquer le théorème d'interversion limites-dérivations?

- La suite de fonctions (f_n) converge uniformément sur I vers une fonction f continue.
- La suite de fonctions (f'_n) converge uniformément sur I vers une fonction g .
- $\forall x_0 \in I$, la suite $(f_n(x_0))_{n \geq 0}$ converge.
- Pour tout $n \in \mathbb{N}$, les fonctions f_n sont de classe C^1 sur I.
- $\exists x_0 \in I$, tel que la suite numérique $(f_n(x_0))_{n \geq 0}$ converge.

Question 3 ♣

Soit $(f_n)_{n \geq 0}$ une suite de fonctions définies par $f_n(x) = x^n \ln(x)$ pour $x \in]0, 1]$ et $f_n(0) = 0$. Alors

- $(f_n)_{n \geq 0}$ converge uniformément sur $[a, 1]$ ($a \in]0, 1[$)
- $(f_n)_{n \geq 0}$ converge uniformément sur $[0, 1]$
- $(f_n)_{n \geq 0}$ converge uniformément sur $[0, a]$ ($a \in]0, 1[$)

Question 4 ♣

On définit la suite de fonctions $f_n(x) = \frac{e^{-nx}}{1+x}$. Alors, la suite $(f_n)_{n \geq 0}$

- converge uniformément sur $[0, 1]$ et la fonction limite est continue
- converge uniformément sur $[0, +\infty[$
- converge uniformément sur $[1, +\infty[$ et la fonction limite est continue



<input type="checkbox"/>	0	<input type="checkbox"/>	0	<input type="checkbox"/>	0	<input type="checkbox"/>	0	<input type="checkbox"/>	0	<input type="checkbox"/>	0	<input type="checkbox"/>	0	<input type="checkbox"/>	0	<input type="checkbox"/>	0
<input type="checkbox"/>	1	<input type="checkbox"/>	1	<input type="checkbox"/>	1	<input type="checkbox"/>	1	<input type="checkbox"/>	1	<input type="checkbox"/>	1	<input type="checkbox"/>	1	<input type="checkbox"/>	1	<input type="checkbox"/>	1
<input type="checkbox"/>	2	<input type="checkbox"/>	2	<input type="checkbox"/>	2	<input type="checkbox"/>	2	<input type="checkbox"/>	2	<input type="checkbox"/>	2	<input type="checkbox"/>	2	<input type="checkbox"/>	2	<input type="checkbox"/>	2
<input type="checkbox"/>	3	<input type="checkbox"/>	3	<input type="checkbox"/>	3	<input type="checkbox"/>	3	<input type="checkbox"/>	3	<input type="checkbox"/>	3	<input type="checkbox"/>	3	<input type="checkbox"/>	3	<input type="checkbox"/>	3
<input type="checkbox"/>	4	<input type="checkbox"/>	4	<input type="checkbox"/>	4	<input type="checkbox"/>	4	<input type="checkbox"/>	4	<input type="checkbox"/>	4	<input type="checkbox"/>	4	<input type="checkbox"/>	4	<input type="checkbox"/>	4
<input type="checkbox"/>	5	<input type="checkbox"/>	5	<input type="checkbox"/>	5	<input type="checkbox"/>	5	<input type="checkbox"/>	5	<input type="checkbox"/>	5	<input type="checkbox"/>	5	<input type="checkbox"/>	5	<input type="checkbox"/>	5
<input type="checkbox"/>	6	<input type="checkbox"/>	6	<input type="checkbox"/>	6	<input type="checkbox"/>	6	<input type="checkbox"/>	6	<input type="checkbox"/>	6	<input type="checkbox"/>	6	<input type="checkbox"/>	6	<input type="checkbox"/>	6
<input type="checkbox"/>	7	<input type="checkbox"/>	7	<input type="checkbox"/>	7	<input type="checkbox"/>	7	<input type="checkbox"/>	7	<input type="checkbox"/>	7	<input type="checkbox"/>	7	<input type="checkbox"/>	7	<input type="checkbox"/>	7
<input type="checkbox"/>	8	<input type="checkbox"/>	8	<input type="checkbox"/>	8	<input type="checkbox"/>	8	<input type="checkbox"/>	8	<input type="checkbox"/>	8	<input type="checkbox"/>	8	<input type="checkbox"/>	8	<input type="checkbox"/>	8
<input type="checkbox"/>	9	<input type="checkbox"/>	9	<input type="checkbox"/>	9	<input type="checkbox"/>	9	<input type="checkbox"/>	9	<input type="checkbox"/>	9	<input type="checkbox"/>	9	<input type="checkbox"/>	9	<input type="checkbox"/>	9

QCM3L Suites de Fonctions Préing2

← codez votre numéro d'étudiant ci-contre, et inscrivez votre nom et prénom ci-dessous (le NOM d'abord!).

Nom et prénom :

.....

.....

Les cases doivent être complètement noircies avec un stylo NOIR.

Question 1 ♣

Soit $(f_n)_{n \geq 0}$ une suite de fonctions définies sur un intervalle $I \subset \mathbb{R}$ à valeur dans \mathbb{R} . Quelles les conditions nécessaires pour appliquer le théorème d'inversion limites-dérivations?

- La suite de fonctions (f_n) converge uniformément sur I vers une fonction f continue.
- Pour tout $n \in \mathbb{N}$, les fonctions f_n sont de classe C^1 sur I .
- La suite de fonctions (f'_n) converge uniformément sur I vers une fonction g .
- $\exists x_0 \in I$, tel que la suite numérique $(f_n(x_0))_{n \geq 0}$ converge.
- $\forall x_0 \in I$, la suite $(f_n(x_0))_{n \geq 0}$ converge.

Question 2 ♣

Soit $(f_n)_{n \geq 0}$ une suite de fonctions définies par $f_n(x) = x^n \ln(x)$ pour $x \in]0, 1]$ et $f_n(0) = 0$. Alors

- $(f_n)_{n \geq 0}$ converge uniformément sur $[0, 1]$
- $(f_n)_{n \geq 0}$ converge uniformément sur $[0, a]$ ($a \in]0, 1[$)
- $(f_n)_{n \geq 0}$ converge uniformément sur $[a, 1]$ ($a \in]0, 1[$)

Question 3 ♣

On définit la suite de fonctions $f_n(x) = \frac{e^{-nx}}{1+x}$. Alors, la suite $(f_n)_{n \geq 0}$

- converge uniformément sur $[1, +\infty[$ et la fonction limite est continue
- converge uniformément sur $[0, 1]$ et la fonction limite est continue
- converge uniformément sur $[0, +\infty[$

Question 4 ♣

Choisir les suites de fonctions $(f_n)_{n \geq 0}$ qui convergent uniformément vers leur limite simple:

- | | |
|--|---|
| <input type="checkbox"/> $f_n(x) = nxe^{-nx}$ sur $[0; 1[$ | <input type="checkbox"/> $f_n(x) = nxe^{-nx}$ sur $[1; 2]$ |
| <input type="checkbox"/> $f_n(x) = nxe^{-nx}$ sur $[a; +\infty[$ avec $a \in]0; 1[$ | <input type="checkbox"/> $f_n(x) = \frac{e^{-x}}{n}$ sur $]0; +\infty[$ |
| <input type="checkbox"/> $f_n(x) = \frac{e^{-x}}{n}$ sur $] - \infty, 0]$ | <input type="checkbox"/> $f_n(x) = nxe^{-nx}$ sur $[0; +\infty[$ |



<input type="checkbox"/>	0	<input type="checkbox"/>	0	<input type="checkbox"/>	0	<input type="checkbox"/>	0	<input type="checkbox"/>	0	<input type="checkbox"/>	0	<input type="checkbox"/>	0	<input type="checkbox"/>	0	<input type="checkbox"/>	0
<input type="checkbox"/>	1	<input type="checkbox"/>	1	<input type="checkbox"/>	1	<input type="checkbox"/>	1	<input type="checkbox"/>	1	<input type="checkbox"/>	1	<input type="checkbox"/>	1	<input type="checkbox"/>	1	<input type="checkbox"/>	1
<input type="checkbox"/>	2	<input type="checkbox"/>	2	<input type="checkbox"/>	2	<input type="checkbox"/>	2	<input type="checkbox"/>	2	<input type="checkbox"/>	2	<input type="checkbox"/>	2	<input type="checkbox"/>	2	<input type="checkbox"/>	2
<input type="checkbox"/>	3	<input type="checkbox"/>	3	<input type="checkbox"/>	3	<input type="checkbox"/>	3	<input type="checkbox"/>	3	<input type="checkbox"/>	3	<input type="checkbox"/>	3	<input type="checkbox"/>	3	<input type="checkbox"/>	3
<input type="checkbox"/>	4	<input type="checkbox"/>	4	<input type="checkbox"/>	4	<input type="checkbox"/>	4	<input type="checkbox"/>	4	<input type="checkbox"/>	4	<input type="checkbox"/>	4	<input type="checkbox"/>	4	<input type="checkbox"/>	4
<input type="checkbox"/>	5	<input type="checkbox"/>	5	<input type="checkbox"/>	5	<input type="checkbox"/>	5	<input type="checkbox"/>	5	<input type="checkbox"/>	5	<input type="checkbox"/>	5	<input type="checkbox"/>	5	<input type="checkbox"/>	5
<input type="checkbox"/>	6	<input type="checkbox"/>	6	<input type="checkbox"/>	6	<input type="checkbox"/>	6	<input type="checkbox"/>	6	<input type="checkbox"/>	6	<input type="checkbox"/>	6	<input type="checkbox"/>	6	<input type="checkbox"/>	6
<input type="checkbox"/>	7	<input type="checkbox"/>	7	<input type="checkbox"/>	7	<input type="checkbox"/>	7	<input type="checkbox"/>	7	<input type="checkbox"/>	7	<input type="checkbox"/>	7	<input type="checkbox"/>	7	<input type="checkbox"/>	7
<input type="checkbox"/>	8	<input type="checkbox"/>	8	<input type="checkbox"/>	8	<input type="checkbox"/>	8	<input type="checkbox"/>	8	<input type="checkbox"/>	8	<input type="checkbox"/>	8	<input type="checkbox"/>	8	<input type="checkbox"/>	8
<input type="checkbox"/>	9	<input type="checkbox"/>	9	<input type="checkbox"/>	9	<input type="checkbox"/>	9	<input type="checkbox"/>	9	<input type="checkbox"/>	9	<input type="checkbox"/>	9	<input type="checkbox"/>	9	<input type="checkbox"/>	9

QCM3L Suites de Fonctions Préing2

← codez votre numéro d'étudiant ci-contre, et inscrivez votre nom et prénom ci-dessous (le NOM d'abord!).

Nom et prénom :
.....
.....

Les cases doivent être complètement noircies avec un stylo NOIR.

Question 1 ♣

Choisir les suites de fonctions $(f_n)_{n \geq 0}$ qui convergent uniformément vers leur limite simple:

- | | |
|--|--|
| <input type="checkbox"/> $f_n(x) = \frac{e^{-x}}{n}$ sur $] -\infty, 0]$ | <input type="checkbox"/> $f_n(x) = nxe^{-nx}$ sur $[1; 2]$ |
| <input type="checkbox"/> $f_n(x) = \frac{e^{-x}}{n}$ sur $]0; +\infty[$ | <input type="checkbox"/> $f_n(x) = nxe^{-nx}$ sur $[0; 1[$ |
| <input type="checkbox"/> $f_n(x) = nxe^{-nx}$ sur $[0; +\infty[$ | <input type="checkbox"/> $f_n(x) = nxe^{-nx}$ sur $[a; +\infty[$ avec $a \in]0; 1[$ |

Question 2 ♣

On définit la suite de fonctions $f_n(x) = \frac{e^{-nx}}{1+x}$. Alors, la suite $(f_n)_{n \geq 0}$

- converge uniformément sur $[0, 1]$ et la fonction limite est continue
- converge uniformément sur $[1, +\infty[$ et la fonction limite est continue
- converge uniformément sur $[0, +\infty[$

Question 3 ♣

Soit $(f_n)_{n \geq 0}$ une suite de fonctions définies sur un intervalle $I \subset \mathbb{R}$ à valeur dans \mathbb{R} . Quelles les conditions nécessaires pour appliquer le théorème d'interversion limites-dérivations?

- Pour tout $n \in \mathbb{N}$, les fonctions f_n sont de classe C^1 sur I .
- $\exists x_0 \in I$, tel que la suite numérique $(f_n(x_0))_{n \geq 0}$ converge.
- La suite de fonctions (f_n) converge uniformément sur I vers une fonction f continue.
- $\forall x_0 \in I$, la suite $(f_n(x_0))_{n \geq 0}$ converge.
- La suite de fonctions (f'_n) converge uniformément sur I vers une fonction g .

Question 4 ♣

Soit $(f_n)_{n \geq 0}$ une suite de fonctions définies par $f_n(x) = x^n \ln(x)$ pour $x \in]0, 1]$ et $f_n(0) = 0$. Alors

- $(f_n)_{n \geq 0}$ converge uniformément sur $[a, 1]$ ($a \in]0, 1[$)
- $(f_n)_{n \geq 0}$ converge uniformément sur $[0, 1]$
- $(f_n)_{n \geq 0}$ converge uniformément sur $[0, a]$ ($a \in]0, 1[$)



<input type="checkbox"/>	0	<input type="checkbox"/>	0	<input type="checkbox"/>	0	<input type="checkbox"/>	0	<input type="checkbox"/>	0	<input type="checkbox"/>	0	<input type="checkbox"/>	0	<input type="checkbox"/>	0	<input type="checkbox"/>	0
<input type="checkbox"/>	1	<input type="checkbox"/>	1	<input type="checkbox"/>	1	<input type="checkbox"/>	1	<input type="checkbox"/>	1	<input type="checkbox"/>	1	<input type="checkbox"/>	1	<input type="checkbox"/>	1	<input type="checkbox"/>	1
<input type="checkbox"/>	2	<input type="checkbox"/>	2	<input type="checkbox"/>	2	<input type="checkbox"/>	2	<input type="checkbox"/>	2	<input type="checkbox"/>	2	<input type="checkbox"/>	2	<input type="checkbox"/>	2	<input type="checkbox"/>	2
<input type="checkbox"/>	3	<input type="checkbox"/>	3	<input type="checkbox"/>	3	<input type="checkbox"/>	3	<input type="checkbox"/>	3	<input type="checkbox"/>	3	<input type="checkbox"/>	3	<input type="checkbox"/>	3	<input type="checkbox"/>	3
<input type="checkbox"/>	4	<input type="checkbox"/>	4	<input type="checkbox"/>	4	<input type="checkbox"/>	4	<input type="checkbox"/>	4	<input type="checkbox"/>	4	<input type="checkbox"/>	4	<input type="checkbox"/>	4	<input type="checkbox"/>	4
<input type="checkbox"/>	5	<input type="checkbox"/>	5	<input type="checkbox"/>	5	<input type="checkbox"/>	5	<input type="checkbox"/>	5	<input type="checkbox"/>	5	<input type="checkbox"/>	5	<input type="checkbox"/>	5	<input type="checkbox"/>	5
<input type="checkbox"/>	6	<input type="checkbox"/>	6	<input type="checkbox"/>	6	<input type="checkbox"/>	6	<input type="checkbox"/>	6	<input type="checkbox"/>	6	<input type="checkbox"/>	6	<input type="checkbox"/>	6	<input type="checkbox"/>	6
<input type="checkbox"/>	7	<input type="checkbox"/>	7	<input type="checkbox"/>	7	<input type="checkbox"/>	7	<input type="checkbox"/>	7	<input type="checkbox"/>	7	<input type="checkbox"/>	7	<input type="checkbox"/>	7	<input type="checkbox"/>	7
<input type="checkbox"/>	8	<input type="checkbox"/>	8	<input type="checkbox"/>	8	<input type="checkbox"/>	8	<input type="checkbox"/>	8	<input type="checkbox"/>	8	<input type="checkbox"/>	8	<input type="checkbox"/>	8	<input type="checkbox"/>	8
<input type="checkbox"/>	9	<input type="checkbox"/>	9	<input type="checkbox"/>	9	<input type="checkbox"/>	9	<input type="checkbox"/>	9	<input type="checkbox"/>	9	<input type="checkbox"/>	9	<input type="checkbox"/>	9	<input type="checkbox"/>	9

QCM3L Suites de Fonctions Préing2

← codez votre numéro d'étudiant ci-contre, et inscrivez votre nom et prénom ci-dessous (le NOM d'abord!).

Nom et prénom :
.....
.....

Les cases doivent être complètement noircies avec un stylo NOIR.

Question 1 ♣

Soit $(f_n)_{n \geq 0}$ une suite de fonctions définies sur un intervalle $I \subset \mathbb{R}$ à valeur dans \mathbb{R} . Quelles les conditions nécessaires pour appliquer le théorème d'interversion limites-dérivations?

- $\exists x_0 \in I$, tel que la suite numérique $(f_n(x_0))_{n \geq 0}$ converge.
- La suite de fonctions (f_n) converge uniformément sur I vers une fonction f continue.
- Pour tout $n \in \mathbb{N}$, les fonctions f_n sont de classe C^1 sur I.
- $\forall x_0 \in I$, la suite $(f_n(x_0))_{n \geq 0}$ converge.
- La suite de fonctions (f'_n) converge uniformément sur I vers une fonction g .

Question 2 ♣

Choisir les suites de fonctions $(f_n)_{n \geq 0}$ qui convergent uniformément vers leur limite simple:

- | | |
|--|--|
| <input type="checkbox"/> $f_n(x) = nxe^{-nx}$ sur $[a; +\infty[$ avec $a \in]0; 1[$ | <input type="checkbox"/> $f_n(x) = nxe^{-nx}$ sur $[1; 2]$ |
| <input type="checkbox"/> $f_n(x) = nxe^{-nx}$ sur $[0; 1[$ | <input type="checkbox"/> $f_n(x) = \frac{e^{-x}}{n}$ sur $] -\infty, 0]$ |
| <input type="checkbox"/> $f_n(x) = \frac{e^{-x}}{n}$ sur $]0; +\infty[$ | <input type="checkbox"/> $f_n(x) = nxe^{-nx}$ sur $[0; +\infty[$ |

Question 3 ♣

Soit $(f_n)_{n \geq 0}$ une suite de fonctions définies par $f_n(x) = x^n \ln(x)$ pour $x \in]0, 1]$ et $f_n(0) = 0$. Alors

- $(f_n)_{n \geq 0}$ converge uniformément sur $[0, a]$ ($a \in]0, 1[$)
- $(f_n)_{n \geq 0}$ converge uniformément sur $[a, 1]$ ($a \in]0, 1[$)
- $(f_n)_{n \geq 0}$ converge uniformément sur $[0, 1]$

Question 4 ♣

On définit la suite de fonctions $f_n(x) = \frac{e^{-nx}}{1+x}$. Alors, la suite $(f_n)_{n \geq 0}$

- converge uniformément sur $[0, 1]$ et la fonction limite est continue
- converge uniformément sur $[1, +\infty[$ et la fonction limite est continue
- converge uniformément sur $[0, +\infty[$



<input type="checkbox"/>	0	<input type="checkbox"/>	0	<input type="checkbox"/>	0	<input type="checkbox"/>	0	<input type="checkbox"/>	0	<input type="checkbox"/>	0	<input type="checkbox"/>	0	<input type="checkbox"/>	0	<input type="checkbox"/>	0
<input type="checkbox"/>	1	<input type="checkbox"/>	1	<input type="checkbox"/>	1	<input type="checkbox"/>	1	<input type="checkbox"/>	1	<input type="checkbox"/>	1	<input type="checkbox"/>	1	<input type="checkbox"/>	1	<input type="checkbox"/>	1
<input type="checkbox"/>	2	<input type="checkbox"/>	2	<input type="checkbox"/>	2	<input type="checkbox"/>	2	<input type="checkbox"/>	2	<input type="checkbox"/>	2	<input type="checkbox"/>	2	<input type="checkbox"/>	2	<input type="checkbox"/>	2
<input type="checkbox"/>	3	<input type="checkbox"/>	3	<input type="checkbox"/>	3	<input type="checkbox"/>	3	<input type="checkbox"/>	3	<input type="checkbox"/>	3	<input type="checkbox"/>	3	<input type="checkbox"/>	3	<input type="checkbox"/>	3
<input type="checkbox"/>	4	<input type="checkbox"/>	4	<input type="checkbox"/>	4	<input type="checkbox"/>	4	<input type="checkbox"/>	4	<input type="checkbox"/>	4	<input type="checkbox"/>	4	<input type="checkbox"/>	4	<input type="checkbox"/>	4
<input type="checkbox"/>	5	<input type="checkbox"/>	5	<input type="checkbox"/>	5	<input type="checkbox"/>	5	<input type="checkbox"/>	5	<input type="checkbox"/>	5	<input type="checkbox"/>	5	<input type="checkbox"/>	5	<input type="checkbox"/>	5
<input type="checkbox"/>	6	<input type="checkbox"/>	6	<input type="checkbox"/>	6	<input type="checkbox"/>	6	<input type="checkbox"/>	6	<input type="checkbox"/>	6	<input type="checkbox"/>	6	<input type="checkbox"/>	6	<input type="checkbox"/>	6
<input type="checkbox"/>	7	<input type="checkbox"/>	7	<input type="checkbox"/>	7	<input type="checkbox"/>	7	<input type="checkbox"/>	7	<input type="checkbox"/>	7	<input type="checkbox"/>	7	<input type="checkbox"/>	7	<input type="checkbox"/>	7
<input type="checkbox"/>	8	<input type="checkbox"/>	8	<input type="checkbox"/>	8	<input type="checkbox"/>	8	<input type="checkbox"/>	8	<input type="checkbox"/>	8	<input type="checkbox"/>	8	<input type="checkbox"/>	8	<input type="checkbox"/>	8
<input type="checkbox"/>	9	<input type="checkbox"/>	9	<input type="checkbox"/>	9	<input type="checkbox"/>	9	<input type="checkbox"/>	9	<input type="checkbox"/>	9	<input type="checkbox"/>	9	<input type="checkbox"/>	9	<input type="checkbox"/>	9

QCM3L Suites de Fonctions Préing2

← codez votre numéro d'étudiant ci-contre, et inscrivez votre nom et prénom ci-dessous (le NOM d'abord!).

Nom et prénom :

.....

.....

Les cases doivent être complètement noircies avec un stylo NOIR.

Question 1 ♣

Choisir les suites de fonctions $(f_n)_{n \geq 0}$ qui convergent uniformément vers leur limite simple:

- | | |
|--|---|
| <input type="checkbox"/> $f_n(x) = nxe^{-nx}$ sur $[a; +\infty[$ avec $a \in]0; 1[$ | <input type="checkbox"/> $f_n(x) = \frac{e^{-x}}{n}$ sur $] - \infty, 0]$ |
| <input type="checkbox"/> $f_n(x) = nxe^{-nx}$ sur $[0; +\infty[$ | <input type="checkbox"/> $f_n(x) = nxe^{-nx}$ sur $[0; 1[$ |
| <input type="checkbox"/> $f_n(x) = \frac{e^{-x}}{n}$ sur $]0; +\infty[$ | <input type="checkbox"/> $f_n(x) = nxe^{-nx}$ sur $[1; 2]$ |

Question 2 ♣

Soit $(f_n)_{n \geq 0}$ une suite de fonctions définies par $f_n(x) = x^n \ln(x)$ pour $x \in]0, 1]$ et $f_n(0) = 0$. Alors

- $(f_n)_{n \geq 0}$ converge uniformément sur $[0, 1]$
- $(f_n)_{n \geq 0}$ converge uniformément sur $[a, 1]$ ($a \in]0, 1[$)
- $(f_n)_{n \geq 0}$ converge uniformément sur $[0, a]$ ($a \in]0, 1[$)

Question 3 ♣

Soit $(f_n)_{n \geq 0}$ une suite de fonctions définies sur un intervalle $I \subset \mathbb{R}$ à valeur dans \mathbb{R} . Quelles les conditions nécessaires pour appliquer le théorème d'interversion limites-dérivations?

- $\exists x_0 \in I$, tel que la suite numérique $(f_n(x_0))_{n \geq 0}$ converge.
- La suite de fonctions (f'_n) converge uniformément sur I vers une fonction g .
- La suite de fonctions (f_n) converge uniformément sur I vers une fonction f continue.
- $\forall x_0 \in I$, la suite $(f_n(x_0))_{n \geq 0}$ converge.
- Pour tout $n \in \mathbb{N}$, les fonctions f_n sont de classe C^1 sur I.

Question 4 ♣

On définit la suite de fonctions $f_n(x) = \frac{e^{-nx}}{1+x}$. Alors, la suite $(f_n)_{n \geq 0}$

- converge uniformément sur $[0, 1]$ et la fonction limite est continue
- converge uniformément sur $[0, +\infty[$
- converge uniformément sur $[1, +\infty[$ et la fonction limite est continue



<input type="checkbox"/>	0	<input type="checkbox"/>	0	<input type="checkbox"/>	0	<input type="checkbox"/>	0	<input type="checkbox"/>	0	<input type="checkbox"/>	0	<input type="checkbox"/>	0	<input type="checkbox"/>	0	<input type="checkbox"/>	0
<input type="checkbox"/>	1	<input type="checkbox"/>	1	<input type="checkbox"/>	1	<input type="checkbox"/>	1	<input type="checkbox"/>	1	<input type="checkbox"/>	1	<input type="checkbox"/>	1	<input type="checkbox"/>	1	<input type="checkbox"/>	1
<input type="checkbox"/>	2	<input type="checkbox"/>	2	<input type="checkbox"/>	2	<input type="checkbox"/>	2	<input type="checkbox"/>	2	<input type="checkbox"/>	2	<input type="checkbox"/>	2	<input type="checkbox"/>	2	<input type="checkbox"/>	2
<input type="checkbox"/>	3	<input type="checkbox"/>	3	<input type="checkbox"/>	3	<input type="checkbox"/>	3	<input type="checkbox"/>	3	<input type="checkbox"/>	3	<input type="checkbox"/>	3	<input type="checkbox"/>	3	<input type="checkbox"/>	3
<input type="checkbox"/>	4	<input type="checkbox"/>	4	<input type="checkbox"/>	4	<input type="checkbox"/>	4	<input type="checkbox"/>	4	<input type="checkbox"/>	4	<input type="checkbox"/>	4	<input type="checkbox"/>	4	<input type="checkbox"/>	4
<input type="checkbox"/>	5	<input type="checkbox"/>	5	<input type="checkbox"/>	5	<input type="checkbox"/>	5	<input type="checkbox"/>	5	<input type="checkbox"/>	5	<input type="checkbox"/>	5	<input type="checkbox"/>	5	<input type="checkbox"/>	5
<input type="checkbox"/>	6	<input type="checkbox"/>	6	<input type="checkbox"/>	6	<input type="checkbox"/>	6	<input type="checkbox"/>	6	<input type="checkbox"/>	6	<input type="checkbox"/>	6	<input type="checkbox"/>	6	<input type="checkbox"/>	6
<input type="checkbox"/>	7	<input type="checkbox"/>	7	<input type="checkbox"/>	7	<input type="checkbox"/>	7	<input type="checkbox"/>	7	<input type="checkbox"/>	7	<input type="checkbox"/>	7	<input type="checkbox"/>	7	<input type="checkbox"/>	7
<input type="checkbox"/>	8	<input type="checkbox"/>	8	<input type="checkbox"/>	8	<input type="checkbox"/>	8	<input type="checkbox"/>	8	<input type="checkbox"/>	8	<input type="checkbox"/>	8	<input type="checkbox"/>	8	<input type="checkbox"/>	8
<input type="checkbox"/>	9	<input type="checkbox"/>	9	<input type="checkbox"/>	9	<input type="checkbox"/>	9	<input type="checkbox"/>	9	<input type="checkbox"/>	9	<input type="checkbox"/>	9	<input type="checkbox"/>	9	<input type="checkbox"/>	9

QCM3L Suites de Fonctions Préing2

← codez votre numéro d'étudiant ci-contre, et inscrivez votre nom et prénom ci-dessous (le NOM d'abord!).

Nom et prénom :

.....

.....

Les cases doivent être complètement noircies avec un stylo NOIR.

Question 1 ♣

On définit la suite de fonctions $f_n(x) = \frac{e^{-nx}}{1+x}$. Alors, la suite $(f_n)_{n \geq 0}$

- converge uniformément sur $[0, +\infty[$
- converge uniformément sur $[1, +\infty[$ et la fonction limite est continue
- converge uniformément sur $[0, 1]$ et la fonction limite est continue

Question 2 ♣

Soit $(f_n)_{n \geq 0}$ une suite de fonctions définies sur un intervalle $I \subset \mathbb{R}$ à valeur dans \mathbb{R} . Quelles les conditions nécessaires pour appliquer le théorème d'interversion limites-dérivations?

- $\exists x_0 \in I$, tel que la suite numérique $(f_n(x_0))_{n \geq 0}$ converge.
- $\forall x_0 \in I$, la suite $(f_n(x_0))_{n \geq 0}$ converge.
- La suite de fonctions (f'_n) converge uniformément sur I vers une fonction g .
- Pour tout $n \in \mathbb{N}$, les fonctions f_n sont de classe C^1 sur I.
- La suite de fonctions (f_n) converge uniformément sur I vers une fonction f continue.

Question 3 ♣

Soit $(f_n)_{n \geq 0}$ une suite de fonctions définies par $f_n(x) = x^n \ln(x)$ pour $x \in]0, 1]$ et $f_n(0) = 0$. Alors

- $(f_n)_{n \geq 0}$ converge uniformément sur $[0, a]$ ($a \in]0, 1[$)
- $(f_n)_{n \geq 0}$ converge uniformément sur $[0, 1]$
- $(f_n)_{n \geq 0}$ converge uniformément sur $[a, 1]$ ($a \in]0, 1[$)

Question 4 ♣

Choisir les suites de fonctions $(f_n)_{n \geq 0}$ qui convergent uniformément vers leur limite simple:

- | | |
|--|--|
| <input type="checkbox"/> $f_n(x) = nxe^{-nx}$ sur $[0; +\infty[$ | <input type="checkbox"/> $f_n(x) = \frac{e^{-x}}{n}$ sur $]0; +\infty[$ |
| <input type="checkbox"/> $f_n(x) = nxe^{-nx}$ sur $[a; +\infty[$ avec $a \in]0; 1[$ | <input type="checkbox"/> $f_n(x) = \frac{e^{-x}}{n}$ sur $] -\infty, 0]$ |
| <input type="checkbox"/> $f_n(x) = nxe^{-nx}$ sur $[0; 1[$ | <input type="checkbox"/> $f_n(x) = nxe^{-nx}$ sur $[1; 2]$ |



<input type="checkbox"/>	0	<input type="checkbox"/>	0	<input type="checkbox"/>	0	<input type="checkbox"/>	0	<input type="checkbox"/>	0	<input type="checkbox"/>	0	<input type="checkbox"/>	0	<input type="checkbox"/>	0	<input type="checkbox"/>	0
<input type="checkbox"/>	1	<input type="checkbox"/>	1	<input type="checkbox"/>	1	<input type="checkbox"/>	1	<input type="checkbox"/>	1	<input type="checkbox"/>	1	<input type="checkbox"/>	1	<input type="checkbox"/>	1	<input type="checkbox"/>	1
<input type="checkbox"/>	2	<input type="checkbox"/>	2	<input type="checkbox"/>	2	<input type="checkbox"/>	2	<input type="checkbox"/>	2	<input type="checkbox"/>	2	<input type="checkbox"/>	2	<input type="checkbox"/>	2	<input type="checkbox"/>	2
<input type="checkbox"/>	3	<input type="checkbox"/>	3	<input type="checkbox"/>	3	<input type="checkbox"/>	3	<input type="checkbox"/>	3	<input type="checkbox"/>	3	<input type="checkbox"/>	3	<input type="checkbox"/>	3	<input type="checkbox"/>	3
<input type="checkbox"/>	4	<input type="checkbox"/>	4	<input type="checkbox"/>	4	<input type="checkbox"/>	4	<input type="checkbox"/>	4	<input type="checkbox"/>	4	<input type="checkbox"/>	4	<input type="checkbox"/>	4	<input type="checkbox"/>	4
<input type="checkbox"/>	5	<input type="checkbox"/>	5	<input type="checkbox"/>	5	<input type="checkbox"/>	5	<input type="checkbox"/>	5	<input type="checkbox"/>	5	<input type="checkbox"/>	5	<input type="checkbox"/>	5	<input type="checkbox"/>	5
<input type="checkbox"/>	6	<input type="checkbox"/>	6	<input type="checkbox"/>	6	<input type="checkbox"/>	6	<input type="checkbox"/>	6	<input type="checkbox"/>	6	<input type="checkbox"/>	6	<input type="checkbox"/>	6	<input type="checkbox"/>	6
<input type="checkbox"/>	7	<input type="checkbox"/>	7	<input type="checkbox"/>	7	<input type="checkbox"/>	7	<input type="checkbox"/>	7	<input type="checkbox"/>	7	<input type="checkbox"/>	7	<input type="checkbox"/>	7	<input type="checkbox"/>	7
<input type="checkbox"/>	8	<input type="checkbox"/>	8	<input type="checkbox"/>	8	<input type="checkbox"/>	8	<input type="checkbox"/>	8	<input type="checkbox"/>	8	<input type="checkbox"/>	8	<input type="checkbox"/>	8	<input type="checkbox"/>	8
<input type="checkbox"/>	9	<input type="checkbox"/>	9	<input type="checkbox"/>	9	<input type="checkbox"/>	9	<input type="checkbox"/>	9	<input type="checkbox"/>	9	<input type="checkbox"/>	9	<input type="checkbox"/>	9	<input type="checkbox"/>	9

QCM3L Suites de Fonctions Préing2

← codez votre numéro d'étudiant ci-contre, et inscrivez votre nom et prénom ci-dessous (le NOM d'abord!).

Nom et prénom :
.....
.....

Les cases doivent être complètement noircies avec un stylo NOIR.

Question 1 ♣

Choisir les suites de fonctions $(f_n)_{n \geq 0}$ qui convergent uniformément vers leur limite simple:

- | | |
|--|---|
| <input type="checkbox"/> $f_n(x) = \frac{e^{-x}}{n}$ sur $] -\infty, 0]$ | <input type="checkbox"/> $f_n(x) = \frac{e^{-x}}{n}$ sur $]0; +\infty[$ |
| <input type="checkbox"/> $f_n(x) = nxe^{-nx}$ sur $[a; +\infty[$ avec $a \in]0; 1[$ | <input type="checkbox"/> $f_n(x) = nxe^{-nx}$ sur $[0; 1[$ |
| <input type="checkbox"/> $f_n(x) = nxe^{-nx}$ sur $[0; +\infty[$ | <input type="checkbox"/> $f_n(x) = nxe^{-nx}$ sur $[1; 2]$ |

Question 2 ♣

Soit $(f_n)_{n \geq 0}$ une suite de fonctions définies sur un intervalle $I \subset \mathbb{R}$ à valeur dans \mathbb{R} . Quelles les conditions nécessaires pour appliquer le théorème d'interversion limites-dérivations?

- La suite de fonctions (f_n) converge uniformément sur I vers une fonction f continue.
- Pour tout $n \in \mathbb{N}$, les fonctions f_n sont de classe C^1 sur I.
- La suite de fonctions (f'_n) converge uniformément sur I vers une fonction g .
- $\exists x_0 \in I$, tel que la suite numérique $(f_n(x_0))_{n \geq 0}$ converge.
- $\forall x_0 \in I$, la suite $(f_n(x_0))_{n \geq 0}$ converge.

Question 3 ♣

On définit la suite de fonctions $f_n(x) = \frac{e^{-nx}}{1+x}$. Alors, la suite $(f_n)_{n \geq 0}$

- converge uniformément sur $[1, +\infty[$ et la fonction limite est continue
- converge uniformément sur $[0, +\infty[$
- converge uniformément sur $[0, 1]$ et la fonction limite est continue

Question 4 ♣

Soit $(f_n)_{n \geq 0}$ une suite de fonctions définies par $f_n(x) = x^n \ln(x)$ pour $x \in]0, 1]$ et $f_n(0) = 0$. Alors

- $(f_n)_{n \geq 0}$ converge uniformément sur $[0, a]$ ($a \in]0, 1[$)
- $(f_n)_{n \geq 0}$ converge uniformément sur $[0, 1]$
- $(f_n)_{n \geq 0}$ converge uniformément sur $[a, 1]$ ($a \in]0, 1[$)



<input type="checkbox"/>	0	<input type="checkbox"/>	0	<input type="checkbox"/>	0	<input type="checkbox"/>	0	<input type="checkbox"/>	0	<input type="checkbox"/>	0	<input type="checkbox"/>	0	<input type="checkbox"/>	0	<input type="checkbox"/>	0
<input type="checkbox"/>	1	<input type="checkbox"/>	1	<input type="checkbox"/>	1	<input type="checkbox"/>	1	<input type="checkbox"/>	1	<input type="checkbox"/>	1	<input type="checkbox"/>	1	<input type="checkbox"/>	1	<input type="checkbox"/>	1
<input type="checkbox"/>	2	<input type="checkbox"/>	2	<input type="checkbox"/>	2	<input type="checkbox"/>	2	<input type="checkbox"/>	2	<input type="checkbox"/>	2	<input type="checkbox"/>	2	<input type="checkbox"/>	2	<input type="checkbox"/>	2
<input type="checkbox"/>	3	<input type="checkbox"/>	3	<input type="checkbox"/>	3	<input type="checkbox"/>	3	<input type="checkbox"/>	3	<input type="checkbox"/>	3	<input type="checkbox"/>	3	<input type="checkbox"/>	3	<input type="checkbox"/>	3
<input type="checkbox"/>	4	<input type="checkbox"/>	4	<input type="checkbox"/>	4	<input type="checkbox"/>	4	<input type="checkbox"/>	4	<input type="checkbox"/>	4	<input type="checkbox"/>	4	<input type="checkbox"/>	4	<input type="checkbox"/>	4
<input type="checkbox"/>	5	<input type="checkbox"/>	5	<input type="checkbox"/>	5	<input type="checkbox"/>	5	<input type="checkbox"/>	5	<input type="checkbox"/>	5	<input type="checkbox"/>	5	<input type="checkbox"/>	5	<input type="checkbox"/>	5
<input type="checkbox"/>	6	<input type="checkbox"/>	6	<input type="checkbox"/>	6	<input type="checkbox"/>	6	<input type="checkbox"/>	6	<input type="checkbox"/>	6	<input type="checkbox"/>	6	<input type="checkbox"/>	6	<input type="checkbox"/>	6
<input type="checkbox"/>	7	<input type="checkbox"/>	7	<input type="checkbox"/>	7	<input type="checkbox"/>	7	<input type="checkbox"/>	7	<input type="checkbox"/>	7	<input type="checkbox"/>	7	<input type="checkbox"/>	7	<input type="checkbox"/>	7
<input type="checkbox"/>	8	<input type="checkbox"/>	8	<input type="checkbox"/>	8	<input type="checkbox"/>	8	<input type="checkbox"/>	8	<input type="checkbox"/>	8	<input type="checkbox"/>	8	<input type="checkbox"/>	8	<input type="checkbox"/>	8
<input type="checkbox"/>	9	<input type="checkbox"/>	9	<input type="checkbox"/>	9	<input type="checkbox"/>	9	<input type="checkbox"/>	9	<input type="checkbox"/>	9	<input type="checkbox"/>	9	<input type="checkbox"/>	9	<input type="checkbox"/>	9

QCM3L Suites de Fonctions Préing2

← codez votre numéro d'étudiant ci-contre, et inscrivez votre nom et prénom ci-dessous (le NOM d'abord!).

Nom et prénom :

.....

.....

Les cases doivent être complètement noircies avec un stylo NOIR.

Question 1 ♣

Choisir les suites de fonctions $(f_n)_{n \geq 0}$ qui convergent uniformément vers leur limite simple:

- | | |
|--|--|
| <input type="checkbox"/> $f_n(x) = \frac{e^{-x}}{n}$ sur $] -\infty, 0]$ | <input type="checkbox"/> $f_n(x) = nxe^{-nx}$ sur $[1; 2]$ |
| <input type="checkbox"/> $f_n(x) = \frac{e^{-x}}{n}$ sur $]0; +\infty[$ | <input type="checkbox"/> $f_n(x) = nxe^{-nx}$ sur $[0; 1[$ |
| <input type="checkbox"/> $f_n(x) = nxe^{-nx}$ sur $[0; +\infty[$ | <input type="checkbox"/> $f_n(x) = nxe^{-nx}$ sur $[a; +\infty[$ avec $a \in]0; 1[$ |

Question 2 ♣

Soit $(f_n)_{n \geq 0}$ une suite de fonctions définies sur un intervalle $I \subset \mathbb{R}$ à valeur dans \mathbb{R} . Quelles les conditions nécessaires pour appliquer le théorème d'interversion limites-dérivations?

- Pour tout $n \in \mathbb{N}$, les fonctions f_n sont de classe C^1 sur I .
- $\exists x_0 \in I$, tel que la suite numérique $(f_n(x_0))_{n \geq 0}$ converge.
- La suite de fonctions (f'_n) converge uniformément sur I vers une fonction g .
- La suite de fonctions (f_n) converge uniformément sur I vers une fonction f continue.
- $\forall x_0 \in I$, la suite $(f_n(x_0))_{n \geq 0}$ converge.

Question 3 ♣

Soit $(f_n)_{n \geq 0}$ une suite de fonctions définies par $f_n(x) = x^n \ln(x)$ pour $x \in]0, 1]$ et $f_n(0) = 0$. Alors

- $(f_n)_{n \geq 0}$ converge uniformément sur $[0, 1]$
- $(f_n)_{n \geq 0}$ converge uniformément sur $[a, 1]$ ($a \in]0, 1[$)
- $(f_n)_{n \geq 0}$ converge uniformément sur $[0, a]$ ($a \in]0, 1[$)

Question 4 ♣

On définit la suite de fonctions $f_n(x) = \frac{e^{-nx}}{1+x}$. Alors, la suite $(f_n)_{n \geq 0}$

- converge uniformément sur $[1, +\infty[$ et la fonction limite est continue
- converge uniformément sur $[0, +\infty[$
- converge uniformément sur $[0, 1]$ et la fonction limite est continue



<input type="checkbox"/>	0	<input type="checkbox"/>	0	<input type="checkbox"/>	0	<input type="checkbox"/>	0	<input type="checkbox"/>	0	<input type="checkbox"/>	0	<input type="checkbox"/>	0	<input type="checkbox"/>	0	<input type="checkbox"/>	0
<input type="checkbox"/>	1	<input type="checkbox"/>	1	<input type="checkbox"/>	1	<input type="checkbox"/>	1	<input type="checkbox"/>	1	<input type="checkbox"/>	1	<input type="checkbox"/>	1	<input type="checkbox"/>	1	<input type="checkbox"/>	1
<input type="checkbox"/>	2	<input type="checkbox"/>	2	<input type="checkbox"/>	2	<input type="checkbox"/>	2	<input type="checkbox"/>	2	<input type="checkbox"/>	2	<input type="checkbox"/>	2	<input type="checkbox"/>	2	<input type="checkbox"/>	2
<input type="checkbox"/>	3	<input type="checkbox"/>	3	<input type="checkbox"/>	3	<input type="checkbox"/>	3	<input type="checkbox"/>	3	<input type="checkbox"/>	3	<input type="checkbox"/>	3	<input type="checkbox"/>	3	<input type="checkbox"/>	3
<input type="checkbox"/>	4	<input type="checkbox"/>	4	<input type="checkbox"/>	4	<input type="checkbox"/>	4	<input type="checkbox"/>	4	<input type="checkbox"/>	4	<input type="checkbox"/>	4	<input type="checkbox"/>	4	<input type="checkbox"/>	4
<input type="checkbox"/>	5	<input type="checkbox"/>	5	<input type="checkbox"/>	5	<input type="checkbox"/>	5	<input type="checkbox"/>	5	<input type="checkbox"/>	5	<input type="checkbox"/>	5	<input type="checkbox"/>	5	<input type="checkbox"/>	5
<input type="checkbox"/>	6	<input type="checkbox"/>	6	<input type="checkbox"/>	6	<input type="checkbox"/>	6	<input type="checkbox"/>	6	<input type="checkbox"/>	6	<input type="checkbox"/>	6	<input type="checkbox"/>	6	<input type="checkbox"/>	6
<input type="checkbox"/>	7	<input type="checkbox"/>	7	<input type="checkbox"/>	7	<input type="checkbox"/>	7	<input type="checkbox"/>	7	<input type="checkbox"/>	7	<input type="checkbox"/>	7	<input type="checkbox"/>	7	<input type="checkbox"/>	7
<input type="checkbox"/>	8	<input type="checkbox"/>	8	<input type="checkbox"/>	8	<input type="checkbox"/>	8	<input type="checkbox"/>	8	<input type="checkbox"/>	8	<input type="checkbox"/>	8	<input type="checkbox"/>	8	<input type="checkbox"/>	8
<input type="checkbox"/>	9	<input type="checkbox"/>	9	<input type="checkbox"/>	9	<input type="checkbox"/>	9	<input type="checkbox"/>	9	<input type="checkbox"/>	9	<input type="checkbox"/>	9	<input type="checkbox"/>	9	<input type="checkbox"/>	9

QCM3L Suites de Fonctions Préing2

← codez votre numéro d'étudiant ci-contre, et inscrivez votre nom et prénom ci-dessous (le NOM d'abord!).

Nom et prénom :

.....

.....

Les cases doivent être complètement noircies avec un stylo NOIR.

Question 1 ♣

Soit $(f_n)_{n \geq 0}$ une suite de fonctions définies sur un intervalle $I \subset \mathbb{R}$ à valeur dans \mathbb{R} . Quelles les conditions nécessaires pour appliquer le théorème d'inversion limites-dérivations?

- Pour tout $n \in \mathbb{N}$, les fonctions f_n sont de classe C^1 sur I .
- $\exists x_0 \in I$, tel que la suite numérique $(f_n(x_0))_{n \geq 0}$ converge.
- La suite de fonctions (f_n) converge uniformément sur I vers une fonction f continue.
- La suite de fonctions (f'_n) converge uniformément sur I vers une fonction g .
- $\forall x_0 \in I$, la suite $(f_n(x_0))_{n \geq 0}$ converge.

Question 2 ♣

Soit $(f_n)_{n \geq 0}$ une suite de fonctions définies par $f_n(x) = x^n \ln(x)$ pour $x \in]0, 1]$ et $f_n(0) = 0$. Alors

- $(f_n)_{n \geq 0}$ converge uniformément sur $[0, a]$ ($a \in]0, 1[$)
- $(f_n)_{n \geq 0}$ converge uniformément sur $[a, 1]$ ($a \in]0, 1[$)
- $(f_n)_{n \geq 0}$ converge uniformément sur $[0, 1]$

Question 3 ♣

On définit la suite de fonctions $f_n(x) = \frac{e^{-nx}}{1+x}$. Alors, la suite $(f_n)_{n \geq 0}$

- converge uniformément sur $[1, +\infty[$ et la fonction limite est continue
- converge uniformément sur $[0, 1]$ et la fonction limite est continue
- converge uniformément sur $[0, +\infty[$

Question 4 ♣

Choisir les suites de fonctions $(f_n)_{n \geq 0}$ qui convergent uniformément vers leur limite simple:

- | | |
|---|--|
| <input type="checkbox"/> $f_n(x) = nxe^{-nx}$ sur $[0; 1[$ | <input type="checkbox"/> $f_n(x) = nxe^{-nx}$ sur $[1; 2]$ |
| <input type="checkbox"/> $f_n(x) = nxe^{-nx}$ sur $[0; +\infty[$ | <input type="checkbox"/> $f_n(x) = \frac{e^{-x}}{n}$ sur $]0; +\infty[$ |
| <input type="checkbox"/> $f_n(x) = \frac{e^{-x}}{n}$ sur $] - \infty, 0]$ | <input type="checkbox"/> $f_n(x) = nxe^{-nx}$ sur $[a; +\infty[$ avec $a \in]0; 1[$ |



<input type="checkbox"/>	0	<input type="checkbox"/>	0	<input type="checkbox"/>	0	<input type="checkbox"/>	0	<input type="checkbox"/>	0	<input type="checkbox"/>	0	<input type="checkbox"/>	0	<input type="checkbox"/>	0	<input type="checkbox"/>	0
<input type="checkbox"/>	1	<input type="checkbox"/>	1	<input type="checkbox"/>	1	<input type="checkbox"/>	1	<input type="checkbox"/>	1	<input type="checkbox"/>	1	<input type="checkbox"/>	1	<input type="checkbox"/>	1	<input type="checkbox"/>	1
<input type="checkbox"/>	2	<input type="checkbox"/>	2	<input type="checkbox"/>	2	<input type="checkbox"/>	2	<input type="checkbox"/>	2	<input type="checkbox"/>	2	<input type="checkbox"/>	2	<input type="checkbox"/>	2	<input type="checkbox"/>	2
<input type="checkbox"/>	3	<input type="checkbox"/>	3	<input type="checkbox"/>	3	<input type="checkbox"/>	3	<input type="checkbox"/>	3	<input type="checkbox"/>	3	<input type="checkbox"/>	3	<input type="checkbox"/>	3	<input type="checkbox"/>	3
<input type="checkbox"/>	4	<input type="checkbox"/>	4	<input type="checkbox"/>	4	<input type="checkbox"/>	4	<input type="checkbox"/>	4	<input type="checkbox"/>	4	<input type="checkbox"/>	4	<input type="checkbox"/>	4	<input type="checkbox"/>	4
<input type="checkbox"/>	5	<input type="checkbox"/>	5	<input type="checkbox"/>	5	<input type="checkbox"/>	5	<input type="checkbox"/>	5	<input type="checkbox"/>	5	<input type="checkbox"/>	5	<input type="checkbox"/>	5	<input type="checkbox"/>	5
<input type="checkbox"/>	6	<input type="checkbox"/>	6	<input type="checkbox"/>	6	<input type="checkbox"/>	6	<input type="checkbox"/>	6	<input type="checkbox"/>	6	<input type="checkbox"/>	6	<input type="checkbox"/>	6	<input type="checkbox"/>	6
<input type="checkbox"/>	7	<input type="checkbox"/>	7	<input type="checkbox"/>	7	<input type="checkbox"/>	7	<input type="checkbox"/>	7	<input type="checkbox"/>	7	<input type="checkbox"/>	7	<input type="checkbox"/>	7	<input type="checkbox"/>	7
<input type="checkbox"/>	8	<input type="checkbox"/>	8	<input type="checkbox"/>	8	<input type="checkbox"/>	8	<input type="checkbox"/>	8	<input type="checkbox"/>	8	<input type="checkbox"/>	8	<input type="checkbox"/>	8	<input type="checkbox"/>	8
<input type="checkbox"/>	9	<input type="checkbox"/>	9	<input type="checkbox"/>	9	<input type="checkbox"/>	9	<input type="checkbox"/>	9	<input type="checkbox"/>	9	<input type="checkbox"/>	9	<input type="checkbox"/>	9	<input type="checkbox"/>	9

QCM3L Suites de Fonctions Préing2

← codez votre numéro d'étudiant ci-contre, et inscrivez votre nom et prénom ci-dessous (le NOM d'abord!).

Nom et prénom :

.....

.....

Les cases doivent être complètement noircies avec un stylo NOIR.

Question 1 ♣

Choisir les suites de fonctions $(f_n)_{n \geq 0}$ qui convergent uniformément vers leur limite simple:

- | | |
|--|--|
| <input type="checkbox"/> $f_n(x) = \frac{e^{-x}}{n}$ sur $] -\infty, 0[$ | <input type="checkbox"/> $f_n(x) = nxe^{-nx}$ sur $[a; +\infty[$ avec $a \in]0; 1[$ |
| <input type="checkbox"/> $f_n(x) = nxe^{-nx}$ sur $[0; 1[$ | <input type="checkbox"/> $f_n(x) = nxe^{-nx}$ sur $[0; +\infty[$ |
| <input type="checkbox"/> $f_n(x) = nxe^{-nx}$ sur $[1; 2]$ | <input type="checkbox"/> $f_n(x) = \frac{e^{-x}}{n}$ sur $]0; +\infty[$ |

Question 2 ♣

On définit la suite de fonctions $f_n(x) = \frac{e^{-nx}}{1+x}$. Alors, la suite $(f_n)_{n \geq 0}$

- converge uniformément sur $[1, +\infty[$ et la fonction limite est continue
- converge uniformément sur $[0, 1]$ et la fonction limite est continue
- converge uniformément sur $[0, +\infty[$

Question 3 ♣

Soit $(f_n)_{n \geq 0}$ une suite de fonctions définies sur un intervalle $I \subset \mathbb{R}$ à valeur dans \mathbb{R} . Quelles les conditions nécessaires pour appliquer le théorème d'interversion limites-dérivations?

- La suite de fonctions (f_n) converge uniformément sur I vers une fonction f continue.
- Pour tout $n \in \mathbb{N}$, les fonctions f_n sont de classe C^1 sur I.
- La suite de fonctions (f'_n) converge uniformément sur I vers une fonction g .
- $\forall x_0 \in I$, la suite $(f_n(x_0))_{n \geq 0}$ converge.
- $\exists x_0 \in I$, tel que la suite numérique $(f_n(x_0))_{n \geq 0}$ converge.

Question 4 ♣

Soit $(f_n)_{n \geq 0}$ une suite de fonctions définies par $f_n(x) = x^n \ln(x)$ pour $x \in]0, 1]$ et $f_n(0) = 0$. Alors

- $(f_n)_{n \geq 0}$ converge uniformément sur $[0, a]$ ($a \in]0, 1[$)
- $(f_n)_{n \geq 0}$ converge uniformément sur $[0, 1]$
- $(f_n)_{n \geq 0}$ converge uniformément sur $[a, 1]$ ($a \in]0, 1[$)